



الأسئلة

أولاً : الجغرافيا

س ١ : أكمل العبارات الآتية

- ١ - قسم العلماء سطح الأرض إلى حتى يسهل عليهم دراسة المناخ .
- ٢ - تقل الحرارة درجة مئوية كلما أرتفعنا متر عن مستوى سطح البحر .
- ٣ - تحدث نتيجة اختلاف الحرارة على اليابس و الماء أثناء الليل والنهار.
- ٤ - يحدث المطر نتيجة اصطدام الرياح المحملة ببخار الماء بالمرتفعات.
- ٥ - هو وصف حالة الجو خلال فترة زمنية قصيرة .
- ٦ - هو وصف حالة الجو خلال فترة زمنية طويلة .
- ٧ - عناصر المناخ هى و و
- ٨ - يتميز الأقليم الإستوائى بأن أمطاره طول العام .
- ٩ - يمتاز إقليم البحر المتوسط بأنه صيفا و شتاء .
- ١٠ - الرياح تنقسم إلى و و و
- ١١ - معرفة حالة الجو فى فترة زمنية قصيرة قد تكون يوم إلى أسبوع
- ١٢ - معرفة حالة الجو فى فترة زمنية طويلة شهرا أو فصلا أو سنه
- ١٣ - من أنواع الرياح الدائمة و و
- ١٤ - تعتبر هى أهم عناصر المناخ .
- ١٥ - ترتفع درجة الحرارة عند دائرة الأستواء لأن أشعة الشمس تكون
- ١٦ - تمتد المنطقة الحارة بين مدار و مدار
- ١٧ - تهب الرياح التجارية من دائرة عرض ش ، ج وتتجه صوب خط



الدراسات الإجتماعية

الصف الأول الإعدادى

- ١٨ - يسقط المطر التصاعدى على المنطقة
- ١٩ - تتميز الصحراء الكبرى بأنها المطر .
- ٢٠ - الفرق بين درجة حرارة الليل و النهار يسمى وبين درجة حرارة الصيف والشتاء يسمى
- ٢١ - يسود الاقليم فى معظم أنحاء مصر .
- ٢٢ - تهب الرياح القطبية من منطقة الضغط المرتفع عند متجهة إلى منطقة الضغط عند الدائرتين القطبيتين الشمالية والجنوبية .
- ٢٣ - الغابات تخلص الأرض من الملوثات من خلال إمتصاصها
- ٢٤ - نتج عن إزالة الانسان للغابات حدوث خلل فى
- ٢٥ - غابات البحر المتوسط أشجارها الخضرة ، تتحمل
- ٢٦ - الغابات الصنوبرية غابات دائمة
- ٢٧ - من أنواع الطيور والحيوانات فى الغابات النفضية ، ، ،
- ٢٨ - الحشائش طويلة تختلف فى طولها وكثافتها حسب كمية المطر
- ٢٩ - الحشائش المعتدلة تصلح كمراعى طبيعية لـ و
- ٣٠ - النباتات تتحمل ظروف الجفاف وشدة المناخ .
- ٣١ - تعيش الفيلة فى بينما يعيش الجمل فى
- ٣٢ - الزلازل و البراكين أخطار من
- ٣٣ - تقاس شدة الزلازل بمقاييس متعددة أشهرها مقياس
- ٣٤ - تؤدى الزلازل إلى حدوث موجات بحرية عالية تعرف باسم
- ٣٥ - عندما تضرب موجات تسونامى تكون قادرة علي تجريف
- ٣٦ - من سلوكيات التعامل عند حدوث الزلازل و و و
- و
- ٣٧ - يؤدى حدوث البراكين إلى تكوين جبال عند فوهة البركان



الدراسات الإجتماعية

الصف الأول الإعدادى

- ٣٨ - يعد من أخطر المشكلات التى تواجه العالم
- ٣٩ - هو نظام مفتوح تتفاعل فيه عناصر البيئة المختلفة من طاقة شمسية والمياه والنبات و الحيوان والإنسان لتخرج منه فى صورة أخرى.
- ٤٠ - معرفة حالة الجو فى فترة زمنية قصيرة قد تكون من يوم إلى أسبوع
- ٤١ - معرفة حالة الجو فى فترة زمنية طويلة قد تكون شهرا أو فصلا أو سنه
- ٤٢ - الأعاصير عواصف هوائية عنيفة تنشأ عادة فوق البحار
- ٤٣ - يمكن التخفيف من آثار السيول عن طريق عمل سدود فى و
- ٤٤ - تؤدى الإنهيارات الجليدية إلى و
- ٤٥ - تعتبر الغابات جزءاً لا يتجزأ من وتساهم فى استقراره .
- ٤٦ - للفيضانات فوائد عديدة منها تغذية ،
- ٤٧ - لتقليل الاحتباس الحرارى لابد من و و
- ٤٨ - الاحتباس الحرارى يؤدى إلى : ١- ٢- ٣-

س٢ :- بم تفسر:

- ١ - تعتبر الحرارة أهم عناصر المناخ .
- ٢ - تتميز الأماكن القريبة من دائرة الأستواء بأرتفاع درجة حرارتها .
- ٣ - يغطى الجليد قمم الجبال العالية بالرغم من وقوعها فى المنطقة الحارة .
- ٤ - تلطف الرياح التجارية من درجة حرارة المناطق التى تهب عليها .
- ٥ - الرياح الموسمية الصيفية رياح ممطرة .
- ٦ - تقسيم العلماء الأرض إلى أقاليم مناخية .
- ٧ - سقوط الامطار صيفاً على الاقليم المسمى .
- ٨ - يتميز الاقليم الصحراوى بأنه حار صيفاً وشديد البرودة شتاءً .
- ٩ - ارتفاع الحرارة طوال العام بالاقليم الاستوائى .
- ١٠ - تنوع النبات الطبيعى على سطح الأرض .

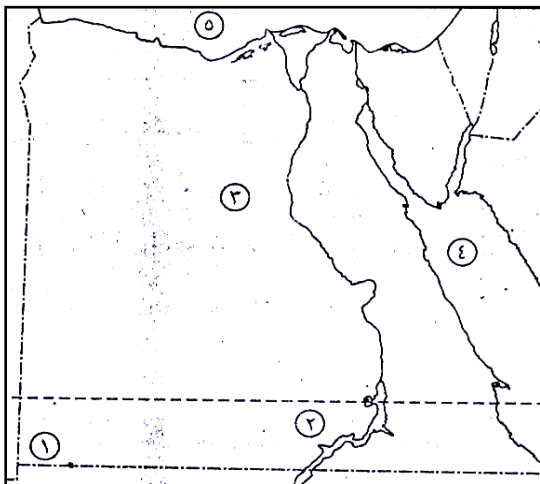


الدراسات الإجتماعية

الصف الأول الإعدادى

- ١١- أهمية الغابات لتقليل التلوث .
- ١٢- سقوط الأمطار طوال العام على الاقليم المعتدل البحرى .
- ١٣- انخفاض درجة الحرارة فى الاقليم اللورانسى شتاءً .
- ١٤- تعتبر السافانا حديقة حيوان طبيعية .
- ١٥- أسباب حدوث البراكين .
- ١٦- للبراكين فوائد عديدة .
- ١٧- يوجد الجليد فوق قمم الجبال العالية فى المناطق الحارة .
- ١٨- حدوث الانهيارات الجليدية .
- ١٩- حدوث السيول .
- ٢٠- حدوث الأعاصير .
- ٢١- أهمية الغابات .
- ٢٢- انتشار ظاهرة التصحر .

الخرائط



اكتب ما تدل عليه الأرقام

- ١-
- ٢-
- ٣-
- ٤-
- ٥-

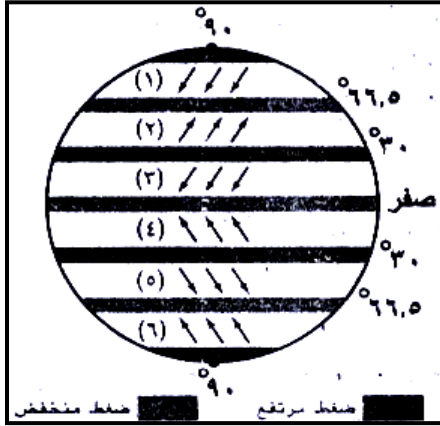


الدراسات الإجتماعية

الصف الأول الإعدادي

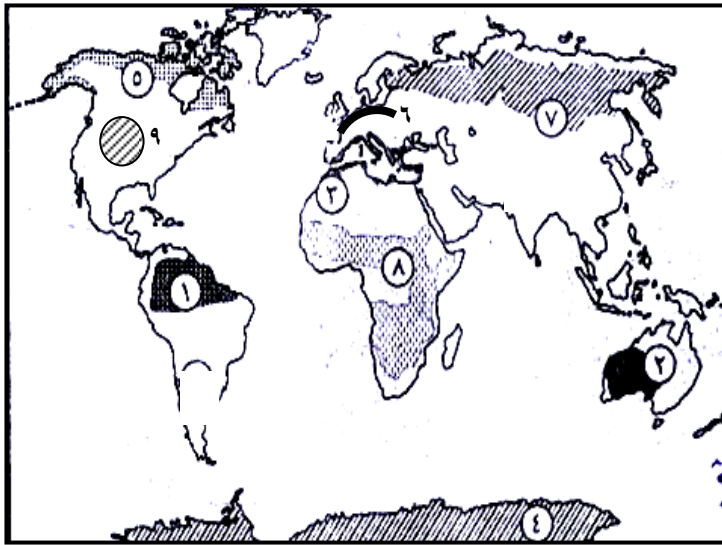
(٢) أمامك شكل تخطيطي للكرة الأرضية موضح عليه

توزيع الرياح الدائمة ، اكتب ما تدل عليه الأرقام التى عليه :



- (١) رياح
- (٢) رياح
- (٣) رياح
- (٤) رياح
- (٥) رياح
- (٦) رياح

(٣) أمامك خريطة صماء للعالم ، اكتب ما تدل عليه الأرقام الآتية :



- (١) إقليم مناخى
- (٢) إقليم مناخى
- (٣) إقليم مناخى
- (٤) إقليم مناخى
- (٥) إقليم نباتى
- (٦) غابات
- (٧) غابات
- (٨) حشائش
- (٩) حشائش



ثانياً : التاريخ

السؤال الأول : أكمل العبارات الآتية :

- ١ – من أدوات الزينة عند المصريين القدماء و و
- ٢ – تنقسم الأعياد إلى و و و و
- ٣ – تميز القصر الفرعونى بـ
- ٤ – انقسم المجتمع المصرى القديم إلى طبقات
- ٥ – طبقات المجتمع هى
- ٦ – حياة إجتماعية
- ٧ – بنى المصري القديم مسكنه من
- ٨ – من الأعياد المهمة عند الفراعنة ، ، ،
- و
- ٩ – صنع المصرى القديم ملابسه من و استورد الحرير من
- ١٠ – عرف المصرى القديم الأغانى و و
- ١١ – الكتابة التى استخدمت فى تسجيل النصوص الدينية فى مصر هى
- ١٢ – قصة سنوحى من الأدب
- ١٣ – من أشهر حكماء مصر القديمة الحكيم
- ١٤ – الخط الرسمى للدولة فى مصر القديمة هو الخط
- ١٥ – استخدم المصرى القديم فى الكتابة ورق
- ١٦ – من أنواع الأدب الدينى و و
- ١٧ – يتناول الأدب الدينى و و
- ١٨ – يتضمن الأدب القصصى بعض القصص و



- ١٩- من أشهر المعابد الجنائزية و
- ٢٠- مقبرة الملكة من أجمل المقابر التى توضح التصوير على الجدران .
- ٢١ - عرف المصريين القدماء التقويم بدلا من
- ٢٢ - قسم المصريين القدماء العام إلى فصول زراعية
- ٢٣ - برع المصريون القدماء في فن للمحافظة على جثث الموتى .
- ٢٤ - آخر مرحلة من مراحل بناء المقابر الملكية بناء كامل
- ٢٥ - أيام هى آخر خمسة أيام فى السنة اعتبرها المصري القديم ويبدأ بعدها عام جديد .
- ٢٦ - استخدم المصريين القدماء علم الكيمياء فى و و

السؤال الثانى : بم تفسر

- (١) تسمية المجتمع المصرى القديم بالمجتمع الطبقي الهرمى الشكل .
- (٢) تسمية الكتابة الهيروغليفية بالخط المقدس .
- (٣) اهتمام المصريين القدماء بالأدب التهذيبي .
- (٤) اهتمام قدماء المصريين بعلم التحنيط .
- (٥) احتلت المرأة فى مصر القديمة مكانة هامة فى الأسرة .
- (٦) اختلاف الملابس فى مصر الفرعونية .
- (٧) حرص الأباء على تعليم أبنائهم فى مصر القديمة .
- (٨) إبداع المصرى القديم فى مجال الأدب .
- (٩) وضع الكتابات الدينية مع الميت .
- (١٠) إهتمام المصرى القديم بعلم الحساب .
- (١١) براعة الفراعنة فى التحنيط والفنون والعمارة .
- (١٢) تقدم المصريين فى علم الطب .



السؤال الثالث :- أكمل العبارات الآتية :

- ١ - وقعت مصر تحت سيطرة ، ، قبل مجئ الاسكندر الأكبر.
- ٢ - ولد الإسكندر الأكبر فى إقليم بشمال بلاد اليونان .
- ٣ - تولى الأسكندر الحكم وهو فى سن من عمره .
- ٤ - ظلت مصر تحت حكم الفرس حتى عام ق.م
- ٥ - قام الأسكندر بزيارة معبد الإله فى منف والإله فى واحة سيوة .
- ٦ - استمر حكم دولة البطالمة نحو عام تقريبا .
- ٧ - كانت مدينة مركز إشعاع حضارى فى عصر البطالمة .
- ٨ - إستخدم البطالمة اللغة لغة رسمية للبلاد.
- ٩ - بدأ بناء منارة الإسكندرية فى عهد
- ١٠ - أنشأ البطالمة معبد فيلة لعبادة
- ١١ - كان مركز عبادة الإله سراپيس فى مدينة
- ١٢ - من أشهر علماء الرياضيات فى جامعة الأسكندرية القديمة
- ١٣ - سيطرت الإمبراطورية الرومانية على معظم أنحاء البحر
- ١٤ - نجحت روما فى غزو مصر عام ق.م .
- ١٥ - حكم القائد الرومانى الأجزاء الشرقية من الإمبراطورية الرومانية .
- ١٦ - تزوج أنطونيوس من ملكة مصر البطلمية
- ١٧ - حدثت معركة اكتيوم البحرية عام ق.م وأنتهت بانتصار
- ١٨ - بدأت العلاقات بين مصر البطلمية و روما ثم تحولت إلى
- ١٩ - تم تقسيم الحكم فى الدولة الرومانية بعد مقتل
- ٢٠ - حكم القائد الرومانى الأجزاء الشرقية والقائد الرومانى الأجزاء الغربية .
- ٢١ - شجع البطالمة هجرة إلى مصر وبنوا مدينة بالمنيا
- ٢٢ - اكبر دار للعلم فى العالم القديم هى
- ٢٣ - من أشهر علماء جامعة الأسكندرية فى الرياضيات فى الهندسة وفى التاريخ و صاحب قانون الطفو .



الدراسات الإجتماعية

الصف الأول الإعدادى

- ٢٤ - سكن مصر زمن الرومان أجناس متعددة منهم و و
- ٢٥ - حدثت ثورة ضد الحكم الرومانى فى القرن الثانى الميلادى .
- ٢٦ - من المسارح التى أقامها الرومان فى مصر، مسرح
- ٢٧ - دخلت المسيحية مصر على يد القديس
- ٢٨ - الامبراطور الذى عرف عصره بعصر الشهداء هو الامبراطور
- ٢٩ - من أوائل الذين مارسوا الرهبنة الفردية الانبا
- ٣٠ - أصبحت مصر جزءاً من العالم الإسلامى عندما فتحها القائد المسلم

السؤال الرابع : بم تفسر

- ١- ترحيب المصريين بالأسكندر الأكبر .
- ٢- زيارة الأسكندر لمعبدى بتاح وأمون .
- ٣- يلقب الأسكندر الأكبر بهذا الاسم .
- ٤- تأسيس الأسكندر الأكبر لمدينة الإسكندرية .
- ٥- اتجاه معظم الدول فى العصر القديم لإحتلال مصر .
- ٦- تميز الأسكندر بالقدرة على القيادة .
- ٧- أهمية مدينة الاسكندرية .
- ٨- تسمية عصر دقلديانوس بعصر الشهداء .
- ٩- ترحيب المصريين بالفتح الاسلامى .
- ١٠- نشطت التجارة داخل وخارج مصر أثناء حكم الرومان .
- ١١- توتر العلاقة بين انطونيوس واكتافيوس .
- ١٢- انتشار الأديرة وإقبال المسيحيين عليها .
- ١٣- اضطهاد الرومان للمسيحية واتباعها .
- ١٤- إقبال المصريين على اعتناق الدين المسيحى .
- ١٥- عدم تغير الحياة الإجتماعية فى عصر الرومان .
- ١٦- أهمية القانون .
- ١٧- أهمية قواعد الأخلاق .
- ١٨- نشأة الرهبانية فى مصر .
- ١٩- قواعد الدين ثابتة وقواعد القانون متغيرة .



الإجابات

أولاً : الجغرافيا

س ١ : اكمل العبارات الآتية

- ١ - قسم العلماء سطح الأرض إلى أقاليم مناخية حتى يسهل عليهم دراسة المناخ .
- ٢ - تقل الحرارة ١ درجة مئوية كلما أرتفعنا ١٥٠ متر عن مستوى سطح البحر .
- ٣ - تحدث الرياح اليومية نتيجة اختلاف الحرارة على اليابس و الماء أثناء الليل و النهار.
- ٤ - يحدث المطر التضاريسى نتيجة اصطدام الرياح المحملة ببخار الماء بالمرتفعات.
- ٥ - الطقس هو وصف حالة الجو خلال فترة زمنية قصيرة .
- ٦ - المناخ هو وصف حالة الجو خلال فترة زمنية طويلة .
- ٧ - عناصر المناخ هى الحرارة و الضغط و الرياح و الأمطار
- ٨ - يتميز الأقاليم الإستوائى بأن أمطاره غزيرة طول العام
- ٩ - يمتاز إقليم البحر المتوسط بأنه حار جاف صيفا و دفيء ممطر شتاء .
- ١٠ - الرياح تنقسم إلى دائمة و موسمية و محلية و يومية
- ١١ - معرفة حالة الجو فى فترة زمنية قصيرة قد تكون يوم إلى أسبوع الطقس
- ١٢ - معرفة حالة الجو فى فترة زمنية طويلة شهرا أو فصلا أو سنه المناخ
- ١٣ - من أنواع الرياح الدائمة تجارية و عكسية و قطبية .
- ١٤ - تعتبر الحرارة هى أهم عناصر المناخ .
- ١٥ - ترتفع درجة الحرارة عند دائرة الأستواء لأن أشعة الشمس تكون عمودية
- ١٦ - تمتد المنطقة الحارة بين مدار السرطان و مدار الجدى
- ١٧ - تهب الرياح التجارية من دائرة عرض ٣٠° ش ، ج وتتجه صوب دائرة الأستواء
- ١٨ - يسقط المطر التصاعدى على المنطقة الأستوائية



الدراسات الإجتماعية

الصف الأول الإعدادى

- ١٩ - تتميز الصحراء الكبرى بأنها نادرة المطر .
- ٢٠ - الفرق بين درجة حرارة الليل والنهار يسمى المدى الحرارى اليومي وبين درجة حرارة الصيف والشتاء يسمى المدى الحرارى السنوى
- ٢١ - يسود الاقليم المدارى الحار فى معظم انحاء مصر .
- ٢٢ - تهب الرياح القطبية من منطقة الضغط المرتفع عند القطبين متجهة إلى منطقة الضغط المنخفض عند الدائرتين القطبيتين الشمالية والجنوبية .
- ٢٣ - الغابات تخلص الأرض من الملوثات من خلال إمتصاصها للكربون .
- ٢٤ - نتج عن إزالة الانسان للغابات حدوث خلل فى النظام البيئى
- ٢٥ - غابات البحر المتوسط أشجارها دائمة الخضرة ، تتحمل الجفاف .
- ٢٦ - الغابات الصنوبرية غابات دائمة الخضرة .
- ٢٧ - من أنواع الطيور والحيوانات فى الغابات النفضية الطيور ، السنجاب ، القطط ، ال
- ٢٨ - الحشائش الحارة طويلة تختلف فى طولها وكثافتها حسب كمية المطر
- ٢٩ - الحشائش المعتدلة تصلح كمراعى طبيعية لـ الأغنام و الماشية
- ٣٠ - النباتات الصحراوية تتحمل ظروف الجفاف وشدة المناخ .
- ٣١ - تعيش الفيلة فى السافانا بينما يعيش الجمل فى الصحراء
- ٣٢ - الزلازل و البراكين أخطار من باطن الأرض
- ٣٣ - تقاس شدة الزلازل بمقاييس متعددة أشهرها مقياس ريختر
- ٣٤ - تؤدى الزلازل إلى حدوث موجات بحرية عالية تعرف باسم تسونامى
- ٣٥ - عندما تضرب موجات تسونامى تكون قادرة على تجريف رمال الشواطىء .
- ٣٦ - من سلوكيات التعامل عند حدوث الزلازل الابتعاد عن النوافذ و إطفاء المصابيح و عدم إستخدام المصاعد و عدم التزاحم فى الخروج و الجلوس أسفل المنضدة داخل المنزل
- ٣٧ - يؤدى حدوث البراكين إلى تكوين جبال مخروطية عند فوهة البركان
- ٣٨ - يعد التصحّر من أخطر المشكلات التى تواجه العالم



الدراسات الإجتماعية

الصف الأول الإعدادى

٣٩ - النظام البيئى هو نظام مفتوح تتفاعل فيه عناصر البيئة المختلفة من طاقة شمسية والمياه

والنبات والحيوان والإنسان لتخرج منه فى صورة أخرى .

٤٠ - معرفة حالة الجو فى فترة زمنية قصيرة قد تكون من يوم إلى أسبوع الطقس

٤١ - معرفة حالة الجو فى فترة زمنية طويلة شهرا أو فصلا أو سنه المناخ

٤٢ - الأعاصير عواصف هوائية عنيفة تنشأ عادة فوق البحار الإستوائية .

٤٣ - يمكن التخفيف من آثار السيول عن طريق عمل سدود فى مناطق الوديان - بناء

القرى والمدن بعيداً عن مجارة الأودية الجافة .

٤٤ - تؤدى الإنهيارات الجليدية إلى تدمير المباني و قتل العديد من البشر .

٤٥ - تعتبر الغابات جزءاً لا يتجزأ من النظام البيئى وتساهم فى استقراره .

٤٦ - للفيضانات فوائد عديدة منها تغذية خزانات المياه الجوفية ، إزالة النفايات من مجارى

المياه .

٤٧ - لتقليل الاحتباس الحرارى لابد من ترشيد استهلاك الطاقة و إدارة المخلفات بطرق

علمية تقلل الانبعاثات الحرارية و زيادة فرض الضرائب على من يستخدم طاقة تزيد

الانبعاثات الحرارية .

٤٨ - الاحتباس الحرارى يؤدى إلى :

١- ارتفاع متوسط درجة حرارة العالم .

٢- ذوبان الجليد وتقلص مساحة القطبين.

٣- غرق السواحل وبعض أجزاء من المدن الساحلية .

س٢ :- بما تفسر:

١ - تعتبر الحرارة أهم عناصر المناخ

- لأنها تؤثر فى باقى عناصر المناخ وتختلف من مكان لآخر .

٢ - تتميز الأماكن القريبة من دائرة الأستواء بارتفاع درجة حرارتها

لأن أشعة الشمس تكون عمودية على دائرة الأستواء ومائلة كلما ابتعدنا عنه .



- ٣ - يغطى الجليد قمم الجبال العالية بالرغم من وقوعها فى المنطقة الحارة بسبب عامل الارتفاع فكلما أرتفعنا ١٥٠ متر عن سطح البحر تقل الحرارة ١ درجة واحدة مئوية .
- ٤ - تلطف الرياح التجارية من درجة حرارة المناطق التى تهب عليها .
لأنها تأتى من مناطق أقل حرارة إلى مناطق أكثر حرارة .
- ٥ - الرياح الموسمية الصيفية رياح ممطرة .
لأنها تهب من الماء إلى اليابس فتكون محملة ببخار الماء .
- ٦ - تقسيم العلماء الأرض إلى أقاليم مناخية .
حتى يسهل دراسة المناخ على سطح الأرض .
- ٧ - سقوط الأمطار صيفاً على الاقليم المسمى .
بسبب هبوب الرياح الموسمية الصيفية الممطرة فى فصل الصيف .
- ٨ - يتميز الاقليم الصحراوى بأنه حار صيفاً وشديد البرودة شتاءً .
لأن المدى الحرارى اليومى والسنوى الكبير .
- ٩ - ارتفاع الحرارة طوال العام بالاقليم الاستوائى .
لأنه يمتد على جانبى دائرة خط الاستواء فيما بين دائرتى عرض ١٠° و ١٠° شمال وجنوب دائرة الاستواء .
- ١٠ - تنوع النبات الطبيعى على سطح الأرض .
بسبب تنوع درجات الحرارة - اختلاف كميات المطر .
- ١١ - أهمية الغابات لتقليل التلوث .
لأن الغابات تخلص الأرض من الملوثات وتحافظ على التوازن البيئى من خلال امتصاصها لثانى أكسيد الكربون .
- ١٢ - سقوط الأمطار طوال العام على اقليم غرب أوربا .
بسبب وقوعه فى نطاق الرياح العكسية الغربية .



الدراسات الإجتماعية

الصف الأول الإعدادى

١٣- انخفاض درجة الحرارة فى الاقليم المعتدل البارد شرق القارات .

بسبب امتداده بين دائرتى عرض ٤٥° ، ٦٠° شمال شرق القارات .

١٤- تعتبر السافانا حديقة حيوان طبيعية .

لأنه يعيش بها :

١- حيوانات أكلة العشب مثل الغزلان – الزراف – الفيلة .

٢- حيوانات أكلة اللحوم مثل الأسود والنمور والضباع .

١٥- أسباب حدوث البراكين .

(١) وجود مناطق ضعف فى القشرة الأرضية .

(٢) تجمع الغازات المنطلقة من المواد المنصهرة و انفجارها ونفاذها عند نقطة ضعف

فى القشرة الأرضية .

١٦- للبراكين فوائد عديدة .

(١) تكوين العديد من الجزر مثل جزر هاواى .

(٢) تكوين هضبة بركانية مثل هضبة أثيوبيا وهضبة اليمن .

(٣) تكوين جبال مخروطية مثل جبل كينيا وجبل كلمنجارو .

(٤) زيادة خصوبة التربة فى الأراضى القريبة من البركان .

١٧- يوجد الجليد فوق قمم الجبال العالية فى المناطق الحارة .

حيث تقل درجة الحرارة كلما ارتفعنا عن مستوى سطح البحر بمقدار درجة واحدة مئوية

لكل ١٥٠ م لذلك يغطى الجليد قمم الجبال العالية .

١٨- حدوث الانهيارات الجليدية .

عندما يتراكم الثلج بشكل كثيف على جوانب الجبال فتتحرك إلى أسفل فى شكل جبال

جليدية تصل سرعتها ٣٠٠ كم فى الساعة .

١٩- حدوث السيول .

أمطار غزيرة فجائية تتجمع فى شبكات الأودية الصغيرة بالأماكن المرتفعة وتندفع

بشدة نحو الأماكن المنخفضة .



الدراسات الإجتماعية

الصف الأول الإعدادى

٢٠- حدوث الأعاصير .

تحدث نتيجة عواصف هوائية حلزونية دوارة تنشأ فوق البحار الاستوائية ثم تندفع فى اتجاه اليابس وتعرف بأعاصير إستوائية لأن الهواء البارد يدور فيها حول مركز ساكن من الهواء الدافئ .

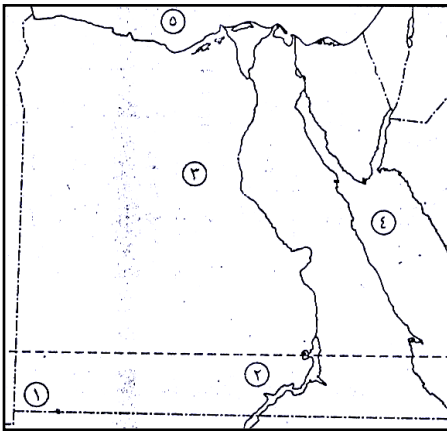
٢١- أهمية الغابات .

أهم الثروات الطبيعية جزء من النظام البيئى وتساهم فى استقراره .

٢٢- انتشار ظاهرة التصحر .

- ١- لتناقص كميات الأمطار
- ٢- قطع الأشجار وإزالة الغطاء النباتى
- ٣- الرعى الجائر وغير المنظم
- ٤- الاستغلال المفرط للأراضى الزراعية
- ٥- زحف الكثبان الرملية على الأراضى الزراعية .
- ٦- تملح التربة نتيجة استخدام طرق الري التقليدية .

الخرائط



اكتب ما تدل عليه الأرقام

- ١- دائرة عرض (٢٢)
- ٢- مدار السرطان
- ٣- الصحراء الغربية
- ٤- البحر الأحمر
- ٥- البحر المتوسط

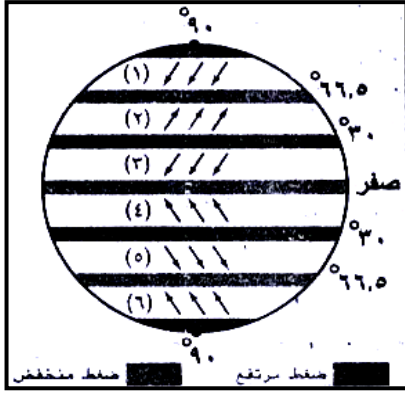


الدراسات الإجتماعية

الصف الأول الإعدادي

(٢) أمامك شكل تخطيطى للكرة الأرضية موضح عليه

توزيع الرياح الدائمة ، اكتب ما تدل عليه الأرقام التى عليه :



(١) رياح قطبية شمالية

(٢) رياح عكسية شمالية

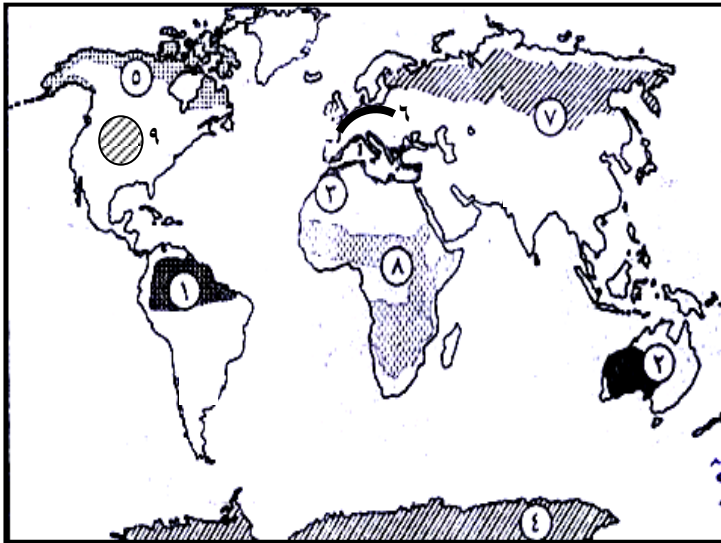
(٣) رياح تجارية شمالية

(٤) رياح تجارية جنوبية

(٥) رياح عكسية جنوبية

(٦) رياح قطبية جنوبية

(٣) أمامك خريطة صماء للعالم ، اكتب ما تدل عليه الأرقام الآتية :



(١) إقليم مناخى استوائى

(٢) إقليم مناخى صحراوى

(٣) إقليم مناخى البحر المتوسط

(٤) إقليم مناخى البارد (التندرا)

(٥) إقليم نباتى تندرا

(٦) غابات معتدلة باردة (نفضية)

(٧) غابات الصنوبرية

(٨) حشائش السافانا

(٩) حشائش الاستبس



ثانياً : التاريخ

السؤال الأول:- أكمل العبارات الآتية

- ١- من أدوات الزينة عند المصريين القدماء العقود و الأساور و الكحل
- ٢- تنقسم الأعياد إلى دينية و اجتماعية و اقتصادية و عسكرية و سياسية
- ٣- تميز القصر الفرعونى بـ العلو و الفخامة و الإتساع
- ٤- انقسم المجتمع المصرى القديم إلى ٤ طبقات
- ٥- طبقات المجتمع هى الفئات التى يتكون منها المجتمع و العلاقات السائدة بينها
- ٦- حياة إجتماعية مجموعة من العادات و التقاليد التى تتمسك بها طبقات الشعب فى المجتمع
- ٧- بنى المصري القديم مسكنه من الطوب اللبن
- ٨- من الأعياد المهمة عند الفراعنة عيد الربيع - عيد رأس السنة - عيد الإله آمون - عيد الإله أوزيريس - عيد جلوس فرعون على العرش - عيد الحصاد
- ٩- صنع المصرى القديم ملابسه من الكتان واستورد الحرير من فينيقيا "سوريا" حالياً
- ١٠- عرف المصرى القديم الأغاني الوطنية و الشعبية و الدينية
- ١١- الكتابة التى استخدمت فى تسجيل النصوص الدينية فى مصر هى الهيروغليفية
- ١٢- قصة سنوحى من الأدب القصصى
- ١٣- من أشهر حكماء مصر القديمة الحكيم بتاح حنب - الحكيم أنى
- ١٤- الخط الرسمى للدولة فى مصر القديمة هو الخط المقدس (الكتابة الهيرغليفية)
- ١٥- استخدم المصرى القديم فى الكتابة ورق البردى
- ١٦- من أنواع الأدب الدينى نصوص الأهرام و كتاب الموتى و أناشيد اخناتون و الأساطير الدينية
- ١٧- يتناول الأدب الدينى الحياة بعد الموت و عقيدة البعث و الخلود
- ١٨- يتضمن الأدب القصصى بعض القصص الحقيقية و الخرافية
- ١٩- من أشهر المعابد الجنائزية الرمسيوم و معبد حتشبسوت .



الدراسات الإجتماعية

الصف الأول الإعدادى

- ٢٠- مقبرة الملكة **نفرتارى** من أجمل المقابر التى توضح التصوير على الجدران .
- ٢١- عرف المصريين القدماء التقويم **الشمسى** بدلا من **القمرى** .
- ٢٢- قسم المصريين القدماء العام إلى **٣** فصول زراعية .
- ٢٣- برع المصريون القدماء في فن **التحنيط** للمحافظة على جثث الموتى .
- ٢٤- آخر مرحلة من مراحل بناء المقابر الملكية بناء **هرم** كامل .
- ٢٥- أيام **النسيء** هى آخر خمسة أيام فى السنة أعتبرها المصري القديم **أعياد** ويبدأ بعدها عام جديد .
- ٢٦- استخدم المصريون القدماء علم الكيمياء فى **التحنيط** و **العقاقير (الأدوية)** و **الأصبغ**

السؤال الثانى : بم تفسر

- (١) تسمية المجتمع المصرى القديم بالمجتمع الطبقي الهرمى الشكل .
- لأن المجتمع المصرى تكون من عدة طبقات على شكل هرم وهى الطبقة العليا للدولة ويمثلها الفرعون وأسرته وطبقة كبار رجال الدولة ويمثلها الوزراء وكبار الكهنة والكتبة وحكام الأقاليم والطبقة الوسطى ويمثلها صغار الموظفين والتجار وأصحاب الحرف المتميزون والطبقة الدنيا ويمثلها عمال الزراعة والحرفيون والرعاة .
- (٢) تسمية الكتابة الهيروغليفية بالخط المقدس .
- لأنها استخدمت فى النقش على جدران المعابد والمقابر وتسجيل النصوص الدينية .
- (٣) اهتمام المصريين القدماء بالأدب التهذيبى .
- لأن الأدب التهذيبى أدب الحكم والنصائح والسلوك والتربية والأخلاق فهو يتناول التعاليم والوصايا التى تهدف إلى الموعظة والنصح .
- (٤) اهتمام قدماء المصريين بعلم التحنيط .
- بسبب رغبتهم فى المحافظة على حيث موتاهم لاعتقادهم فى فكرة البعث والخلود .
- (٥) احتلت المرأة فى مصر القديمة مكانة هامة فى الأسرة .
- ١ - تشرف على شئون البيت من تنظيف وترتيب وطهى .
- ٢ - تتولى تربية الصغار .
- ٣ - تساعد زوجها فى بعض الأعمال .
- ٤ - لها الحق فى الوراثة والشهادة والتعاقد والبيع والشراء .



الدراسات الإجتماعية

الصف الأول الإعدادى

(٦) اختلاف الملابس فى مصر الفرعونية .

لإختلاف طبقات المجتمع حسب الظروف المعيشية فكانت ملابس العامة من الكتان أما الأغنياء والفرعون ملابسه من الحرير المستورد من فينيقيا "سوريا حاليًا" وتطرز بالذهب والفضة.

(٧) حرص الأباء على تعليم أبنائهم فى مصر القديمة .

لتعليمهم آداب السلوك والعلوم المختلفة وليكونوا أبناء صالحين .

(٨) إبداع المصرى القديم فى مجال الأدب .

لأن العوامل الطبيعية مثل نهر النيل والموقع المتميز والمناخ المعتدل ساعدت المصرى القديم على تفجير طاقته فى جميع المجالات.

(٩) وضع الكتابات الدينية مع الميت .

لحمايته ولمساعدته فى الحساب .

(١٠) إهتمام المصرى القديم بعلم الحساب .

١ - استخدامه فى حياته اليومية

٢ - معرفة مساحة الأرض الزراعية

٣ - معرفة كمية المحصول

٤ - معرفة مواسم الزراعة

٥ - المعاملات التجارية

٦ - تنظيم مياه النيل .

٧ - تسجيل رواتب الجند والموظفين .

(١١) براعة الفراعنة فى التحنيط والفنون والعمارة .

بسبب تقدمهم فى علم الكيمياء والطب (التحنيط) وفى علم الهندسة (العمارة والفنون)

(١٢) تقدم المصريين فى علم الطب .

لأنها من المهن ذات التقدير والاحترام وقد برعوا فيها وتوصلوا إلى :

١- تشخيص الأمراض وعلاجها .

٢- كان يوجد أطباء للعيون والأسنان والباطنة والجراحة .

٣- توصلوا لفكرة التحنيط لإيمانهم بعقيدة البعث والخلود .



الدراسات الإجتماعية

الصف الأول الإعدادى

السؤال الثالث :- أكمل العبارات الآتية :

- ١- وقعت مصر تحت سيطرة الليبيين ، الآشوريين ، الفرس قبل مجيء الاسكندر الأكبر.
- ٢- ولد الإسكندر الأكبر فى إقليم مقدونيا بشمال بلاد اليونان .
- ٣- تولى الأسكندر الحكم وهو فى سن ٢٠ من عمره .
- ٤- ظلت مصر تحت حكم الفرس حتى عام ٣٣٢ ق.م
- ٥- قام الأسكندر بزيارة معبد الإله بتاح فى منف والإله أمون فى واحة سيوة .
- ٦- استمر حكم دولة البطالمة نحو ٣٠٠ عام تقريبا (ثلاثة قرون)
- ٧- كانت مدينة الاسكندرية مركز إشعاع حضارى فى عصر البطالمة.
- ٨- إستخدم البطالمة اللغة اليونانية لغة رسمية للبلاد.
- ٩- بدأ بناء منارة الإسكندرية فى عهد بطليموس الثالث
- ١٠- أنشأ البطالمة معبد فيلة لعبادة إيزيس
- ١١- كان مركز عبادة الإله سراجيس فى مدينة منف
- ١٢- من أشهر علماء الرياضيات فى جامعة الأسكندرية القديمة أرشميدس
- ١٣- سيطرت الإمبراطورية الرومانية على معظم أنحاء البحر المتوسط
- ١٤- نجحت روما فى غزو مصر عام ٣٠ ق.م .
- ١٥- حكم القائد الرومانى أنطونيوس الأجزاء الشرقية من الأمبراطورية الرومانية .
- ١٦- تزوج أنطونيوس من ملكة مصر البطلمية كليوباترا السابعة
- ١٧- حدثت معركة اكتيوم البحرية عام ٣١ ق.م و انتهت بانتصار أوكتافيوس
- ١٨- بدأت العلاقات بين مصر البطلمية و روما ودية ثم تحولت إلى عدائية
- ١٩- تم تقسيم الحكم فى الدولة الرومانية بعد مقتل يوليوس قيصر
- ٢٠- حكم القائد الرومانى أنطونيوس الأجزاء الشرقية والقائد الرومانى أوكتافيوس الأجزاء الغربية.
- ٢١- شجع البطالمة هجرة الأغريق إلى مصر وبنوا مدينة نقراطيس بالمنيا
- ٢٢- اكبر دار للعلم فى العالم القديم هى جامعة الأسكندرية



الدراسات الإجتماعية

الصف الأول الإعدادى

٢٣- من أشهر علماء جامعة الأسكندرية فى الرياضيات إقليدس فى الهندسة وفى التاريخ مانيتون وأرشميدس صاحب قانون الطفو .

٢٤- سكن مصر زمن الرومان أجناس متعددة منهم الرومان و الأغريق و اليهود

٢٥- حدثت ثورة الرعاة و الفلاحين الحكم الرومانى فى القرن الثانى الميلادى .

٢٦- من المسارح التى أقامها الرومان فى مصر، مسرح الرومانى بالأسكندرية

٢٧- دخلت المسيحية مصر على يد القديس مرقص

٢٨- الامبراطور الذى عرف عصره بعصر الشهداء هو الامبراطور دقلديانوس .

٢٩- من أوائل الذين مارسوا الرهبنة الفردية الانبا أنطونيوس .

٣٠- أصبحت مصر جزءاً من العالم الإسلامى عندما فتحها القائد المسلم عمرو بن العاص .

٣١- من دعائم المواطن الصالح :

١- أن يعرف حقوقه وواجباته وعادات وتقاليد المجتمع ويتمسك بها .

٢- ليعمل على القيام بالتزاماته تجاه وطنه والنهوض به وحل مشكلاته

٣- وليكون مواطن صالح يتحلى بالصفات الحميدة يتمتع بتقدير المجتمع يرفض أساليب

العنف والقوة التى قد تنال من استقرار المجتمع المصرى .

٤- ليعيش مع الآخرين يحترم حقوقهم - يتقبل آرائهم - انتمائه للمجتمع .

٣٢- تنقسم حقوق المواطن إلى حقوق سياسية و حقوق اجتماعية و حقوق اقتصادية .

٣٣- تعرف المواطنة بأنها علاقة بين الفرد والدولة يحددها الدستور وينظمها القانون وتتضمن

هذه العلاقة واجبات وحقوق متبادلة .

٣٤- من الحقوق الدينية التى يجب أن يتمتع بها الفرد حرية المعتقد الدينى ، ممارسة الشعائر

الدينية .

٣٥- من الحقوق السياسية التى يجب أن يتمتع بها الفرد حرية التعبير عن رأيه و العيش فى

سلام و الترسيخ للمجالس النيابية .

٣٦- تتسم عضوية المواطن داخل الجماعة بـ الفعالية و النشاط و الإيجابية .



الدراسات الإجتماعية

الصف الأول الإعدادى

٣٧- من الصفات الحميدة التى يجب أن يتحلى بها الفرد الدقة و الأمانة و الاجتهاد .

٣٨- تدرب الدولة النشء على تحديد مشكلاته والمشاركة فى حلها .

السؤال الرابع : بم تفسر

١- ترحيب المصريين بالأسكندر الأكبر .

١- لاعتقادهم بأنه جاء ليحررهم من الاحتلال الفارسى .

٢- معرفتهم بالأغريق الذين عاشوا فى مصر كجنود مرتزقة .

٢- زيارة الأسكندر لمعبدى بتاح وأمون .

للتقرب من المصريين وكسب ودهم وإظهار احترامه للديانة المصرية القديمة .

٣- يلقب الأسكندر الأكبر بهذا الاسم .

لأنه من أعظم الفاتحين حيث غزا معظم أجزاء العالم القديم .

٤- تأسيس الأسكندر الأكبر لمدينة الإسكندرية .

١ - تخليدا لإسم الأسكندر . ٢ - لتكون عاصمة لمصر .

٣ - لتكون مركز لنشر الحضارة الإغريقية .

٤ - لتكون قاعدة بحرية يدعم بها سيطرته على البحر المتوسط .

٥- اتجاه معظم الدول فى العصر القديم لإحتلال مصر .

طمعا فى الاستيلاء على خيراتها حتى أصبحت كل دولة تنشئ بناء إمبراطورية تتجه

إلى مصر

٦- تميز الأسكندر بالقدرة على القيادة .

لأنه تدرب على شئون الحكم على يد والده لذلك اكتسب منه حدة العقل والقدرة على القيادة .

٧- أهمية مدينة الاسكندرية .

لأنها مركز من مراكز إشعاع الحضارة الهيلينية فى العالم القديم .

٨- تسمية عصر دقلديانوس بعصر الشهداء .

بسبب كثرة عدد الشهداء المسيحيين الذين قتلوا فى عهده .



الدراسات الإجتماعية

الصف الأول الإعدادى

٩- ترحيب المصريين بالفتح الاسلامى .

لكى يخلصهم من الاضطهاد الرومانى .

١٠- نشطت التجارة داخل وخارج مصر أثناء حكم الرومان .

- بسبب أستقرار الامن .

- إلغاء الرسوم الجمركية على الواردات .

- إرتفاع مكانة الاسكندرية كميناء تجارى لهم .

١١- توتر العلاقة بين انطونيوس واكتافيوس .

- بسبب إهداء أنطونيوس لكليوباترا السابعة وأبنائها بعض الأقاليم التى فتحها فى الشرق .

- احتفال أنطونيوس بانتصاراته فى مصر وليس فى روما .

١٤- انتشار الأديرة وإقبال المسيحيين عليها .

بسبب بطش الدولة البيزنطية .

١٣- اضطهاد الرومان للمسيحية واتباعها .

لأن المسيحيين كانوا لا يمارسون شعائر الديانة الرسمية لروما ولا يقدسون صور

الأباطرة لذاتهم واضطهادهم والسعى للقضاء على اتباعهم .

١٤- إقبال المصريين على اعتناق الدين المسيحى .

- لأنهم وجدوا فيه مبادئ العدل والمساواة والرحمة والعطف والزهدي فى الدنيا والتطلع

لنعيم الآخرة مما يجعلهم يقبلون عليه ويؤمنون به .

- وجدوا فيه خلاصاً من الضغوط الاقتصادية ومن القهر والاذلال الذى كانوا يعانونه

تحت الحكم الرومانى .

- وجدوا فيه خلاصاً لهم من واقعهم المضطرب حيث كانت أفكار الناس حائرة بين

العديد من المعبودات التى قدمتها لهم الديانات المصرية واليونانية والرومانية .

١٥- عدم تغير الحياة الإجتماعية فى عصر الرومان .

أبقى الرومان على نفس التقسيم الطبقي الذى كان فى عهد البطالمة طبقة عليا " رومان

- أغريق - يهود - مصريين " .



الدراسات الإجتماعية

الصف الأول الإعدادى

١٦- أهمية القانون .

يحقق العدل والمساواة بين الأفراد .

يحقق الأمن والنظام داخل المجتمع – يحقق تقدم المجتمع وتطوره – يحقق استقرار المجتمع وبقاءه .

١٧- أهمية قواعد الأخلاق .

السمو بالإنسان فى كل المجالات .

١٨- نشأة الرهبانية فى مصر .

لانتشار الأديرة فى مصر وأقبل عليها المسيحيون بسبب بطش الدولة البيزنطية

١٩- قواعد الدين ثابتة وقواعد القانون متغيرة .

قواعد الدين : مجموعة أوامر ونواهى أوصى بها الله سبحانه وتعالى إلى رسله أى

أنها ليس من صنع البشر وغير قابله للتغيير .

أما قواعد القانون : قواعد تنظم سلوك الأفراد وعلاقاتهم بالمجتمع والتي يترتب على

مخالفتها وقوع الجزاء وهى من صنع البشر ولذلك فهى دائمة التغيير .