



**PROPOSED KEY ANSWERS FOR THE
WRITTEN EXAMINATION CONDUCTED
FOR THE POST OF ASSISTANT PROGRAMMER**

(Notification No.17/2021, dated 07.02.2021)

The proposed key answers, marked in the Question Booklet (A-Series), for the written examination conducted on 10.07.2021 (Saturday) for the post of 'Assistant Programmer' are hosted herewith.

Any objection with regard to any of the proposed key answer should be sent by the candidates to the Registrar (Recruitment), High Court, Madras, by e-mail (recruitment.mhc@gov.in) within two days from today. In such communication, Registration Number, Name and address of the candidate, Question Number and answer for such question, according to the candidate, with supporting material for such claim, should invariable be quoted. Any representation received after two days or without any of the above requisite particulars will receive no attention.

Dated: 26.07.2021.
Place: High Court, Madras.

Sd/- xxxxx
Registrar (Recruitment).

**CLICK TO JOIN 150-HOURS FREE CLASS(9626699743)
Er.THANGAMUTHU IPS ACADEMY**

MHAP 1746

Booklet Series :

A

Registration
No.

Booklet No.

10253

Time : Three Hours

Max Marks: 150

IMPORTANT INSTRUCTIONS TO CANDIDATES

Read the following instructions carefully before you begin to answer the questions.

1. The Candidate will be supplied with Question Booklet 15 minutes before commencement of the examination.
2. This Question Booklet contains 150 objective type questions. Before answering, the candidates are requested to check whether all the questions are in seriatim and ensure that there are no blank pages / Questions in the question booklet. In case any defect is noticed, it shall be reported to the Invigilator within first 10 minutes and get it replaced with a new same series Question Booklet. After 10 minutes of the commencement of the examination, it will not be replaced.
3. Each Question carries one mark (No negative mark will be deducted for the wrong answer except Part D Questions. **For each incorrect answer in Part D, 1/4 (0.25) mark will be deducted**).
4. You must write your Register Number in the space provided on the top left side of the page without fail. Do not write anything else in the Question Booklet.
5. Personalized OMR Answer Sheets of the Candidates will be supplied by the invigilator for answering the Questions. If the OMR Answer Sheet is, in anyway defective, the same shall be brought to the notice of the Invigilator immediately before shading, so as to supply a spare OMR answer sheet.
6. You must write and shade your Question Booklet number in the space provided in the OMR Answer Sheet without fail with Blue or Black Ball point pen only.

Please see the last page of this booklet for rest of the instructions.

SEAL

CLICK TO JOIN 150-HOURS FREE CLASS(9626699743)
Er.THANGAMUTHU IPS ACADEMY

10598

PART A

1. Did the boys turn _____ for football practice?
(A) Up (B) On
(C) Back (D) In
2. His manners _____ him.
(A) Speak (B) speak for
(C) speak out (D) Speak of
3. When we get ready for dinner, I have to take my books _____ the table.
(A) of (B) from
(C) off (D) out
4. You must be back _____ four o'clock.
(A) by (B) in
(C) to (D) for
5. Synonym of mellow-
(A) melodious (B) genial
(C) dramatic (D) fruity
6. Antonym of acquitted
(A) jailed (B) exonerated
(C) accused (D) convicted
7. He is too miserly to part _____ his money.
(A) from (B) with
(C) to (D) in
8. Which word does not belong with the others?
(A) wing (B) fin
(C) beak (D) rudder

9. The union leader was very critical ——— the attitude of the management.
(A) for
(B) at
(C) on
(D) of
10. I congratulated Seeta ——— her success in the examination.
(A) on
(B) by
(C) in
(D) with
11. Yesterday Geetha ——— school early to receive her parents at the railway station.
(A) went
(B) entered
(C) left
(D) delayed
12. People from ——— and near came to see the final match of the tournament yesterday.
(A) distance
(B) long
(C) above
(D) far
13. Read the sentence and find out grammatical/idiomatic error in it.
The Headmaster of the school / along with other teachers are coming /
(A) (B)
to attend the meeting / scheduled to be held this afternoon
(C) (D)
14. One who looks on the bright side of things-
(A) pessimist
(B) optimist
(C) infallible
(D) hypocrite
15. Find the correctly spelt word.
(A) maintainance
(B) maintainece
(C) mentaince
(D) maintenance

PART B

16. காமராஜரை 'கல்விக்கண் திறந்தவர்' என மனதார பாராட்டியவர்
 (A) அறிஞர் அண்ணா (B) தந்தை பெரியார்
 (C) ராஜாஜி (D) பட்டுக்கோட்டை பிரபாகர்
17. பிறர் நமக்கு செய்யும் தீங்கை பொறுத்துக்கொள்வது _____ ஆகும்.
 (A) வம்பு (B) அமைதி
 (C) அடக்கம் (D) பொறை
18. செம்மொழி - பிரித்து எழுத கிடைப்பது
 (A) செம் + மொழி (B) செம்மை + மொழி
 (C) செ + மொழி (D) செந் + மொழி
19. சார்பெழுத்துக்கள் எத்தனை வகைப்படும்?
 (A) 10 (B) 30
 (C) 12 (D) 18
20. உள்ளூவது எல்லாம் உயர்வுள்ளல் மற்றது தள்ளினும்
 (A) தள்ளாமை நீர்த்து (B) தள்ளினும் நீர்த்து
 (C) நீங்காவிடும் (D) வந்து உயர்த்து
21. பெருமை + வானம் என்பதை சேர்த்து எழுதக் கிடைப்பது
 (A) பெருமைவானம் (B) பெருவானம்
 (C) பெரும்வானம் (D) மேற்கண்ட எதுவுமில்லை
22. பொன்னியின் செல்வன் என்ற நாவலை எழுதியவர் யார்?
 (A) சாண்டிலியன் (B) வைரமுத்து
 (C) பார்த்தசாரதி (D) கல்கி
23. மணிமேகலை காப்பியத்தின் ஆசிரியர்
 (A) இளங்கோவடிகள் (B) சீத்தலை சாத்தனார்
 (C) ஒட்டக்கூத்தன் (D) கபிலர்

24. தீரா இடும்பை தருவது எது?
 (A) குணம், குற்றம் (B) பெருமை, சிறுமை
 (C) ஆராயாமை, ஐயப்படுதல் (D) நாடாமை, பேணாமை
25. 'சாகும்போதும் தமிழ் படித்துச் சாகவேண்டும் – என்றன் சாம்பலும் தமிழ் மணந்து வேகவேண்டும்' என்று கூறியவர் –
 (A) பெருஞ்சித்தனார் (B) இளங்குமரனார்
 (C) சச்சிதானந்தன் (D) பாரதிதாசன்
26. கம்பர் தாம் இயற்றிய காவியத்திற்கு இட்ட பெயர்
 (A) இராம காதை (B) இராம அவதாரம்
 (C) இராம சரிதம் (D) இராம புராணம்
27. சாகித்திய அகாடமி விருதுபெற்ற கி.ரா. வின் நூல் எது?
 (A) கோபல்லபுரத்து மக்கள் (B) மாயமான்
 (C) கரிசல்காட்டு கடுதாசி (D) அந்தமான் நாயக்கர்
28. 'விசனம்' – சொல் தரும் பொருள் யாது?
 (A) அச்சம் (B) மகிழ்ச்சி
 (C) கவலை (D) ஏக்கம்
29. கீழ்க்கண்டவற்றுள் ஆண்டாளின் படைப்பு எது?
 (A) திருவெம்பாவை (B) திருமாலை
 (C) திருவாய் மொழி (D) நாச்சியார் திருமொழி
30. வாடிய பயிரைக் கண்டபோ தெல்லாம் வாடினேன் பசியினால் இளைத்தே/இந்த பாடல் வரி இடம்பெற்றுள்ள நூல் மற்றும் ஆசிரியர் பெயர் என்ன?
 (A) பாஞ்சாலிசபதம், பாரதியார்
 (B) பத்துப்பாட்டு, பெருஞ்சித்தனார்
 (C) நான்மணிக்கடிகை, விளம்பி நாகனார்
 (D) திருவருட்பா, இராமலிங்க அடிகளார்

PART C

31. If your weight on earth is 60 kg, what will be your weight on the moon?

- (A) 5 Kg (B) 10 Kg
(C) 15 Kg (D) 20 Kg

பூமியில் உன்னுடைய எடை 60 கிலோவாக இருந்தால், நிலவில் உன்னுடைய எடை என்ன?

- (A) 5 கிலோகிராம் (B) 10 கிலோகிராம்
(C) 15 கிலோகிராம் (D) 20 கிலோகிராம்

32. Sericulture is

- (A) Silk cultivation (B) Fish cultivation
(C) Fruits cultivation (D) Milk production

செரிகல்சர் என்பது

- (A) பட்டு வளர்ப்பு (B) மீன் வளர்ப்பு
(C) பழ வளர்ப்பு (D) பால் உற்பத்தி

33. When did the Constitution of India come into effect?

- (A) 26.01.1950 (B) 15.08.1947
(C) 26.01.1947 (D) 15.11.1950

இந்திய அரசியலமைப்பு சட்டம் எப்போது அமலுக்கு வந்தது?

- (A) 26.01.1950 (B) 15.08.1947
(C) 26.01.1947 (D) 15.11.1950

34. Who among the following appoints the Governor of the states in India?

- (A) Prime Minister (B) Parliament
(C) President (D) Rajya Sabha Chairman

கீழ்க்கண்டவர்களில் யார் இந்தியாவில் உள்ள மாநிலங்களில் ஆளுநரை நியமிக்கிறார்?

- (A) பிரதம மந்திரி (B) பாராளுமன்றம்
(C) குடியரசு தலைவர் (D) ராஜ்யசபா தலைவர்

A

CLICK TO JOIN 150-HOURS FREE CLASS(9626699743) Er.THANGAMUTHU IPS ACADEMY

MHAP 1746
[Turn over]

35. Who is the current RBI Governor?

- (A) Shaktikanta Das (B) Deshmukh
(C) Raghuram (D) Urjit Patel

ரிசர்வ் வங்கியின் தற்போதைய கவர்னர் யார்?

- (A) சக்தி காண்டா தாஸ் (B) தேஸ்முக்
(C) ரகுராம் (D) உர்ஜிட் பட்டேல்

36. Who is the first recipient of Nobel Prize for literature in Asia?

- (A) Rabindranath Tagore
(B) Sarojini Naidu
(C) Satyajit Ray
(D) Raman

ஆசியாவில் இலக்கியத்திற்காக முதன்முதலில் நோபல் பரிசு பெற்றவர் யார்?

- (A) ரவிந்திரநாத் தாகூர்
(B) சரோஜினி நாயுடு
(C) சத்தியஜித் ராய்
(D) ராமன்

37. When was the Non Co-operation Movement launched?

- (A) 1919 (B) 1920
(C) 1922 (D) 1942

எப்போது ஒத்துழையாமை இயக்கம் ஆரம்பிக்கப்பட்டது?

- (A) 1919 (B) 1920
(C) 1922 (D) 1942

38. A man is walking at a speed of 10 kmph. After every km, he takes a rest for 5 minutes. How much time will he take to cover a distance of 5 km?

(A) 60 minutes

(B) 50 minutes

(C) 40 minutes

(D) 70 minutes

ஒரு மணிக்கு 10 கிலோமீட்டர் வேகத்தில் ஒரு நபர் நடக்கின்றார். ஒவ்வொரு கிலோமீட்டர் கடந்தபின்னர் அவர் 5 நிமிடம் ஓய்வு எடுக்கிறார். 5 கிலோமீட்டர் தூரம் கடக்க அவர் எவ்வளவு நேரம் எடுத்துக்கொள்வார்?

(A) 60 நிமிடம்

(B) 50 நிமிடம்

(C) 40 நிமிடம்

(D) 70 நிமிடம்

39. Jitu Rai is associated with which sports?

(A) athletics

(B) football

(C) wrestling

(D) shooting

எந்த விளையாட்டுடன் ஜித்தூராய் தொடர்புடையவர்?

(A) தடகள போட்டி

(B) கால்பந்தாட்டம்

(C) மல்யுத்தம்

(D) துப்பாக்கி சுடுதல்

40. Fresh sugarcane contains 84% water. Dried sugarcane contains 28% water. How many kgs of dried sugarcane can be obtained from 90 kg of fresh sugarcane?

(A) 10

(B) 20

(C) 35

(D) 72

புதுகரும்பு 84 சதவீத தண்ணீரை கொண்டுள்ளது. உலர்ந்த கரும்பு 28 சதவீத தண்ணீரை கொண்டுள்ளது. 90 கிலோ எடையுள்ள புதுகரும்பிலிருந்து எவ்வளவு கிலோ உலர்ந்த கரும்பை பெற முடியும்?

(A) 10

(B) 20

(C) 35

(D) 72

41. Match the following :

- | | |
|-----------------|---------------|
| (a) Hockey | 1. 7 players |
| (b) Volleyball | 2. 5 players |
| (c) Basket ball | 3. 6 players |
| (d) Kabadi | 4. 11 players |

- | | | | | |
|-----|-----|-----|-----|-----|
| | (a) | (b) | (c) | (d) |
| (A) | 1 | 2 | 3 | 4 |
| (B) | 3 | 4 | 2 | 1 |
| (C) | 4 | 3 | 2 | 1 |
| (D) | 2 | 1 | 4 | 3 |

கீழ்க்கண்டவற்றை பொருத்துக :

- | | |
|-----------------|----------------|
| (a) ஹாக்கி | 1. 7 வீரர்கள் |
| (b) கைப்பந்து | 2. 5 வீரர்கள் |
| (c) கூடைப்பந்து | 3. 6 வீரர்கள் |
| (d) கபடி | 4. 11 வீரர்கள் |

- | | | | | |
|-----|-----|-----|-----|-----|
| | (a) | (b) | (c) | (d) |
| (A) | 1 | 2 | 3 | 4 |
| (B) | 3 | 4 | 2 | 1 |
| (C) | 4 | 3 | 2 | 1 |
| (D) | 2 | 1 | 4 | 3 |

42. Who gave the title of Father of Nation to Mahatma Gandhi?

- | | |
|-------------------------|----------------------|
| (A) Subhas Chandra Bose | (B) Jawaharlal Nehru |
| (C) Vallabhai Patel | (D) Mountbatten |

மகாத்மா காந்திக்கு தேசத்தின் தந்தை என்று யார் பட்டம் கொடுத்தார்?

- | | |
|----------------------|---------------------|
| (A) சுபாஷ்சந்திரபோஸ் | (B) ஜவஹர்லால் நேரு |
| (C) வல்லபாய் பட்டேல் | (D) மவுண்ட் பேட்டன் |

43. What is unit of temperature in the S.I system?

- (A) centigrade (B) kelvin
(C) rumen (D) fahrenheit

எஸ்.ஐ. முறையில் உள்ள வெப்பத்தின் அலகு என்ன?

- (A) சென்டிகிரேட் (B) கெல்வின்
(C) ரூமன் (D) பாரன்ஹீட்

44. Rainfall is decreasing due to

- (A) afforestation (B) industrialization
(C) global warming (D) pollution

மழை குறைவதற்கான காரணம்?

- (A) காடு வளர்ப்பு (B) தொழில்மயமாதல்
(C) உலக வெப்பமயமாதல் (D) மாசுபடுதல்

45. A boy could do $\frac{1}{7}$ th part of some work in 6 days. The number of days he would take to do 0.5 part of the same work is

- (A) 42 days (B) 21 days
(C) 11 days (D) 6 days

ஒரு சிறுவன் சில வேலையின் $\frac{1}{7}$ பகுதியை செய்து முடிக்க 6 நாட்கள் ஆகிறது. அதே வேலையை 0.5 பகுதியை அவர் செய்ய எவ்வளவு நாட்கள் ஆகும்?

- (A) 42 நாட்கள் (B) 21 நாட்கள்
(C) 11 நாட்கள் (D) 6 நாட்கள்

46. A man bought a saree for Rs. 546, after getting a discount of Rs. 104 on its marked price. The percentage of discount given to him was

- (A) 16% (B) 15%
(C) 18% (D) 20%

ஒரு சேலையில் அதில் குறிப்பிடப்பட்ட விலையிலிருந்து ரூபாய் 104 தள்ளுபடி போக, ஒரு நபர் ரூபாய் 546-க்கு அந்த சேலையை வாங்கினார். அவருக்கு எவ்வளவு சதவீத தள்ளுபடி கொடுக்கப்பட்டது?

- (A) 16% (B) 15%
(C) 18% (D) 20%

47. Arrange the following in the increasing order of their size :

Karnataka, Kerala, Tamil Nadu, Telangana

- (A) Kerala, Telangana, Tamil Nadu, Karnataka
(B) Kerala, Tamil Nadu, Telangana, Karnataka
(C) Kerala, Telangana, Karnataka, Tamil Nadu
(D) Karnataka, Tamil Nadu, Telangana, Kerala

கீழ்க்கண்டவற்றை அதன் அளவை வைத்து மேல்நோக்கி வரிசைப்படுத்துக.

கர்நாடகா, கேரளா, தமிழ்நாடு, தெலுங்கானா

- (A) கேரளா, தெலுங்கானா, தமிழ்நாடு, கர்நாடகா
(B) கேரளா, தமிழ்நாடு, தெலுங்கானா, கர்நாடகா
(C) கேரளா, தெலுங்கானா, கர்நாடகா, தமிழ்நாடு
(D) கர்நாடகா, தமிழ்நாடு, தெலுங்கானா, கேரளா

48. Which of the following is not a browser?

- (A) android (B) firefox
(C) chrome (D) safari

கீழ்க்கண்டவற்றில் எது பிரவுசர் இல்லை?

- (A) ஆண்ட்ராய்டு (B) பயர்பாக்ஸ்
(C) குரோம் (D) சபாரி

49. What is the maximum (sanctioned) strength of Supreme Court including the Chief Justice of India?

- (A) 26 (B) 31
(C) 34 (D) no limit

உச்ச நீதிமன்ற தலைமை நீதிபதியை உள்ளடக்கி உச்சநீதிமன்ற நீதிபதிகளின் எண்ணிக்கை எவ்வளவு?

- (A) 26 (B) 31
(C) 34 (D) வரம்பில்லை

50. The ————— is considered as the 'network of networks'.

- (A) internet (B) satellite network
(C) local area network (D) metropolitan area network

நெட்வர்கின் நெட்வர்க் என்பது

- (A) இண்டர்நெட் (B) சேட்டலைட் நெட்வர்க்
(C) லோக்கல் ஏரியா நெட்வர்க் (D) மெட்ரோபாலிடன் ஏரியா நெட்வர்க்

PART D

51. Execute a command as another user in Linux?
(A) Who (B) Tty
(C) Chmod (D) Sudo
52. Online content that is not indexed by search engines is called _____
(A) Disconnected web (B) Private documents
(C) Hidden documents (D) Deep web
53. What is a long-term scheduler?
(A) It selects which process has to be brought into the ready queue
(B) It selects which process has to be executed next and allocated CPU
(C) It selects which process to remove from memory by swapping
(D) None of these
54. The process of building new classes from existing one is called
(A) Structure (B) Inheritance
(C) Polymorphism (D) Template
55. Personal Area Network is a network arranged within an individual person, typically within a range of
(A) 10 meters (B) 20 meters
(C) 40 meters (D) 30 meters
56. What do you use the Aux port for?
(A) Console (B) Terminal editing
(C) Modem (D) Backup logging

57. _____ and _____ are the two issues of Requirement Analysis.
- (A) Performance, Design
 - ☒ (B) Stakeholder, Developer
 - (C) Functional, Non-Functional
 - (D) None of the mentioned
58. MIME stand for
- (A) Multipurpose Internet Messaging Extension
 - ☒ (B) Multipurpose Internet Mail Extension
 - (C) Multipurpose Internet Media Extension
 - (D) Multipurpose Internet Mass Extension
59. The statement that is executed automatically by the system as a side effect of the modification of the database is
- (A) backup
 - (B) assertion
 - (C) recovery
 - ☒ (D) trigger
60. When do you stop testing in software development?
- (A) The faults have been fixed
 - (B) All the tests run
 - (C) The time completed
 - ☒ (D) The risk is resolved
61. Select the tag which is used to mark a beginning of paragraph
- (A) <TD>
 - (B)

 - ☒ (C) <P>
 - (D) <TR>

62. The technology that is not used by Ajax is

- (A) JavaScript
- (B) XMLHttpRequest
- (C) Document Object Model
- ☒ (D) Flash

63. Out of the following which one is a Software Testing tool?

- (A) Rational Rose
- (B) Oracle
- ☒ (C) Win Runner
- (D) Linux

64. What is the output message displayed when you execute the applet of the following Java program?

```
import java.awt.*;  
import java.applet.*;  
  
public class myapplet extends Applet  
{  
    public void paint(Graphics g)  
    {  
        g.drawString("A Simple Applet", 20, 20);  
    }  
}
```

- ☒ (A) A Simple Applet
- (B) A Simple Applet 20 20
- (C) Compilation Error
- (D) Runtime Error

65. Half duplex Ethernet operation is
- (A) Half Duplex Ethernet technology provides a transmit circuit connection wired directly to the receiver circuit at the other end
 - (B) Half duplex transmission between stations is achieved by using point to multipoint Ethernet and Fast Ethernet
 - ☒ (C) With Half Duplex transmission logically circuits feed into a single cable creating a situation similar to a one way bridge
 - (D) Half Duplex transmission between stations is achieved using Point to Point Ethernet & Fast Ethernet
66. What does a directed arc or line signify?
- ☒ (A) Data Flow
 - (B) Data Process
 - (C) Data Stores
 - (D) None of the above
67. Servlets are used to program which component in a web application?
- (A) client
 - ☒ (B) server
 - (C) tomcat
 - (D) applet
68. Which of the following code is used to get an attribute in a HTTP Session object in servlets?
- ☒ (A) session.getAttribute(String name)
 - (B) session.alterAttribute(String name)
 - (C) session.updateAttribute(String name)
 - (D) session.setAttribute(String name)

69. Which of the following is true regarding PostgreSQL?
- (A) PostgreSQL is a powerful
 - (B) PostgreSQL is open source
 - (C) PostgreSQL is object-relational database system
 - ☒ (D) All of the above
70. Identify the correct syntax for referring the external style sheet?
- (A) `<style src = example.css>`
 - (B) `<style src = "example.css">`
 - (C) `<stylesheet> example.css </stylesheet>`
 - ☒ (D) `<link rel="stylesheet" type="text/css" href="example.css">`
71. The incorrect Python declaration is
- (A) `xyzp = 5,000,000`
 - ☒ (B) `x y z p = 5000 6000 7000 8000`
 - (C) `x,y,z,p = 5000, 6000, 7000, 8000`
 - (D) `x_y_z_p = 5,000,000`
72. Gutter margin is
- (A) Margin that is added to right margin when printing
 - (B) Margin that is added to the left margin when printing
 - (C) Margin that is added to the outside of the page when printing
 - ☒ (D) Margin that is added to the binding side of page when printing
73. _____ Supports Web Services Testing
- (A) Selenium
 - (B) SilkTest
 - (C) Postman
 - ☒ (D) ALM

74. The following are the features of Content Management System (CMS)
(A) Content Creation and Storage (B) Workflow Management
(C) Publishing (D) All of the above

75. From the following which is not a web hosting company?
(A) Hostgator (B) Blue Host
(C) WPX Hosting (D) Facebook

76. What will be the output of the following Java code?

```
class overload
{
    int x;
    double y;
    void add(int a , int b)
    {
        x = a + b;
    }
    void add(double c , double d)
    {
        y = c + d;
    }
    overload()
    {
        this.x = 0;
        this.y = 0;
    }
}
class Overload_methods
{
    public static void main(String args[ ])
    {
        overload obj = new overload();
        int a = 2;
        double b = 3.2;
        obj.add(a, a);
        obj.add(b, b);
        System.out.println(obj.x + " " + obj.y);
    }
}
```

- (A) 6 6 (B) 6.4 6.4
(C) 6.4 6 (D) 4 6.4

77. Arrange the steps in order to represent the conducting of Wideband Delphi Technique.

- i. Conduct a group discussion
- ii. Conduct another group discussion
- iii. Present experts with a problem
- iv. Collect expert opinion anonymously
- v. Iterate until consensus is reached
- vi. Feedback a summary of result to each expert

(A) i, iii, ii, iv, v, vi

(B) iii, i, ii, iv, v, vi

(C) i, ii, iii, iv, vi, v

☒ (D) iii, i, iv, vi, ii, v

78. The difference between servlets and applets is

- i. Servlets execute on Server; Applets execute on browser
- ii. Servlets have no GUI; Applet has GUI
- iii. Servlets creates static web pages; Applets creates dynamic web pages
- iv. Servlets can handle only a single request; Applet can handle multiple requests

(A) i, ii, iii are correct

☒ (B) i, ii are correct

(C) i, iii are correct

(D) i, ii, iii, iv are correct

79. Which tag should be used to pass information from JSP to included JSP?

☒ (A) Using <%jsp:page> tag

(B) Using <%jsp:param> tag

(C) Using <%jsp:import> tag

(D) Using <%jsp:useBean> tag

80. Table A

| Id | Name | Age |
|----|------|-----|
|----|------|-----|

12 Arun 60

15 Shreya 24

99 Rohit 11

Table B

| Id | Name | Age |
|----|------|-----|
|----|------|-----|

15 Shreya 24

25 Hari 40

98 Rohit 20

99 Rohit 11

Table C

| Id | Phone | Area |
|----|-------|------|
|----|-------|------|

10 2200 02

99 2100 01

Consider the above tables A, B and C. How many tuples does the result of the following SQL query contains?

SELECT A.id

FROM A

```
WHERE A.age > ALL (SELECT B.age FROM B
                   WHERE B.name = "arun")
```

(A) 4

(B) 3

(C) 0

(D) 1

81. PostgreSQL runs on :

(A) all major operating systems, including Linux, UNIX (AIX, BSD, HP-UX, SGI IRIX, Mac OS X, Solaris, Tru64), and Windows.

(B) on all UNIX versions except Solaris.

(C) Linux and Windows only.

(D) Windows only

82. Hex Code format of CSS colours :

- (A) This is a shorter form of the six-digit notation.
- (B) In this format, each digit is replicated to arrive at an equivalent six-digit value.
- (C) Each hexadecimal code will be preceded by a pound or hash sign '#'.
- ☒ (D) All of the above.

83. Study the following Python program

```
class Std_Name:
```

```
    def __init__(self, Std_firstName, Std_Phn, Std_lastName):
```

```
        self.Std_firstName = Std_firstName
```

```
        self.Std_PhnStd_Phn = Std_Phn
```

```
        self.Std_lastNameStd_lastName = Std_lastName
```

```
Std_firstName = "Wick"
```

```
name = Std_Name(Std_firstName, 'F', "Bob")
```

```
Std_firstName = "Ann"
```

```
name.lastName = "Nick"
```

```
print(name.Std_firstName, name.Std_lastName)
```

What will be the output of this statement?

- (A) Ann Bob
- (B) Ann Nick
- (C) Wick Bob
- ☒ (D) Wick Nick

84. The given Query can be replaced with _____

```
SELECT name  
FROM instructor1  
WHERE salary <= 100000 AND salary >= 90000;
```

- (A) SELECT name
FROM instructor1
WHERE salary BETWEEN 100000 AND 90000
- (B) SELECT name
FROM instructor1
WHERE salary BETWEEN 90000 AND 100000;
- ☒ (C) SELECT name
FROM instructor1
WHERE salary BETWEEN 90000 AND 100000;
- (D) SELECT name
FROM instructor1
WHERE salary <= 90000 AND salary >= 100000;

85. The processes that are residing in main memory and are ready and waiting to execute are kept on a list called:

- (A) job queue
- ☒ (B) ready queue
- (C) execution queue
- (D) process queue

86. Which of the following operation is used if we are interested in only certain columns of a table.

- ☒ (A) PROJECTION
- (B) SELECTION
- (C) UNION
- (D) JOIN

87. Which of the following statement is true?

- ☒ (A) DELETE does not free the space containing the table and TRUNCATE free the space containing the table.
- (B) Both DELETE and TRUNCATE free the space containing the table
- (C) Both DELETE and TRUNCATE does not free the space containing the table
- (D) DELETE free the space containing the table and TRUNCATE does not free the space containing the table

88. DNS Stands for

- ☒ (A) Domain Name System
- (B) Dynamic Network Service
- (C) Domain Network Service
- (D) Domain Network System

89. In Java, declaring a class abstract is useful

- (A) To prevent developers from further extending the class
- ☒ (B) When it doesn't make sense to have objects of that class
- (C) When default implementations of some methods are not desirable
- (D) To force developers to extend the class not to use its capabilities

90. Which class or interface defines the wait(), notify(), and notifyAll() methods?

- | | |
|---|------------|
| <input checked="" type="radio"/> (A) Object | (B) Class |
| (C) Runnable | (D) Thread |

91. Which of the following operation cannot be performed on a Python string?
- (A) Deleting (B) Splitting
(C) Adding (D) Reassigning
92. The order in which test levels are performed is
- (A) Unit, integration, acceptance, system
(B) Unit, system, integration, acceptance
(C) Unit, integration, system, acceptance
(D) It depends on the nature of the project
93. The rule that a value of a foreign key must appear as a value of some specific table is called a
- (A) Referential constraint (B) Index
(C) Integrity constraint (D) Functional dependency
94. How can you make an email link in html?
- (A) <mail href +=xxx@y.com>
(B)
(C)
(D) (B) and (C)
95. Which of the following is not a JSON type?
- (A) date (B) Object
(C) Array (D) String

96. Create table student(name varchar, id integer) What type of statement is this?
(A) DDL (B) DML
(C) Query (D) SQL
97. What is the size of the host bits in class B of IP address?
(A) 8 (B) 16
(C) 64 (D) 32
98. In Java Iterator, has MoreElements() method of Enumeration has been changed to :
(A) hasNextElement() (B) isNext()
(C) hasNext() (D) name remains same
99. Which method causes the audio clip to replay continually?
(A) public void replay()
(B) public void loop()
(C) public void continue()
(D) none of the above
100. What will be the output of following Python code snippet?
for i in range(0, -2, -1): print(i)
(A) 0,-1 (B) 0,-1,-1
(C) -1,-2 (D) 0

101. Which of the following is incorrect?
- (A) X=0b101 (B) X=0x4f5
(C) X=19023 (D) X=03964
102. Which one of the following property scopes is not supported by PHP?
- (A) friendly (B) final
(C) public (D) static
103. A denial of service attack is
- (A) does not have to occur over a network
(B) can erase an entire website
(C) is an intentional attempt to overload a web server or web site
(D) all of the above
104. A graphical technique for finding if changes and variation in metrics data are meaningful is known as
- (A) DRE (Defect Removal Efficiency)
(B) Function points analysis
(C) Control Chart
(D) Control Flow Chart Inspection
105. Static analysis can be best described as
- (A) Reviewing of test plans (B) Analysis of batch programs
(C) Use of black box testing (D) Analysis of program code
106. You should choose sleep option when
- (A) The computer is tired after working for the whole day
(B) When you computer gets hanged frequently
(C) You are leaving for a very short time and want to resume you work shortly
(D) You finish your work and go to sleep

107. Which-one of the following statements about normal forms is FALSE?
- (A) BCNF is stricter than 3 NF
 - (B) Lossless, dependency – preserving decomposition into 3 NF is always possible
 - ☒ (C) Loss less, dependency – preserving decomposition into BCNF is always possible
 - (D) Any relation with two attributes is BCNF
108. An instance of relational schema R (A, B, C) has distinct values of A, including NULL values. Which one of the following is true?
- (A) Combination of Union and Cartesian product
 - ☒ (B) A is not a candidate key
 - (C) A is primary key
 - (D) Both (A) and (C)
109. Assume that an HTML form is designed to purchase the furniture. All the items required are being checked. After selecting the items the payment details are entered and the submit button is pressed. From the following options which one would you prefer to send the data to the server. Assume that all the security is handled.
- (A) Only POST
 - (B) Only GET
 - ☒ (C) Either GET or POST
 - (D) Neither GET nor POST
110. A new web browser window can be opened using which method of the window object?
- (A) Createtab()
 - ☒ (B) Window.open()
 - (C) Open()
 - (D) All of the above
111. Which statement(S) is/are incorrect?
- (A) Stored procedure may return a value and function must return a value
 - (B) Function has only IN parameter
 - ☒ (C) Try and Catch can be used with both stored procedure and function
 - (D) Stored procedure has IN and OUT parameter

112. Which three situations might require multiple routing protocols in a network?
- (a) When a new Layer 2-only switch is added to the network
 - (b) When you are migrating from one routing protocol to another
 - (c) When you are using routers from multiple vendors
 - (d) When there are host-based routers from multiple vendors
- (A) (a), (c), (d) (B) (b), (c), (d)
 (C) (a), (b), (d) (D) (a), (b), (c)
113. Which kind of undesirable factors are generated due to an acknowledgement process of transmission and reception of messages in any reliable services?
- (a) Overheads
 - (b) Delays
 - (c) Errors
 - (d) Interference
- (A) (a) & (b) (B) (b) & (c)
 (C) (c) & (d) (D) (b) & (d)
114. Which Map class in Java should be most popular in a multi-threading environment, considering performance constraint?
- (A) Hashtable (B) CopyonWriteMap
 (C) ConcurrentHashMap (D) ConcurrentMap
115. Which of the following is/are the right way to declare a method?
- (i) function functionName() { function body }
 - (ii) scope function functionName() { function body }
 - (iii) method methodName() { method body }
 - (iv) scope method methodName() { method body }
- (A) Only (ii) (B) Only (iv)
 (C) (i) and (ii) (D) (iii) and (iv)
116. Which of the following is not a white box technique?
- (A) State transition testing (B) Path testing
 (C) Statement testing (D) Data flow testing

117. The types of communication media used to connect different computers of a network are
- (A) Physical wires
 - (B) Wireless media like RF (Radio Frequency) devices
 - ☒ (C) Both (A) and (B)
 - (D) None
118. Banker's algorithm is used
- ☒ (A) To prevent deadlock
 - (B) To deadlock recovery
 - (C) To solve the deadlock
 - (D) None of these
119. Which of the following is known as the generic class?
- (A) Final class
 - ☒ (B) Template class
 - (C) Abstract class
 - (D) Efficient code
120. XML digital signatures provides
- ☒ (A) Authentication
 - (B) Authorization
 - (C) Integrity
 - (D) Confidentiality
121. String testing is another name for
- (A) Unit testing
 - ☒ (B) Integration testing
 - (C) Manual testing
 - (D) Atomation testing
122. Javascript classes can be initiated using which operator?
- (A) create
 - ☒ (B) new
 - (C) instantiate
 - (D) Create.new
123. Which of the following css properties can be used to align an element horizontally & vertically?
- (A) align-items: center; display: block;
 - (B) text-align: center; align-items: center; display: flex;
 - (C) align-items: center: text-align: justify;
 - ☒ (D) justify-content: center; align-items: center; display: flex

124. Which of the following protocol the Webservice supports?
(A) HTTP (B) HTTPS
(C) TCP/IP (D) FTP
125. Python is not a _____ language.
(A) Extensible (B) Object-Oriented
(C) Dynamically typed (D) Compiled
126. Which of the following ACID property ensures that multiple transactions can occur concurrently without leading to the inconsistency of database state.
(A) Atomicity (B) Consistency
(C) Isolation (D) Durability
127. Of the following data structures, which has a Last In First Out ordering? In other words, the one that came in last will be the first to be popped
(A) Queue (B) Stack
(C) Vector (D) Array List
128. Which of the following selector in CSS is used to select the elements that do not match the selectors?
(A) :! selector (B) :not selector
(C) :empty selector (D) None of the above
129. A distributed network configuration in which all data/information pass through a central computer is
(A) Bus network (B) Star network
(C) Ring network (D) Point-to-point network
130. File _____ shrinks the size of a file so it requires less storage space.
(A) Compression (B) Defragmenting
(C) Synthesizing (D) Scanning

131. A hash function guarantees the integrity of a message. It guarantees that the message has not been
- (A) Replaced
 - ☒ (C) Changed
 - (B) Overviewed
 - (D) Violated
132. Which of the following refers to internal software equality?
- (A) Scalability
 - ☒ (B) Reusability
 - (C) Reliability
 - (D) Usability
133. Which of the following is an incorrect activity for the configuration management of a software system?
- (A) Change management
 - ☒ (C) Internship management
 - (B) System management
 - (D) Version management
134. The term "TCL" stands for
- (A) Ternary Control Language
 - (B) Transmission Control Language
 - (C) Transaction Central Language
 - ☒ (D) Transaction Control Language
135. Which of the following is not part of the Test document?
- (A) Test Case
 - (B) Requirements Traceability Matrix [RTM]
 - (C) Test strategy
 - ☒ (D) Project Initiation Note [PIN]
136. Which of the following is a configuration item?
- (A) Design & Test specification
 - (B) Source code
 - (C) Log information
 - ☒ (D) All of the above

137. How to select the elements with the class name 'example'?

- (A) example
- (B) #example
- (C) .example
- (D) Class example

138. How can you open a link in a new browser window?

- (A)
- (B)
- (C)
- (D)

139. Which of the following statements is false about event handlers in JavaScript?

- (A) They can be included with input tags
- (B) They can be associated with end of file processing for a database application
- (C) They can be included with the form tag
- (D) They are generally used to call functions when triggered

140. Which character is used in Python to make a single line comment?

- (A) /
- (B) //
- (C) #
- (D) !

141. How many layers are there in the OSI reference model of networking?

- (A) 5
- (B) 6
- (C) 7
- (D) 8

142. Which one of the following is not a maintenance model?
- ☒ (A) Waterfall model (B) Reuse-oriented model
(C) Iterative enhancement model (D) Quick fix model
143. The SQL used by front-end application programs to request data from the DBMS is called
- ☒ (A) DML (B) DDL
(C) VDL (D) SDL
144. We indicate roles in E-R diagrams by labeling the lines that connect _____ to _____
- (A) Diamond, Diamond (B) Rectangle, Diamond
(C) Rectangle, Rectangle ☒ (D) Diamond, Rectangle
145. Which two features of object-oriented programming are the same?
- (A) Abstraction and Polymorphism features are the same
(B) Inheritance and Encapsulation features are the same
(C) Encapsulation and Polymorphism features are the same
☒ (D) Encapsulation and Abstraction features are the same
146. Writing and maintaining unit tests can be made faster by using
- ☒ (A) Parameterized tests (B) Traditional unit tests
(C) Test invariant conditions (D) Closed methods

147. Which of the following is true of nosql databases?
- (A) They do not support very large amounts of sparse data
 - (B) They do not support distributed database architectures
 - ☒ (C) They are not based on the relational model
 - (D) They are geared toward transaction consistency rather than performance
148. Which of the following method is only used to update resource?
- (A) POST
 - (B) PUT
 - ☒ (C) PATCH
 - (D) All the above
149. Which html tag allows the user to Zoom in or out in web page?
- ☒ (A) User-scalable
 - (B) Min-scalable
 - (C) Max-scalable
 - (D) Initial-scalable
150. MS Excel Lookup syntax
- (A) Lookup Value, Table Array, Column to Return, Approximate Match [True/False]
 - (B) Lookup Value, Lookup Array, Approximate Match [True/False]
 - ☒ (C) Lookup Value, Lookup Array, Value to Return Array
 - (D) Lookup Value, Table Array, Column to Return

SPACE FOR ROUGH WORK

SPACE FOR ROUGH WORK

A

37

MHAP 1746

[Turn over

[CLICK TO JOIN 150-HOURS FREE CLASS\(9626699743\)](#)
Er.THANGAMUTHU IPS ACADEMY

SPACE FOR ROUGH WORK

SPACE FOR ROUGH WORK

7. Each question has four responses (A) (B) (C) and (D). You have to select ONLY ONE correct answer in the OMR Answer Sheet. In case you feel that there are more than one correct answers, mark only the answer which you consider the most appropriate. In any case, choose ONLY ONE answer for each question. E.g., If for any question, B is the correct answer, you have to shade as follows:

(A) ● (C) (D)

8. The Question Booklet is printed in four series viz., (A), (B), (C) & (D). The name of the series is printed on the top of the Question Booklet. Mark and shade your correct Question Booklet series (A) / (B) / (C) / (D) carefully in the OMR answer sheet by darkening the appropriate circle without fail. In case of any wrong entry of Booklet series or discrepancy in determining the exact booklet series, then, in all cases your Answer Sheet will be invalidated.
9. You should not remove or tear off any sheet from the Question Booklet. You are not allowed to take the Question Booklet and the Answer Sheet out of the Examination Hall during the time of examination. You are permitted to take the Question Booklet only after the Examination is completed.
10. Do not write anything in the Question Booklet, except in the space provided for Rough work.
11. Failure to comply with any of the above instructions will render you liable for action or penalty as the High Court may decide at its discretion.
12. Using Whitener / Blade / Eraser or any kind of tampering to change the answers on OMR answer sheet will lead to invalidation.
13. PART C is set in both English and Tamil. If there is any inconsistency between English and Tamil version, English version shall prevail.



**PROPOSED KEY ANSWERS FOR THE WRITTEN EXAMINATION
CONDUCTED ON 15.10.2022 (SATURDAY) FOR THE POST OF DRIVER
IN THE JUDICIAL DISTRICTS OF TAMIL NADU**

(Notification Nos. 186 to 209 / 2022, dated 24.07.2022)

The proposed key answers, marked in the Question Booklet (A-Series), for the written examination conducted on 15.10.2022 (Saturday) for the post of ‘**Driver**’ in the Judicial Districts of Tamil Nadu are hosted herewith.

Any objection with regard to any of the proposed key answer should be sent by the candidates to the Registrar (Recruitment), High Court, Madras, by e-mail (recruitment.mhc@gov.in) within two days from today. In such communication, Registration Number, Name and address of the candidate, Question Booklet Series, Question Number and answer for such question, according to the candidate, with supporting material for such claim, should invariably be quoted. Any representation received after two days or without any of the above requisite particulars will receive no attention.

Dated : 20.10.2022

Sd/-

Place : High Court, Madras.

Registrar (Recruitment)

**CLICK TO JOIN 150-HOURS FREE CLASS(9626699743)
Er.THANGAMUTHU IPS ACADEMY**



தமிழ்நாடுநீதித்துறைமாவட்டங்களில் உள்ளஓட்டுநர்பணிக்கு 15.10.2022
(சனிக்கிழமை) நடைபெற்றஎழுத்துத் தேர்வின் உத்தேசவிடைகள்

(அறிவிக்கைஎண்கள் 186 – 209 / 2022, தேதி 24.07.2022)

தமிழ்நாட்டில் உள்ளகீழமைநீதிமன்றங்களில் ஓட்டுநர்பணிக்கு
15.10.2022(சனிக்கிழமை)அன்றுநடைபெற்றஎழுத்துத் தேர்வின்
வினாத்தொகுப்பு (A வரிசை) குறிக்கப்பட்டஉத்தேசவிடைகள் பதிவேற்றம்
செய்யப்பட்டுள்ளது.

உயர்நீதிமன்ற இணையதளத்தில்
வெளியிடப்பட்டுள்ளஉத்தேசவிடைகளில் ஏதேனும் ஆட்சேபனை
இருப்பின்,அதுகுறித்துசென்னைஉயர்நீதிமன்றநீதித்துறைஆட்சேர்ப்பு
பிரிவின் மின்னஞ்சல் (recruitment.mhc@gov.in)
என்றமுகவரிக்குஇன்றிலிருந்து இரண்டுநாட்களுக்குள் அனுப்பவேண்டும்.
இவ்வாறுஅனுப்பப்படும் மனுவில் தேர்வாளருடையபதிவு எண், பெயர்,
முகவரி, வினாத்தொகுப்பின் வரிசை, வினாஎண் மற்றும்
அதற்கானவிடை,உரியஆதாரத்துடன் குறிப்பிடப்பட்டிருக்கவேண்டும்.
உத்தேசவிடைகள் வெளியிடப்பட்டதேதியிலிருந்து இரண்டுநாட்களுக்குப்
பிறகுபெறப்படும் ஆட்சேபனைஅல்லதுமேலேகுறிப்பிட்டுள்ளவிவரங்கள்
குறிப்பிடப்படாமல் அனுப்பப்படும் ஆட்சேபனை, பரிசீலனைக்குஎடுத்துக்
கொள்ளப்படமாட்டாது.

தேதி : 20.10.2022

ஓம்/-

இடம் :உயர்நீதிமன்றம், மெட்ராஸ்

பதிவாளர் (ஆட்சேர்ப்பு பிரிவு)

CLICK TO JOIN 150-HOURS FREE CLASS(9626699743)
Er.THANGAMUTHU IPS ACADEMY

DJDR22

வினாத் தொகுப்பு வரிசை :

A

வினாத்தொகுப்பு எண்

274457

பதிவு எண்

அனுமதிக்கப்பட்டுள்ள நேரம் : 120 நிமிடங்கள்

மொத்த மதிப்பெண்கள் : 100

(2 மணி நேரம்)

தேர்வர்களுக்கான முக்கிய அறிவுரைகள்

வினாக்களுக்கு பதிலளிக்கும் முன் கீழ்க்கண்ட அறிவுரைகளை கவனமாகப் படிக்கவும்

1. இந்த வினாத் தொகுப்பு தேர்வு தொடங்குவதற்கு 10 நிமிடங்களுக்கு முன்னதாக விண்ணப்பதாரர்களுக்கு வழங்கப்படும்.
2. இந்த வினாத் தொகுப்பு 100 வினாக்களைக் கொண்டுள்ளது. விடையளிக்க தொடங்கும் முன் இவ்வினாத் தொகுப்பில் எல்லா வினாக்களும் வரிசையாக இடம் பெற்றுள்ளனவா என்பதையும், இடையில் ஏதும் வெற்றுத்தாள்கள் உள்ளனவா என்பதையும் சரிபார்த்துக் கொள்ளவும். ஏதேனும் குறைபாடு இருப்பின், அதனை தேர்வு தொடங்குவதற்கு முன்பு, அறை கண்காணிப்பாளரிடம் தெரிவித்து, சரியாக உள்ள அதே வரிசையில் உள்ள வேறொரு வினாத் தொகுப்பினை பெற்றுக் கொள்ள வேண்டும். தேர்வு தொடங்கிய பின்பு முறையிட்டால், வினாத் தொகுப்பு மாற்றித் தரப்படமாட்டாது.
3. பகுதி (அ) மற்றும் (ஆ)-ல் (Part A and Part B) உள்ள எல்லா வினாக்களும் சமமான மதிப்பெண்கள் கொண்டவை. ஒவ்வொரு சரியான விடைக்கும் தலா ஒரு மதிப்பெண் வழங்கப்படும். தவறான விடைக்கு மதிப்பெண் குறைக்கப்படமாட்டாது. (No Negative Mark)
4. உங்களுடைய பதிவு எண்ணை வினாத் தொகுப்பின் வலது மேல் மூலையில் அதற்கென அமைந்துள்ள இடத்தில் எழுத வேண்டும். வேறு எதையும் வினாத் தொகுப்பில் எழுதக் கூடாது.
5. விடைகளை குறித்துக்காட்ட விண்ணப்பதாரர்களின் தனிப்பயனாக்கப்பட்ட OMR விடைத்தாள் ஒன்று உங்களுக்கு அறை கண்காணிப்பாளரால் தரப்படும். OMR விடைத்தாள் ஏதேனும் குறைபாடுடையதாக இருந்தால், அதில் விடையை குறித்துக்காட்டுவதற்கு முன் உடனடியாக அறை கண்காணிப்பாளரின் கவனத்திற்குக் கொண்டு வந்து வேறொரு OMR விடைத்தாளைப் பெற்றுக்கொள்ள வேண்டும்.

மீதமுள்ள அறிவிக்கைகளை இறுதி பக்கம் பார்க்கவும்

SEAL

CLICK TO JOIN 150-HOURS FREE CLASS(9626699743)
Er.THANGAMUTHU IPS ACADEMY

123456

[CLICK TO JOIN 150-HOURS FREE CLASS\(9626699743\)](#)
[Er.THANGAMUTHU IPS ACADEMY](#)

பகுதி அ

1. 'தமிழ்த்தாய் வாழ்த்துப்' பாடலை இயற்றியவர் யார்?
(A) பாரதியார்
(B) பாரதிதாசன்
(C) ச.து.சு. யோகியார்
(D) மனோன்மனியம் பெ. சுந்தரனார்
2. 13 என்னும் எண்ணின் சரியான எழுத்து வடிவம் என்ன?
(A) பதிமூனு
(B) பதிமூன்று
(C) பதின்மூன்று
(D) பதிமூணு
3. 'அமுதென்று' என்னும் சொல்லைப் பிரித்து எழுதுக.
(A) அமுதம் + என்று
(B) அமுதம் + அன்று
(C) அமுது + என்று
(D) அமுது + அன்று
4. 'தமிழர் திருநாள்' எனப் போற்றப்படும் பண்டிகை எது?
(A) தீபாவளி
(B) ஆயுத பூஜை
(C) தைப்பொங்கல்
(D) தமிழ்ப் புத்தாண்டு
5. '_____ வழங்குமாறு கேட்டுக்கொள்கிறேன்' - கோடிட்ட இடத்தை நிரப்புக.
(A) சான்றிதல்
(B) சான்றிதழ்
(C) சான்றிதழ்
(D) சான்றிதல்
6. 'பணிவன்புடன்' என்னும் சொல்லைப் பிரித்து எழுதுக.
(A) பணி + அன்புடன்
(B) பணிவு + அன்புடன்
(C) பணி + வன்புடன்
(D) பணிவு + வன்புடன்

7. 'Lorry' – என்பதற்கு நிகரான தமிழ்ச்சொல் எது?
- (A) சிற்றுந்து (B) பேருந்து
(C) சரக்குந்து (D) மகிழுந்து
8. 'பொய்யில் புலவர்' எனப் போற்றப்படுபவர் யார்?
- (A) கம்பர் (B) திருவள்ளுவர்
(C) இளங்கோவடிகள் (D) பாரதியார்
9. திருவள்ளுவர் சிலை 133 அடியளவில் அமைந்துள்ள ஊர் எது?
- (A) சென்னை (B) மயிலாப்பூர்
(C) கன்னியாகுமரி (D) பெங்களூரு
10. 'தொடுதொடு' – இலக்கணக் குறிப்பு வரைக.
- (A) இரட்டைக்கிளவி (B) உரிச்சொல்
(C) இடைச்சொல் (D) அடுக்குத் தொடர்
11. 'பிளிறும்' விலங்கு எது?
- (A) புலி (B) யானை
(C) சிங்கம் (D) கரடி
12. யாழ் எனப்படுவது
- (A) தோல் கருவி (B) நரம்புக் கருவி
(C) காற்றுக் கருவி (D) கஞ்சக் கருவி

13. 'மேடுபள்ளம்' என்பது

(A) பழமொழி

(C) மரபுத் தொடர்

(B) எதிரிணைச்சொல்

(D) சொல்வடை

14. சரியான சொல்லைத் தேர்ந்தெடுக்க.

(A) இயக்குனர்

(C) இயக்குநர்

(B) இயக்குணர்

(D) இயக்குன்னர்

15. மொழியைத் தெளிவுறப் பேசவும் எழுதவும் உதவுவது

(A) இலக்கணம்

(C) உரைநடை

(B) கவிதை

(D) காப்பியம்

16. கண்காணிப்புக் கருவி பயன்படுத்தும் அறிவு

(A) இயற்கை நுண்ணறிவு

(C) உண்மை அறிவு

(B) செயற்கை நுண்ணறிவு

(D) ஆறாம் அறிவு

17. விருந்தும் மருந்தும் ————— வேளை.

(A) இரண்டே

(C) ஒரே

(B) மூன்றே

(D) நான்கே

18. 'முயற்சி திருவினை ஆக்கும்' என்பது

(A) ஒரு பழமொழி

(C) திருக்குறள் தொடர்

(B) ஆத்திசூடி

(D) கொன்றைவேந்தன்

19. 'Internet' என்பதன் தமிழாக்கம் என்ன?

(A) இன்டர்நெட்

(C) இணையம்

(B) வலைத்தளம்

(D) அகன்ற அலைவரிசை

20. '————— தன்னை உலகினுக்கே தந்து வான்புகழ் கொண்ட தமிழ்நாடு' – கோடிட்ட இடத்தை நிரப்புக.
- (A) தொல்காப்பியன் (B) வள்ளுவன்
(C) வள்ளலார் (D) கம்பன்
21. தேவராட்டத்திற்குரிய இசைக்கருவி எது?
- (A) குழல் (B) யாழ்
(C) தேவ துந்துபி (D) தப்பு
22. காடும் காடுசார்ந்த இடமும்
- (A) குறிஞ்சி (B) முல்லை
(C) மருதம் (D) நெய்தல்
23. பதினெண்கீழ்க்கணக்கு நூல்களுள் ஒன்று எது?
- (A) நற்றிணை (B) நன்னெறி
(C) திருக்குறள் (D) நல்வழி
24. மெய் எழுத்துக்கள் மொத்தம் எத்தனை?
- (A) 12 (B) 18
(C) 01 (D) 216
25. 'மாலவன் குன்றம்' என்பது
- (A) திருத்தணி (B) திருப்பரங்குன்றம்
(C) திருவேங்கடம் (D) சுவாமிமலை

26. உதடுகள் இரண்டும் பொருந்துவதால் பிறக்கும் எழுத்துக்கள்

(A)

ப், ம்

(B) ய், ர்

(C)

க், ங்

(D) த், ந்

27. சரியான அகர வரிசையைத் தேர்ந்தெடுக்க.

(A)

உழவு, மண், ஏர், மாடு

(B)

மண், மாடு, ஏர், உழவு

(C)

உழவு, ஏர், மண், மாடு

(D)

ஏர், உழவு, மாடு, மண்

28. பெண்மையை முதன்மைப்படுத்தும் புரட்சிக்காப்பியம் எது?

(A)

சிலப்பதிகாரம்

(B)

குண்டலகேசி

(C)

மணிமேகலை

(D)

வளையாபதி

29. காலத்தைக் காட்டும் சொல் எது?

(A)

பெயர்ச்சொல்

(B)

வினைச்சொல்

(C)

இடைச்சொல்

(D)

உரிச்சொல்

30. 'ஒரு பைசாத்தமிழன்' என்னும் வார இதழைத் தொடங்கியவர் யார்?

(A)

பாரதியார்

(B)

பாரதிதாசன்

(C)

கண்ணதாசன்

(D)

அயோத்திதாசர்

31. தமிழ்நாட்டின் மாநில மரம் எது?

- (A) ஆலமரம் (B) தென்னை மரம்
(C) பனை மரம் (D) மாமரம்

32. கண்ணதாசனின் இயற்பெயர் என்ன?

- (A) சுப்பிரமணியம் (B) மாணிக்கம்
(C) முத்தையா (D) கனக சுப்புரத்தினம்

33. வேறுபட்டதை நீக்குக.

- (A) யாழ் (B) முழவு
(C) பறை (D) பண்

34. _____ உயிரினும் ஒம்பப்படும்.

- (A) ஒழுக்கம் (B) உணவு
(C) செல்வம் (D) நட்பு

35. பொருத்துக.

- அ. பொருட்பெயர் – 1. கோவில், வடலூர்
ஆ. இடப்பெயர் – 2. தலை, கால்
இ. காலப்பெயர் – 3. புத்தகம், கதவு
ஈ. சினைப்பெயர் – 4. பகல், இரவு

- (A) (அ)3, (ஆ)1, (இ)4, (ஈ)2
(B) (அ)4, (ஆ)1, (இ)2, (ஈ)3
(C) (அ)2, (ஆ)3, (இ)1, (ஈ)4
(D) (அ)1, (ஆ)2, (இ)3, (ஈ)4

36. 'தமிழ் தென்றல்' எனப் போற்றப்படுபவர் யார்?

(A) விபுலானந்த அடிகள்

(B) க. கைலாசபதி

(C) திரு.வி.க.

(D) எஸ். வையாபுரிப் பிள்ளை

37. ஆண்கள் மட்டும் ஆடக்கூடிய நடனம் எது?

(A) கரகாட்டம்

(B) மயிலாட்டம்

(C) காவடியாட்டம்

(D) தேவராட்டம்

38. பராபரம் என்ற சொல்லின் பொருள் என்ன?

(A) இன்பப்பெருக்கு

(B) ஆனந்தப்பெருக்கு

(C) இறையானந்தம்

(D) மேலான பொருள்

39. 'தீயணைப்பு' – பிரித்து எழுதுக.

(A) தீ + யணைப்பு

(B) தீயணை + பு

(C) தீயணைப் + பு

(D) தீ + அணைப்பு

40. 'ஐ' என்னும் ஒரெழுத்து மொழியின் பொருள் என்ன?

(A) தலைவன்

(B) அம்பு

(C) இறைச்சி

(D) மலர்

41. ஒலியின் வரிவடிவம் எது?

(A) பேச்சு

(B) பாட்டு

(C) உரை

(D) எழுத்து

42. 'மாயோன்' எனக் குறிப்பிடப்படும் தெய்வம்

(A) திருமால்

(B) சேயோன்

(C) வேந்தன்

(D) வருணன்

43. ஒரே நேரத்தில் நிகழ்த்தப்படும் நூறு செயல்கள் எவ்வாறு அழைக்கப்படுகிறது?

(A) அஷ்டாவதானம்

(B) தசாவதானம்

(C) சோடஷாவதானம்

(D) சதாவதானம்

44. 'விசம்பு' என்னும் சொல்லின் பொருள் என்ன?

(A) நிலம்

(B) நீர்

(C) வான்

(D) தீ

45. திருவெம்பாவை, திருப்பாவை பாடல் வரிகளைத் தாய்மொழியில் எழுதிவைத்து பாடும் நாடு எது?

(A) சிங்கப்பூர்

(B) தாய்லாந்து

(C) மலேசியா

(D) மியான்மர்

46. 'பொன்னேர் பூட்டுதல்' நடைபெறும் மாதம் எது?

- (A) சித்திரை (B) வைகாசி
(C) ஆடி (D) தை

47. கீழ்க்கண்டவற்றில் பாரதியார் ஆசிரியராகப் பணியாற்றிய இதழ்கள் எவை?

- (A) இந்தியா, சுதேசமித்ரன் (B) ஆனந்த விகடன், கணையாழி
(C) கசடதபுற, மணிக்கொடி (D) தேசபக்தன், கலாமோகினி

48. 'ஊழி' என்னும் சொல்லின் பொருள் என்ன?

- (A) யுகம் (B) கடல்
(C) வானம் (D) பூமி

49. செய்தி-1 : செயற்கை நுண்ணறிவு என்பது ஒரு மென்பொருள் அல்லது கணினிச் செயல்திட்ட வரைவாகும்.

செய்தி-2 : மனிதனால் செய்ய முடியாததைச் செய்கிறது.

செய்தி-3 : செயற்கை நுண்ணறிவு கணினி மனிதரைப் போல் தானே முடிவெடுக்கும்.

- (A) 1,2 சரி (B) 1,3 சரி
(C) 2,3 சரி (D) 3,1 சரி

50. 'ஓதாமல் ஒருநாளும் இருக்க வேண்டாம்

ஒருவரையும் பொல்லாங்கு சொல்ல வேண்டாம்' என கூறியவர் யார்?

- (A) ஓளவையார் (B) முனைப்பாடியார்
(C) உலகநாத பண்டிதர் (D) பாரதியார்

பகுதி ஆ

51. வீடுகளில் இயற்கையான முறையில் ————— பயன்படுத்தி பூச்சிகளை தடுக்கலாம்.
- (A) துளசி இலை (B) களைக்கொள்ளி
(C) வேப்ப இலை (D) (A) அல்லது (C)
52. பருவமுதிர்ச்சியின் போது ————— அகன்று ஒலி மாறுபடும்.
- (A) குரல்வளை (B) தசைகள்
(C) தைராய்டு (D) மூச்சுக்குழாய்
53. கீழ்க்கண்டவற்றில் எதனை பயன்படுத்தி உராய்வை குறைக்கலாம்?
- (A) டயர்களில் கோடு கோடான பள்ளங்கள் ஏற்படுத்துவதன் மூலம்
(B) இடைவெளிகளில் கற்களை தூவுவதன் மூலம்
(C) பரப்புகளை வழுவழுப்பாக்குவதன் மூலம்
(D) நல்ல பிணைப்பை ஏற்படுத்துவதன் மூலம்
54. ————— உலகிலேயே மிகப்பெரிய பள்ளிவாசல்களில் ஒன்றாக கருதப்படுகிறது.
- (A) நாகூர் தர்கா (B) மெக்கா மசூதி
(C) அதினா மசூதி (D) ஜும்மா மசூதி
55. தமிழ்நாட்டிலுள்ள நெய்வேலியிலிருந்து ————— அதிகமாக கிடைக்கிறது.
- (A) ஆன்ட்ராஸைட் (B) பழுப்பு நிலக்கரி
(C) மணல் பாறை (D) எரிபொருள்

56. _____ வயதிற்குட்பட்டவர்கள் குழந்தைத் தொழிலாளர்கள் என அழைக்கப்படுகிறார்கள்.

(A) 18

(B) 12

(C) 14

(D) 16

57. பித்த நீர் எந்நிறத்தை உடையது?

(A) மஞ்சள்

(B) பச்சை

(C) சிவப்பு

(D) நிறமற்றது

58. இந்தியாவின் மிக உயர்ந்த இலக்கிய விருது எது?

(A) பத்மபூஷன் விருது

(B) கலைமாமணி விருது

(C) ஞானபீட விருது

(D) சாகித்ய அகாடமி விருது

59. இந்தியா முதல் அணுகுண்டு சோதனை நடத்திய இடம்

(A) ஸ்ரீஹரிகோட்டா

(B) டிராம்பே

(C) பொக்ரான்

(D) தாராப்பூர்

60. இரவு நேரத்தில் வாகனத்தை சாலை ஓரத்தில் நிறுத்தும்போது

(A) வாகனம் பூட்டப்பட வேண்டும்

(B) ஓட்டுநர் வாகனத்தை விட்டு செல்லக்கூடாது

(C) வாகன நிறுத்தத்திற்குரிய விளக்கு தொடர்ந்து ஒளிர வேண்டும்

(D) வாகனத்தை செங்குத்தாக நிறுத்த வேண்டும்

61. மூடுபனி விளக்குகள் எப்போது பயன்படுத்தப்படுகின்றன?

(A) பகலில்

(B) மூடுபனி இருக்கும்போது

(C) எதிரே வரும் வாகனம் மங்கலான ஒளியைப் பயன்படுத்தாதபோது

(D) இரவு நேரத்தில்

62. வாகனத்தில் எரிபொருள் நிரப்பும்போது நாம் ————— கூடாது.


(A) ஹெட்லைட் பயன்படுத்துவது

(B) ஒளியை எழுப்புவது

(C) வாகனத்தின் உள்ளே விளக்கை பயன்படுத்துவது

(D) புகை பிடிப்பது

63. பின்வரும் போக்குவரத்து குறியீடு குறிப்பது



(A) இடதுபுறம் திரும்ப தடை

(B) இடதுபுறம் திரும்பு

(C) முந்தி செல்ல தடை

(D) வழி தடைசெய்யப்பட்டுள்ளது

64. ஆளில்லா இரயில்வே பாதையை கடக்கும்போது, ஓட்டுநர் கண்டிப்பாக

(A) ஒலி எழுப்பி வாகனத்தை இயக்க வேண்டும்

(B) நிறுத்தி, கவனித்து பாதுகாப்பாக இருந்தால் வாகனத்தை இயக்க வேண்டும்

(C) மெதுவாக வாகனத்தை இயக்க வேண்டும்

(D) உடனடியாக வாகனத்தை இயக்க வேண்டும்

65. பின்வரும் போக்குவரத்து குறியீடு எதனை குறிக்கிறது?



- (A) மோட்டார் வாகனங்கள் செல்ல தடை
- (B) வாகனங்களை நிறுத்த தடை
- (C) மோட்டார் வாகனங்கள் மற்றும் கார்கள் செல்லலாம்
- ☒ (D) மோட்டார் வாகனங்கள் மற்றும் கார்கள் செல்ல தடை

66. புதிய வாகனத்திற்கு மாசு கட்டுப்பாட்டுச் சான்றிதழ் செல்லுபடியாகும் காலம்

- (A) ஆறு மாதங்கள்
- ☒ (B) ஓர் ஆண்டு
- (C) இரண்டு வருடங்கள்
- (D) மூன்று மாதங்கள்

67. வாகனங்களை எங்கு நிறுத்த தடைசெய்யப்பட்டுள்ளது?

- (A) மற்றொரு காருக்கு முன்னால்
- ☒ (B) நடைபாதையில்
- (C) ஒரு வழி பாதையில்
- (D) வாகனங்களை நிறுத்தும் இடத்தில்

68. பார்வையற்ற ஒருவர் வெள்ளை நிற கைத்தடியுடன் (வாக்கிங் ஸ்டிக்) சாலையைக் கடக்கும்போது, ஓட்டுநர்

- (A) ஒலியை எழுப்பி வாகனத்தை இயக்கலாம்
- (B) வேகத்தைக் குறைத்து எச்சரிக்கையுடன் வாகனத்தை இயக்கலாம்
- ☒ (C) வெள்ளை நிற கைத்தடியை வாகனத்தை நிறுத்தும் போக்குவரத்துச் சமிக்ஞையாக கருத வேண்டும்
- (D) போக்குவரத்து சமிக்ஞை இல்லை என்றால் வாகனத்தை இயக்கலாம்

69. சாலையில் தொடர்ந்து மஞ்சள் நிற கோடு இடப்பட்ட இடத்தில், கண்டிப்பாக

- (A) வாகனம் மஞ்சள் நிறக்கோட்டை தொடவோ கடக்கவோ கூடாது
- (B) வாகனத்தை நிறுத்தி பச்சை விளக்கு தோன்றும் வரையில் காத்திருக்கவும்
- (C) வாகனத்தின் வேகத்தைக் குறைத்து பாதுகாப்பாக இருந்தால் இயக்கலாம்
- (D) எந்த எச்சரிக்கையும் தேவையில்லை

70. வாகனத்தை பின்னே இயக்க தடைசெய்யப்பட்ட சாலையின் பெயரைக் குறிப்பிடவும்

- (A) செங்குத்தாக ஏறும் சாலை
- (B) செங்குத்தாக இறங்கும் சாலை
- (C) ஒருவழிச் சாலை
- (D) நெடுஞ்சாலை

71. மினுமினுக்கும் (பிளிங்கிங்) சிவப்பு நிற போக்குவரத்து சமிக்கை எதனை குறிக்கிறது?

- (A) போக்குவரத்து சமிக்கைகள் சரியாக இயங்கவில்லை
- (B) போக்குவரத்து சமிக்கையை சரிபார்க்க தேவையில்லை
- (C) பச்சை விளக்கு தோன்றும் வரை வாகனத்தை நிறுத்தவும்
- (D) வாகனத்தை நிறுத்தி பாதுகாப்பாக இருந்தால் தொடரவும்

72. ஒரு வாகனத்தை முந்திச் செல்லும் போது, ஓட்டுநர்

- (A) வேகத்தை அதிகரிக்கக் கூடாது
- (B) வேகத்தை அதிகரிக்கலாம்
- (C) எச்சரிக்கையுடன் வேகத்தை அதிகரிக்கலாம்
- (D) வாகனத்தை நிறுத்த வேண்டும்

73. பின்வரும் போக்குவரத்து குறியீட்டின் பொருள் என்ன?



- (A) குடிபோதையில் வாகனம் ஓட்டக்கூடாது
- (B) வழக்கும் வழி பாதை
- (C) சரளைக் கற்கள் உள்ள பாதை
- (D) கோணல் மாணலான பாதை

74. பதிவு செய்யப்படாத வாகனத்தை பொது இடத்தில் பயன்படுத்துவது

- (A) சட்டப்படியானது ஏதேனும் அவசரம் இருந்தால்
- (B) சட்டப்பூர்வமானது
- (C) சட்டத்திற்கு புறம்பானது
- (D) தடையில்லை

75. இருசக்கர வாகன ஓட்டுநர் உரிமம் பெறுவதற்கான குறைந்தபட்ச வயது

- (A) 16
- (B) 14
- (C) 25
- (D) 20

76. வாகனத்தை நிறுத்தும்போது பின்வருவனவற்றில் எது பயன்படுத்தப்படுகிறது?

- (A) கை பிரேக்
- (B) இருக்கை பெல்ட்
- (C) பக்கவாட்டில் உள்ள கண்ணாடிகள்
- (D) காற்று திரை

77. பின்புறக் கண்ணாடி (ரியர் வியூ மிரர்) எதற்கு பயன்படுகிறது?

- (A) முகம் பார்ப்பதற்கு
- (B) பின்வரும் வாகனங்களை பார்ப்பதற்கு
- (C) பின் இருக்கையில் அமர்ந்து இருக்கும் பயணிகளை பார்ப்பதற்கு
- (D) அலங்காரப் பொருட்களை தொங்கவிடுவதற்கு

78. வரிக்கடவை (ஜீப்ரா கிராஸிங்) எதற்கு பயன்படுகிறது?

- (A) வாகனங்களை நிறுத்துவதற்கு
- (B) வாகனம் செல்ல முன்னுரிமை அளிப்பதற்கு
- (C) வாகனங்கள், வேகத்தை குறைப்பதற்கு
- (D) பாதசாரிகள் சாலையை கடந்து செல்வதற்கு

79. வாகனம் ஓட்டும்போது ஓட்டுநர் எப்போதும் ————— அணிந்திருக்க வேண்டும்.

- (A) இருக்கை பெல்ட்
- (B) காலணிகள்
- (C) சீருடை
- (D) கையுறைகள்

80. வாகனம் ஓட்டும்போது பின்வரும் எந்தப் பொருளை பயன்படுத்துவது தடைசெய்யப்பட்டுள்ளது?

- (A) கண்ணாடிகள்
- (B) கைப்பேசி
- (C) கைக்கடிகாரம்
- (D) மேற்கூறிய எதுவும் இல்லை

81. இயல்பாக ஒரு நபர், ஒரு நிமிடத்திற்கு எத்தனை முறை சுவாசிப்பார்?

- (A) 30-60
- (B) 8-10
- (C) 12-20
- (D) 20-40

82. மயங்கி விழுந்த ஒருவரை மீட்க உடனடியாக நாம் என்ன செய்ய வேண்டும்?

- (A) சமநிலையில் படுக்கவைக்க வேண்டும்
- (B) நாற்காலியில் உட்கார வைக்க வேண்டும்
- (C) நிமிர்ந்து நிற்க வைக்க வேண்டும்
- (D) கால்களை உயர்த்திய நிலையில் படுக்க வைக்க வேண்டும்

83. ஒருவருக்கு மூக்கில் இரத்தம் வந்தால் அவருடைய தலை எந்த நிலையில் இருக்க வேண்டும்?

- (A) தலையை முன்னோக்கி சாய்த்தல்
- (B) தலையை பக்கமாக சாய்த்தல்
- (C) தலையை அதே நிலையில் வைத்தல்
- (D) தலையை பின்னோக்கி சாய்த்தல்

84. இந்தியாவில் 44வது செஸ் ஒலிம்பியாட் எந்த மாநிலத்தில் நடைபெற்றது?

- (A) கர்நாடகா
- (B) உத்திரபிரதேசம்
- (C) தமிழ்நாடு
- (D) டெல்லி

85. தமிழ்நாடு காவல்துறையின் சேவையை அங்கீகரிக்கும் வகையில், இந்திய துணைக் குடியரசுத் தலைவரால் தமிழக முதல்வருக்கு ————— வழங்கப்பட்டது.

- (A) பதக்கம்
- (B) சிறப்பு பேட்ஜ்
- (C) குடியரசுத் தலைவர் கொடி
- (D) நினைவு பரிசுகள்

86. தமிழ்நாட்டிற்கு மழை கிடைப்பது

- (A) தென்கிழக்கு பருவமழையால்
- (B) தென்மேற்கு பருவமழையால்
- (C) வடகிழக்கு பருவமழையால்
- (D) வடமேற்கு பருவமழையால்

87. பென்சில் தயாரிக்க ————— பயன்படுகிறது.

- (A) கார்பன்
- (B) கிராபைட்
- (C) கருப்பு மை
- (D) கார்பைட்

88. இந்திய உச்சநீதிமன்றம் எங்கு அமைந்துள்ளது?

- (A) மகாராஷ்டிரா
- (B) உத்திரபிரதேசம்
- (C) புதுடில்லி
- (D) மத்தியபிரதேசம்

89. ஒரு சவரன் (பவுன்) என்பது எத்தனை கிராம்?

(A) 7 கிராம்

(B) 5 கிராம்

(C) 8 கிராம்

(D) 4 கிராம்

90. வானவில்லில் உள்ள 7 வண்ணங்களில் நடுவில் உள்ள வண்ணம் எது?

(A) பச்சை

(B) ஊதா

(C) சிவப்பு

(D) நீலம்

91. எதையும் புரிந்து கொண்டு செயல்படும் ஆற்றலின் பெயர் என்ன?

(A) தூலங்கள்

(B) தூண்டல்

(C) நுண்ணறிவு

(D) ஆளுமை

92. இந்தியாவின் தலைசிறந்த கணித மேதை யார்?

(A) சர் சி.வி. ராமன்

(B) இராமானுஜம்

(C) ஜான் நேப்பியர்

(D) சர் ஹம்பிரி டேவி

93. கீழ்க்கண்டவற்றில் எதனை தயாரிக்க மரம் மூலப்பொருளாக பயன்படுத்தப்படுகிறது?

(A) கண்ணாடி

(B) மருந்து

(C) காகிதம்

(D) உடை

94. 500 கிராம் எடையுள்ள ஒரு பார்சலுக்கு கொரியர் கட்டணம் ரூ. 60/- எனில், 5.5 கிலோகிராம் எடையுள்ள பார்சலுக்கு எவ்வளவு கட்டணம்?

(A) ரூ. 660/-

(B) ரூ. 360/-

(C) ரூ. 500/-

(D) ரூ. 560/-

95. சமர் தனது மாதச் சம்பளத்தில் 52% ஐ வீட்டுச் செலவுக்காகச் செலவிடுகிறார் மற்றும் இதர செலவினங்களுக்கு 23% ஐ செலவிடுகிறார். அவரிடம் ரூ. 4,500/- மீதமுள்ளது எனில், அவருடைய மாத சம்பளம் என்ன?
- (A) ரூ. 16,000/- (B) ரூ. 17,500/-
(C) ரூ. 17,000/- (D) ரூ. 18,000/-
96. கங்கை நதியின் மிகப்பெரிய துணையாறு எது?
- (A) காக்ரா (B) காண்டக்
(C) யமுனா (D) தாமோதர்
97. 1056 என்ற எண்ணுடன் எந்த குறைந்தபட்ச எண்ணை சேர்த்தால், அதனுடைய கூட்டுத்தொகை முழுமையாக 23ஆல் வகுபடும்?
- (A) 2 (B) 3
(C) 18 (D) 21
98. எண் தொடரை முடிக்கவும்.
2, 7, 14, 23, ?, 47
- (A) 31 (B) 28
(C) 34 (D) 38
99. காமன் வெல்த் விளையாட்டு, 2022 எங்கு நடைபெற்றது?
- (A) இந்தியா (B) இங்கிலாந்து
(C) ஆஸ்திரேலியா (D) ஜப்பான்
100. ஆகஸ்ட் 15, 2022 இந்தியாவின் ————— சுதந்திர தினம்
- (A) 72^{வது} (B) 74^{வது}
(C) 75^{வது} (D) 76^{வது}

குறிப்புகள் எழுதி பார்ப்பதற்கான இடம்

குறிப்புகள் எழுதி பார்ப்பதற்கான இடம்

A

23

DJDR22
[Turn over

[CLICK TO JOIN 150-HOURS FREE CLASS\(9626699743\)](https://www.thangamuthuipsacademy.com)
Er.THANGAMUTHU IPS ACADEMY

6. உங்களுடைய வினாத்தொகுப்பு எண் (Question Booklet Number) மற்றும் அதன் வரிசையை விடைத்தாளின் முதல் பக்கத்தில் அதற்கென அமைந்துள்ள இடத்தில் நீலம் அல்லது கருமை நிறமுடைய பந்துமுனைப் பேனாவினால் குறித்துக் காட்ட வேண்டும்.
7. ஒவ்வொரு வினாவும் (A), (B), (C) மற்றும் (D) என நான்கு விடைகளைக் கொண்டுள்ளது. நீங்கள், அவைகளில் ஒரே ஒரு சரியான விடையைத் தேர்வு செய்யவேண்டும். ஒன்றுக்கு மேற்பட்ட சரியான விடைகள் ஒரு கேள்விக்கு இருப்பதாகக் கருதினால் நீங்கள் மிகச் சரியானது என்று எதைக் கருதுகிறீர்களோ அந்த விடையைத்தான் விடைத்தாளில் குறித்துக் காட்ட வேண்டும். எப்படியாயினும் ஒரு கேள்விக்கு ஒரே ஒரு விடையைத்தான் தேர்ந்தெடுக்க வேண்டும்.
8. விடைத்தாளில் ஒவ்வொரு கேள்வி எண்ணிற்கும் எதிரில் (A), (B), (C) மற்றும் (D) என நான்கு வட்டங்கள் உள்ளன. ஒரு கேள்விக்கு விடையளிக்க நீங்கள் சரியென கருதும் விடையை ஒரே ஒரு வட்டத்தில் மட்டும் நீலம் அல்லது கருமை நிறமுடைய பந்து முனைப் பேனாவினால் குறித்துக் காட்ட வேண்டும். ஒவ்வொரு கேள்விக்கும் ஒரு விடையைத் தேர்ந்தெடுத்து விடைத்தாளில் குறிக்க வேண்டும். ஒரு கேள்விக்கு ஒன்றுக்கு மேற்பட்ட விடையளித்தால் அதில் ஒன்று சரியாக இருந்தாலும் அந்த விடை தவறானதாகக் கருதப்படும். உதாரணமாக நீங்கள் (C) என்பதை சரியான விடையாகக் கருதினால் அதை பின்வருமாறு குறித்துக் காட்ட வேண்டும்.
- (A) (B) ● (D)
9. நீங்கள் வினாத் தொகுப்பின் எந்தப் பக்கத்தையும் நீக்கவோ அல்லது கிழிக்கவோ கூடாது. தேர்வு நேரத்தில் இந்த வினாத் தொகுப்பினையோ அல்லது விடைத்தாளையோ தேர்வுக் கூடத்தை விட்டு வெளியில் எடுத்துச் செல்லக்கூடாது. தேர்வு முடிந்தபின் உங்களுடைய விடைத்தாளைக் கண்காணிப்பாளரிடம் கொடுத்து விட வேண்டும். இவ்வினாத் தொகுப்பினைத் தேர்வு முடிந்தவுடன் நீங்கள் எடுத்துச் செல்லலாம்.
10. குறிப்புகள் எழுதிப் பார்ப்பதற்கு வினாத் தொகுப்பின் கடைசிப் பக்கத்திற்கு முன்பக்கத்தை உபயோகித்துக் கொள்ளலாம்.
11. மேலே உள்ள எந்த அறிவுறுத்தல்களுக்கும் இணங்கத் தவறினால், உயர்நீதிமன்றம் முடிவெடுக்கும் எந்த ஒரு நடவடிக்கை அல்லது தண்டனைக்கு நீங்கள் பொறுப்பாவீர்கள்.



**PROPOSED KEY ANSWERS FOR THE COMMON WRITTEN
EXAMINATION CONDUCTED ON 16.10.2022 (SUNDAY) FOR THE
POSTS OF EXAMINER, READER, ETC., IN THE JUDICIAL DISTRICTS
OF TAMIL NADU**

(Notification Nos. 154 to 185 / 2022, dated 24.07.2022)

The proposed key answers, marked in the Question Booklet (A-Series), for the common written examination conducted on 16.10.2022 (Sunday) for the posts of ‘**Examiner, Reader, etc.,**’ in the Judicial Districts of Tamil Nadu are hosted herewith.

Any objection with regard to any of the proposed key answer should be sent by the candidates to the Registrar (Recruitment), High Court, Madras, by e-mail (recruitment.mhc@gov.in) within two days from today. In such communication, Registration Number, Name and address of the candidate, Question Booklet Series, Question Number and answer for such question, according to the candidate, with supporting material for such claim, should invariably be quoted. Any representation received after two days or without any of the above requisite particulars will receive no attention.

Dated : 20.10.2022

Sd/-

Place : High Court, Madras.

Registrar (Recruitment)

**CLICK TO JOIN 150-HOURS FREE CLASS(9626699743)
Er.THANGAMUTHU IPS ACADEMY**



தமிழ்நாடு நீதித்துறை மாவட்டங்களில் உள்ள நகல் பரிசோதகர், நகல் வாசிப்பாளர் உள்ளிட்ட பணியிடங்களுக்கு 16.10.2022 (ஞாயிற்றுக்கிழமை) நடைபெற்ற பொது எழுத்துத் தேர்வின் உத்தேச விடைகள்

(அறிவிக்கை எண்கள் 154- 185/ 2022, தேதி 24.07.2022)

தமிழ்நாட்டில் உள்ள கீழமை நீதிமன்றங்களில் நகல் பரிசோதகர், நகல் வாசிப்பாளர் உள்ளிட்ட பணியிடங்களுக்கு 16.10.2022 (ஞாயிற்றுக்கிழமை) அன்று நடைபெற்றபொது எழுத்துத் தேர்வின் வினாத்தொகுப்பு (A-வரிசை) குறிக்கப்பட்ட உத்தேச விடைகள் பதிவேற்றம் செய்யப்பட்டுள்ளது.

உயர்நீதிமன்ற இணையதளத்தில் வெளியிடப்பட்டுள்ள உத்தேச விடைகளில் ஏதேனும் ஆட்சேபனை இருப்பின், அதுகுறித்து சென்னை உயர்நீதிமன்ற நீதித்துறை ஆட்சேர்ப்பு பிரிவின் மின்னஞ்சல் (recruitment.mhc@gov.in) என்ற முகவரிக்கு இன்றிலிருந்து இரண்டு நாட்களுக்குள் அனுப்ப வேண்டும். இவ்வாறு அனுப்பப்படும் மனுவில் தேர்வாளருடைய பதிவு எண், பெயர், முகவரி, வினாத்தொகுப்பின் வரிசை, வினா எண் மற்றும் அதற்கான விடை, உரிய ஆதாரத்துடன் குறிப்பிடப்பட்டிருக்க வேண்டும். உத்தேச விடைகள் வெளியிடப்பட்ட தேதியிலிருந்து இரண்டு நாட்களுக்குப் பிறகு பெறப்படும் ஆட்சேபனை அல்லது மேலே குறிப்பிட்டுள்ள விவரங்கள் குறிப்பிடப்படாமல் அனுப்பப்படும் ஆட்சேபனை, பரிசீலனைக்கு எடுத்துக் கொள்ளப்படமாட்டாது.

தேதி :20.10.2022

ஓம்/-

இடம் :உயர்நீதிமன்றம், மெட்ராஸ்

பதிவாளர் (ஆட்சேர்ப்பு பிரிவு)

**CLICK TO JOIN 150-HOURS FREE CLASS(9626699743)
Er.THANGAMUTHU IPS ACADEMY**

DJRE22

Booklet Series :

A

Booklet No.

111877

Register No.

Time : 150 Minutes (2½ Hours)

Maximum Marks: 150

IMPORTANT INSTRUCTIONS TO CANDIDATES

தேர்வர்களுக்கான முக்கிய அறிவுரைகள்

Read the following instructions carefully before you begin to answer the questions.

வினாக்களுக்கு பதிலளிக்கும் முன் கீழ்க்கண்ட அறிவுரைகளை கவனமாகப் படிக்கவும்

1. The Candidate will be supplied with Question Booklet 10 minutes before commencement of the examination.
இந்த வினாத் தொகுப்பு தேர்வு தொடங்குவதற்கு 10 நிமிடங்களுக்கு முன்னதாக விண்ணப்பதாரர்களுக்கு வழங்கப்படும்.
2. This Question Booklet contains 150 objective type questions. Before answering, the candidates are requested to check whether all the questions are in seriatim and ensure that there are no blank pages in the question booklet. In case any defect is noticed, it shall be reported to the Invigilator within first 10 minutes and get it replaced with a new same series Question Booklet. After 10 minutes of the commencement of the examination, it will not be replaced.
இந்த வினாத் தொகுப்பு 150 வினாக்களைக் கொண்டுள்ளது. விடையளிக்க தொடங்கும் முன் இவ்வினாத் தொகுப்பில் எல்லா வினாக்களும் வரிசையாக இடம் பெற்றுள்ளனவா என்பதையும், இடையில் ஏதும் வெற்றுத்தாள்கள் உள்ளனவா என்பதையும் சரிபார்த்துக் கொள்ளவும். ஏதேனும் குறைபாடு இருப்பின், அதனை தேர்வு தொடங்குவதற்கு முன்பு முதல் 10 நிமிடத்திற்குள் அறை கண்காணிப்பாளரிடம் தெரிவித்து, சரியாக உள்ள அதே வரிசையுள்ள வேறொரு வினாத் தொகுப்பினை பெற்றுக் கொள்ள வேண்டும். தேர்வு தொடங்கிய 10 நிமிடத்திற்கு பின்பு முறையிட்டால், வினாத் தொகுப்பு மாற்றித் தரப்படமாட்டாது.
3. All Questions in Part (A) and Part (B) carry equal marks. One mark will be awarded for each correct answer. Marks will not be deducted for wrong answer. (No Negative Mark)
பகுதி (அ) மற்றும் (ஆ)-ல் (Part A and Part B) உள்ள எல்லா வினாக்களும் சமமான மதிப்பெண்கள் கொண்டவை. ஒவ்வொரு சரியான விடைக்கும் தலா ஒரு மதிப்பெண் வழங்கப்படும். தவறான விடைக்கு மதிப்பெண் குறைக்கப்படமாட்டாது. (No Negative Mark)
4. You must write your Register Number in the space provided on the top right side of the first page of this booklet without fail. Do not write anything else in the Question Booklet.
உங்களுடைய பதிவு எண்ணை வினாத்தொகுப்பின் வலது மேல் மூலையில் அதற்கென அமைந்துள்ள இடத்தில் எழுத வேண்டும். வேறு எதையும் வினாத் தொகுப்பில் எழுதக் கூடாது.

Please see the last page of this booklet for rest of the instructions /

மீதமுள்ள அறிவிக்கைகளை இறுதி பக்கம் பார்க்கவும்.

SEAL

CLICK TO JOIN 150-HOURS FREE CLASS(9626699743)
Er.THANGAMUTHU IPS ACADEMY

8111

DJRE22

2

A

[CLICK TO JOIN 150-HOURS FREE CLASS\(9626699743\)](#)
[Er.THANGAMUTHU IPS ACADEMY](#)

PART A

1. 'விருந்தினரும், வறியவரும் நெருங்கி யுண்ண மேன்மேலும் முகமலரும் மேலோர் போல' — என்ற வரிகள் கொண்ட இலக்கிய நூல் எது?
- (A) கம்பராமாயணம் (B) சிலப்பதிகாரம்
(C) கலிங்கத்துப்பரணி (D) பொருநராற்றுப்படை
2. அ, இ, உ என்பன ————— ஆகும்.
- (A) உயிரெழுத்துக்கள் (B) சுட்டெழுத்துக்கள்
(C) மெய்யெழுத்துக்கள் (D) இனவெழுத்துக்கள்
3. திருவிளையாடல் புராணம் எழுதியவர் யார்?
- (A) கம்பர் (B) பரஞ்சோதி முனிவர்
(C) வாமனாசாரியார் (D) சேக்கிழார்
4. 'உடன்பட்டுக் கூறும் விடை' என்பது
- (A) உற்றது உரைத்தல் விடை (B) உறுவது கூறல் விடை
(C) மறை விடை (D) நேர் விடை
5. பொருந்தாததை தேர்ந்தெடுக்க.
- (A) திருநாவுக்கரசர் (B) திருஞானசம்பந்தர்
(C) சுந்தரர் (D) மாணிக்கவாசகர்
6. 'கம்பன் வீட்டுக் கட்டுத்தறியும் கவிபாடும்' எனக் கூறியவர் யார்?
- (A) கபிலர் (B) பாரதியார்
(C) கவிமணி (D) பாரதிதாசன்
7. நகு என்ற சொல்லின் நக்கான் என்ற வடிவம் குறிக்கும் காலம் எது?
- (A) நிகழ்காலம் (B) எதிர்காலம்
(C) இறந்தகாலம் (D) நிகழ்வு எதிர்காலம்

8. சிலப்பதிகாரத்தில் மாதவி நடனமாடிய ஆடல்கள் எத்தனை வகைப்படும் ?
 (A) 10 (B) 11
 (C) 12 (D) 14
9. அறிஞருக்கு நூல், அறிஞரதுநூல் ஆகிய சொற்றொடர்களில் பொருளை வேறுபடுத்தக் காரணமாக அமைவது எது ?
 (A) எழுவாய் (B) வேற்றுமை உருபு
 (C) உவம உருபு (D) உரிச்சொல்
10. முதுவேனிற்காலத்திற்கான மாதங்கள் எவை ?
 (A) சித்திரை, வைகாசி (B) ஆனி, ஆடி
 (C) மாசி, பங்குனி (D) ஆவணி, புரட்டாசி
11. போர் முனையில் ஆயிரம் யானைகளைக் கொன்ற வீரனைப் புகழ்ந்து பாடும் இலக்கியம் எது ?
 (A) தூது (B) கலம்பகம்
 (C) உலா (D) பரணி
12. ஏறு தழுவுதல் இடம்பெறும் சங்க நூல் எது ?
 (A) அகநானூறு (B) கலித்தொகை
 (C) புறநானூறு (D) நற்றிணை
13. 'நீர் இன்று அமையா யாக்கைக்கு எல்லாம்
 உண்டி கொடுத்தோர் உயிர் கொடுத்தோரே' என்ற பாடல் வரிகள் இடம்பெற்றுள்ள நூல் எது ?
 (A) பதிற்றுப்பத்து (B) புறநானூறு
 (C) பரிபாடல் (D) குறுந்தொகை
14. 'தம்பிரான் தோழர்' யார் ?
 (A) மாணிக்கவாசகர் (B) திருஞானசம்பந்தர்
 (C) திருநாவுக்கரசர் (D) சுந்தரர்

15. வேறுபட்டதைச் சுட்டிக் காட்டுக

(A) மூடுபனி

(B) கடிநாய்

(C) ஊறுகாய்

(D) நீலவானம்

16. உயிர் எழுத்துக்கள் பன்னிரெண்டும் எதை இடமாகக் கொண்டு பிறக்கின்றன?

(A) மார்பு

(B) தலை

(C) மூக்கு

(D) கழுத்து

17. 'கலையரசி மாலை தொடுத்தாள்' – இத்தொடரில் இடம்பெறும் வினைமுற்று

(A) குறிப்பு வினைமுற்று

(B) தெரிநிலை வினைமுற்று

(C) ஏவல் வினைமுற்று

(D) வியங்கோள் வினைமுற்று

18. நான்காம் வேற்றுமைக்குரிய உருபு எது?

(A) அது

(B) ஆல்

(C) கு

(D) கண்

19. தனித்து இயங்காத சொல் எது?

(A) பெயர்ச்சொல்

(B) வினைச்சொல்

(C) இடைச்சொல்

(D) வடமொழிச்சொல்

20. வெண்பா எத்தனை வகைப்படும்?

(A) மூன்று

(B) நான்கு

(C) ஐந்து

(D) இரண்டு

21. 'செம்மல்' என்ற சொல் பூவின் எந்த நிலையைக் குறிக்கும்?

(A) தோற்றநிலை

(B) மலர்ந்த நிலை

(C) கீழே விழுந்த நிலை

(D) வாடின நிலை

22. சரியான விடையைத் தேர்வு செய்க.

1. இராவண காவியம் (அ) தமிழ் ஒளி
2. மாதவி காவியம் (ஆ) திரு.வி.க
3. பெண்ணின் பெருமை (இ) பெருஞ்சித்திரனார்
4. பாவியக்கொத்து (ஈ) புலவர் குழந்தை

- (A) 1(ஈ), 2(அ), 3(ஆ), 4(இ)
(B) 1(இ), 2(ஆ), 3(அ), 4(ஈ)
(C) 1(ஆ), 2(இ), 3(ஈ), 4(அ)
(D) 1(இ), 2(அ), 3(ஈ), 4(ஆ)

23. Folder – தமிழ்ச்சொல் தருக

- (A) செதுக்கி (B) உலவி
(C) உறை (D) சுட்டி

24. 'மா' என்னும் சொல்லுக்குப் பொருந்தாத பொருள் தருக

- (A) விலங்கு (B) மாலை
(C) திருமகள் (D) பெரிய

25. 'துன்பம்' என்னும் பொருளில் வரும் ஒரெழுத்து ஒருமொழி _____.

- (A) சா (B) தூ
(C) நொ (D) பே

26. '_____ செய்ய வேண்டுகிறேன்' – கோடிட்ட இடத்திற்குப் பொருந்தும் சொல்.

- (A) ஆகுவன (B) ஆவண
(C) ஆவணம் (D) ஆவன

27. பெயர்ச்சொல்லையும் வினைச்சொல்லையும் சார்ந்து வரும் சொல்

(A) உரிச்சொல்

(B) திசைச்சொல்

(C) இடைச்சொல்

(D) இயற்சொல்

28. 'வாடிய ப்யிரை கண்டபோதெல்லாம் வாடினேன்' என்னும் கூற்றுக்குரியவர்

(A) இராமலிங்க அடிகள்

(B) மணிமேகலை

(C) குண்டலகேசி

(D) வளையாபதி

29. பிழையற்ற சொல்லைத் தேர்வு செய்க

(A) அனுப்புநர்

(B) அனுப்புநர்

(C) அனுப்புனர்

(D) அனுப்புணர்

30. Media – என்பதற்குப் பொருத்தமான தமிழ்ச்சொல்

(A) தொடர்புக் கருவி

(B) வலைத்தளம்

(C) இணையம்

(D) ஊடகம்

31. 'வளையோசை கலகல வென ஒலித்தது' – இலக்கணக் குறிப்பு தருக

(A) இரட்டைக் கிளவி

(B) உரிச்சொல்

(C) இடைச்சொல்

(D) அடுக்குத் தொடர்

32. ஐம்பால் – பிரித்து எழுதுக

(A) ஐ + பால்

(B) ஐம் + பால்

(C) ஐந்து + பால்

(D) ஐந் + பால்

33. 'குழறும்' பறவை —————.
- (A) ஆந்தை (B) கூகை
(C) காகம் (D) மயில்
34. மரபுப் பிழையுள்ள தொடரைத் தேர்வு செய்க.
- (A) கோழி கொக்கரிக்கும் (B) குயில் கூவும்
(C) காகம் கத்தும் (D) கிளி பேசும்
35. தொடரின் ஈற்றில் இடம்பெறும் நிறுத்தக்குறி —————.
- (A) முக்காற்புள்ளி (B) காற்புள்ளி
(C) அரைப்புள்ளி (D) முற்றுப்புள்ளி
36. பிழையான தொடரைச் சுட்டிக் காட்டுக
- (A) எந்த பாடம் (B) எந்த வகை
(C) எந்த மான் (D) எந்த நாடு
37. எழுதுபொருள், எழுதுப்பொருள் – எது சரியானது?
- (A) எழுதுப்பொருள் (B) எழுதுபொருள்
(C) இரண்டும் சரி (D) இரண்டும் தவறு
38. 12 என்ற எண்ணின் எழுத்து வடிவம் —————.
- (A) பனிரண்டு (B) பனிரெண்டு
(C) பன்னிரண்டு (D) பன்னிரெண்டு
39. கீழ்வருவனவற்றுள் சரியானதைத் தேர்வு செய்க.
- (A) தொண்ணூற்றாறு (B) தொன்னூற்றாறு
(C) தொண்ணூற்றாறு (D) தொண்ணூற்றாறு

40. 'குடக்கு' என்னும் திசை

- (A) வடக்கு
(C) மேற்கு

- (B) தெற்கு
(D) கிழக்கு

41. 'தமிழா நீ பேசுவது தமிழா' என்னும் தொடரில் முதலில் வரும் 'தமிழா' என்பது

- (A) வினா
(C) பெயர்

- (B) விளி
(D) வினை

42. 'Classical Literature' என்பதன் தமிழ்ச் சொல்லாக்கம்

- (A) காப்பிய இலக்கியம்
(C) செவ்விலக்கியம்

- (B) பக்தி இலக்கியம்
(D) வட்டார இலக்கியம்

43. 'திரு ஆலவாய்' என்று குறிப்பிடப்படும் ஊர் _____.

- (A) மதுரை
(C) கோவை

- (B) திருச்சிராப்பள்ளி
(D) திருநெல்வேலி

44. 'உனக்குக் கவிதை எழுதத் தெரியுமா?' என்ற வினாவுக்கு 'எனக்குக் கட்டுரை எழுதத் தெரியும்' என்பது _____.

- (A) சுட்டு விடை
(C) இனமொழி விடை

- (B) மறைவிடை
(D) ஏவல் விடை

45. "அன்பும் அறனும் உடைத்தாயின் இல்வாழ்க்கை

பண்பும் பயனும் அது" என்னும் திருக்குறளில் அமைந்துள்ள பொருள்தோள்

- (A) ஆற்றுநீர்
(C) நிரல்நிறை

- (B) மொழிமாற்று
(D) கொண்டு கூட்டு

46. 'வேழ நெடும் படை' என்பது _____.

(A) குதிரைப்படை

(B) யானைப்படை

(C) தேர்ப்படை

(D) காலாட்படை

47. 'வேலவன் குன்றம்' என்பது

(A) திருவேங்கடம்

(B) திருத்தணி

(C) திருநீர்மலை

(D) மலைக்கோட்டை

48. 'குடிமக்கள் காப்பியம்' எனப் போற்றப்படுவது _____.

(A) இராம காதை

(B) வில்லிபாரதம்

(C) சிலப்பதிகாரம்

(D) மணிமேகலை

49. 'தலையைக் கொடுத்தேனும் தலைநகரைக் காப்போம்' என்ற தொடரில் தலைநகரம் என்பது _____.

(A) சென்னை

(B) ஐதராபாத்

(C) திருவனந்தபுரம்

(D) தில்லி

50. "மங்கையராய் பிறப்பதற்கே - நல்ல

மாதவம் செய்திட வேண்டுமம்மா" - என்று பாடியவர் _____.

(A) பாரதியார்

(B) திரு.வி.க

(C) கவிமணி தேசிக விநாயகம் பிள்ளை

(D) கண்ணதாசன்

PART B

51. A person pulls a bench from one place to another using _____ on the object.

- (A) Force (B) Pull
(C) Inertia (D) Motion

ஒரு நபர் மேசையை ஒரு இடத்திலிருந்து மற்றொரு இடத்திற்கு இழுப்பதற்கு _____ பயன்படுத்துகிறார்.

- (A) விசை (B) இழுத்தல்
(C) நிலைமம் (D) இயக்கம்

52. A motor cycle is fitted with springs and shock absorbers, because

- (A) It gives a good look to the vehicle
(B) It helps to reduce jerks while moving on uneven roads
(C) It helps to stop the vehicle at the correct time
(D) It is the design of the vehicle

இரு சக்கர வாகனத்தில் சுருள்வில் அமைப்புகளும் அதிர்வுறிஞ்சிகளும் பொருத்தப்பட்டிருக்கும். ஏனெனில், அவைகள்

- (A) வாகனத்திற்கு நல்ல தோற்றத்தை அளிக்கிறது
(B) சீரற்ற சாலைகளில் நகரும் போது ஏற்படும் அதிர்வுகளை குறைக்க உதவுகிறது
(C) சரியான நேரத்தில் வாகனத்தை நிறுத்த உதவுகிறது
(D) வாகனத்தின் வடிவமைப்பாகும்

53. An object that emits its own light is called _____

- (A) bright object (B) source of light
(C) luminous object (D) sun

தன் சுய ஒளியை வெளியிடும் பொருள் _____ என அழைக்கப்படுகிறது.

- (A) பிரகாசமான பொருள் (B) ஒளியின் ஆதாரம்
(C) ஒளிரும் பொருள் (D) சூரியன்

54. The coloured part of the eye which controls the amount of light entering the pupil is known as _____

- (A) Cornea (B) Eye-Lids
(C) Retina (D) Iris

கண்பாவையில் நுழையும் ஒளிக்கதிர்களின் அளவைக் கட்டுப்படுத்தும் கண்ணின் நிறமுடைய பகுதி _____ என்று அழைக்கப்படுகிறது.

- (A) கார்னியா (B) கண் இமைகள்
(C) விழித்திரை (D) கருவிழி

55. Name the instrument used to see long distance objects like the stars.

- (A) Microscope (B) Lens
(C) Camera (D) Telescope

நட்சத்திரங்கள் போன்ற நீண்ட தூரத்தில் இருக்கும் பொருட்களைப் பார்க்கப் பயன்படும் கருவியின் பெயரைக் குறிப்பிடவும்.

- (A) நுண்ணோக்கி (B) கண்ணாடி வில்லை
(C) புகைப்படக் கருவி (D) தொலைநோக்கி

56. Consider the correctness of the statements below.

I. When an object is heated, its temperature lowers.

II. When heated, the object expands.

- (A) Statement II is correct and Statement I is wrong
(B) Statement I is correct and Statement II is wrong
(C) Statement I and II are correct
(D) Statement I and II are wrong

கீழ்க்கண்ட கூற்றுகளின் உண்மை தன்மையை கண்டறியவும்.

I. ஒரு பொருளை சூடாக்கும்போது, அதன் வெப்பநிலை குறைகிறது

II. சூடாக்கும்போது, பொருள் விரிவடைகிறது.

- (A) கூற்று II சரியானது மற்றும் கூற்று I தவறானது
(B) கூற்று I சரியானது மற்றும் கூற்று II தவறானது
(C) கூற்று I மற்றும் II சரியானது
(D) கூற்று I மற்றும் II தவறானது

57. When we use a table fan for a long time and when we touch the motor box after switching it off, the motor box will be hot, why?

- (A) Because there is no ventilation in the motor box
- ☒ (B) Because of the heating effect of current
- (C) Because it is not connected properly
- (D) Because it is used for a long time

மேஜை விசிறியை நீண்ட நேரம் பயன்படுத்தி, அதை அணைத்த பின் மோட்டார் பெட்டியை தொடும்போது, மோட்டார் பெட்டி சூடாக இருக்கும், ஏன்?

- (A) ஏனெனில் மோட்டார் பெட்டியில் காற்றோட்டம் இல்லை
- (B) மின்னோட்டத்தின் வெப்ப விளைவின் காரணமாக
- (C) ஏனெனில் அது சரியாக இணைக்கப்படவில்லை
- (D) ஏனெனில் அது நீண்ட நேரமாக பயன்படுத்தப்படுவதால்

58. The two factors used to determine electric consumption in our houses are

- (A) Number of hours of power shut down and number of electrical equipments used
- (B) Number of Air conditioning units and number of fans
- ☒ (C) Amount of electric power and duration of usage
- (D) None of the above

நம் வீடுகளில் மின் உபயோகத்தை தீர்மானிக்கப் பயன்படுத்தப்படும் இரண்டு காரணிகள்

- (A) மின்சாரம் நிறுத்தப்பட்ட நேரத்தின் எண்ணிக்கை மற்றும் பயன்படுத்தப்பட்ட மின் சாதனங்களின் எண்ணிக்கை
- (B) குளிர் சாதனப் பெட்டியின் எண்ணிக்கை மற்றும் மின்விசிறிகளின் எண்ணிக்கை
- (C) மின்சாரத்தின் அளவு மற்றும் பயன்பாட்டின் நேரம்
- (D) மேற்கூறிய எதுவும் இல்லை

59. An echo sound is produced due to the ————— of the original sound wave.

- (A) repetition (B) loudness
(C) vibration (D) reflection

அசல் ஒலி அலையின் ————— காரணமாக எதிரொலி நிகழ்கிறது.

- (A) மீண்டும் மீண்டும் நேரும் இயல்பு (B) சத்தம்
(C) அதிர்வு (D) பிரதிபலிப்பு

60. The mineral from which a metal can be readily and economically extracted on a large scale is called —————

- (A) Ore (B) Flux
(C) Matrix (D) Lava

ஒரு கனிமத்திலிருந்து, பெரிய அளவில் எளிதாகவும், அதிக செலவின்றி பிரித்தெடுக்கக் கூடிய உலோகம் ————— எனப்படும்.

- (A) தாது (B) இளக்கி
(C) அச்சுவார்ப்புரு (D) எரிமலை குழம்பு

61. Amalgam is the mixture of ————— with another metal.

- (A) Aluminium (B) Mercury
(C) Iron (D) Copper

இரசக்கலவை என்பது ————— உடன் உலோகம் சேர்ந்த கலவையாகும்.

- (A) அலுமினியம் (B) பாதரசம்
(C) இரும்பு (D) செம்பு

62. What makes a car move using fuel?

- (A) Evaporation of fuel (B) Condensation of fuel
(C) Combustion of fuel (D) Lubrication of fuel

ஒரு கார் எரிபொருளைக் கொண்டு எவ்வாறு இயங்குகிறது?

- (A) எரிபொருள் ஆவியாவதால் (B) எரிபொருள் ஒடுக்கத்தால்
(C) எரிபொருள் எரிவதால் (D) எரிபொருள் உயவுவதால்

63. The heart of a fish has ————— chambers.

- (A) One (B) Four
(C) Three (D) Two

மீனின் இதயத்தில் ————— அறைகள் உள்ளன.

- (A) ஒன்று (B) நான்கு
(C) மூன்று (D) இரண்டு

64. What are the main blood groups of a human?

- (A) A, B, AB and O
(B) A, B and O
(C) A and O
(D) A, B, AB, O+(positive) and O – (negative)

மனிதனின் முக்கிய இரத்த வகைகள் யாவை?

- (A) A, B, AB மற்றும் O
(B) A, B மற்றும் O
(C) A மற்றும் O
(D) A, B, AB, O+(பாசிட்டிவ்) மற்றும் O – (நெகட்டிவ்)

65. The Nation wide Family Planning Programme in India was launched in —————

- (A) 1949 (B) 1952
(C) 1950 (D) 1951

இந்தியாவில் தேசிய அளவிலான குடும்பக் கட்டுப்பாடு திட்டம் தொடங்கப்பட்ட ஆண்டு

- (A) 1949 (B) 1952
(C) 1950 (D) 1951

66. The National Day for Menstrual Hygiene is observed on _____ every year.

(A) April 28

(B) May 15

☒ (C) May 28

(D) November 14

ஒவ்வொரு வருடமும் எந்த நாள் மாதவிடாய் சுகாதார நாளாக அனுசரிக்கப்படுகிறது?

(A) ஏப்ரல் 28

(B) மே 15

(C) மே 28

(D) நவம்பர் 14

67. In humans, normally each cell contains _____ pairs of chromosomes.

(A) 21

(B) 25

(C) 22

☒ (D) 23

ஒவ்வொரு மனித செல்லிலும் பொதுவாக _____ ஜோடி குரோமோசோம்கள் உள்ளன.

(A) 21

(B) 25

(C) 22

(D) 23

68. Fossils are evidences of ancient life forms preserved by _____

☒ (A) Natural processes

(B) Using saline solutions

(C) Taxidermy

(D) Using herbal medicines

புதை உயிர்ப் படிவங்கள் _____ பாதுகாக்கப்பட்ட பழங்கால உயிரிகளைப் பற்றிய ஆதாரமாக விளங்குகிறது.

(A) இயற்கை செயல்முறைகளால்

(B) உப்பு கரைசல்களால்

(C) டாக்சிடெர்மியால்

(D) மூலிகை மருந்துகளால்

69. Which among the following is the Child Helpline Number?

- (A) 1033 (B) 1098
(C) 1028 (D) 100

பின்வருவனவற்றில் குழந்தை உதவி எண் எது?

- (A) 1033 (B) 1098
(C) 1028 (D) 100

70. Addiction to tobacco is caused due to the presence of ————— which is a stimulant, highly harmful and poisonous substance.

- (A) Cocoa (B) Opium
(C) Nicotine (D) Chemicals

கிளர்ச்சியைத் தூண்டும், மிகவும் தீங்கு விளைவிக்கும், நச்சுத்தன்மை வாய்ந்த —————

பொருள், ஒருவரை புகையிலைக்கு அடிமையாக்குகிறது.

- (A) கொக்கோ (B) ஒபியம்
(C) நிகோடின் (D) இரசாயனங்கள்

71. Expand HIV.

- (A) Human Infection Virus (B) Human Immuno Virus
(C) Human Indirect Virus (D) Human Immunodeficiency Virus

HIV யின் விரிவாக்கம் என்ன?

- (A) மனித தொற்று வைரஸ் (B) மனித நோயெதிர்ப்பு வைரஸ்
(C) மனித மறைமுக வைரஸ் (D) மனித தடைகாப்பு குறைபாடு வைரஸ்

72. Solar Cell is made up of ————— that converts sunlight directly into electricity.

- (A) Silicon (B) Lithium
(C) Copper (D) Aluminium

சூரியமின்கலம், சூரிய ஒளியை நேரடியாக மின்சாரமாக மாற்றும் ————— ஆல் ஆனது.

- (A) சிலிக்கான் (B) லித்தியம்
(C) செம்பு (D) அலுமினியம்

73. Arrange the following methods step-wise to indicate the conventional method of wastewater treatment.

- (i) water reuse
(ii) pre-screening
(iii) sludge management
(iv) aeration

- (A) (i), (ii), (iii), (iv) (B) (ii), (iv), (iii), (i)
(C) (ii), (iii), (iv), (i) (D) (iv), (iii), (ii), (i)

வழக்கமான கழிவுநீர் சுத்திகரிப்பு முறை கீழ்க்கண்ட படிநிலைகளில் கையாளப்படுகிறது அதனை சரியாக வரிசைப்படுத்தவும்.

- (i) நீர் மறுசுழற்சி
(ii) வடிகட்டுதல்
(iii) படிவு அகற்றுதல்
(iv) காற்றேற்றம்

- (A) (i), (ii), (iii), (iv) (B) (ii), (iv), (iii), (i)
(C) (ii), (iii), (iv), (i) (D) (iv), (iii), (ii), (i)

74. _____ is used to save multiple files in a computer.

(A) Paint

(B) MS Word

☒ (C) Folder

(D) Notepad

ஒரு கணினியில் பல கோப்புகளைச் சேமிக்க _____ பயன்படுகிறது.

(A) பெயிண்ட்

(B) எம் எஸ் வோர்டு

(C) கோப்புத்தொகுப்பு

(D) நோட்பேட்

75. Which one of the following continents were colonized and exploited in the nineteenth century?

(A) Europe

(B) Australia

(C) Antartica

☒ (D) Asia

பின்வரும் கண்டங்களில் எந்த கண்டம் பத்தொன்பதாம் நூற்றாண்டில் காலனித்துவப்படுத்தப்பட்டு சுரண்டப்பட்டது?

(A) ஐரோப்பா

(B) ஆஸ்திரேலியா

(C) அண்டார்டிகா

(D) ஆசியா

76. The International Court of Justice was set up at _____

☒ (A) Hague

(B) Scotland

(C) Paris

(D) Ireland

சர்வதேச நீதிமன்றம் _____ ல் அமைந்துள்ளது.

(A) ஹேக்

(B) ஸ்காட்லாந்து

(C) பாரிஸ்

(D) அயர்லாந்து

77. In 1934, Adolf Hitler became the President of

- (A) France (B) Germany
(C) Switzerland (D) Canada

1934 ஆம் ஆண்டில், அடால்ஃப் ஹிட்லர் எந்த நாட்டின் ஜனாதிபதியானார்?

- (A) பிரான்ஸ் (B) ஜெர்மனி
(C) சுவிட்சர்லாந்து (D) கனடா

78. Boers were the Dutch Settlers of Africa. They were also known as _____

- (A) Transvaal (B) Uitlanders
(C) Afrikaners (D) Africans

ஆப்பிரிக்காவில் குடியேறிய டச்சுக் குடியேறிகள் போயர்கள் ஆவர். இவர்கள் _____ எனவும் அழைக்கப்படுகிறார்கள்.

- (A) டிரான்ஸ்வால் (B) யுட்லேண்டர்ஸ்
(C) ஆப்பிரிக்கநேர்கள் (D) ஆப்பிரிக்கான்ஸ்

79. Anti-Apartheid movement was spearheaded by _____, who was also known in South Africa as the 'Father of the Nation'.

- (A) Henry Mandela (B) Oliver Tambo
(C) Walter Sisulu (D) Nelson Mandela

நிறுவெறி எதிர்ப்பு இயக்கம் _____ ஆல் வழி நடத்தப்பட்டது. அவர் தென்னாப்பிரிக்காவில் 'தேசத்தின் தந்தை' என்றும் அழைக்கப்பட்டார்.

- (A) ஹென்றி மண்டேலா (B) ஆலிவர் டாம்போ
(C) வால்டர் சிசுலு (D) நெல்சன் மண்டேலா

80. When did the Pearl Harbour Attack take place?

- (A) 1941 (B) 1943
(C) 1942 (D) 1945

எப்போது முத்துத் துறைமுகத் தாக்குதல் நடத்தப்பட்டது?

- (A) 1941 (B) 1943
(C) 1942 (D) 1945

81. The Universal Declaration of Human Rights was framed as an aftermath of the ——— that took place in Germany.

- (A) War (B) Holocaust
(C) Natural Calamity (D) Famine

மனித உரிமைகளுக்கான உலகளாவிய பிரகடனம் ஜெர்மனியில் நடந்த ——— பிறகு உருவாக்கப்பட்டது.

- (A) போருக்கு (B) பேரழிவுக்கு
(C) இயற்கை பேரிடருக்கு (D) பஞ்சத்திற்கு

82. Which of the following is not an organ of the United Nations?

- (A) Food and Agriculture Organization
(B) World Health Organization
(C) International Business Management Institute
(D) United Nations Development Programme

பின்வருவனவற்றில் எது ஐக்கிய நாடுகள் சபையின் அங்கம் இல்லை?

- (A) உணவு மற்றும் வேளாண்மை அமைப்பு
(B) உலக சுகாதார நிறுவனம்
(C) சர்வதேச வணிக மேலாண்மை நிறுவனம்
(D) ஐக்கிய நாடுகளின் வளர்ச்சி திட்டம்

83. Who among the following played a key role in abolition of the practice of Sati in India in 1829?

- (A) Debendranath Tagore
- (B) Kesab Chandra Sen
- (C) M.G. Ranade
- ☒ (D) Raja Rammohan Roy

1829 ஆம் ஆண்டில் இந்தியாவில் உடன்கட்டை ஏறுதல் (சதி) என்னும் பழக்கத்தை ஒழிப்பதில் முக்கிய பங்கு வகித்தவர் யார்?

- (A) தேபேந்திரநாத் தாகூர்
- (B) கேசப் சந்திர சென்
- (C) M.G. ராண்டே
- (D) இராஜா ராம்மோகன் ராய்

84. Thiruvarutpa is a collection of songs written by _____

- ☒ (A) Ramalinga Adigal
- (B) Iyothē Thassar
- (C) Manickavasagar
- (D) Thirugnānasambandar

திருவருட்பா என்பது _____ எழுதிய பாடல்களின் தொகுப்பு.

- (A) இராமலிங்க அடிகள்
- (B) அயோத்தி தாசர்
- (C) மாணிக்கவாசகர்
- (D) திருஞானசம்பந்தர்

85. The Unit of women soldiers led by Kuyili, a faithful friend of Velunachiyar was called _____

- (A) Padai (B) Palayam
(C) Udaiyaal (D) None of the above

வேலுநாச்சியாரின் உண்மையுள்ள நண்பரான குயிலி தலைமையிலான பெண்களின் படைப்பிரிவு _____ என அழைக்கப்பட்டது.

- (A) படை (B) பாளையம்
(C) உடையாள் (D) மேற்கூறிய எதுவும் இல்லை

86. Who is known as Punjab Kesari?

- (A) Lal Bahadur Shastri (B) Pingali Venkayya
(C) Lala Lajpat Rai (D) Bal Gangadhar Tilak

பஞ்சாப் கேசரி என அழைக்கப்படுபவர் யார்?

- (A) லால் பகதூர் சாஸ்திரி (B) பிங்கலி வெங்கையா
(C) லாலா லஜபதி ராய் (D) பால கங்காதர திலகர்

87. During Swadeshi Period, a Swadeshi Steam Navigation Company was set up by V.O. Chidambaranar at _____

- (A) Tuticorin (B) Kanyakumari
(C) Cuddalore (D) Pondicherry

சுதேசி காலத்தில் வ.உ. சிதம்பரனார் சுதேசி கப்பல் நிறுவனத்தை தொடங்கிய இடம் _____

- (A) தூத்துக்குடி (B) கன்னியாகுமரி
(C) கடலூர் (D) பாண்டிச்சேரி

88. Nationwide Satyagraha was called for by Mahatma Gandhi against _____ which was also called as Black Act.

- (A) The Government of India Act, 1919
- ☒ (B) The Rowlatt Act
- (C) Tinkathia System
- (D) Simon Commission

மகாத்மா காந்தியால் கருப்புச் சட்டம் என்று அழைக்கப்பட்ட _____ க்கு எதிராக நாடு தழுவிய சத்தியாகிரகத்திற்கு அழைப்பு விடுக்கப்பட்டது.

- (A) இந்திய அரசு சட்டம், 1919
- (B) ரௌலட் சட்டம்
- (C) தீன்காதியா முறை
- (D) சைமன் குழு

89. The Salt March held in Tamil Nadu by C. Rajaji was from _____ to Vedaranyam.

- (A) Tuticorin
- (B) Chennai
- ☒ (C) Tiruchirapalli
- (D) Madurai

C. ராஜாஜி அவர்கள் தமிழ்நாட்டில் நடத்திய உப்பு சத்தியாகிரக யாத்திரை _____ முதல் வேதாரண்யம் வரை நடைபெற்றது.

- (A) தூத்துக்குடி
- (B) சென்னை
- (C) திருச்சிராப்பள்ளி
- (D) மதுரை

90. Yasser Arafat was the President of _____

- (A) Pakistan
- (B) Saudi Arabia
- (C) Iran
- ☒ (D) Palestine

யாசர் அராபத் _____ நாட்டின் ஜனாதிபதியாக இருந்தார்.

- (A) பாகிஸ்தான்
- (B) சவுதி அரேபியா
- (C) ஈரான்
- (D) பாலஸ்தீனம்

91. The first Tamil Daily Swadesamitran was started by _____

- (A) G. Subramania Iyer (B) M. Veeraraghavachari
(C) T. Muthuswami (D) Srinivasanar

முதல் தமிழ் நாளிதழ் சுதேசமித்ரன் _____ என்பவரால் தொடங்கப்பட்டது.

- (A) ஜி. சுப்ரமணிய ஐயர் (B) மு. வீரராகவாச்சாரி
(C) டி. முத்துசாமி (D) ஸ்ரீநிவாசனார்

92. Who among the following is hailed as Kodikatha Kumaran?

- (A) V. Ramalinganar
(B) O.K.S.R. Kumaraswamy Mudaliar
(C) T. Prakasam
(D) K. Nageswara Rao

கீழ்க்கண்டவர்களில் கொடிகாத்த குமரன் என்று போற்றப்படுபவர் யார்?

- (A) வி. இராமலிங்கனார்
(B) ஓ.கே.எஸ்.ஆர். குமாரசாமி முதலியார்
(C) டி. பிரகாசம்
(D) கே. நாகேஸ்வர ராவ்

93. The earliest text of Tamil Literary 'Thirukkural' was published in the year

- (A) 1702 (B) 1945
(C) 1812 (D) 1844

தமிழ் இலக்கியத்தின் ஆரம்பகால உரையான 'திருக்குறள்' வெளியிடப்பட்ட ஆண்டு

- (A) 1702 (B) 1945
(C) 1812 (D) 1844

94. Who was the founder of 'Tani Tamil Iyakkam'?

- (A) V.G. Suryanarayana Sastri
- (B) Bharathidasan
- (C) S. Vaiyapuri
- ☒ (D) Maraimalai Adigal

‘தனித்தமிழ் இயக்கத்தின்’ நிறுவனர் யார்?

- (A) வி.ஜி. சூரியநாராயண சாஸ்திரி
- (B) பாரதிதாசன்
- (C) எஸ். வையாபுரி
- (D) மறைமலை அடிகள்

95. Which of the following is not a name used to denote E.V. Ramasamy, the founder of Self-respect movement?

- ☒ (A) Parithimar Kalaigar
- (B) Periyar
- (C) Vaikom Veerar
- (D) Chitraputtiran

கீழ்க்கண்டவற்றில் சுயமரியாதை இயக்கத்தின் நிறுவனர் ஈ.வெ. இராமசாமியைக் குறிக்கப்பெறாத பெயர் எது?

- (A) பரிதிமாற் கலைஞர்
- (B) பெரியார்
- (C) வைக்கம் வீரர்
- (D) சித்திரபுத்திரன்

96. 'Thozhilalan' was a ——— published by M. Singaravelar to address the problems of the working class.

(A) Tamil Magazine

☒ (B) Tamil Newspaper

(C) Tamil Book

(D) Tamil hand-out

தொழிலாளர்களின் வாக்கத்தின் பிரச்சனைகளைத் தீர்க்க ம. சிங்காரவேலரால் வெளியிடப்பட்ட ——— 'தொழிலாளன்' ஆகும்.

(A) தமிழ் இதழ்

(B) தமிழ் நாளிதழ்

(C) தமிழ் புத்தகம்

(D) தமிழ் கையேடு

97. The tri-junction of the Anamalai Range, the Cardamom Hills and the Palani Hills is called

(A) Kodaikanal

(B) Ootacamund

☒ (C) Anaimudi

(D) Shimla

ஆனைமலை, ஏலக்காய் மலை மற்றும் பழனிமலை ஆகியவை சந்திக்கும் பகுதி ——— எனப்படும்.

(A) கொடைக்கானல்

(B) உதகமண்டலம்

(C) ஆனைமுடி

(D) சிம்லா

98. Which among the following States in India has the highest number of buffaloes?

(A) Rajasthan

(B) Bihar

(C) Andhra Pradesh

☒ (D) Uttar Pradesh

இந்தியாவில் பின்வரும் எந்த மாநிலத்தில் அதிக எண்ணிக்கையில் எருமைகள் உள்ளன?

(A) ராஜஸ்தான்

(B) பீகார்

(C) ஆந்திர பிரதேசம்

(D) உத்திரபிரதேசம்

99. Aluminium is extracted from

- (A) Bauxite (B) Copper
(C) Limestone (D) Dolomite

அலுமினியம் எதிலிருந்து பிரித்தெடுக்கப்படுகிறது?

- (A) பாக்கைட் (B) செம்பு
(C) சுண்ணாம்புக் கல் (D) டோலமைட்

100. Justice Thiru. Uday Umesh Lalit was sworn in as the ——— Chief Justice of India.

- (A) 49th (B) 41st
(C) 51st (D) 59th

நீதிபதி திரு. உதய் உமேஷ் லலித் அவர்கள் இந்தியாவின் ——— தலைமை நீதிபதி ஆவார்.

- (A) 49^{வது} (B) 41^{வது}
(C) 51^{வது} (D) 59^{வது}

101. Who was the first person to discover sea route from Europe to India?

- (A) Magellan
(B) Christopher Columbus
(C) Marcopolo
(D) Vasco-da-Gama

ஐரோப்பாவில் இருந்து இந்தியாவிற்கு கடல் வழி பாதையை முதலில் கண்டறிந்தவர் யார்?

- (A) மெகலன்
(B) கிறிஸ்டோபர் கொலம்பஸ்
(C) மார்கோபோலோ
(D) வாஸ்கோடகாமா

102. _____ is the largest ocean.

- (A) Pacific Ocean (B) Indian Ocean
(C) Artic Ocean (D) Atlantic Ocean

_____ ஒரு மிகப்பெரிய கடல்

- (A) பசிபிக் பெருங்கடல் (B) இந்திய பெருங்கடல்
(C) ஆர்டிக் பெருங்கடல் (D) அட்லாண்டிக் பெருங்கடல்

103. Who offered gooseberry to Avvaiyar?

- (A) Pari (B) Pegan
(C) Adhiyaman (D) Valvil Ori

ஒளவையாருக்கு நெல்லிக்கனியை கொடுத்தவர்

- (A) பாரி (B) பேகன்
(C) அதியமான் (D) வல்வில் ஓரி

104. India is divided into _____ seismic zones.

- (A) Five (B) Four
(C) Three (D) Six

இந்தியா _____ நில அதிர்வு மண்டலங்களாக பிரிக்கப்பட்டுள்ளது.

- (A) ஐந்து (B) நான்கு
(C) மூன்று (D) ஆறு

105. The Governor has to take an oath of his office before

- (A) The Chief Minister
- (B) The President
- (C) The Prime Minister
- ☒ (D) The Chief Justice of the High Court

ஆளுநர் யார் முன்னிலையில் பதவி பிரமாணம் எடுத்துக் கொள்வார்?

- (A) முதலமைச்சர்
- (B) ஜனாதிபதி
- (C) பிரதம மந்திரி
- (D) உயர்நீதிமன்ற தலைமை நீதிபதி

106. Which year did Tsunami hit Tamil Nadu?

- (A) 2006
- (B) 2003
- (C) 2005
- ☒ (D) 2004

எந்த ஆண்டு தமிழ்நாட்டை சுனாமி தாக்கியது?

- (A) 2006
- (B) 2003
- (C) 2005
- (D) 2004

107. When was Veerapandiya Kattabomman hanged?

- ☒ (A) 16th October, 1799
- (B) 2nd November, 1800
- (C) 15th August, 1789
- (D) 20th March, 1798

வீர பாண்டிய கட்டபொம்மன் எப்போது தூக்கிலிடப்பட்டார்?

- (A) 16 அக்டோபர், 1799
- (B) 2 நவம்பர், 1800
- (C) 15 ஆகஸ்டு, 1789
- (D) 20 மார்ச், 1798

108. St. David Fort was built by the British in —————

- (A) Vellore (B) Chennai
(C) Cuddalore (D) Pondicherry

புனித டேவிட் கோட்டை ஆங்கிலேயர்களால் எங்கு கட்டப்பட்டது?

- (A) வேலூர் (B) சென்னை
(C) கடலூர் (D) பாண்டிச்சேரி

109. The first five rupee note was issued by the Reserve Bank of India (RBI) in —————

- (A) January 1938 (B) January 1947
(C) March 1956 (D) April 1900

இந்திய ரிசர்வ் வங்கி முதல் ஐந்து ரூபாய் நோட்டை ————— ல் வெளியிட்டது

- (A) ஜனவரி 1938 (B) ஜனவரி 1947
(C) மார்ச் 1956 (D) ஏப்ரல் 1900

110. By the Regulating Act of 1773, a Supreme Court was set up in

- (A) Calcutta (B) Bombay
(C) Delhi (D) Madras

1773 ஆம் ஆண்டு ஒழுங்கு முறை சட்டத்தின்படி, உச்ச நீதிமன்றம் அமைக்கப்பட்ட இடம்

- (A) கல்கத்தா (B) பம்பாய்
(C) டெல்லி (D) மெட்ராஸ்

111. The first Lok Adalat was held in the state of _____

- (A) Tamil Nadu (B) Kerala
(C) Gujarat (D) Maharashtra

முதல் மக்கள் நீதிமன்றம் (லோக் அதாலத்) நடைபெற்ற மாநிலம் _____

- (A) தமிழ்நாடு (B) கேரளா
(C) குஜராத் (D) மஹாராஷ்டிரா

112. The brain loses the ability to function if it does not get oxygen for more than _____ minutes.

- (A) 5 (B) 6
(C) 4 (D) 7

_____ நிமிடங்களுக்கு மேல் பிராணவாயு கிடைக்காவிட்டால் மூளை செயல்படும் திறனை இழக்கிறது.

- (A) 5 (B) 6
(C) 4 (D) 7

113. Tuberculosis disease is transmitted through

- (A) air (B) water
(C) food (D) waste materials

காசநோய் எதன் மூலம் பரவுகிறது?

- (A) காற்று (B) தண்ணீர்
(C) உணவு (D) கழிவு பொருட்கள்

114. What is the respiratory organ of fish?

- (A) lungs (B) fins
(C) gills (D) lungs and fins

மீனின் சுவாச உறுப்பு எது?

- (A) நுரையீரல்கள் (B) துடுப்புகள்
(C) செவுள்கள் (D) நுரையீரல்கள் மற்றும் துடுப்புகள்

115. Milk contains _____.

(A) tartaric acid

(B) lactic acid

(C) malic acid

(D) acetic acid

பாலில் _____ அடங்கி உள்ளது.

(A) டார்டாரிக் அமிலம்

(B) லாக்டிக் அமிலம்

(C) மாலிக் அமிலம்

(D) அசிடிக் அமிலம்

116. The only snake that builds a nest is _____

(A) black mamba

(B) krait

(C) venus

(D) king cobra

கூடு கட்டும் ஒரே வகையான பாம்பு _____

(A) கருப்பு மாம்பா

(B) கட்டுவிரியன்

(C) வீனஸ்

(D) ராஜ நாகம்

117. Our National flag's length and width ratio is

(A) 4 : 2

(B) 3 : 2

(C) 3 : 3

(D) 4 : 3

நமது தேசிய கொடியின் நீளம் மற்றும் அகல விகிதம்

(A) 4 : 2

(B) 3 : 2

(C) 3 : 3

(D) 4 : 3

118. Calorie is the unit of

- (A) heat (B) work
(C) temperature (D) food

கலோரி என்பது எதனுடைய அலகு?

- (A) வெப்பம் (B) வேலை
(C) வெப்பநிலை (D) உணவு

119. Which is the largest human cell?

- (A) liver (B) skin
(C) spleen (D) ovum

மிகப்பெரிய மனித செல் எது?

- (A) கல்லீரல் (B) தோல்
(C) மண்ணீரல் (D) கரு முட்டை

120. Plants receive their nutrients mainly from

- (A) Chlorophyll (B) Atmosphere
(C) Light (D) Soil

தாவரங்கள் அவற்றின் ஊட்டச்சத்துக்களை முக்கியமாக எங்கிருந்து பெறுகின்றன?

- (A) குளோரோபில் (B) வளிமண்டலம்
(C) ஒளி (D) மண்

121. Which vitamin deficiency causes Beriberi?

- (A) Vitamin B₁ (B) Vitamin B₁₂
(C) Vitamin E₁ (D) Vitamin B₅

பெரிபெரி என்னும் நோய் எந்த வைட்டமின் குறைபாட்டால் ஏற்படுகிறது?

- (A) வைட்டமின் B₁ (B) வைட்டமின் B₁₂
(C) வைட்டமின் E₁ (D) வைட்டமின் B₅

122. The human brain is divided into _____ major parts.

- (A) two (B) three
(C) four (D) five

மனித மூளை _____ முக்கிய பகுதிகளாக பிரிக்கப்பட்டிருக்கிறது.

- (A) இரண்டு (B) மூன்று
(C) நான்கு (D) ஐந்து

123. Which is called as black gold?

- (A) Coal (B) Iron
(C) Copper (D) Petroleum

கருப்புத் தங்கம் என அழைக்கப்படுவது எது?

- (A) நிலக்கரி (B) இரும்பு
(C) செம்பு (D) பெட்ரோலியம்

124. How many rings are there in the Olympic flag?

- (A) five (B) six
(C) three (D) four

ஒலிம்பிக் கொடியில் எத்தனை வளையங்கள் உள்ளன?

- (A) ஐந்து (B) ஆறு
(C) மூன்று (D) நான்கு

125. How many squares are there in the game of chess?

- (A) 64 squares (B) 71 squares
(C) 55 squares (D) 44 squares

சதுரங்க விளையாட்டில் எத்தனை சதுரங்கள் உள்ளன?

- (A) 64 சதுரங்கள் (B) 71 சதுரங்கள்
(C) 55 சதுரங்கள் (D) 44 சதுரங்கள்

126. ————— is the queen of drugs.

- (A) Neem (B) Penicillin
(C) Insulin (D) Yeast

மருந்துகளின் இராணி என அழைக்கப்படுவது

- (A) வேம்பு (B) பெனிசிலின்
(C) இன்சலின் (D) ஈஸ்ட்

127. Which part of the flower becomes fruit?

- (A) Corolla (B) Ovary
(C) Pollen grains (D) Anther

மலரின் எந்தப் பகுதி கனியாக மாறுகிறது?

- (A) கொரோலா (B) சூற்பை
(C) மகரந்த தானியங்கள் (D) மகரந்தம்

128. How many senses do we have?

- (A) six (B) five
(C) seven (D) four

நமக்கு எத்தனை உணர்வுகள் உள்ளன?

- (A) ஆறு (B) ஐந்து
(C) ஏழு (D) நான்கு

129. Pendrive is ————— device.

- (A) input (B) output
(C) storage (D) connecting cable

Pendrive என்பது ————— சாதனம்.

- (A) உள்ளீட்டு (B) வெளியீட்டு
(C) சேமிப்பு (D) இணைக்கும் கேபிள்

130. Which is the first railway line in South India?

- (A) Royapuram to Walajapet
- (B) Chennai to Arakkonam
- (C) Vellore to Arakkonam
- (D) Madurai to Kodaikanal Road

தென்னிந்தியாவின் முதல் இரயில் பாதை எது?

- (A) ராயபுரம் முதல் வாலாஜாபேட்டை வரை
- (B) சென்னை முதல் அரக்கோணம் வரை
- (C) வேலூர் முதல் அரக்கோணம் வரை
- (D) மதுரை முதல் கொடைக்கானல் சாலை வரை

131. On which day is National Panchayati Raj day celebrated every year in India?

- (A) April 24
- (B) August 15
- (C) January 26
- (D) December 1

இந்தியாவில் ஒவ்வொரு ஆண்டும் எந்த நாளில் தேசிய பஞ்சாயத்து ராஜ் தினம் கொண்டாடப்படுகிறது?

- (A) ஏப்ரல் 24
- (B) ஆகஸ்டு 15
- (C) ஜனவரி 26
- (D) டிசம்பர் 1

132. Which was the capital city of India before Delhi?

- (A) Calcutta
- (B) Bombay
- (C) Madras
- (D) Hyderabad

டெல்லிக்கு முன்பு இந்தியாவின் தலைநகரம் எது?

- (A) கல்கத்தா
- (B) பாம்பே
- (C) மெட்ராஸ்
- (D) ஹைதராபாத்

133. The instrument used to measure the amount of electric current is _____

- (A) Voltmeter (B) Ammeter
(C) Galvanometer (D) Speedometer

மின்னோட்டத்தின் அளவை அளவிட பயன்படுத்தப்படும் கருவி _____

- (A) வோல்ட்மீட்டர் (B) அம்மீட்டர்
(C) கால்வனோமீட்டர் (D) ஸ்பீடோமீட்டர்

134. The difference between the greatest six digit and the smallest six digit number is _____

- (A) 9,89,999 (B) 8,99,999
(C) 10,000 (D) 1,99,999

மிகப்பெரிய ஆறு இலக்க எண்ணிற்கும், மிகச்சிறிய ஆறு இலக்க எண்ணிற்கும் உள்ள வித்தியாசம் _____

- (A) 9,89,999 (B) 8,99,999
(C) 10,000 (D) 1,99,999

135. Arrival time at Tirunelveli is 21 Hours 15 Minutes, Departure time at Tindivanam is 10.00 A.M. The travelling time is _____

- (A) 10 Hours 15 Minutes
(B) 12 Hours 10 Minutes
(C) 11 Hours 15 Minutes
(D) 9 Hours 20 Minutes

திருநெல்வேலியை சேர்ந்தடைந்த நேரம் 21 மணி 15 நிமிடம். திண்டிவனத்தில் இருந்து புறப்பட்ட நேரம் காலை 10 மணி. மொத்த பயண நேரம் _____

- (A) 10 மணி 15 நிமிடங்கள்
(B) 12 மணி 10 நிமிடங்கள்
(C) 11 மணி 15 நிமிடங்கள்
(D) 9 மணி 20 நிமிடங்கள்

136. 1500 grams is equal to

- (A) 1 kg 5 grams
- (B) 10 kg 5 grams
- (C) 100 kg 5 grams
- ☒ (D) 1 kg 500 grams

1500 கிராம் எதற்கு சமமானது?

- (A) 1 கிலோ 5 கிராம்
- (B) 10 கிலோ 5 கிராம்
- (C) 100 கிலோ 5 கிராம்
- (D) 1 கிலோ 500 கிராம்

137. Everyday 55 litres of water is sprayed in the garden. Water sprayed in 3 weeks is _____

- (A) 1055 Litre
- (B) 165 Litre
- ☒ (C) 1155 Litre
- (D) 550 Litre

ஒரு தோட்டத்தில் ஒவ்வொரு நாளும் 55 லிட்டர் தண்ணீர் தெளிக்கப்படுகிறது எனில், 3 வாரத்திற்கு தெளிக்கப்படும் தண்ணீரின் அளவு _____

- (A) 1055 லிட்டர்
- (B) 165 லிட்டர்
- (C) 1155 லிட்டர்
- (D) 550 லிட்டர்

138. The difference between the successor and predecessor 7737 is

- (A) 4
- (B) 77
- ☒ (C) 2
- (D) 37

7737 என்ற எண்ணிற்கு பிந்தைய மற்றும் முந்தைய எண்ணிற்கு உள்ள வித்தியாசம்

- (A) 4
- (B) 77
- (C) 2
- (D) 37

139. An equivalent ratio of 4 : 7 is

- (A) 1 : 7 (B) 9 : 14
(C) 14 : 12 (D) 12 : 21

4 : 7 என்பதற்கு சமமான விகிதம்

- (A) 1 : 7 (B) 9 : 14
(C) 14 : 12 (D) 12 : 21

140. In 2022, the population of a town is 2,25,000, if it is increased by 15% in the next year, the population in 2023 is _____

- (A) 2,40,000 (B) 2,58,750
(C) 2,75,000 (D) 2,45,000

2022 ஆம் ஆண்டில் ஒரு நகரின் மக்கள் தொகை 2,25,000 ஆகும். அது அடுத்த வருடத்தில் 15% ஆக உயர்ந்தால், 2023 இன் மக்கள் தொகை _____

- (A) 2,40,000 (B) 2,58,750
(C) 2,75,000 (D) 2,45,000

141. 7.2×3.2 is equal to _____

- (A) 21.08 (B) 28.60
(C) 10.06 (D) 23.04

7.2×3.2 _____ க்கு சமமானது.

- (A) 21.08 (B) 28.60
(C) 10.06 (D) 23.04

142. $(-15) \times (-12)$ is equal to _____

(A) -180

(B) +27

☒ (C) 180

(D) -3

$(-15) \times (-12)$ _____ க்கு சமமானது.

(A) -180

(B) +27

(C) 180

(D) -3

143. Ram studied for 4 hours, 7 hours and 5 hours respectively on 4 consecutive days. If so, how many hours did he study daily on an average?

(A) 16 hours

(B) 6 hours

☒ (C) 4 hours

(D) 8 hours

ராம் தொடர்ச்சியாக 4 நாட்களில் முறையே 4 மணி நேரம், 7 மணி நேரம் மற்றும் 5 மணி நேரம் படித்துள்ளார். அவ்வாறெனில், அவர் ஒரு நாளைக்கு சராசரியாக எவ்வளவு நேரம் படித்துள்ளார்?

(A) 16 மணி நேரம்

(B) 6 மணி நேரம்

(C) 4 மணி நேரம்

(D) 8 மணி நேரம்

144. A heater consumes 5 units of electricity in 50 minutes. How many units does it consume in two and half hours?

(A) 10 units

(B) 20 units

(C) 30 units

☒ (D) 15 units

50 நிமிடங்களில் ஒரு ஹீட்டர் 5 யூனிட் மின்சாரத்தை பயன்படுத்தியுள்ளது. இரண்டரை மணி நேரத்தில் எவ்வளவு யூனிட்களை பயன்படுத்தியிருக்கும்?

(A) 10 யூனிட்கள்

(B) 20 யூனிட்கள்

(C) 30 யூனிட்கள்

(D) 15 யூனிட்கள்

145. Which of the following expression is not zero?

(A) 0×0

(B) $0/0$

☒ (C) $2/0$

(D) $0/2$

பின்வரும் வெளிப்பாடுகளில் எது பூஜ்ஜியமாக இல்லை?

(A) 0×0

(B) $0/0$

(C) $2/0$

(D) $0/2$

146. _____ type of rainfall is called 4 'O' clock rainfall.

☒ (A) Convectional

(B) Orographic

(C) Cyclonic

(D) Monsoon

எந்த வகை மழைப்பொழிவு 4 மணி மழைப்பொழிவு என அழைக்கப்படுகிறது?

(A) வெப்பச்சலன மழை

(B) ஓரோகிராபிக்

(C) சூறாவளி

(D) பருவமழை

147. What is the time limit to get information from Right to Information Act, 2005 (RTI)?

(A) 40 days

☒ (B) 30 days

(C) 25 days

(D) 14 days

தகவல் அறியும் உரிமை சட்டம், 2005 இன் கீழ், தகவலை பெறுவதற்கான கால அளவு

(A) 40 நாட்கள்

(B) 30 நாட்கள்

(C) 25 நாட்கள்

(D) 14 நாட்கள்

148. Electricity produced from coal is called _____

- (A) nuclear power (B) solar power
(C) thermal power (D) hydel power

நிலக்கரியிலிருந்து தயாரிக்கப்படும் மின்சாரம் _____

- (A) அணுமின் சக்தி (B) சூரிய சக்தி
(C) அனல் சக்தி (D) நீர் சக்தி

149. Who is the head of the State Executive?

- (A) Chief Minister
(B) Governor
(C) Chief Secretary of the State
(D) Home Secretary of the State

மாநில நிர்வாகத்தின் தலைவர் யார்?

- (A) முதலமைச்சர்
(B) ஆளுநர்
(C) மாநிலத்தின் தலைமை செயலாளர்
(D) மாநிலத்தின் உள்துறை செயலாளர்

150. In which country is Mount Kailash located?

- (A) India (B) China
(C) Japan (D) Africa

கைலாச மலை எந்த நாட்டில் அமைந்துள்ளது?

- (A) இந்தியா (B) சீனா
(C) ஜப்பான் (D) ஆப்பிரிக்கா

SPACE FOR ROUGH WORK

3

SPACE FOR ROUGH WORK

A

45

3

DJRE22
[Turn over]

[CLICK TO JOIN 150-HOURS FREE CLASS\(9626699743\)](https://www.thangamuthuipsacademy.com)
Er.THANGAMUTHU IPS ACADEMY

SPACE FOR ROUGH WORK

DJRE22

46

A

[CLICK TO JOIN 150-HOURS FREE CLASS\(9626699743\)](#)
Er.THANGAMUTHU IPS ACADEMY

SPACE FOR ROUGH WORK

A

47

DJRE22
[Turn over

CLICK TO JOIN 150-HOURS FREE CLASS(9626699743)
Er.THANGAMUTHU IPS ACADEMY

5. Personalized OMR Answer Sheets of the Candidates will be supplied by the invigilator for answering the Questions. If the OMR Answer Sheet, is in anyway defective, the same shall be brought to the notice of the Invigilator immediately before shading, so as to supply a spare OMR answer sheet.

விடைகளை குறித்துக்காட்ட விண்ணப்பதாரர்களின் தனிப்பயனாக்கப்பட்ட OMR விடைத்தாள் ஒன்று உங்களுக்கு அறை கண்காணிப்பாளரால் தரப்படும். OMR விடைத்தாள் ஏதேனும் குறைபாடுடையதாக இருந்தால், அதில் விடையை குறித்துக்காட்டுவதற்கு முன் உடனடியாக அறை கண்காணிப்பாளரின் கவனத்திற்குக் கொண்டு வந்து வேறொரு OMR விடைத்தாளைப் பெற்றுக்கொள்ள வேண்டும்.

6. Each question has four responses (A) (B) (C) and (D). You have to select ONLY ONE correct answer in the OMR Answer Sheet. In case you feel that there are more than one correct answers, mark only the answer which you consider the most appropriate. In any case, choose ONLY ONE answer for each question. E.g., If for any question, (C) is the correct answer, you have to shade as follows:

(A) (B) (C) (D)

ஒவ்வொரு வினாவும் (A), (B), (C) மற்றும் (D) என நான்கு விடைகளைக் கொண்டுள்ளது. நீங்கள், அவைகளில் ஒரே ஒரு சரியான விடையைத் தேர்வு செய்ய வேண்டும். ஒன்றுக்கு மேற்பட்ட சரியான விடைகள் ஒரு கேள்விக்கு இருப்பதாகக் கருதினால், நீங்கள் மிகச் சரியானது என்று எதைக் கருதுகிறீர்களோ அந்த விடையைத்தான் விடைத்தாளில் குறித்துக் காட்ட வேண்டும். எப்படியாயினும் ஒரு கேள்விக்கு ஒரே ஒரு விடையைத்தான் தேர்ந்தெடுக்க வேண்டும். உதாரணமாக, நீங்கள் (C) என்பதை சரியான விடையாகக் கருதினால், அதை பின்வருமாறு குறித்துக் காட்ட வேண்டும்.

(A) (B) (C) (D)

7. You must write and shade your Question Booklet number and Booklet Series in the space provided in the OMR Answer Sheet without fail with Blue or Black Ball point pen only. In case of any wrong entry of Booklet Series, your Answer Sheet will be invalidated.

உங்களுடைய வினாத்தொகுப்பு எண் மற்றும் அதன் வரிசையை OMR விடைத்தாளின் அதற்கென அமைந்துள்ள இடத்தில் நீலம் அல்லது கருமை நிறமுடைய பந்துமுனைப் பேனாவினால் குறித்துக் காட்டவேண்டும். வினாத்தொகுப்பின் வரிசையை தவறாக குறித்தால் உங்கள் விடைத்தாள் செல்லாததாகிவிடும்.

8. You should not remove or tear off any sheet from the Question Booklet. You are not allowed to take the Question Booklet and the Answer Sheet out of the Examination Hall during the time of examination. You are permitted to take the Question Booklet only after the Examination is completed.

நீங்கள் வினாத் தொகுப்பின் எந்தப் பக்கத்தையும் நீக்கவோ அல்லது கிழிக்கவோ கூடாது. தேர்வு நேரத்தில் இந்த வினாத் தொகுப்பினையோ அல்லது விடைத்தாளையோ தேர்வுக் கூடத்தை விட்டு வெளியில் எடுத்துச் செல்லக்கூடாது. தேர்வு முடிந்தபின், இவ்வினாத் தொகுப்பினை உங்களுடன் எடுத்துச் செல்லலாம்.

9. Do not write anything in the Question Booklet, except in the space provided for Rough work. வினாத்தொகுப்பில் குறிப்புகள் எழுதிப் பார்ப்பதற்குரிய இடத்தைத் தவிர, வேறு இடத்தில் எதையும் எழுதக் கூடாது.

10. Using Whitener / Blade / Eraser or any kind of tampering to change the answers on OMR answer sheet will lead to invalidation.

உங்களுடைய OMR விடைத்தாளில் உள்ள விடைகளை மாற்ற ஒயிடனர் / பிளேடு / அழிப்பான் போன்றவைகளை பயன்படுத்துதல் அல்லது ஏதேனும் சேதப்படுத்துதல் போன்றவை உங்கள் OMR விடைத்தாளைச் செல்லாததாக்கிவிடும்.

11. Failure to comply with any of the above instructions will render you liable for action or penalty as the High Court may decide at their discretion.

மேலே உள்ள எந்த அறிவுறுத்தல்களுக்கும் இணங்கத் தவறினால், உயர்நீதிமன்றம் முடிவெடுக்கும் எந்த ஒரு நடவடிக்கை அல்லது தண்டனைக்கு நீங்கள் பொறுப்பாவீர்கள்.



**PROPOSED KEY ANSWERS FOR THE COMMON WRITTEN
EXAMINATION CONDUCTED ON 16.10.2022 (SUNDAY) FOR THE
POSTS OF EXAMINER, READER, ETC., IN THE JUDICIAL DISTRICTS
OF TAMIL NADU**

(Notification Nos. 154 to 185 / 2022, dated 24.07.2022)

The proposed key answers, marked in the Question Booklet (A-Series), for the common written examination conducted on 16.10.2022 (Sunday) for the posts of ‘**Examiner, Reader, etc.,**’ in the Judicial Districts of Tamil Nadu are hosted herewith.

Any objection with regard to any of the proposed key answer should be sent by the candidates to the Registrar (Recruitment), High Court, Madras, by e-mail (recruitment.mhc@gov.in) within two days from today. In such communication, Registration Number, Name and address of the candidate, Question Booklet Series, Question Number and answer for such question, according to the candidate, with supporting material for such claim, should invariably be quoted. Any representation received after two days or without any of the above requisite particulars will receive no attention.

Dated : 20.10.2022

Sd/-

Place : High Court, Madras.

Registrar (Recruitment)

**CLICK TO JOIN 150-HOURS FREE CLASS(9626699743)
Er.THANGAMUTHU IPS ACADEMY**



தமிழ்நாடு நீதித்துறை மாவட்டங்களில் உள்ள நகல் பரிசோதகர், நகல் வாசிப்பாளர் உள்ளிட்ட பணியிடங்களுக்கு 16.10.2022 (ஞாயிற்றுக்கிழமை) நடைபெற்ற பொது எழுத்துத் தேர்வின் உத்தேச விடைகள்

(அறிவிக்கை எண்கள் 154- 185/ 2022, தேதி 24.07.2022)

தமிழ்நாட்டில் உள்ள கீழமை நீதிமன்றங்களில் நகல் பரிசோதகர், நகல் வாசிப்பாளர் உள்ளிட்ட பணியிடங்களுக்கு 16.10.2022 (ஞாயிற்றுக்கிழமை) அன்று நடைபெற்றபொது எழுத்துத் தேர்வின் வினாத்தொகுப்பு (A-வரிசை) குறிக்கப்பட்ட உத்தேச விடைகள் பதிவேற்றம் செய்யப்பட்டுள்ளது.

உயர்நீதிமன்ற இணையதளத்தில் வெளியிடப்பட்டுள்ள உத்தேச விடைகளில் ஏதேனும் ஆட்சேபனை இருப்பின், அதுகுறித்து சென்னை உயர்நீதிமன்ற நீதித்துறை ஆட்சேர்ப்பு பிரிவின் மின்னஞ்சல் (recruitment.mhc@gov.in) என்ற முகவரிக்கு இன்றிலிருந்து இரண்டு நாட்களுக்குள் அனுப்ப வேண்டும். இவ்வாறு அனுப்பப்படும் மனுவில் தேர்வாளருடைய பதிவு எண், பெயர், முகவரி, வினாத்தொகுப்பின் வரிசை, வினா எண் மற்றும் அதற்கான விடை, உரிய ஆதாரத்துடன் குறிப்பிடப்பட்டிருக்க வேண்டும். உத்தேச விடைகள் வெளியிடப்பட்ட தேதியிலிருந்து இரண்டு நாட்களுக்குப் பிறகு பெறப்படும் ஆட்சேபனை அல்லது மேலே குறிப்பிட்டுள்ள விவரங்கள் குறிப்பிடப்படாமல் அனுப்பப்படும் ஆட்சேபனை, பரிசீலனைக்கு எடுத்துக் கொள்ளப்படமாட்டாது.

தேதி :20.10.2022

ஓம்/-

இடம் :உயர்நீதிமன்றம், மெட்ராஸ்

பதிவாளர் (ஆட்சேர்ப்பு பிரிவு)

CLICK TO JOIN 150-HOURS FREE CLASS(9626699743)
Er.THANGAMUTHU IPS ACADEMY

DJRE22

Booklet Series :

A

Booklet No.

111877

Register No.

Time : 150 Minutes (2½ Hours)

Maximum Marks: 150

IMPORTANT INSTRUCTIONS TO CANDIDATES

தேர்வர்களுக்கான முக்கிய அறிவுரைகள்

Read the following instructions carefully before you begin to answer the questions.

வினாக்களுக்கு பதிலளிக்கும் முன் கீழ்க்கண்ட அறிவுரைகளை கவனமாகப் படிக்கவும்

1. The Candidate will be supplied with Question Booklet 10 minutes before commencement of the examination.
இந்த வினாத் தொகுப்பு தேர்வு தொடங்குவதற்கு 10 நிமிடங்களுக்கு முன்னதாக விண்ணப்பதாரர்களுக்கு வழங்கப்படும்.
2. This Question Booklet contains 150 objective type questions. Before answering, the candidates are requested to check whether all the questions are in seriatim and ensure that there are no blank pages in the question booklet. In case any defect is noticed, it shall be reported to the Invigilator within first 10 minutes and get it replaced with a new same series Question Booklet. After 10 minutes of the commencement of the examination, it will not be replaced.
இந்த வினாத் தொகுப்பு 150 வினாக்களைக் கொண்டுள்ளது. விடையளிக்க தொடங்கும் முன் இவ்வினாத் தொகுப்பில் எல்லா வினாக்களும் வரிசையாக இடம் பெற்றுள்ளனவா என்பதையும், இடையில் ஏதும் வெற்றுத்தாள்கள் உள்ளனவா என்பதையும் சரிபார்த்துக் கொள்ளவும். ஏதேனும் குறைபாடு இருப்பின், அதனை தேர்வு தொடங்குவதற்கு முன்பு முதல் 10 நிமிடத்திற்குள் அறை கண்காணிப்பாளரிடம் தெரிவித்து, சரியாக உள்ள அதே வரிசையுள்ள வேறொரு வினாத் தொகுப்பினை பெற்றுக் கொள்ள வேண்டும். தேர்வு தொடங்கிய 10 நிமிடத்திற்கு பின்பு முறையிட்டால், வினாத் தொகுப்பு மாற்றித் தரப்படமாட்டாது.
3. All Questions in Part (A) and Part (B) carry equal marks. One mark will be awarded for each correct answer. Marks will not be deducted for wrong answer. (No Negative Mark)
பகுதி (அ) மற்றும் (ஆ)-ல் (Part A and Part B) உள்ள எல்லா வினாக்களும் சமமான மதிப்பெண்கள் கொண்டவை. ஒவ்வொரு சரியான விடைக்கும் தலா ஒரு மதிப்பெண் வழங்கப்படும். தவறான விடைக்கு மதிப்பெண் குறைக்கப்படமாட்டாது. (No Negative Mark)
4. You must write your Register Number in the space provided on the top right side of the first page of this booklet without fail. Do not write anything else in the Question Booklet.
உங்களுடைய பதிவு எண்ணை வினாத்தொகுப்பின் வலது மேல் மூலையில் அதற்கென அமைந்துள்ள இடத்தில் எழுத வேண்டும். வேறு எதையும் வினாத் தொகுப்பில் எழுதக் கூடாது.

Please see the last page of this booklet for rest of the instructions /

மீதமுள்ள அறிவிக்கைகளை இறுதி பக்கம் பார்க்கவும்.

SEAL

CLICK TO JOIN 150-HOURS FREE CLASS(9626699743)
Er.THANGAMUTHU IPS ACADEMY

8111

DJRE22

2

A

[CLICK TO JOIN 150-HOURS FREE CLASS\(9626699743\)](#)
[Er.THANGAMUTHU IPS ACADEMY](#)

PART A

1. 'விருந்தினரும், வறியவரும் நெருங்கி யுண்ண மேன்மேலும் முகமலரும் மேலோர் போல' — என்ற வரிகள் கொண்ட இலக்கிய நூல் எது?
- (A) கம்பராமாயணம் (B) சிலப்பதிகாரம்
(C) கலிங்கத்துப்பரணி (D) பொருநராற்றுப்படை
2. அ, இ, உ என்பன ————— ஆகும்.
- (A) உயிரெழுத்துக்கள் (B) சுட்டெழுத்துக்கள்
(C) மெய்யெழுத்துக்கள் (D) இனவெழுத்துக்கள்
3. திருவிளையாடல் புராணம் எழுதியவர் யார்?
- (A) கம்பர் (B) பரஞ்சோதி முனிவர்
(C) வாமனாசாரியார் (D) சேக்கிழார்
4. 'உடன்பட்டுக் கூறும் விடை' என்பது
- (A) உற்றது உரைத்தல் விடை (B) உறுவது கூறல் விடை
(C) மறை விடை (D) நேர் விடை
5. பொருந்தாததை தேர்ந்தெடுக்க.
- (A) திருநாவுக்கரசர் (B) திருஞானசம்பந்தர்
(C) சுந்தரர் (D) மாணிக்கவாசகர்
6. 'கம்பன் வீட்டுக் கட்டுத்தறியும் கவிபாடும்' எனக் கூறியவர் யார்?
- (A) கபிலர் (B) பாரதியார்
(C) கவிமணி (D) பாரதிதாசன்
7. நகு என்ற சொல்லின் நக்கான் என்ற வடிவம் குறிக்கும் காலம் எது?
- (A) நிகழ்காலம் (B) எதிர்காலம்
(C) இறந்தகாலம் (D) நிகழ்வு எதிர்காலம்

8. சிலப்பதிகாரத்தில் மாதவி நடனமாடிய ஆடல்கள் எத்தனை வகைப்படும் ?
 (A) 10 (B) 11
 (C) 12 (D) 14
9. அறிஞருக்கு நூல், அறிஞரதுநூல் ஆகிய சொற்றொடர்களில் பொருளை வேறுபடுத்தக் காரணமாக அமைவது எது ?
 (A) எழுவாய் (B) வேற்றுமை உருபு
 (C) உவம உருபு (D) உரிச்சொல்
10. முதுவேனிற்காலத்திற்கான மாதங்கள் எவை ?
 (A) சித்திரை, வைகாசி (B) ஆனி, ஆடி
 (C) மாசி, பங்குனி (D) ஆவணி, புரட்டாசி
11. போர் முனையில் ஆயிரம் யானைகளைக் கொன்ற வீரனைப் புகழ்ந்து பாடும் இலக்கியம் எது ?
 (A) தூது (B) கலம்பகம்
 (C) உலா (D) பரணி
12. ஏறு தழுவுதல் இடம்பெறும் சங்க நூல் எது ?
 (A) அகநானூறு (B) கலித்தொகை
 (C) புறநானூறு (D) நற்றிணை
13. 'நீர் இன்று அமையா யாக்கைக்கு எல்லாம்
 உண்டி கொடுத்தோர் உயிர் கொடுத்தோரே' என்ற பாடல் வரிகள் இடம்பெற்றுள்ள நூல் எது ?
 (A) பதிற்றுப்பத்து (B) புறநானூறு
 (C) பரிபாடல் (D) குறுந்தொகை
14. 'தம்பிரான் தோழர்' யார் ?
 (A) மாணிக்கவாசகர் (B) திருஞானசம்பந்தர்
 (C) திருநாவுக்கரசர் (D) சுந்தரர்

15. வேறுபட்டதைச் சுட்டிக் காட்டுக

(A) மூடுபனி

(B) கடிநாய்

(C) ஊறுகாய்

(D) நீலவானம்

16. உயிர் எழுத்துக்கள் பன்னிரெண்டும் எதை இடமாகக் கொண்டு பிறக்கின்றன?

(A) மார்பு

(B) தலை

(C) மூக்கு

(D) கழுத்து

17. 'கலையரசி மாலை தொடுத்தாள்' – இத்தொடரில் இடம்பெறும் வினைமுற்று

(A) குறிப்பு வினைமுற்று

(B) தெரிநிலை வினைமுற்று

(C) ஏவல் வினைமுற்று

(D) வியங்கோள் வினைமுற்று

18. நான்காம் வேற்றுமைக்குரிய உருபு எது?

(A) அது

(B) ஆல்

(C) கு

(D) கண்

19. தனித்து இயங்காத சொல் எது?

(A) பெயர்ச்சொல்

(B) வினைச்சொல்

(C) இடைச்சொல்

(D) வடமொழிச்சொல்

20. வெண்பா எத்தனை வகைப்படும்?

(A) மூன்று

(B) நான்கு

(C) ஐந்து

(D) இரண்டு

21. 'செம்மல்' என்ற சொல் பூவின் எந்த நிலையைக் குறிக்கும்?

(A) தோற்றநிலை

(B) மலர்ந்த நிலை

(C) கீழே விழுந்த நிலை

(D) வாடின நிலை

22. சரியான விடையைத் தேர்வு செய்க.

1. இராவண காவியம் (அ) தமிழ் ஒளி
2. மாதவி காவியம் (ஆ) திரு.வி.க
3. பெண்ணின் பெருமை (இ) பெருஞ்சித்திரனார்
4. பாவியக்கொத்து (ஈ) புலவர் குழந்தை

- (A) 1(ஈ), 2(அ), 3(ஆ), 4(இ)
(B) 1(இ), 2(ஆ), 3(அ), 4(ஈ)
(C) 1(ஆ), 2(இ), 3(ஈ), 4(அ)
(D) 1(இ), 2(அ), 3(ஈ), 4(ஆ)

23. Folder – தமிழ்ச்சொல் தருக

- (A) செதுக்கி (B) உலவி
(C) உறை (D) சுட்டி

24. 'மா' என்னும் சொல்லுக்குப் பொருந்தாத பொருள் தருக

- (A) விலங்கு (B) மாலை
(C) திருமகள் (D) பெரிய

25. 'துன்பம்' என்னும் பொருளில் வரும் ஒரெழுத்து ஒருமொழி _____.

- (A) சா (B) தூ
(C) நொ (D) பே

26. '_____ செய்ய வேண்டுகிறேன்' – கோடிட்ட இடத்திற்குப் பொருந்தும் சொல்.

- (A) ஆகுவன (B) ஆவண
(C) ஆவணம் (D) ஆவன

27. பெயர்ச்சொல்லையும் வினைச்சொல்லையும் சார்ந்து வரும் சொல்

(A) உரிச்சொல்

(B) திசைச்சொல்

(C) இடைச்சொல்

(D) இயற்சொல்

28. 'வாடிய ப்யிரை கண்டபோதெல்லாம் வாடினேன்' என்னும் கூற்றுக்குரியவர்

(A) இராமலிங்க அடிகள்

(B) மணிமேகலை

(C) குண்டலகேசி

(D) வளையாபதி

29. பிழையற்ற சொல்லைத் தேர்வு செய்க

(A) அனுப்புநர்

(B) அனுப்புநர்

(C) அனுப்புனர்

(D) அனுப்புணர்

30. Media – என்பதற்குப் பொருத்தமான தமிழ்ச்சொல்

(A) தொடர்புக் கருவி

(B) வலைத்தளம்

(C) இணையம்

(D) ஊடகம்

31. 'வளையோசை கலகல வென ஒலித்தது' – இலக்கணக் குறிப்பு தருக

(A) இரட்டைக் கிளவி

(B) உரிச்சொல்

(C) இடைச்சொல்

(D) அடுக்குத் தொடர்

32. ஐம்பால் – பிரித்து எழுதுக

(A) ஐ + பால்

(B) ஐம் + பால்

(C) ஐந்து + பால்

(D) ஐந் + பால்

33. 'குழறும்' பறவை —————.
- (A) ஆந்தை (B) கூகை
(C) காகம் (D) மயில்
34. மரபுப் பிழையுள்ள தொடரைத் தேர்வு செய்க.
- (A) கோழி கொக்கரிக்கும் (B) குயில் கூவும்
(C) காகம் கத்தும் (D) கிளி பேசும்
35. தொடரின் ஈற்றில் இடம்பெறும் நிறுத்தக்குறி —————.
- (A) முக்காற்புள்ளி (B) காற்புள்ளி
(C) அரைப்புள்ளி (D) முற்றுப்புள்ளி
36. பிழையான தொடரைச் சுட்டிக் காட்டுக
- (A) எந்த பாடம் (B) எந்த வகை
(C) எந்த மான் (D) எந்த நாடு
37. எழுதுபொருள், எழுதுப்பொருள் – எது சரியானது?
- (A) எழுதுப்பொருள் (B) எழுதுபொருள்
(C) இரண்டும் சரி (D) இரண்டும் தவறு
38. 12 என்ற எண்ணின் எழுத்து வடிவம் —————.
- (A) பனிரண்டு (B) பனிரெண்டு
(C) பன்னிரண்டு (D) பன்னிரெண்டு
39. கீழ்வருவனவற்றுள் சரியானதைத் தேர்வு செய்க.
- (A) தொண்ணூற்றாறு (B) தொன்னூற்றாறு
(C) தொண்ணூற்றாறு (D) தொண்ணூற்றாறு

40. 'குடக்கு' என்னும் திசை

- (A) வடக்கு
(C) மேற்கு

- (B) தெற்கு
(D) கிழக்கு

41. 'தமிழா நீ பேசுவது தமிழா' என்னும் தொடரில் முதலில் வரும் 'தமிழா' என்பது

- (A) வினா
(C) பெயர்

- (B) விளி
(D) வினை

42. 'Classical Literature' என்பதன் தமிழ்ச் சொல்லாக்கம்

- (A) காப்பிய இலக்கியம்
(C) செவ்விலக்கியம்

- (B) பக்தி இலக்கியம்
(D) வட்டார இலக்கியம்

43. 'திரு ஆலவாய்' என்று குறிப்பிடப்படும் ஊர் _____.

- (A) மதுரை
(C) கோவை

- (B) திருச்சிராப்பள்ளி
(D) திருநெல்வேலி

44. 'உனக்குக் கவிதை எழுதத் தெரியுமா?' என்ற வினாவுக்கு 'எனக்குக் கட்டுரை எழுதத் தெரியும்' என்பது _____.

- (A) சுட்டு விடை
(C) இனமொழி விடை

- (B) மறைவிடை
(D) ஏவல் விடை

45. "அன்பும் அறனும் உடைத்தாயின் இல்வாழ்க்கை

பண்பும் பயனும் அது" என்னும் திருக்குறளில் அமைந்துள்ள பொருள்தோள்

- (A) ஆற்றுநீர்
(C) நிரல்நிறை

- (B) மொழிமாற்று
(D) கொண்டு கூட்டு

46. 'வேழ நெடும் படை' என்பது _____.

(A) குதிரைப்படை

(B) யானைப்படை

(C) தேர்ப்படை

(D) காலாட்படை

47. 'வேலவன் குன்றம்' என்பது

(A) திருவேங்கடம்

(B) திருத்தணி

(C) திருநீர்மலை

(D) மலைக்கோட்டை

48. 'குடிமக்கள் காப்பியம்' எனப் போற்றப்படுவது _____.

(A) இராம காதை

(B) வில்லிபாரதம்

(C) சிலப்பதிகாரம்

(D) மணிமேகலை

49. 'தலையைக் கொடுத்தேனும் தலைநகரைக் காப்போம்' என்ற தொடரில் தலைநகரம் என்பது _____.

(A) சென்னை

(B) ஐதராபாத்

(C) திருவனந்தபுரம்

(D) தில்லி

50. "மங்கையராய் பிறப்பதற்கே - நல்ல

மாதவம் செய்திட வேண்டுமம்மா" - என்று பாடியவர் _____.

(A) பாரதியார்

(B) திரு.வி.க

(C) கவிமணி தேசிக விநாயகம் பிள்ளை

(D) கண்ணதாசன்

PART B

51. A person pulls a bench from one place to another using _____ on the object.

- (A) Force (B) Pull
(C) Inertia (D) Motion

ஒரு நபர் மேசையை ஒரு இடத்திலிருந்து மற்றொரு இடத்திற்கு இழுப்பதற்கு _____ பயன்படுத்துகிறார்.

- (A) விசை (B) இழுத்தல்
(C) நிலைமம் (D) இயக்கம்

52. A motor cycle is fitted with springs and shock absorbers, because

- (A) It gives a good look to the vehicle
(B) It helps to reduce jerks while moving on uneven roads
(C) It helps to stop the vehicle at the correct time
(D) It is the design of the vehicle

இரு சக்கர வாகனத்தில் சுருள்வில் அமைப்புகளும் அதிர்வுறிஞ்சிகளும் பொருத்தப்பட்டிருக்கும். ஏனெனில், அவைகள்

- (A) வாகனத்திற்கு நல்ல தோற்றத்தை அளிக்கிறது
(B) சீரற்ற சாலைகளில் நகரும் போது ஏற்படும் அதிர்வுகளை குறைக்க உதவுகிறது
(C) சரியான நேரத்தில் வாகனத்தை நிறுத்த உதவுகிறது
(D) வாகனத்தின் வடிவமைப்பாகும்

53. An object that emits its own light is called _____

- (A) bright object (B) source of light
(C) luminous object (D) sun

தன் சுய ஒளியை வெளியிடும் பொருள் _____ என அழைக்கப்படுகிறது.

- (A) பிரகாசமான பொருள் (B) ஒளியின் ஆதாரம்
(C) ஒளிரும் பொருள் (D) சூரியன்

54. The coloured part of the eye which controls the amount of light entering the pupil is known as _____

- (A) Cornea (B) Eye-Lids
(C) Retina (D) Iris

கண்பாவையில் நுழையும் ஒளிக்கதிர்களின் அளவைக் கட்டுப்படுத்தும் கண்ணின் நிறமுடைய பகுதி _____ என்று அழைக்கப்படுகிறது.

- (A) கார்னியா (B) கண் இமைகள்
(C) விழித்திரை (D) கருவிழி

55. Name the instrument used to see long distance objects like the stars.

- (A) Microscope (B) Lens
(C) Camera (D) Telescope

நட்சத்திரங்கள் போன்ற நீண்ட தூரத்தில் இருக்கும் பொருட்களைப் பார்க்கப் பயன்படும் கருவியின் பெயரைக் குறிப்பிடவும்.

- (A) நுண்ணோக்கி (B) கண்ணாடி வில்லை
(C) புகைப்படக் கருவி (D) தொலைநோக்கி

56. Consider the correctness of the statements below.

I. When an object is heated, its temperature lowers.

II. When heated, the object expands.

- (A) Statement II is correct and Statement I is wrong
(B) Statement I is correct and Statement II is wrong
(C) Statement I and II are correct
(D) Statement I and II are wrong

கீழ்க்கண்ட கூற்றுகளின் உண்மை தன்மையை கண்டறியவும்.

I. ஒரு பொருளை சூடாக்கும்போது, அதன் வெப்பநிலை குறைகிறது

II. சூடாக்கும்போது, பொருள் விரிவடைகிறது.

- (A) கூற்று II சரியானது மற்றும் கூற்று I தவறானது
(B) கூற்று I சரியானது மற்றும் கூற்று II தவறானது
(C) கூற்று I மற்றும் II சரியானது
(D) கூற்று I மற்றும் II தவறானது

57. When we use a table fan for a long time and when we touch the motor box after switching it off, the motor box will be hot, why?

- (A) Because there is no ventilation in the motor box
- ☒ (B) Because of the heating effect of current
- (C) Because it is not connected properly
- (D) Because it is used for a long time

மேஜை விசிறியை நீண்ட நேரம் பயன்படுத்தி, அதை அணைத்த பின் மோட்டார் பெட்டியை தொடும்போது, மோட்டார் பெட்டி சூடாக இருக்கும், ஏன்?

- (A) ஏனெனில் மோட்டார் பெட்டியில் காற்றோட்டம் இல்லை
- (B) மின்னோட்டத்தின் வெப்ப விளைவின் காரணமாக
- (C) ஏனெனில் அது சரியாக இணைக்கப்படவில்லை
- (D) ஏனெனில் அது நீண்ட நேரமாக பயன்படுத்தப்படுவதால்

58. The two factors used to determine electric consumption in our houses are

- (A) Number of hours of power shut down and number of electrical equipments used
- (B) Number of Air conditioning units and number of fans
- ☒ (C) Amount of electric power and duration of usage
- (D) None of the above

நம் வீடுகளில் மின் உபயோகத்தை தீர்மானிக்கப் பயன்படுத்தப்படும் இரண்டு காரணிகள்

- (A) மின்சாரம் நிறுத்தப்பட்ட நேரத்தின் எண்ணிக்கை மற்றும் பயன்படுத்தப்பட்ட மின் சாதனங்களின் எண்ணிக்கை
- (B) குளிர் சாதனப் பெட்டியின் எண்ணிக்கை மற்றும் மின்விசிறிகளின் எண்ணிக்கை
- (C) மின்சாரத்தின் அளவு மற்றும் பயன்பாட்டின் நேரம்
- (D) மேற்கூறிய எதுவும் இல்லை

59. An echo sound is produced due to the _____ of the original sound wave.

- (A) repetition (B) loudness
(C) vibration (D) reflection

அசல் ஒலி அலையின் _____ காரணமாக எதிரொலி நிகழ்கிறது.

- (A) மீண்டும் மீண்டும் நேரும் இயல்பு (B) சத்தம்
(C) அதிர்வு (D) பிரதிபலிப்பு

60. The mineral from which a metal can be readily and economically extracted on a large scale is called _____

- (A) Ore (B) Flux
(C) Matrix (D) Lava

ஒரு கனிமத்திலிருந்து, பெரிய அளவில் எளிதாகவும், அதிக செலவின்றி பிரித்தெடுக்கக் கூடிய உலோகம் _____ எனப்படும்.

- (A) தாது (B) இளக்கி
(C) அச்சவார்ப்புரு (D) எரிமலை குழம்பு

61. Amalgam is the mixture of _____ with another metal.

- (A) Aluminium (B) Mercury
(C) Iron (D) Copper

இரசக்கலவை என்பது _____ உடன் உலோகம் சேர்ந்த கலவையாகும்.

- (A) அலுமினியம் (B) பாதரசம்
(C) இரும்பு (D) செம்பு

62. What makes a car move using fuel?

- (A) Evaporation of fuel (B) Condensation of fuel
(C) Combustion of fuel (D) Lubrication of fuel

ஒரு கார் எரிபொருளைக் கொண்டு எவ்வாறு இயங்குகிறது?

- (A) எரிபொருள் ஆவியாவதால் (B) எரிபொருள் ஒடுக்கத்தால்
(C) எரிபொருள் எரிவதால் (D) எரிபொருள் உயவுவதால்

63. The heart of a fish has ————— chambers.

- (A) One (B) Four
(C) Three (D) Two

மீனின் இதயத்தில் ————— அறைகள் உள்ளன.

- (A) ஒன்று (B) நான்கு
(C) மூன்று (D) இரண்டு

64. What are the main blood groups of a human?

- (A) A, B, AB and O
(B) A, B and O
(C) A and O
(D) A, B, AB, O+(positive) and O – (negative)

மனிதனின் முக்கிய இரத்த வகைகள் யாவை?

- (A) A, B, AB மற்றும் O
(B) A, B மற்றும் O
(C) A மற்றும் O
(D) A, B, AB, O+(பாசிட்டிவ்) மற்றும் O – (நெகட்டிவ்)

65. The Nation wide Family Planning Programme in India was launched in —————

- (A) 1949 (B) 1952
(C) 1950 (D) 1951

இந்தியாவில் தேசிய அளவிலான குடும்பக் கட்டுப்பாடு திட்டம் தொடங்கப்பட்ட ஆண்டு

- (A) 1949 (B) 1952
(C) 1950 (D) 1951

66. The National Day for Menstrual Hygiene is observed on _____ every year.

(A) April 28

(B) May 15

☒ (C) May 28

(D) November 14

ஒவ்வொரு வருடமும் எந்த நாள் மாதவிடாய் சுகாதார நாளாக அனுசரிக்கப்படுகிறது?

(A) ஏப்ரல் 28

(B) மே 15

(C) மே 28

(D) நவம்பர் 14

67. In humans, normally each cell contains _____ pairs of chromosomes.

(A) 21

(B) 25

(C) 22

☒ (D) 23

ஒவ்வொரு மனித செல்லிலும் பொதுவாக _____ ஜோடி குரோமோசோம்கள் உள்ளன.

(A) 21

(B) 25

(C) 22

(D) 23

68. Fossils are evidences of ancient life forms preserved by _____

☒ (A) Natural processes

(B) Using saline solutions

(C) Taxidermy

(D) Using herbal medicines

புதை உயிர்ப் படிவங்கள் _____ பாதுகாக்கப்பட்ட பழங்கால உயிரிகளைப் பற்றிய ஆதாரமாக விளங்குகிறது.

(A) இயற்கை செயல்முறைகளால்

(B) உப்பு கரைசல்களால்

(C) டாக்சிடெர்மியால்

(D) மூலிகை மருந்துகளால்

69. Which among the following is the Child Helpline Number?

- (A) 1033 (B) 1098
(C) 1028 (D) 100

பின்வருவனவற்றில் குழந்தை உதவி எண் எது?

- (A) 1033 (B) 1098
(C) 1028 (D) 100

70. Addiction to tobacco is caused due to the presence of ————— which is a stimulant, highly harmful and poisonous substance.

- (A) Cocoa (B) Opium
(C) Nicotine (D) Chemicals

கிளர்ச்சியைத் தூண்டும், மிகவும் தீங்கு விளைவிக்கும், நச்சுத்தன்மை வாய்ந்த —————

பொருள், ஒருவரை புகையிலைக்கு அடிமையாக்குகிறது.

- (A) கொக்கோ (B) ஒபியம்
(C) நிகோடின் (D) இரசாயனங்கள்

71. Expand HIV.

- (A) Human Infection Virus (B) Human Immuno Virus
(C) Human Indirect Virus (D) Human Immunodeficiency Virus

HIV யின் விரிவாக்கம் என்ன?

- (A) மனித தொற்று வைரஸ் (B) மனித நோயெதிர்ப்பு வைரஸ்
(C) மனித மறைமுக வைரஸ் (D) மனித தடைகாப்பு குறைபாடு வைரஸ்

72. Solar Cell is made up of ————— that converts sunlight directly into electricity.

- (A) Silicon (B) Lithium
(C) Copper (D) Aluminium

சூரியமின்கலம், சூரிய ஒளியை நேரடியாக மின்சாரமாக மாற்றும் ————— ஆல் ஆனது.

- (A) சிலிக்கான் (B) லித்தியம்
(C) செம்பு (D) அலுமினியம்

73. Arrange the following methods step-wise to indicate the conventional method of wastewater treatment.

- (i) water reuse
(ii) pre-screening
(iii) sludge management
(iv) aeration

- (A) (i), (ii), (iii), (iv) (B) (ii), (iv), (iii), (i)
(C) (ii), (iii), (iv), (i) (D) (iv), (iii), (ii), (i)

வழக்கமான கழிவுநீர் சுத்திகரிப்பு முறை கீழ்க்கண்ட படிநிலைகளில் கையாளப்படுகிறது அதனை சரியாக வரிசைப்படுத்தவும்.

- (i) நீர் மறுசுழற்சி
(ii) வடிகட்டுதல்
(iii) படிவு அகற்றுதல்
(iv) காற்றேற்றம்

- (A) (i), (ii), (iii), (iv) (B) (ii), (iv), (iii), (i)
(C) (ii), (iii), (iv), (i) (D) (iv), (iii), (ii), (i)

74. _____ is used to save multiple files in a computer.

- (A) Paint (B) MS Word
(C) Folder (D) Notepad

ஒரு கணினியில் பல கோப்புகளைச் சேமிக்க _____ பயன்படுகிறது.

- (A) பெயிண்ட் (B) எம் எஸ் வோர்டு
(C) கோப்புத்தொகுப்பு (D) நோட்பேட்

75. Which one of the following continents were colonized and exploited in the nineteenth century?

- (A) Europe (B) Australia
(C) Antartica (D) Asia

பின்வரும் கண்டங்களில் எந்த கண்டம் பத்தொன்பதாம் நூற்றாண்டில் காலனித்துவப்படுத்தப்பட்டு சுரண்டப்பட்டது?

- (A) ஐரோப்பா (B) ஆஸ்திரேலியா
(C) அண்டார்டிகா (D) ஆசியா

76. The International Court of Justice was set up at _____

- (A) Hague (B) Scotland
(C) Paris (D) Ireland

சர்வதேச நீதிமன்றம் _____ ல் அமைந்துள்ளது.

- (A) ஹேக் (B) ஸ்காட்லாந்து
(C) பாரிஸ் (D) அயர்லாந்து

77. In 1934, Adolf Hitler became the President of

- (A) France (B) Germany
(C) Switzerland (D) Canada

1934 ஆம் ஆண்டில், அடால்ஃப் ஹிட்லர் எந்த நாட்டின் ஜனாதிபதியானார்?

- (A) பிரான்ஸ் (B) ஜெர்மனி
(C) சுவிட்சர்லாந்து (D) கனடா

78. Boers were the Dutch Settlers of Africa. They were also known as _____

- (A) Transvaal (B) Uitlanders
(C) Afrikaners (D) Africans

ஆப்பிரிக்காவில் குடியேறிய டச்சுக் குடியேறிகள் போயர்கள் ஆவர். இவர்கள் _____ எனவும் அழைக்கப்படுகிறார்கள்.

- (A) டிரான்ஸ்வால் (B) யுட்லேண்டர்ஸ்
(C) ஆப்பிரிக்கநேர்கள் (D) ஆப்பிரிக்கான்ஸ்

79. Anti-Apartheid movement was spearheaded by _____, who was also known in South Africa as the 'Father of the Nation'.

- (A) Henry Mandela (B) Oliver Tambo
(C) Walter Sisulu (D) Nelson Mandela

நிறுவெறி எதிர்ப்பு இயக்கம் _____ ஆல் வழி நடத்தப்பட்டது. அவர் தென்னாப்பிரிக்காவில் 'தேசத்தின் தந்தை' என்றும் அழைக்கப்பட்டார்.

- (A) ஹென்றி மண்டேலா (B) ஆலிவர் டாம்போ
(C) வால்டர் சிசுலு (D) நெல்சன் மண்டேலா

80. When did the Pearl Harbour Attack take place?

- (A) 1941 (B) 1943
(C) 1942 (D) 1945

எப்போது முத்துத் துறைமுகத் தாக்குதல் நடத்தப்பட்டது?

- (A) 1941 (B) 1943
(C) 1942 (D) 1945

81. The Universal Declaration of Human Rights was framed as an aftermath of the ——— that took place in Germany.

- (A) War (B) Holocaust
(C) Natural Calamity (D) Famine

மனித உரிமைகளுக்கான உலகளாவிய பிரகடனம் ஜெர்மனியில் நடந்த ——— பிறகு உருவாக்கப்பட்டது.

- (A) போருக்கு (B) பேரழிவுக்கு
(C) இயற்கை பேரிடருக்கு (D) பஞ்சத்திற்கு

82. Which of the following is not an organ of the United Nations?

- (A) Food and Agriculture Organization
(B) World Health Organization
(C) International Business Management Institute
(D) United Nations Development Programme

பின்வருவனவற்றில் எது ஐக்கிய நாடுகள் சபையின் அங்கம் இல்லை?

- (A) உணவு மற்றும் வேளாண்மை அமைப்பு
(B) உலக சுகாதார நிறுவனம்
(C) சர்வதேச வணிக மேலாண்மை நிறுவனம்
(D) ஐக்கிய நாடுகளின் வளர்ச்சி திட்டம்

83. Who among the following played a key role in abolition of the practice of Sati in India in 1829?

- (A) Debendranath Tagore
- (B) Kesab Chandra Sen
- (C) M.G. Ranade
- ☒ (D) Raja Rammohan Roy

1829 ஆம் ஆண்டில் இந்தியாவில் உடன்கட்டை ஏறுதல் (சதி) என்னும் பழக்கத்தை ஒழிப்பதில் முக்கிய பங்கு வகித்தவர் யார்?

- (A) தேபேந்திரநாத் தாகூர்
- (B) கேசப் சந்திர சென்
- (C) M.G. ராண்டே
- (D) இராஜா ராம்மோகன் ராய்

84. Thiruvavutpa is a collection of songs written by _____

- ☒ (A) Ramalinga Adigal
- (B) Iyothē Thassar
- (C) Manickavasagar
- (D) Thirugnānasambandar

திருவருட்பா என்பது _____ எழுதிய பாடல்களின் தொகுப்பு.

- (A) இராமலிங்க அடிகள்
- (B) அயோத்தி தாசர்
- (C) மாணிக்கவாசகர்
- (D) திருஞானசம்பந்தர்

85. The Unit of women soldiers led by Kuyili, a faithful friend of Velunachiyar was called _____

- (A) Padai (B) Palayam
(C) Udaiyaal (D) None of the above

வேலுநாச்சியாரின் உண்மையுள்ள நண்பரான குயிலி தலைமையிலான பெண்களின் படைப்பிரிவு _____ என அழைக்கப்பட்டது.

- (A) படை (B) பாளையம்
(C) உடையாள் (D) மேற்கூறிய எதுவும் இல்லை

86. Who is known as Punjab Kesari?

- (A) Lal Bahadur Shastri (B) Pingali Venkayya
(C) Lala Lajpat Rai (D) Bal Gangadhar Tilak

பஞ்சாப் கேசரி என அழைக்கப்படுபவர் யார்?

- (A) லால் பகதூர் சாஸ்திரி (B) பிங்கலி வெங்கையா
(C) லாலா லஜபதி ராய் (D) பால கங்காதர திலகர்

87. During Swadeshi Period, a Swadeshi Steam Navigation Company was set up by V.O. Chidambaranar at _____

- (A) Tuticorin (B) Kanyakumari
(C) Cuddalore (D) Pondicherry

சுதேசி காலத்தில் வ.உ. சிதம்பரனார் சுதேசி கப்பல் நிறுவனத்தை தொடங்கிய இடம் _____

- (A) தூத்துக்குடி (B) கன்னியாகுமரி
(C) கடலூர் (D) பாண்டிச்சேரி

88. Nationwide Satyagraha was called for by Mahatma Gandhi against _____ which was also called as Black Act.

- (A) The Government of India Act, 1919
- ☒ (B) The Rowlatt Act
- (C) Tinkathia System
- (D) Simon Commission

மகாத்மா காந்தியால் கருப்புச் சட்டம் என்று அழைக்கப்பட்ட _____ க்கு எதிராக நாடு தழுவிய சத்தியாகிரகத்திற்கு அழைப்பு விடுக்கப்பட்டது.

- (A) இந்திய அரசு சட்டம், 1919
- (B) ரௌலட் சட்டம்
- (C) தீன்காதியா முறை
- (D) சைமன் குழு

89. The Salt March held in Tamil Nadu by C. Rajaji was from _____ to Vedaranyam.

- (A) Tuticorin
- (B) Chennai
- ☒ (C) Tiruchirapalli
- (D) Madurai

C. ராஜாஜி அவர்கள் தமிழ்நாட்டில் நடத்திய உப்பு சத்தியாகிரக யாத்திரை _____ முதல் வேதாரண்யம் வரை நடைபெற்றது.

- (A) தூத்துக்குடி
- (B) சென்னை
- (C) திருச்சிராப்பள்ளி
- (D) மதுரை

90. Yasser Arafat was the President of _____

- (A) Pakistan
- (B) Saudi Arabia
- (C) Iran
- ☒ (D) Palestine

யாசர் அராபத் _____ நாட்டின் ஜனாதிபதியாக இருந்தார்.

- (A) பாகிஸ்தான்
- (B) சவுதி அரேபியா
- (C) ஈரான்
- (D) பாலஸ்தீனம்

91. The first Tamil Daily Swadesamitran was started by _____

- (A) G. Subramania Iyer (B) M. Veeraraghavachari
(C) T. Muthuswami (D) Srinivasanar

முதல் தமிழ் நாளிதழ் சுதேசமித்ரன் _____ என்பவரால் தொடங்கப்பட்டது.

- (A) ஜி. சுப்ரமணிய ஐயர் (B) மு. வீரராகவாச்சாரி
(C) டி. முத்துசாமி (D) ஸ்ரீநிவாசனார்

92. Who among the following is hailed as Kodikatha Kumaran?

- (A) V. Ramalinganar
(B) O.K.S.R. Kumaraswamy Mudaliar
(C) T. Prakasam
(D) K. Nageswara Rao

கீழ்க்கண்டவர்களில் கொடிகாத்த குமரன் என்று போற்றப்படுபவர் யார்?

- (A) வி. இராமலிங்கனார்
(B) ஓ.கே.எஸ்.ஆர். குமாரசாமி முதலியார்
(C) டி. பிரகாசம்
(D) கே. நாகேஸ்வர ராவ்

93. The earliest text of Tamil Literary 'Thirukkural' was published in the year

- (A) 1702 (B) 1945
(C) 1812 (D) 1844

தமிழ் இலக்கியத்தின் ஆரம்பகால உரையான 'திருக்குறள்' வெளியிடப்பட்ட ஆண்டு

- (A) 1702 (B) 1945
(C) 1812 (D) 1844

94. Who was the founder of 'Tani Tamil Iyakkam'?

- (A) V.G. Suryanarayana Sastri
- (B) Bharathidasan
- (C) S. Vaiyapuri
- ☒ (D) Maraimalai Adigal

‘தனித்தமிழ் இயக்கத்தின்’ நிறுவனர் யார்?

- (A) வி.ஜி. சூரியநாராயண சாஸ்திரி
- (B) பாரதிதாசன்
- (C) எஸ். வையாபுரி
- (D) மறைமலை அடிகள்

95. Which of the following is not a name used to denote E.V. Ramasamy, the founder of Self-respect movement?

- ☒ (A) Parithimar Kalaigar
- (B) Periyar
- (C) Vaikom Veerar
- (D) Chitraputtiran

கீழ்க்கண்டவற்றில் சுயமரியாதை இயக்கத்தின் நிறுவனர் ஈ.வெ. இராமசாமியைக் குறிக்கப்பெறாத பெயர் எது?

- (A) பரிதிமாற் கலைஞர்
- (B) பெரியார்
- (C) வைக்கம் வீரர்
- (D) சித்திரபுத்திரன்

96. 'Thozhilalan' was a ————— published by M. Singaravelar to address the problems of the working class.

(A) Tamil Magazine

☒ (B) Tamil Newspaper

(C) Tamil Book

(D) Tamil hand-out

தொழிலாளர்களின் வார்க்கத்தின் பிரச்சனைகளைத் தீர்க்க ம. சிங்காரவேலரால் வெளியிடப்பட்ட ————— 'தொழிலாளன்' ஆகும்.

(A) தமிழ் இதழ்

(B) தமிழ் நாளிதழ்

(C) தமிழ் புத்தகம்

(D) தமிழ் கையேடு

97. The tri-junction of the Anamalai Range, the Cardamom Hills and the Palani Hills is called

(A) Kodaikanal

(B) Ootacamund

☒ (C) Anaimudi

(D) Shimla

ஆனைமலை, ஏலக்காய் மலை மற்றும் பழனிமலை ஆகியவை சந்திக்கும் பகுதி ————— எனப்படும்.

(A) கொடைக்கானல்

(B) உதகமண்டலம்

(C) ஆனைமுடி

(D) சிம்லா

98. Which among the following States in India has the highest number of buffaloes?

(A) Rajasthan

(B) Bihar

(C) Andhra Pradesh

☒ (D) Uttar Pradesh

இந்தியாவில் பின்வரும் எந்த மாநிலத்தில் அதிக எண்ணிக்கையில் எருமைகள் உள்ளன?

(A) ராஜஸ்தான்

(B) பீகார்

(C) ஆந்திர பிரதேசம்

(D) உத்திரபிரதேசம்

99. Aluminium is extracted from

- (A) Bauxite (B) Copper
(C) Limestone (D) Dolomite

அலுமினியம் எதிலிருந்து பிரித்தெடுக்கப்படுகிறது?

- (A) பாக்கைட் (B) செம்பு
(C) சுண்ணாம்புக் கல் (D) டோலமைட்

100. Justice Thiru. Uday Umesh Lalit was sworn in as the ——— Chief Justice of India.

- (A) 49th (B) 41st
(C) 51st (D) 59th

நீதிபதி திரு. உதய் உமேஷ் லலித் அவர்கள் இந்தியாவின் ——— தலைமை நீதிபதி ஆவார்.

- (A) 49^{வது} (B) 41^{வது}
(C) 51^{வது} (D) 59^{வது}

101. Who was the first person to discover sea route from Europe to India?

- (A) Magellan
(B) Christopher Columbus
(C) Marcopolo
(D) Vasco-da-Gama

ஐரோப்பாவில் இருந்து இந்தியாவிற்கு கடல் வழி பாதையை முதலில் கண்டறிந்தவர் யார்?

- (A) மெகலன்
(B) கிறிஸ்டோபர் கொலம்பஸ்
(C) மார்கோபோலோ
(D) வாஸ்கோடகாமா

102. _____ is the largest ocean.

- (A) Pacific Ocean (B) Indian Ocean
(C) Artic Ocean (D) Atlantic Ocean

_____ ஒரு மிகப்பெரிய கடல்

- (A) பசிபிக் பெருங்கடல் (B) இந்திய பெருங்கடல்
(C) ஆர்டிக் பெருங்கடல் (D) அட்லாண்டிக் பெருங்கடல்

103. Who offered gooseberry to Avvaiyar?

- (A) Pari (B) Pegan
(C) Adhiyaman (D) Valvil Ori

ஒளவையாருக்கு நெல்லிக்கனியை கொடுத்தவர்

- (A) பாரி (B) பேகன்
(C) அதியமான் (D) வல்வில் ஓரி

104. India is divided into _____ seismic zones.

- (A) Five (B) Four
(C) Three (D) Six

இந்தியா _____ நில அதிர்வு மண்டலங்களாக பிரிக்கப்பட்டுள்ளது.

- (A) ஐந்து (B) நான்கு
(C) மூன்று (D) ஆறு

105. The Governor has to take an oath of his office before

- (A) The Chief Minister
- (B) The President
- (C) The Prime Minister
- ☒ (D) The Chief Justice of the High Court

ஆளுநர் யார் முன்னிலையில் பதவி பிரமாணம் எடுத்துக் கொள்வார்?

- (A) முதலமைச்சர்
- (B) ஜனாதிபதி
- (C) பிரதம மந்திரி
- (D) உயர்நீதிமன்ற தலைமை நீதிபதி

106. Which year did Tsunami hit Tamil Nadu?

- (A) 2006
- (B) 2003
- (C) 2005
- ☒ (D) 2004

எந்த ஆண்டு தமிழ்நாட்டை சுனாமி தாக்கியது?

- (A) 2006
- (B) 2003
- (C) 2005
- (D) 2004

107. When was Veerapandiya Kattabomman hanged?

- ☒ (A) 16th October, 1799
- (B) 2nd November, 1800
- (C) 15th August, 1789
- (D) 20th March, 1798

வீர பாண்டிய கட்டபொம்மன் எப்போது தூக்கிலிடப்பட்டார்?

- (A) 16 அக்டோபர், 1799
- (B) 2 நவம்பர், 1800
- (C) 15 ஆகஸ்டு, 1789
- (D) 20 மார்ச், 1798

108. St. David Fort was built by the British in —————

- (A) Vellore (B) Chennai
(C) Cuddalore (D) Pondicherry

புனித டேவிட் கோட்டை ஆங்கிலேயர்களால் எங்கு கட்டப்பட்டது?

- (A) வேலூர் (B) சென்னை
(C) கடலூர் (D) பாண்டிச்சேரி

109. The first five rupee note was issued by the Reserve Bank of India (RBI) in —————

- (A) January 1938 (B) January 1947
(C) March 1956 (D) April 1900

இந்திய ரிசர்வ் வங்கி முதல் ஐந்து ரூபாய் நோட்டை ————— ல் வெளியிட்டது

- (A) ஜனவரி 1938 (B) ஜனவரி 1947
(C) மார்ச் 1956 (D) ஏப்ரல் 1900

110. By the Regulating Act of 1773, a Supreme Court was set up in

- (A) Calcutta (B) Bombay
(C) Delhi (D) Madras

1773 ஆம் ஆண்டு ஒழுங்கு முறை சட்டத்தின்படி, உச்ச நீதிமன்றம் அமைக்கப்பட்ட இடம்

- (A) கல்கத்தா (B) பம்பாய்
(C) டெல்லி (D) மெட்ராஸ்

111. The first Lok Adalat was held in the state of _____

- (A) Tamil Nadu (B) Kerala
(C) Gujarat (D) Maharashtra

முதல் மக்கள் நீதிமன்றம் (லோக் அதாலத்) நடைபெற்ற மாநிலம் _____

- (A) தமிழ்நாடு (B) கேரளா
(C) குஜராத் (D) மஹாராஷ்டிரா

112. The brain loses the ability to function if it does not get oxygen for more than _____ minutes.

- (A) 5 (B) 6
(C) 4 (D) 7

_____ நிமிடங்களுக்கு மேல் பிராணவாயு கிடைக்காவிட்டால் மூளை செயல்படும் திறனை இழக்கிறது.

- (A) 5 (B) 6
(C) 4 (D) 7

113. Tuberculosis disease is transmitted through

- (A) air (B) water
(C) food (D) waste materials

காசநோய் எதன் மூலம் பரவுகிறது?

- (A) காற்று (B) தண்ணீர்
(C) உணவு (D) கழிவு பொருட்கள்

114. What is the respiratory organ of fish?

- (A) lungs (B) fins
(C) gills (D) lungs and fins

மீனின் சுவாச உறுப்பு எது?

- (A) நுரையீரல்கள் (B) துடுப்புகள்
(C) செவுள்கள் (D) நுரையீரல்கள் மற்றும் துடுப்புகள்

115. Milk contains _____.

(A) tartaric acid

(B) lactic acid

(C) malic acid

(D) acetic acid

பாலில் _____ அடங்கி உள்ளது.

(A) டார்டாரிக் அமிலம்

(B) லாக்டிக் அமிலம்

(C) மாலிக் அமிலம்

(D) அசிடிக் அமிலம்

116. The only snake that builds a nest is _____

(A) black mamba

(B) krait

(C) venus

(D) king cobra

கூடு கட்டும் ஒரே வகையான பாம்பு _____

(A) கருப்பு மாம்பா

(B) கட்டுவிரியன்

(C) வீனஸ்

(D) ராஜ நாகம்

117. Our National flag's length and width ratio is

(A) 4 : 2

(B) 3 : 2

(C) 3 : 3

(D) 4 : 3

நமது தேசிய கொடியின் நீளம் மற்றும் அகல விகிதம்

(A) 4 : 2

(B) 3 : 2

(C) 3 : 3

(D) 4 : 3

118. Calorie is the unit of

- (A) heat (B) work
(C) temperature (D) food

கலோரி என்பது எதனுடைய அலகு?

- (A) வெப்பம் (B) வேலை
(C) வெப்பநிலை (D) உணவு

119. Which is the largest human cell?

- (A) liver (B) skin
(C) spleen (D) ovum

மிகப்பெரிய மனித செல் எது?

- (A) கல்லீரல் (B) தோல்
(C) மண்ணீரல் (D) கரு முட்டை

120. Plants receive their nutrients mainly from

- (A) Chlorophyll (B) Atmosphere
(C) Light (D) Soil

தாவரங்கள் அவற்றின் ஊட்டச்சத்துக்களை முக்கியமாக எங்கிருந்து பெறுகின்றன?

- (A) குளோரோபில் (B) வளிமண்டலம்
(C) ஒளி (D) மண்

121. Which vitamin deficiency causes Beriberi?

- (A) Vitamin B₁ (B) Vitamin B₁₂
(C) Vitamin E₁ (D) Vitamin B₅

பெரிபெரி என்னும் நோய் எந்த வைட்டமின் குறைபாட்டால் ஏற்படுகிறது?

- (A) வைட்டமின் B₁ (B) வைட்டமின் B₁₂
(C) வைட்டமின் E₁ (D) வைட்டமின் B₅

122. The human brain is divided into _____ major parts.

- (A) two (B) three
(C) four (D) five

மனித மூளை _____ முக்கிய பகுதிகளாக பிரிக்கப்பட்டிருக்கிறது.

- (A) இரண்டு (B) மூன்று
(C) நான்கு (D) ஐந்து

123. Which is called as black gold?

- (A) Coal (B) Iron
(C) Copper (D) Petroleum

கருப்புத் தங்கம் என அழைக்கப்படுவது எது?

- (A) நிலக்கரி (B) இரும்பு
(C) செம்பு (D) பெட்ரோலியம்

124. How many rings are there in the Olympic flag?

- (A) five (B) six
(C) three (D) four

ஒலிம்பிக் கொடியில் எத்தனை வளையங்கள் உள்ளன?

- (A) ஐந்து (B) ஆறு
(C) மூன்று (D) நான்கு

125. How many squares are there in the game of chess?

- (A) 64 squares (B) 71 squares
(C) 55 squares (D) 44 squares

சதுரங்க விளையாட்டில் எத்தனை சதுரங்கள் உள்ளன?

- (A) 64 சதுரங்கள் (B) 71 சதுரங்கள்
(C) 55 சதுரங்கள் (D) 44 சதுரங்கள்

126. ————— is the queen of drugs.

- (A) Neem (B) Penicillin
(C) Insulin (D) Yeast

மருந்துகளின் இராணி என அழைக்கப்படுவது

- (A) வேம்பு (B) பெனிசிலின்
(C) இன்சலின் (D) ஈஸ்ட்

127. Which part of the flower becomes fruit?

- (A) Corolla (B) Ovary
(C) Pollen grains (D) Anther

மலரின் எந்தப் பகுதி கனியாக மாறுகிறது?

- (A) கொரோலா (B) சூற்பை
(C) மகரந்த தானியங்கள் (D) மகரந்தம்

128. How many senses do we have?

- (A) six (B) five
(C) seven (D) four

நமக்கு எத்தனை உணர்வுகள் உள்ளன?

- (A) ஆறு (B) ஐந்து
(C) ஏழு (D) நான்கு

129. Pendrive is ————— device.

- (A) input (B) output
(C) storage (D) connecting cable

Pendrive என்பது ————— சாதனம்.

- (A) உள்ளீட்டு (B) வெளியீட்டு
(C) சேமிப்பு (D) இணைக்கும் கேபிள்

130. Which is the first railway line in South India?

- (A) Royapuram to Walajapet
- (B) Chennai to Arakkonam
- (C) Vellore to Arakkonam
- (D) Madurai to Kodaikanal Road

தென்னிந்தியாவின் முதல் இரயில் பாதை எது?

- (A) ராயபுரம் முதல் வாலாஜாபேட்டை வரை
- (B) சென்னை முதல் அரக்கோணம் வரை
- (C) வேலூர் முதல் அரக்கோணம் வரை
- (D) மதுரை முதல் கொடைக்கானல் சாலை வரை

131. On which day is National Panchayati Raj day celebrated every year in India?

- (A) April 24
- (B) August 15
- (C) January 26
- (D) December 1

இந்தியாவில் ஒவ்வொரு ஆண்டும் எந்த நாளில் தேசிய பஞ்சாயத்து ராஜ் தினம் கொண்டாடப்படுகிறது?

- (A) ஏப்ரல் 24
- (B) ஆகஸ்டு 15
- (C) ஜனவரி 26
- (D) டிசம்பர் 1

132. Which was the capital city of India before Delhi?

- (A) Calcutta
- (B) Bombay
- (C) Madras
- (D) Hyderabad

டெல்லிக்கு முன்பு இந்தியாவின் தலைநகரம் எது?

- (A) கல்கத்தா
- (B) பாம்பே
- (C) மெட்ராஸ்
- (D) ஹைதராபாத்

133. The instrument used to measure the amount of electric current is _____

- (A) Voltmeter (B) Ammeter
(C) Galvanometer (D) Speedometer

மின்னோட்டத்தின் அளவை அளவிட பயன்படுத்தப்படும் கருவி _____

- (A) வோல்ட்மீட்டர் (B) அம்மீட்டர்
(C) கால்வனோமீட்டர் (D) ஸ்பீடோமீட்டர்

134. The difference between the greatest six digit and the smallest six digit number is _____

- (A) 9,89,999 (B) 8,99,999
(C) 10,000 (D) 1,99,999

மிகப்பெரிய ஆறு இலக்க எண்ணிற்கும், மிகச்சிறிய ஆறு இலக்க எண்ணிற்கும் உள்ள வித்தியாசம் _____

- (A) 9,89,999 (B) 8,99,999
(C) 10,000 (D) 1,99,999

135. Arrival time at Tirunelveli is 21 Hours 15 Minutes, Departure time at Tindivanam is 10.00 A.M. The travelling time is _____

- (A) 10 Hours 15 Minutes
(B) 12 Hours 10 Minutes
(C) 11 Hours 15 Minutes
(D) 9 Hours 20 Minutes

திருநெல்வேலியை சேர்ந்தடைந்த நேரம் 21 மணி 15 நிமிடம். திண்டிவனத்தில் இருந்து புறப்பட்ட நேரம் காலை 10 மணி. மொத்த பயண நேரம் _____

- (A) 10 மணி 15 நிமிடங்கள்
(B) 12 மணி 10 நிமிடங்கள்
(C) 11 மணி 15 நிமிடங்கள்
(D) 9 மணி 20 நிமிடங்கள்

136. 1500 grams is equal to

- (A) 1 kg 5 grams
- (B) 10 kg 5 grams
- (C) 100 kg 5 grams
- ☒ (D) 1 kg 500 grams

1500 கிராம் எதற்கு சமமானது?

- (A) 1 கிலோ 5 கிராம்
- (B) 10 கிலோ 5 கிராம்
- (C) 100 கிலோ 5 கிராம்
- (D) 1 கிலோ 500 கிராம்

137. Everyday 55 litres of water is sprayed in the garden. Water sprayed in 3 weeks is _____

- (A) 1055 Litre
- (B) 165 Litre
- ☒ (C) 1155 Litre
- (D) 550 Litre

ஒரு தோட்டத்தில் ஒவ்வொரு நாளும் 55 லிட்டர் தண்ணீர் தெளிக்கப்படுகிறது எனில், 3 வாரத்திற்கு தெளிக்கப்படும் தண்ணீரின் அளவு _____

- (A) 1055 லிட்டர்
- (B) 165 லிட்டர்
- (C) 1155 லிட்டர்
- (D) 550 லிட்டர்

138. The difference between the successor and predecessor 7737 is

- (A) 4
- (B) 77
- ☒ (C) 2
- (D) 37

7737 என்ற எண்ணிற்கு பிந்தைய மற்றும் முந்தைய எண்ணிற்கு உள்ள வித்தியாசம்

- (A) 4
- (B) 77
- (C) 2
- (D) 37

139. An equivalent ratio of 4 : 7 is

- (A) 1 : 7 (B) 9 : 14
(C) 14 : 12 (D) 12 : 21

4 : 7 என்பதற்கு சமமான விகிதம்

- (A) 1 : 7 (B) 9 : 14
(C) 14 : 12 (D) 12 : 21

140. In 2022, the population of a town is 2,25,000, if it is increased by 15% in the next year, the population in 2023 is _____

- (A) 2,40,000 (B) 2,58,750
(C) 2,75,000 (D) 2,45,000

2022 ஆம் ஆண்டில் ஒரு நகரின் மக்கள் தொகை 2,25,000 ஆகும். அது அடுத்த வருடத்தில் 15% ஆக உயர்ந்தால், 2023 இன் மக்கள் தொகை _____

- (A) 2,40,000 (B) 2,58,750
(C) 2,75,000 (D) 2,45,000

141. 7.2×3.2 is equal to _____

- (A) 21.08 (B) 28.60
(C) 10.06 (D) 23.04

7.2×3.2 _____ க்கு சமமானது.

- (A) 21.08 (B) 28.60
(C) 10.06 (D) 23.04

142. $(-15) \times (-12)$ is equal to _____

(A) -180

(B) +27

☒ (C) 180

(D) -3

$(-15) \times (-12)$ _____ க்கு சமமானது.

(A) -180

(B) +27

(C) 180

(D) -3

143. Ram studied for 4 hours, 7 hours and 5 hours respectively on 4 consecutive days. If so, how many hours did he study daily on an average?

(A) 16 hours

(B) 6 hours

☒ (C) 4 hours

(D) 8 hours

ராம் தொடர்ச்சியாக 4 நாட்களில் முறையே 4 மணி நேரம், 7 மணி நேரம் மற்றும் 5 மணி நேரம் படித்துள்ளார். அவ்வாறெனில், அவர் ஒரு நாளைக்கு சராசரியாக எவ்வளவு நேரம் படித்துள்ளார்?

(A) 16 மணி நேரம்

(B) 6 மணி நேரம்

(C) 4 மணி நேரம்

(D) 8 மணி நேரம்

144. A heater consumes 5 units of electricity in 50 minutes. How many units does it consume in two and half hours?

(A) 10 units

(B) 20 units

(C) 30 units

☒ (D) 15 units

50 நிமிடங்களில் ஒரு ஹீட்டர் 5 யூனிட் மின்சாரத்தை பயன்படுத்தியுள்ளது. இரண்டரை மணி நேரத்தில் எவ்வளவு யூனிட்களை பயன்படுத்தியிருக்கும்?

(A) 10 யூனிட்கள்

(B) 20 யூனிட்கள்

(C) 30 யூனிட்கள்

(D) 15 யூனிட்கள்

145. Which of the following expression is not zero?

(A) 0×0

(B) $0/0$

☒ (C) $2/0$

(D) $0/2$

பின்வரும் வெளிப்பாடுகளில் எது பூஜ்ஜியமாக இல்லை?

(A) 0×0

(B) $0/0$

(C) $2/0$

(D) $0/2$

146. _____ type of rainfall is called 4 'O' clock rainfall.

☒ (A) Convectonal

(B) Orographic

(C) Cyclonic

(D) Monsoon

எந்த வகை மழைப்பொழிவு 4 மணி மழைப்பொழிவு என அழைக்கப்படுகிறது?

(A) வெப்பச்சலன மழை

(B) ஓரோகிராபிக்

(C) சூறாவளி

(D) பருவமழை

147. What is the time limit to get information from Right to Information Act, 2005 (RTI)?

(A) 40 days

☒ (B) 30 days

(C) 25 days

(D) 14 days

தகவல் அறியும் உரிமை சட்டம், 2005 இன் கீழ், தகவலை பெறுவதற்கான கால அளவு

(A) 40 நாட்கள்

(B) 30 நாட்கள்

(C) 25 நாட்கள்

(D) 14 நாட்கள்

148. Electricity produced from coal is called _____

- (A) nuclear power (B) solar power
(C) thermal power (D) hydel power

நிலக்கரியிலிருந்து தயாரிக்கப்படும் மின்சாரம் _____

- (A) அணுமின் சக்தி (B) சூரிய சக்தி
(C) அனல் சக்தி (D) நீர் சக்தி

149. Who is the head of the State Executive?

- (A) Chief Minister
(B) Governor
(C) Chief Secretary of the State
(D) Home Secretary of the State

மாநில நிர்வாகத்தின் தலைவர் யார்?

- (A) முதலமைச்சர்
(B) ஆளுநர்
(C) மாநிலத்தின் தலைமை செயலாளர்
(D) மாநிலத்தின் உள்துறை செயலாளர்

150. In which country is Mount Kailash located?

- (A) India (B) China
(C) Japan (D) Africa

கைலாச மலை எந்த நாட்டில் அமைந்துள்ளது?

- (A) இந்தியா (B) சீனா
(C) ஜப்பான் (D) ஆப்பிரிக்கா

SPACE FOR ROUGH WORK

3

SPACE FOR ROUGH WORK

A

45

3

DJRE22
[Turn over]

[CLICK TO JOIN 150-HOURS FREE CLASS\(9626699743\)](#)
Er.THANGAMUTHU IPS ACADEMY

SPACE FOR ROUGH WORK

DJRE22

46

A

[CLICK TO JOIN 150-HOURS FREE CLASS\(9626699743\)](https://www.facebook.com/Er.Thangamuthu)
Er.THANGAMUTHU IPS ACADEMY

SPACE FOR ROUGH WORK

A

47

DJRE22
[Turn over

CLICK TO JOIN 150-HOURS FREE CLASS(9626699743)
Er.THANGAMUTHU IPS ACADEMY

5. Personalized OMR Answer Sheets of the Candidates will be supplied by the invigilator for answering the Questions. If the OMR Answer Sheet, is in anyway defective, the same shall be brought to the notice of the Invigilator immediately before shading, so as to supply a spare OMR answer sheet.

விடைகளை குறித்துக்காட்ட விண்ணப்பதாரர்களின் தனிப்பயனாக்கப்பட்ட OMR விடைத்தாள் ஒன்று உங்களுக்கு அறை கண்காணிப்பாளரால் தரப்படும். OMR விடைத்தாள் ஏதேனும் குறைபாடுடையதாக இருந்தால், அதில் விடையை குறித்துக்காட்டுவதற்கு முன் உடனடியாக அறை கண்காணிப்பாளரின் கவனத்திற்குக் கொண்டு வந்து வேறொரு OMR விடைத்தாளைப் பெற்றுக்கொள்ள வேண்டும்.

6. Each question has four responses (A) (B) (C) and (D). You have to select ONLY ONE correct answer in the OMR Answer Sheet. In case you feel that there are more than one correct answers, mark only the answer which you consider the most appropriate. In any case, choose ONLY ONE answer for each question. E.g., If for any question, (C) is the correct answer, you have to shade as follows:

(A) (B) (C) (D)

ஒவ்வொரு வினாவும் (A), (B), (C) மற்றும் (D) என நான்கு விடைகளைக் கொண்டுள்ளது. நீங்கள், அவைகளில் ஒரே ஒரு சரியான விடையைத் தேர்வு செய்ய வேண்டும். ஒன்றுக்கு மேற்பட்ட சரியான விடைகள் ஒரு கேள்விக்கு இருப்பதாகக் கருதினால், நீங்கள் மிகச் சரியானது என்று எதைக் கருதுகிறீர்களோ அந்த விடையைத்தான் விடைத்தாளில் குறித்துக் காட்ட வேண்டும். எப்படியாயினும் ஒரு கேள்விக்கு ஒரே ஒரு விடையைத்தான் தேர்ந்தெடுக்க வேண்டும். உதாரணமாக, நீங்கள் (C) என்பதை சரியான விடையாகக் கருதினால், அதை பின்வருமாறு குறித்துக் காட்ட வேண்டும்.

(A) (B) (C) (D)

7. You must write and shade your Question Booklet number and Booklet Series in the space provided in the OMR Answer Sheet without fail with Blue or Black Ball point pen only. In case of any wrong entry of Booklet Series, your Answer Sheet will be invalidated.

உங்களுடைய வினாத்தொகுப்பு எண் மற்றும் அதன் வரிசையை OMR விடைத்தாளின் அதற்கென அமைந்துள்ள இடத்தில் நீலம் அல்லது கருமை நிறமுடைய பந்துமுனைப் பேனாவினால் குறித்துக் காட்டவேண்டும். வினாத்தொகுப்பின் வரிசையை தவறாக குறித்தால் உங்கள் விடைத்தாள் செல்லாததாகிவிடும்.

8. You should not remove or tear off any sheet from the Question Booklet. You are not allowed to take the Question Booklet and the Answer Sheet out of the Examination Hall during the time of examination. You are permitted to take the Question Booklet only after the Examination is completed.

நீங்கள் வினாத் தொகுப்பின் எந்தப் பக்கத்தையும் நீக்கவோ அல்லது கிழிக்கவோ கூடாது. தேர்வு நேரத்தில் இந்த வினாத் தொகுப்பினையோ அல்லது விடைத்தாளையோ தேர்வுக் கூடத்தை விட்டு வெளியில் எடுத்துச் செல்லக்கூடாது. தேர்வு முடிந்தபின், இவ்வினாத் தொகுப்பினை உங்களுடன் எடுத்துச் செல்லலாம்.

9. Do not write anything in the Question Booklet, except in the space provided for Rough work. வினாத்தொகுப்பில் குறிப்புகள் எழுதிப் பார்ப்பதற்குரிய இடத்தைத் தவிர, வேறு இடத்தில் எதையும் எழுதக் கூடாது.

10. Using Whitener / Blade / Eraser or any kind of tampering to change the answers on OMR answer sheet will lead to invalidation.

உங்களுடைய OMR விடைத்தாளில் உள்ள விடைகளை மாற்ற ஒயிடனர் / பிளேடு / அழிப்பான் போன்றவைகளை பயன்படுத்துதல் அல்லது ஏதேனும் சேதப்படுத்துதல் போன்றவை உங்கள் OMR விடைத்தாளைச் செல்லாததாக்கிவிடும்.

11. Failure to comply with any of the above instructions will render you liable for action or penalty as the High Court may decide at their discretion.

மேலே உள்ள எந்த அறிவுறுத்தல்களுக்கும் இணங்கத் தவறினால், உயர்நீதிமன்றம் முடிவெடுக்கும் எந்த ஒரு நடவடிக்கை அல்லது தண்டனைக்கு நீங்கள் பொறுப்பாவீர்கள்.



**PROPOSED KEY ANSWERS FOR THE WRITTEN EXAMINATION
CONDUCTED ON 15.10.2022 (SATURDAY) FOR THE POST OF DRIVER
IN THE JUDICIAL DISTRICTS OF TAMIL NADU**

(Notification Nos. 186 to 209 / 2022, dated 24.07.2022)

The proposed key answers, marked in the Question Booklet (A-Series), for the written examination conducted on 15.10.2022 (Saturday) for the post of ‘**Driver**’ in the Judicial Districts of Tamil Nadu are hosted herewith.

Any objection with regard to any of the proposed key answer should be sent by the candidates to the Registrar (Recruitment), High Court, Madras, by e-mail (recruitment.mhc@gov.in) within two days from today. In such communication, Registration Number, Name and address of the candidate, Question Booklet Series, Question Number and answer for such question, according to the candidate, with supporting material for such claim, should invariably be quoted. Any representation received after two days or without any of the above requisite particulars will receive no attention.

Dated : 20.10.2022

Sd/-

Place : High Court, Madras.

Registrar (Recruitment)

**CLICK TO JOIN 150-HOURS FREE CLASS(9626699743)
Er.THANGAMUTHU IPS ACADEMY**



தமிழ்நாடுநீதித்துறைமாவட்டங்களில் உள்ளஓட்டுநர்பணிக்கு 15.10.2022
(சனிக்கிழமை) நடைபெற்றஎழுத்துத் தேர்வின் உத்தேசவிடைகள்

(அறிவிக்கைஎண்கள் 186 – 209 / 2022, தேதி 24.07.2022)

தமிழ்நாட்டில் உள்ளகீழமைநீதிமன்றங்களில் ஓட்டுநர்பணிக்கு
15.10.2022(சனிக்கிழமை)அன்றுநடைபெற்றஎழுத்துத் தேர்வின்
வினாத்தொகுப்பு (A வரிசை) குறிக்கப்பட்டஉத்தேசவிடைகள் பதிவேற்றம்
செய்யப்பட்டுள்ளது.

உயர்நீதிமன்ற இணையதளத்தில்
வெளியிடப்பட்டுள்ளஉத்தேசவிடைகளில் ஏதேனும் ஆட்சேபனை
இருப்பின்,அதுகுறித்துசென்னைஉயர்நீதிமன்றநீதித்துறைஆட்சேர்ப்பு
பிரிவின் மின்னஞ்சல் (recruitment.mhc@gov.in)
என்றமுகவரிக்குஇன்றிலிருந்து இரண்டுநாட்களுக்குள் அனுப்பவேண்டும்.
இவ்வாறுஅனுப்பப்படும் மனுவில் தேர்வாளருடையபதிவு எண், பெயர்,
முகவரி, வினாத்தொகுப்பின் வரிசை, வினாஎண் மற்றும்
அதற்கானவிடை,உரியஆதாரத்துடன் குறிப்பிடப்பட்டிருக்கவேண்டும்.
உத்தேசவிடைகள் வெளியிடப்பட்டதேதியிலிருந்து இரண்டுநாட்களுக்குப்
பிறகுபெறப்படும் ஆட்சேபனைஅல்லதுமேலேகுறிப்பிட்டுள்ளவிவரங்கள்
குறிப்பிடப்படாமல் அனுப்பப்படும் ஆட்சேபனை, பரிசீலனைக்குஎடுத்துக்
கொள்ளப்படமாட்டாது.

தேதி : 20.10.2022

இடம் :உயர்நீதிமன்றம், மெட்ராஸ்

ஓம்/-

பதிவாளர் (ஆட்சேர்ப்பு பிரிவு)

CLICK TO JOIN 150-HOURS FREE CLASS(9626699743)
Er.THANGAMUTHU IPS ACADEMY

DJDR22

வினாத் தொகுப்பு வரிசை :

A

வினாத்தொகுப்பு எண்

274457

பதிவு எண்

அனுமதிக்கப்பட்டுள்ள நேரம் : 120 நிமிடங்கள்
(2 மணி நேரம்)

மொத்த மதிப்பெண்கள் : 100

தேர்வர்களுக்கான முக்கிய அறிவுரைகள்

வினாக்களுக்கு பதிலளிக்கும் முன் கீழ்க்கண்ட அறிவுரைகளை கவனமாகப் படிக்கவும்

1. இந்த வினாத் தொகுப்பு தேர்வு தொடங்குவதற்கு 10 நிமிடங்களுக்கு முன்னதாக விண்ணப்பதாரர்களுக்கு வழங்கப்படும்.
2. இந்த வினாத் தொகுப்பு 100 வினாக்களைக் கொண்டுள்ளது. விடையளிக்க தொடங்கும் முன் இவ்வினாத் தொகுப்பில் எல்லா வினாக்களும் வரிசையாக இடம் பெற்றுள்ளனவா என்பதையும், இடையில் ஏதும் வெற்றுத்தாள்கள் உள்ளனவா என்பதையும் சரிபார்த்துக் கொள்ளவும். ஏதேனும் குறைபாடு இருப்பின், அதனை தேர்வு தொடங்குவதற்கு முன்பு, அறை கண்காணிப்பாளரிடம் தெரிவித்து, சரியாக உள்ள அதே வரிசையில் உள்ள வேறொரு வினாத் தொகுப்பினை பெற்றுக் கொள்ள வேண்டும். தேர்வு தொடங்கிய பின்பு முறையிட்டால், வினாத் தொகுப்பு மாற்றித் தரப்படமாட்டாது.
3. பகுதி (அ) மற்றும் (ஆ)-ல் (Part A and Part B) உள்ள எல்லா வினாக்களும் சமமான மதிப்பெண்கள் கொண்டவை. ஒவ்வொரு சரியான விடைக்கும் தலா ஒரு மதிப்பெண் வழங்கப்படும். தவறான விடைக்கு மதிப்பெண் குறைக்கப்படமாட்டாது. (No Negative Mark)
4. உங்களுடைய பதிவு எண்ணை வினாத் தொகுப்பின் வலது மேல் மூலையில் அதற்கென அமைந்துள்ள இடத்தில் எழுத வேண்டும். வேறு எதையும் வினாத் தொகுப்பில் எழுதக் கூடாது.
5. விடைகளை குறித்துக்காட்ட விண்ணப்பதாரர்களின் தனிப்பயனாக்கப்பட்ட OMR விடைத்தாள் ஒன்று உங்களுக்கு அறை கண்காணிப்பாளரால் தரப்படும். OMR விடைத்தாள் ஏதேனும் குறைபாடுடையதாக இருந்தால், அதில் விடையை குறித்துக்காட்டுவதற்கு முன் உடனடியாக அறை கண்காணிப்பாளரின் கவனத்திற்குக் கொண்டு வந்து வேறொரு OMR விடைத்தாளைப் பெற்றுக்கொள்ள வேண்டும்.

மீதமுள்ள அறிவிக்கைகளை இறுதி பக்கம் பார்க்கவும்

SEAL

CLICK TO JOIN 150-HOURS FREE CLASS(9626699743)
Er.THANGAMUTHU IPS ACADEMY

124479

DJDR22

2

A

[CLICK TO JOIN 150-HOURS FREE CLASS\(9626699743\)](#)
[Er.THANGAMUTHU IPS ACADEMY](#)

பகுதி அ

1. 'தமிழ்த்தாய் வாழ்த்துப்' பாடலை இயற்றியவர் யார்?
(A) பாரதியார்
(B) பாரதிதாசன்
(C) ச.து.சு. யோகியார்
(D) மனோன்மனியம் பெ. சுந்தரனார்
2. 13 என்னும் எண்ணின் சரியான எழுத்து வடிவம் என்ன?
(A) பதிமூனு
(B) பதிமூன்று
(C) பதின்மூன்று
(D) பதிமூணு
3. 'அமுதென்று' என்னும் சொல்லைப் பிரித்து எழுதுக.
(A) அமுதம் + என்று
(B) அமுதம் + அன்று
(C) அமுது + என்று
(D) அமுது + அன்று
4. 'தமிழர் திருநாள்' எனப் போற்றப்படும் பண்டிகை எது?
(A) தீபாவளி
(B) ஆயுத பூஜை
(C) தைப்பொங்கல்
(D) தமிழ்ப் புத்தாண்டு
5. '_____ வழங்குமாறு கேட்டுக்கொள்கிறேன்' - கோடிட்ட இடத்தை நிரப்புக.
(A) சான்றிதல்
(B) சான்றிதழ்
(C) சான்றிதழ்
(D) சான்றிதல்
6. 'பணிவன்புடன்' என்னும் சொல்லைப் பிரித்து எழுதுக.
(A) பணி + அன்புடன்
(B) பணிவு + அன்புடன்
(C) பணி + வன்புடன்
(D) பணிவு + வன்புடன்

7. 'Lorry' – என்பதற்கு நிகரான தமிழ்ச்சொல் எது?
- (A) சிற்றுந்து (B) பேருந்து
(C) சரக்குந்து (D) மகிழுந்து
8. 'பொய்யில் புலவர்' எனப் போற்றப்படுபவர் யார்?
- (A) கம்பர் (B) திருவள்ளுவர்
(C) இளங்கோவடிகள் (D) பாரதியார்
9. திருவள்ளுவர் சிலை 133 அடியளவில் அமைந்துள்ள ஊர் எது?
- (A) சென்னை (B) மயிலாப்பூர்
(C) கன்னியாகுமரி (D) பெங்களூரு
10. 'தொடுதொடு' – இலக்கணக் குறிப்பு வரைக.
- (A) இரட்டைக்கிளவி (B) உரிச்சொல்
(C) இடைச்சொல் (D) அடுக்குத் தொடர்
11. 'பிளிறும்' விலங்கு எது?
- (A) புலி (B) யானை
(C) சிங்கம் (D) கரடி
12. யாழ் எனப்படுவது
- (A) தோல் கருவி (B) நரம்புக் கருவி
(C) காற்றுக் கருவி (D) கஞ்சக் கருவி

13. 'மேடுபள்ளம்' என்பது

(A) பழமொழி

(C) மரபுத் தொடர்

(B) எதிரிணைச்சொல்

(D) சொல்வடை

14. சரியான சொல்லைத் தேர்ந்தெடுக்க.

(A) இயக்குனர்

(C) இயக்குநர்

(B) இயக்குணர்

(D) இயக்குன்னர்

15. மொழியைத் தெளிவுறப் பேசவும் எழுதவும் உதவுவது

(A) இலக்கணம்

(C) உரைநடை

(B) கவிதை

(D) காப்பியம்

16. கண்காணிப்புக் கருவி பயன்படுத்தும் அறிவு

(A) இயற்கை நுண்ணறிவு

(C) உண்மை அறிவு

(B) செயற்கை நுண்ணறிவு

(D) ஆறாம் அறிவு

17. விருந்தும் மருந்தும் ————— வேளை.

(A) இரண்டே

(C) ஒரே

(B) மூன்றே

(D) நான்கே

18. 'முயற்சி திருவினை ஆக்கும்' என்பது

(A) ஒரு பழமொழி

(C) திருக்குறள் தொடர்

(B) ஆத்திசூடி

(D) கொன்றைவேந்தன்

19. 'Internet' என்பதன் தமிழாக்கம் என்ன?

(A) இன்டர்நெட்

(C) இணையம்

(B) வலைத்தளம்

(D) அகன்ற அலைவரிசை

20. '————— தன்னை உலகினுக்கே தந்து வான்புகழ் கொண்ட தமிழ்நாடு' – கோடிட்ட இடத்தை நிரப்புக.
- (A) தொல்காப்பியன் (B) வள்ளுவன்
(C) வள்ளலார் (D) கம்பன்
21. தேவராட்டத்திற்குரிய இசைக்கருவி எது?
- (A) குழல் (B) யாழ்
(C) தேவ துந்துபி (D) தப்பு
22. காடும் காடுசார்ந்த இடமும்
- (A) குறிஞ்சி (B) முல்லை
(C) மருதம் (D) நெய்தல்
23. பதினெண்கீழ்க்கணக்கு நூல்களுள் ஒன்று எது?
- (A) நற்றிணை (B) நன்னெறி
(C) திருக்குறள் (D) நல்வழி
24. மெய் எழுத்துக்கள் மொத்தம் எத்தனை?
- (A) 12 (B) 18
(C) 01 (D) 216
25. 'மாலவன் குன்றம்' என்பது
- (A) திருத்தணி (B) திருப்பரங்குன்றம்
(C) திருவேங்கடம் (D) சுவாமிமலை

26. உதடுகள் இரண்டும் பொருந்துவதால் பிறக்கும் எழுத்துக்கள்

(A)

ப், ம்

(B) ய், ர்

(C)

க், ங்

(D) த், ந்

27. சரியான அகர வரிசையைத் தேர்ந்தெடுக்க.

(A)

உழவு, மண், ஏர், மாடு

(B)

மண், மாடு, ஏர், உழவு

(C)

உழவு, ஏர், மண், மாடு

(D)

ஏர், உழவு, மாடு, மண்

28. பெண்மையை முதன்மைப்படுத்தும் புரட்சிக்காப்பியம் எது?

(A)

சிலப்பதிகாரம்

(B)

குண்டலகேசி

(C)

மணிமேகலை

(D)

வளையாபதி

29. காலத்தைக் காட்டும் சொல் எது?

(A)

பெயர்ச்சொல்

(B)

வினைச்சொல்

(C)

இடைச்சொல்

(D)

உரிச்சொல்

30. 'ஒரு பைசாத்தமிழன்' என்னும் வார இதழைத் தொடங்கியவர் யார்?

(A)

பாரதியார்

(B)

பாரதிதாசன்

(C)

கண்ணதாசன்

(D)

அயோத்திதாசர்

31. தமிழ்நாட்டின் மாநில மரம் எது?

- (A) ஆலமரம் (B) தென்னை மரம்
(C) பனை மரம் (D) மாமரம்

32. கண்ணதாசனின் இயற்பெயர் என்ன?

- (A) சுப்பிரமணியம் (B) மாணிக்கம்
(C) முத்தையா (D) கனக சுப்புரத்தினம்

33. வேறுபட்டதை நீக்குக.

- (A) யாழ் (B) முழவு
(C) பறை (D) பண்

34. _____ உயிரினும் ஒம்பப்படும்.

- (A) ஒழுக்கம் (B) உணவு
(C) செல்வம் (D) நட்பு

35. பொருத்துக.

- அ. பொருட்பெயர் – 1. கோவில், வடலூர்
ஆ. இடப்பெயர் – 2. தலை, கால்
இ. காலப்பெயர் – 3. புத்தகம், கதவு
ஈ. சினைப்பெயர் – 4. பகல், இரவு

- (A) (அ)3, (ஆ)1, (இ)4, (ஈ)2
(B) (அ)4, (ஆ)1, (இ)2, (ஈ)3
(C) (அ)2, (ஆ)3, (இ)1, (ஈ)4
(D) (அ)1, (ஆ)2, (இ)3, (ஈ)4

36. 'தமிழ் தென்றல்' எனப் போற்றப்படுபவர் யார்?

(A) விபுலானந்த அடிகள்

(B) க. கைலாசபதி

(C) திரு.வி.க.

(D) எஸ். வையாபுரிப் பிள்ளை

37. ஆண்கள் மட்டும் ஆடக்கூடிய நடனம் எது?

(A) கரகாட்டம்

(B) மயிலாட்டம்

(C) காவடியாட்டம்

(D) தேவராட்டம்

38. பராபரம் என்ற சொல்லின் பொருள் என்ன?

(A) இன்பப்பெருக்கு

(B) ஆனந்தப்பெருக்கு

(C) இறையானந்தம்

(D) மேலான பொருள்

39. 'தீயணைப்பு' – பிரித்து எழுதுக.

(A) தீ + யணைப்பு

(B) தீயணை + பு

(C) தீயணைப் + பு

(D) தீ + அணைப்பு

40. 'ஐ' என்னும் ஒரெழுத்து மொழியின் பொருள் என்ன?

(A) தலைவன்

(B) அம்பு

(C) இறைச்சி

(D) மலர்

41. ஒலியின் வரிவடிவம் எது?

(A) பேச்சு

(B) பாட்டு

(C) உரை

(D) எழுத்து

42. 'மாயோன்' எனக் குறிப்பிடப்படும் தெய்வம்

(A) திருமால்

(B) சேயோன்

(C) வேந்தன்

(D) வருணன்

43. ஒரே நேரத்தில் நிகழ்த்தப்படும் நூறு செயல்கள் எவ்வாறு அழைக்கப்படுகிறது?

(A) அஷ்டாவதானம்

(B) தசாவதானம்

(C) சோடஷாவதானம்

(D) சதாவதானம்

44. 'விசம்பு' என்னும் சொல்லின் பொருள் என்ன?

(A) நிலம்

(B) நீர்

(C) வான்

(D) தீ

45. திருவெம்பாவை, திருப்பாவை பாடல் வரிகளைத் தாய்மொழியில் எழுதிவைத்து பாடும் நாடு எது?

(A) சிங்கப்பூர்

(B) தாய்லாந்து

(C) மலேசியா

(D) மியான்மர்

46. 'பொன்னேர் பூட்டுதல்' நடைபெறும் மாதம் எது?

- (A) சித்திரை (B) வைகாசி
(C) ஆடி (D) தை

47. கீழ்க்கண்டவற்றில் பாரதியார் ஆசிரியராகப் பணியாற்றிய இதழ்கள் எவை?

- (A) இந்தியா, சுதேசமித்ரன் (B) ஆனந்த விகடன், கணையாழி
(C) கசடதபுற, மணிக்கொடி (D) தேசபக்தன், கலாமோகினி

48. 'ஊழி' என்னும் சொல்லின் பொருள் என்ன?

- (A) யுகம் (B) கடல்
(C) வானம் (D) பூமி

49. செய்தி-1 : செயற்கை நுண்ணறிவு என்பது ஒரு மென்பொருள் அல்லது கணினிச் செயல்திட்ட வரைவாகும்.

செய்தி-2 : மனிதனால் செய்ய முடியாததைச் செய்கிறது.

செய்தி-3 : செயற்கை நுண்ணறிவு கணினி மனிதரைப் போல் தானே முடிவெடுக்கும்.

- (A) 1,2 சரி (B) 1,3 சரி
(C) 2,3 சரி (D) 3,1 சரி

50. 'ஓதாமல் ஒருநாளும் இருக்க வேண்டாம்

ஒருவரையும் பொல்லாங்கு சொல்ல வேண்டாம்' என கூறியவர் யார்?

- (A) ஓளவையார் (B) முனைப்பாடியார்
(C) உலகநாத பண்டிதர் (D) பாரதியார்

பகுதி ஆ

51. வீடுகளில் இயற்கையான முறையில் ————— பயன்படுத்தி பூச்சிகளை தடுக்கலாம்.
- (A) துளசி இலை (B) களைக்கொள்ளி
(C) வேப்ப இலை (D) (A) அல்லது (C)
52. பருவமுதிர்ச்சியின் போது ————— அகன்று ஒலி மாறுபடும்.
- (A) குரல்வளை (B) தசைகள்
(C) தைராய்டு (D) மூச்சுக்குழாய்
53. கீழ்க்கண்டவற்றில் எதனை பயன்படுத்தி உராய்வை குறைக்கலாம்?
- (A) டயர்களில் கோடு கோடான பள்ளங்கள் ஏற்படுத்துவதன் மூலம்
(B) இடைவெளிகளில் கற்களை தூவுவதன் மூலம்
(C) பரப்புகளை வழுவழுப்பாக்குவதன் மூலம்
(D) நல்ல பிணைப்பை ஏற்படுத்துவதன் மூலம்
54. ————— உலகிலேயே மிகப்பெரிய பள்ளிவாசல்களில் ஒன்றாக கருதப்படுகிறது.
- (A) நாகூர் தர்கா (B) மெக்கா மசூதி
(C) அதினா மசூதி (D) ஜும்மா மசூதி
55. தமிழ்நாட்டிலுள்ள நெய்வேலியிலிருந்து ————— அதிகமாக கிடைக்கிறது.
- (A) ஆன்ட்ராஸைட் (B) பழுப்பு நிலக்கரி
(C) மணல் பாறை (D) எரிபொருள்

56. _____ வயதிற்குட்பட்டவர்கள் குழந்தைத் தொழிலாளர்கள் என அழைக்கப்படுகிறார்கள்.

(A) 18

(B) 12

(C) 14

(D) 16

57. பித்த நீர் எந்நிறத்தை உடையது?

(A) மஞ்சள்

(B) பச்சை

(C) சிவப்பு

(D) நிறமற்றது

58. இந்தியாவின் மிக உயர்ந்த இலக்கிய விருது எது?

(A) பத்மபூஷன் விருது

(B) கலைமாமணி விருது

(C) ஞானபீட விருது

(D) சாகித்ய அகாடமி விருது

59. இந்தியா முதல் அணுகுண்டு சோதனை நடத்திய இடம்

(A) ஸ்ரீஹரிகோட்டா

(B) டிராம்பே

(C) பொக்ரான்

(D) தாராப்பூர்

60. இரவு நேரத்தில் வாகனத்தை சாலை ஓரத்தில் நிறுத்தும்போது

(A) வாகனம் பூட்டப்பட வேண்டும்

(B) ஓட்டுநர் வாகனத்தை விட்டு செல்லக்கூடாது

(C) வாகன நிறுத்தத்திற்குரிய விளக்கு தொடர்ந்து ஒளிர வேண்டும்

(D) வாகனத்தை செங்குத்தாக நிறுத்த வேண்டும்

A

13

DJDR22
[Turn over]

CLICK TO JOIN 150-HOURS FREE CLASS(9626699743)
Er.THANGAMUTHU IPS ACADEMY

61. மூடுபனி விளக்குகள் எப்போது பயன்படுத்தப்படுகின்றன?

(A) பகலில்

(B) மூடுபனி இருக்கும்போது

(C) எதிரே வரும் வாகனம் மங்கலான ஒளியைப் பயன்படுத்தாதபோது

(D) இரவு நேரத்தில்

62. வாகனத்தில் எரிபொருள் நிரப்பும்போது நாம் ————— கூடாது.


(A) ஹெட்லைட் பயன்படுத்துவது

(B) ஒளியை எழுப்புவது

(C) வாகனத்தின் உள்ளே விளக்கை பயன்படுத்துவது

(D) புகை பிடிப்பது

63. பின்வரும் போக்குவரத்து குறியீடு குறிப்பது



(A) இடதுபுறம் திரும்ப தடை

(B) இடதுபுறம் திரும்பு

(C) முந்தி செல்ல தடை

(D) வழி தடைசெய்யப்பட்டுள்ளது

64. ஆளில்லா இரயில்வே பாதையை கடக்கும்போது, ஓட்டுநர் கண்டிப்பாக

(A) ஒலி எழுப்பி வாகனத்தை இயக்க வேண்டும்

(B) நிறுத்தி, கவனித்து பாதுகாப்பாக இருந்தால் வாகனத்தை இயக்க வேண்டும்

(C) மெதுவாக வாகனத்தை இயக்க வேண்டும்

(D) உடனடியாக வாகனத்தை இயக்க வேண்டும்

65. பின்வரும் போக்குவரத்து குறியீடு எதனை குறிக்கிறது?



- (A) மோட்டார் வாகனங்கள் செல்ல தடை
- (B) வாகனங்களை நிறுத்த தடை
- (C) மோட்டார் வாகனங்கள் மற்றும் கார்கள் செல்லலாம்
- ☒ (D) மோட்டார் வாகனங்கள் மற்றும் கார்கள் செல்ல தடை

66. புதிய வாகனத்திற்கு மாசு கட்டுப்பாட்டுச் சான்றிதழ் செல்லுபடியாகும் காலம்

- (A) ஆறு மாதங்கள்
- ☒ (B) ஓர் ஆண்டு
- (C) இரண்டு வருடங்கள்
- (D) மூன்று மாதங்கள்

67. வாகனங்களை எங்கு நிறுத்த தடைசெய்யப்பட்டுள்ளது?

- (A) மற்றொரு காருக்கு முன்னால்
- ☒ (B) நடைபாதையில்
- (C) ஒரு வழி பாதையில்
- (D) வாகனங்களை நிறுத்தும் இடத்தில்

68. பார்வையற்ற ஒருவர் வெள்ளை நிற கைத்தடியுடன் (வாக்கிங் ஸ்டிக்) சாலையைக் கடக்கும்போது, ஓட்டுநர்

- (A) ஒலியை எழுப்பி வாகனத்தை இயக்கலாம்
- (B) வேகத்தைக் குறைத்து எச்சரிக்கையுடன் வாகனத்தை இயக்கலாம்
- ☒ (C) வெள்ளை நிற கைத்தடியை வாகனத்தை நிறுத்தும் போக்குவரத்துச் சமிக்ஞையாக கருத வேண்டும்
- (D) போக்குவரத்து சமிக்ஞை இல்லை என்றால் வாகனத்தை இயக்கலாம்

69. சாலையில் தொடர்ந்து மஞ்சள் நிற கோடு இடப்பட்ட இடத்தில், கண்டிப்பாக

- (A) வாகனம் மஞ்சள் நிறக்கோட்டை தொடவோ கடக்கவோ கூடாது
- (B) வாகனத்தை நிறுத்தி பச்சை விளக்கு தோன்றும் வரையில் காத்திருக்கவும்
- (C) வாகனத்தின் வேகத்தைக் குறைத்து பாதுகாப்பாக இருந்தால் இயக்கலாம்
- (D) எந்த எச்சரிக்கையும் தேவையில்லை

70. வாகனத்தை பின்னே இயக்க தடைசெய்யப்பட்ட சாலையின் பெயரைக் குறிப்பிடவும்

- (A) செங்குத்தாக ஏறும் சாலை
- (B) செங்குத்தாக இறங்கும் சாலை
- (C) ஒருவழிச் சாலை
- (D) நெடுஞ்சாலை

71. மினுமினுக்கும் (பிளிங்கிங்) சிவப்பு நிற போக்குவரத்து சமிக்கை எதனை குறிக்கிறது?

- (A) போக்குவரத்து சமிக்கைகள் சரியாக இயங்கவில்லை
- (B) போக்குவரத்து சமிக்கையை சரிபார்க்க தேவையில்லை
- (C) பச்சை விளக்கு தோன்றும் வரை வாகனத்தை நிறுத்தவும்
- (D) வாகனத்தை நிறுத்தி பாதுகாப்பாக இருந்தால் தொடரவும்

72. ஒரு வாகனத்தை முந்திச் செல்லும் போது, ஓட்டுநர்

- (A) வேகத்தை அதிகரிக்கக் கூடாது
- (B) வேகத்தை அதிகரிக்கலாம்
- (C) எச்சரிக்கையுடன் வேகத்தை அதிகரிக்கலாம்
- (D) வாகனத்தை நிறுத்த வேண்டும்

73. பின்வரும் போக்குவரத்து குறியீட்டின் பொருள் என்ன?



- (A) குடிபோதையில் வாகனம் ஓட்டக்கூடாது
- (B) வழக்கும் வழி பாதை
- (C) சரளைக் கற்கள் உள்ள பாதை
- (D) கோணல் மாணலான பாதை

74. பதிவு செய்யப்படாத வாகனத்தை பொது இடத்தில் பயன்படுத்துவது

- (A) சட்டப்படியானது ஏதேனும் அவசரம் இருந்தால்
- (B) சட்டப்பூர்வமானது
- (C) சட்டத்திற்கு புறம்பானது
- (D) தடையில்லை

75. இருசக்கர வாகன ஓட்டுநர் உரிமம் பெறுவதற்கான குறைந்தபட்ச வயது

- (A) 16
- (B) 14
- (C) 25
- (D) 20

76. வாகனத்தை நிறுத்தும்போது பின்வருவனவற்றில் எது பயன்படுத்தப்படுகிறது?

- (A) கை பிரேக்
- (B) இருக்கை பெல்ட்
- (C) பக்கவாட்டில் உள்ள கண்ணாடிகள்
- (D) காற்று திரை

77. பின்புறக் கண்ணாடி (ரியர் வியூ மிரர்) எதற்கு பயன்படுகிறது?

- (A) முகம் பார்ப்பதற்கு
- (B) பின்வரும் வாகனங்களை பார்ப்பதற்கு
- (C) பின் இருக்கையில் அமர்ந்து இருக்கும் பயணிகளை பார்ப்பதற்கு
- (D) அலங்காரப் பொருட்களை தொங்கவிடுவதற்கு

78. வரிக்கடவை (ஜீப்ரா கிராஸிங்) எதற்கு பயன்படுகிறது?

- (A) வாகனங்களை நிறுத்துவதற்கு
- (B) வாகனம் செல்ல முன்னுரிமை அளிப்பதற்கு
- (C) வாகனங்கள், வேகத்தை குறைப்பதற்கு
- (D) பாதசாரிகள் சாலையை கடந்து செல்வதற்கு

79. வாகனம் ஓட்டும்போது ஓட்டுநர் எப்போதும் ————— அணிந்திருக்க வேண்டும்.

- (A) இருக்கை பெல்ட்
- (B) காலணிகள்
- (C) சீருடை
- (D) கையுறைகள்

80. வாகனம் ஓட்டும்போது பின்வரும் எந்தப் பொருளை பயன்படுத்துவது தடைசெய்யப்பட்டுள்ளது?

- (A) கண்ணாடிகள்
- (B) கைப்பேசி
- (C) கைக்கடிகாரம்
- (D) மேற்கூறிய எதுவும் இல்லை

81. இயல்பாக ஒரு நபர், ஒரு நிமிடத்திற்கு எத்தனை முறை சுவாசிப்பார்?

- (A) 30-60
- (B) 8-10
- (C) 12-20
- (D) 20-40

82. மயங்கி விழுந்த ஒருவரை மீட்க உடனடியாக நாம் என்ன செய்ய வேண்டும்?

- (A) சமநிலையில் படுக்கவைக்க வேண்டும்
- (B) நாற்காலியில் உட்கார வைக்க வேண்டும்
- (C) நிமிர்ந்து நிற்க வைக்க வேண்டும்
- (D) கால்களை உயர்த்திய நிலையில் படுக்க வைக்க வேண்டும்

83. ஒருவருக்கு மூக்கில் இரத்தம் வந்தால் அவருடைய தலை எந்த நிலையில் இருக்க வேண்டும்?

- (A) தலையை முன்னோக்கி சாய்த்தல்
- (B) தலையை பக்கமாக சாய்த்தல்
- (C) தலையை அதே நிலையில் வைத்தல்
- (D) தலையை பின்னோக்கி சாய்த்தல்

84. இந்தியாவில் 44வது செஸ் ஒலிம்பியாட் எந்த மாநிலத்தில் நடைபெற்றது?

- (A) கர்நாடகா
- (B) உத்திரபிரதேசம்
- (C) தமிழ்நாடு
- (D) டெல்லி

85. தமிழ்நாடு காவல்துறையின் சேவையை அங்கீகரிக்கும் வகையில், இந்திய துணைக் குடியரசுத் தலைவரால் தமிழக முதல்வருக்கு ————— வழங்கப்பட்டது.

- (A) பதக்கம்
- (B) சிறப்பு பேட்ஜ்
- (C) குடியரசுத் தலைவர் கொடி
- (D) நினைவு பரிசுகள்

86. தமிழ்நாட்டிற்கு மழை கிடைப்பது

- (A) தென்கிழக்கு பருவமழையால்
- (B) தென்மேற்கு பருவமழையால்
- (C) வடகிழக்கு பருவமழையால்
- (D) வடமேற்கு பருவமழையால்

87. பென்சில் தயாரிக்க ————— பயன்படுகிறது.

- (A) கார்பன்
- (B) கிராபைட்
- (C) கருப்பு மை
- (D) கார்பைட்

88. இந்திய உச்சநீதிமன்றம் எங்கு அமைந்துள்ளது?

- (A) மகாராஷ்டிரா
- (B) உத்திரபிரதேசம்
- (C) புதுடில்லி
- (D) மத்தியபிரதேசம்

89. ஒரு சவரன் (பவுன்) என்பது எத்தனை கிராம்?

(A) 7 கிராம்

(B) 5 கிராம்

(C) 8 கிராம்

(D) 4 கிராம்

90. வானவில்லில் உள்ள 7 வண்ணங்களில் நடுவில் உள்ள வண்ணம் எது?

(A) பச்சை

(B) ஊதா

(C) சிவப்பு

(D) நீலம்

91. எதையும் புரிந்து கொண்டு செயல்படும் ஆற்றலின் பெயர் என்ன?

(A) தூலங்கள்

(B) தூண்டல்

(C) நுண்ணறிவு

(D) ஆளுமை

92. இந்தியாவின் தலைசிறந்த கணித மேதை யார்?

(A) சர் சி.வி. ராமன்

(B) இராமானுஜம்

(C) ஜான் நேப்பியர்

(D) சர் ஹம்பிரி டேவி

93. கீழ்க்கண்டவற்றில் எதனை தயாரிக்க மரம் மூலப்பொருளாக பயன்படுத்தப்படுகிறது?

(A) கண்ணாடி

(B) மருந்து

(C) காகிதம்

(D) உடை

94. 500 கிராம் எடையுள்ள ஒரு பார்சலுக்கு கொரியர் கட்டணம் ரூ. 60/- எனில், 5.5 கிலோகிராம் எடையுள்ள பார்சலுக்கு எவ்வளவு கட்டணம்?

(A) ரூ. 660/-

(B) ரூ. 360/-

(C) ரூ. 500/-

(D) ரூ. 560/-

95. சமர் தனது மாதச் சம்பளத்தில் 52% ஐ வீட்டுச் செலவுக்காகச் செலவிடுகிறார் மற்றும் இதர செலவினங்களுக்கு 23% ஐ செலவிடுகிறார். அவரிடம் ரூ. 4,500/- மீதமுள்ளது எனில், அவருடைய மாத சம்பளம் என்ன?
- (A) ரூ. 16,000/- (B) ரூ. 17,500/-
(C) ரூ. 17,000/- (D) ரூ. 18,000/-
96. கங்கை நதியின் மிகப்பெரிய துணையாறு எது?
- (A) காக்ரா (B) காண்டக்
(C) யமுனா (D) தாமோதர்
97. 1056 என்ற எண்ணுடன் எந்த குறைந்தபட்ச எண்ணை சேர்த்தால், அதனுடைய கூட்டுத்தொகை முழுமையாக 23ஆல் வகுபடும்?
- (A) 2 (B) 3
(C) 18 (D) 21
98. எண் தொடரை முடிக்கவும்.
2, 7, 14, 23, ?, 47
- (A) 31 (B) 28
(C) 34 (D) 38
99. காமன் வெல்த் விளையாட்டு, 2022 எங்கு நடைபெற்றது?
- (A) இந்தியா (B) இங்கிலாந்து
(C) ஆஸ்திரேலியா (D) ஜப்பான்
100. ஆகஸ்ட் 15, 2022 இந்தியாவின் ————— சுதந்திர தினம்
- (A) 72^{வது} (B) 74^{வது}
(C) 75^{வது} (D) 76^{வது}

குறிப்புகள் எழுதி பார்ப்பதற்கான இடம்

குறிப்புகள் எழுதி பார்ப்பதற்கான இடம்

A

23

DJDR22
[Turn over

[CLICK TO JOIN 150-HOURS FREE CLASS\(9626699743\)](https://www.thangamuthuipsacademy.com)
Er.THANGAMUTHU IPS ACADEMY

6. உங்களுடைய வினாத்தொகுப்பு எண் (Question Booklet Number) மற்றும் அதன் வரிசையை விடைத்தாளின் முதல் பக்கத்தில் அதற்கென அமைந்துள்ள இடத்தில் நீலம் அல்லது கருமை நிறமுடைய பந்துமுனைப் பேனாவினால் குறித்துக் காட்ட வேண்டும்.
7. ஒவ்வொரு வினாவும் (A), (B), (C) மற்றும் (D) என நான்கு விடைகளைக் கொண்டுள்ளது. நீங்கள், அவைகளில் ஒரே ஒரு சரியான விடையைத் தேர்வு செய்யவேண்டும். ஒன்றுக்கு மேற்பட்ட சரியான விடைகள் ஒரு கேள்விக்கு இருப்பதாகக் கருதினால் நீங்கள் மிகச் சரியானது என்று எதைக் கருதுகிறீர்களோ அந்த விடையைத்தான் விடைத்தாளில் குறித்துக் காட்ட வேண்டும். எப்படியாயினும் ஒரு கேள்விக்கு ஒரே ஒரு விடையைத்தான் தேர்ந்தெடுக்க வேண்டும்.
8. விடைத்தாளில் ஒவ்வொரு கேள்வி எண்ணிற்கும் எதிரில் (A), (B), (C) மற்றும் (D) என நான்கு வட்டங்கள் உள்ளன. ஒரு கேள்விக்கு விடையளிக்க நீங்கள் சரியென கருதும் விடையை ஒரே ஒரு வட்டத்தில் மட்டும் நீலம் அல்லது கருமை நிறமுடைய பந்து முனைப் பேனாவினால் குறித்துக் காட்ட வேண்டும். ஒவ்வொரு கேள்விக்கும் ஒரு விடையைத் தேர்ந்தெடுத்து விடைத்தாளில் குறிக்க வேண்டும். ஒரு கேள்விக்கு ஒன்றுக்கு மேற்பட்ட விடையளித்தால் அதில் ஒன்று சரியாக இருந்தாலும் அந்த விடை தவறானதாகக் கருதப்படும். உதாரணமாக நீங்கள் (C) என்பதை சரியான விடையாகக் கருதினால் அதை பின்வருமாறு குறித்துக் காட்ட வேண்டும்.
- (A) (B) (C) (D)
9. நீங்கள் வினாத் தொகுப்பின் எந்தப் பக்கத்தையும் நீக்கவோ அல்லது கிழிக்கவோ கூடாது. தேர்வு நேரத்தில் இந்த வினாத் தொகுப்பினையோ அல்லது விடைத்தாளையோ தேர்வுக் கூடத்தை விட்டு வெளியில் எடுத்துச் செல்லக்கூடாது. தேர்வு முடிந்தபின் உங்களுடைய விடைத்தாளைக் கண்காணிப்பாளரிடம் கொடுத்து விட வேண்டும். இவ்வினாத் தொகுப்பினைத் தேர்வு முடிந்தவுடன் நீங்கள் எடுத்துச் செல்லலாம்.
10. குறிப்புகள் எழுதிப் பார்ப்பதற்கு வினாத் தொகுப்பின் கடைசிப் பக்கத்திற்கு முன்பக்கத்தை உபயோகித்துக் கொள்ளலாம்.
11. மேலே உள்ள எந்த அறிவுறுத்தல்களுக்கும் இணங்கத் தவறினால், உயர்நீதிமன்றம் முடிவெடுக்கும் எந்த ஒரு நடவடிக்கை அல்லது தண்டனைக்கு நீங்கள் பொறுப்பாவீர்கள்.



தமிழ்நாட்டின் நீதித்துறையில் அலுவலக உதவியாளர் உள்ளிட்ட பணியிடங்களுக்கு 31.07.2021 (சனிக்கிழமை) நடைபெற்ற எழுத்துத் தேர்வின் உத்தேச விடைகள்.

அறிவிக்கை எண்கள், 59, 61, 63, 65, 67, 69, 71, 73, 75, 77, 79, 81, 83, 85, 87, 89, 91, 93, 95, 97, 99, 101, 103, 105, 107, 109, 111, 113, 115, 117, 119 & 121/2021, தேதி 18.04.2021)

தமிழ்நாட்டில் உள்ள கீழமை நீதிமன்றங்களில் அலுவலக உதவியாளர் உள்ளிட்ட பணியிடங்களுக்கு 31.07.2021 (சனிக்கிழமை) நடைபெற்ற எழுத்துத் தேர்வின் வினாத்தொகுப்பு (A வரிசை) குறிக்கப்பட்ட உத்தேச விடைகள் பதிவேற்றம் செய்யப்பட்டுள்ளது.

உயர்நீதிமன்ற இணையதளத்தில் வெளியிடப்பட்டுள்ள உத்தேச விடைகளில் ஏதேனும் ஆட்சேபனை இருப்பின் அதுகுறித்து மனுவில் வினா எண், வினாத்தொகுப்பின் எண் மற்றும் விடை ஆகியவற்றை குறிப்பிட்டு வெளியிடப்பட்ட தேதியிலிருந்து இரண்டு நாட்களுக்குள் சென்னை உயர்நீதிமன்ற நீதித்துறை ஆட்சேர்ப்பு பிரிவின் மின்னஞ்சல் (recruitment.mhc@gov.in) என்ற முகவரிக்கு அனுப்ப வேண்டும். இவ்வாறு அனுப்பப்படும் மனுவில் தேர்வாளருடைய பதிவு எண், பெயர், முகவரி, வினா எண் மற்றும் அதற்கான தேர்வர்களின் விடை உரிய ஆதாரத்துடன் குறிப்பிடப்பட்டிருக்க வேண்டும். உத்தேச விடைகள் வெளியிடப்பட்ட தேதியிலிருந்து இரண்டு நாட்களுக்குப் பிறகு பெறப்படும் ஆட்சேபனை அல்லது மேலே குறிப்பிட்டுள்ள விவரங்கள் குறிப்பிடப்படாமல் அனுப்பப்படும் ஆட்சேபனை பரிசீலனைக்கு எடுத்துக் கொள்ளப்படமாட்டாது.

ஓம்/-

பதிவாளர் (ஆட்சேர்ப்பு பிரிவு)

தேதி : 09.08.2021

இடம் : உயர்நீதிமன்றம், மெட்ராஸ்.

CLICK TO JOIN 150-HOURS FREE CLASS(9626699743)
Er.THANGAMUTHU IPS ACADEMY



**PROPOSED KEY ANSWERS FOR THE
WRITTEN EXAMINATION CONDUCTED ON
31.07.2021(SATURDAY) FOR THE POSTS OF OFFICE ASSISTANT,
ETC., IN THE JUDICIAL DISTRICTS OF TAMIL NADU**

**(Notification Nos. 59, 61, 63, 65, 67, 69, 71, 73, 75, 77, 79, 81, 83,
85, 87, 89, 91, 93, 95, 97, 99, 101, 103, 105, 107, 109, 111, 113, 115,
117, 119 and 121/2021, dated 18.04.2021)**

The proposed key answers, marked in the Question Booklet (A-Series), for the written examination conducted on 31.07.2021 (Saturday) for the posts of 'Office Assistant, etc.,' in the Judicial Districts of Tamil Nadu are hosted herewith.

Any objection with regard to any of the proposed key answer should be sent by the candidates to the Registrar (Recruitment), High Court, Madras, by e-mail (recruitment.mhc@gov.in) within two days from today. In such communication, Registration Number, Name and address of the candidate, Question Number and answer for such question, according to the candidate, with supporting material for such claim, should invariably be quoted. Any representation received after two days or without any of the above requisite particulars will receive no attention.

Dated: 09.08.2021.
Place: High Court, Madras.

Sd/- xxx
Registrar (Recruitment)

**CLICK TO JOIN 150-HOURS FREE CLASS(9626699743)
Er.THANGAMUTHU IPS ACADEMY**

DJOA21

Booklet Series :

A

வினாத்தொகுப்பு எண்

203721

பதிவு எண்

| | | | | | | | | | |
|--|--|--|--|--|--|--|--|--|--|
| | | | | | | | | | |
|--|--|--|--|--|--|--|--|--|--|

அனுமதிக்கப்பட்டுள்ள நேரம் : 60 நிமிடங்கள்
(1 மணி நேரம்)

மொத்த மதிப்பெண்கள் : 50

‘ வினாக்களுக்கு பதிலளிக்கும் முன் கீழ்க்கண்ட அறிவுரைகளை கவனமாகப் படிக்கவும்

1. இந்த வினாத் தொகுப்பு தேர்வு தொடங்குவதற்கு 10 நிமிடங்களுக்கு முன்னதாக விண்ணப்பதாரர்களுக்கு வழங்கப்படும்.
2. இந்த வினாத் தொகுப்பு 50 வினாக்களைக் கொண்டுள்ளது. விடையளிக்க தொடங்கும் முன் இவ்வினாத் தொகுப்பில் எல்லா வினாக்களும் வரிசையாக இடம் பெற்றுள்ளனவா என்பதையும், இடையில் ஏதும் வெற்றுத்தாள்கள் உள்ளனவா என்பதையும் சரிபார்த்துக் கொள்ளவும். ஏதேனும் குறைபாடு இருப்பின், அதனை தேர்வு தொடங்குவதற்கு முன்பு அறைகண்காணிப்பாளரிடம் தெரிவித்து, சரியாக உள்ள வேறொரு வினாத் தொகுப்பினை பெற்றுக் கொள்ள வேண்டும். தேர்வு தொடங்கிய பின்பு, முறையிட்டால் வினாத் தொகுப்பு மாற்றித் தரப்படமாட்டாது.
3. பகுதி (அ) மற்றும் (ஆ)-ல் (Part A and Part B) உள்ள எல்லா வினாக்களும் சமமான மதிப்பெண்கள் கொண்டவை. ஒவ்வொரு சரியான விடைக்கும் தலா ஒரு மதிப்பெண் வழங்கப்படும். தவறான விடைக்கு மதிப்பெண் குறைக்கப்படமாட்டாது. (No Negative Mark)
4. உங்களுடைய பதிவு எண்ணை இந்தப் பக்கத்தின் வலது மேல் மூலையில் அதற்கென அமைந்துள்ள இடத்தில் எழுத வேண்டும். வேறு எதையும் வினாத் தொகுப்பில் எழுதக் கூடாது.
5. விடைகளை குறித்துக்காட்ட OMR விடைத்தாள் ஒன்று உங்களுக்கு அறைக் கண்காணிப்பாளரால் தரப்படும்.

மீதமுள்ள அறிவிக்கைகளை இறுதி பக்கம் பார்க்கவும்.

SEAL

CLICK TO JOIN 150-HOURS FREE CLASS(9626699743)
Er.THANGAMUTHU IPS ACADEMY

பகுதி அ

1. தமிழ்நாட்டில் தற்போது எத்தனை மாவட்டங்கள் இருக்கிறது ?
(A) 35 (B) 36
(C) 37 (D) 38
2. சென்னை உயர்நீதி மன்றத்தின் தற்போதைய தலைமை நீதிபதி யார் ?
(A) ஏ.பி. சஹி (B) சஞ்சிப் பானர்ஜி
(C) இந்திரா பானர்ஜி (D) தனில்ரமணி
3. எத்தனை மாதங்களில் 28 நாட்கள் இருக்கிறது ?
(A) 12 (B) 1
(C) 10 (D) மேற்கண்ட எதுவுமில்லை
4. மனிதன் வாழ தேவையான வாயு
(A) ஹைட்ரஜன் (B) நைட்ரஜன்
(C) ஆக்சிஜன் (D) கார்பன் டை ஆக்சைடு
5. உலகின் மிகப்பெரிய பீடபூமி எது ?
(A) தக்காண பீடபூமி (B) எவரெஸ்ட் பீடபூமி
(C) திபெத்திய பீடபூமி (D) மேற்கண்ட எதுவுமில்லை
6. கீழ்க்கண்ட வரிசையில் கடைசியில் வரும் எண்
108, 117, 126, 135, ?
(A) 99 (B) 144
(C) 153 (D) 162
7. ஈபில் டவர் எந்த நாட்டில் இருக்கிறது ?
(A) பிரான்ஸ் (B) ஜெர்மனி
(C) ஸ்வீடன் (D) ரஷ்யா

8. இந்திய குடியரசுத் தலைவரின் பதவிக்காலம் எத்தனை ஆண்டுகள் ?
(A) 4 (B) 5
(C) 6 (D) 7

9. இந்தியாவின் கோதுமை களஞ்சியம்
(A) ஹரியானா (B) பஞ்சாப்
(C) உத்திரப் பிரதேசம் (D) ஜார்க்கண்ட்

10. தமிழகத்தின் நுழைவாயில் என்று அழைக்கப்படுவது -
(A) நாகப்பட்டினம் (B) ராமேஸ்வரம்
(C) தூத்துக்குடி (D) சென்னை

11. தென்னிந்தியாவின் மான்செஸ்டர்
(A) திருச்சி (B) திருநெல்வேலி
(C) கோயம்புத்தூர் (D) சென்னை

12. குட்டி ஜப்பான் என்றழைக்கப்படும் ஊர்
(A) திருப்பூர் (B) சிவகாசி
(C) ராமேஸ்வரம் (D) மதுரை

13. இந்தியா எப்போது குடியரசு நாடானது?
(A) 1947 (B) 1948
(C) 1950 (D) 1956

14. தமிழகத்திற்கும் கர்நாடகத்திற்கும் இடையே எந்த நதி சம்பந்தமாக பிரச்சினை இருக்கிறது?
(A) தாமிரபரணி (B) பாலாறு
(C) காவிரி (D) தென்பெண்ணை

15. ஈரப்பதத்தை அதிக நாட்கள் தேக்கி வைக்கும் மண் .

(A) செம்மண்

(B) வண்டல்மண்

(C) கரிசல்மண்

(D) சரளைமண்

16. உலகின் மிகப்பெரிய கண்டம்

(A) ஆப்பிரிக்கா

(B) அமெரிக்கா

(C) ஐரோப்பா

(D) ஆசியா

17. மின் விளக்கை கண்டுபிடித்தவர்

(A) தாமஸ் ஆல்வா எடிசன்

(B) ராபர்ட்

(C) நியூட்டன்

(D) மால்தஸ்

18. நரிமணத்தின் புகழுக்கு காரணம்

(A) பெட்ரோலியம்

(B) தங்கம்

(C) வைரம்

(D) நிலக்கரி

19. மணிமுத்தாறு அணைக்கட்டு எந்த நதியின் குறுக்கே கட்டப்பட்டுள்ளது?

(A) காவிரி

(B) கோதாவரி

(C) வைகை

(D) தாமிரபரணி

20. ஒரு கிலோ மாம்பழம் ரூபாய் 60. ஒரு கிலோ திராட்சை ரூபாய் 88. ஒரு கிலோ சாத்துக்குடி ரூபாய் 34. ஒரு நபர் 4 கிலோ மாம்பழம், 6 கிலோ திராட்சை, 7 கிலோ சாத்துக்குடி வாங்கிக்கொண்டு கடைக்காரரிடம் ரூபாய் 2,000 கொடுக்கிறார். கடைக்காரர் கொடுக்க வேண்டிய மீதித் தொகை எவ்வளவு?

(A) 990

(B) 850

(C) 854

(D) 994

21. 5 லிட்டர் + 60 மில்லி லிட்டர்

(A) 560 மில்லி லிட்டர்

(B) 5600 மில்லி லிட்டர்

☒ (C) 5060 மில்லி லிட்டர்

(D) 50060 மில்லி லிட்டர்

22. ஒரு பெஞ்சில் 6 மாணவர்களை உட்கார வைக்கலாம். 210 மாணவர்களை உட்கார வைக்க எத்தனை பெஞ்சுகள் தேவைப்படும்?

(A) 80

☒ (B) 35

(C) 25

(D) 30

23. அதிக மக்கள் தொகை கொண்ட நாடுகளின் பட்டியலில், இந்தியா எத்தனையாவது இடத்தில் உள்ளது?

☒ (A) 2

(B) 1

(C) 7

(D) 3

24. நம் தேசியக் கொடியில் உள்ள சக்கரத்தில் எத்தனை கோடுகள் இருக்கிறது?

(A) 48

☒ (B) 24

(C) 28

(D) 36

25. நமது தேசிய பாடலை எழுதியவர் யார்?

(A) ரவீந்திரநாத் தாகூர்

☒ (B) பக்கிம் சந்திர சாட்டர்ஜி

(C) மோனாலிசா

(D) லஜபதிராய்

26. தமிழகத்தின் நெற்களஞ்சியம் எது?

(A) திருநெல்வேலி

(B) ஈரோடு

(C) கிணத்துக்கடவு

☒ (D) தஞ்சாவூர்

27. பொருத்துக.

- | | |
|------------------|--------------------|
| (a) தொலைபேசி | 1. ரைட் சகோதரர்கள் |
| (b) ரேடியோ | 2. பெயிர்ட் |
| (c) விமானம் | 3. கிரகாம்பெல் |
| (d) தொலைக்காட்சி | 4. மார்க்கோனி |

- | | | | | |
|-----|-----|-----|-----|-----|
| | (a) | (b) | (c) | (d) |
| (A) | 1 | 2 | 3 | 4 |
| (B) | 4 | 3 | 2 | 1 |
| (C) | 3 | 4 | 2 | 1 |
| (D) | 3 | 4 | 1 | 2 |

28. கீழ்க்கண்ட சூழலில் எந்த கூற்று மிகச் சரியானது?

உன் நண்பர் பிறர் பையிலிருந்து ஏதோ ஒரு பொருளை எடுப்பதை பார்த்து விட்டாய்

- (A) என் நண்பர் ஆகையால் யாரிடமும் காட்டிக் கொடுக்க மாட்டேன். எனக்கு தெரிந்ததாகவும் காட்டிக்கொள்ள மாட்டேன்
- (B) பிறர் பொருளை எடுத்தது தவறு. அதனால் நண்பராக இருந்தாலும் ஆசிரியரிடம் கூறுவேன்
- (C) ஆசிரியரிடம் கூறி விடுவேன் என மிரட்டி திருத்துவேன்
- (D) நண்பர் ஏன் அப்பொருள் எடுத்தார் என்பது பற்றியும் பிறர் பொருளை எடுப்பது தவறு என்பது குறித்தும் நண்பரிடம் பேசுவேன்

29. ரவி என்ற சிறுவன் தன் வீட்டில் உள்ள மாதுளை மரத்தில் உள்ள பெரும்பாலான பூக்களை பறித்து விட்டான். அதனால்

- (A) அந்த மரம் வளர்வது குறையும்
- (B) மாதுளை பழங்கள் குறையும்
- (C) இலைகள் உதிரும்
- (D) மேற்கண்ட எதுவுமில்லை

30. முதல் உலகத் தமிழ் மாநாடு நடைபெற்ற இடம்

- (A) மலேசியா
- (B) சிங்கப்பூர்
- (C) தஞ்சாவூர்
- (D) கோயம்புத்தூர்

பகுதி ஆ

31. மணிமேகலை உணர்த்தும் சமயம்

- (A) இந்து மதம்
(C) பார்சி மதம்

- (B) பௌத்த மதம்
(D) கிறித்துவ மதம்

32. ஏற்றத்தாழ்வற்ற ————— அமைய வேண்டும்

- (A) சமுதாயம்
(C) வீடு

- (B) நாடு
(D) தெரு

33. மயிலுக்கு போர்வை தந்த மன்னன்

- (A) பேகன்
(C) பாரி

- (B) நம்பி
(D) மேற்கண்ட எவருமில்லை

34. இந்தியா என்ற இதழைத் தொடங்கியவர் யார்?

- (A) கண்ணதாசன்
(C) விஸ்வநாதன்

- (B) பாரதியார்
(D) மறைமலையடிகள்

35. பாரதிதாசனுக்கு அவர் பெற்றோர் இட்ட பெயர்

- (A) கனக சுப்புரத்தினம்
(C) கலை ரத்தினம்

- (B) மணிரத்தினம்
(D) பாலரத்தினம்

36. தமிழ்த்தாய் வாழ்த்தை எழுதியவர்

- (A) பாரதிதாசன்
(C) சுப்புரத்தினம்

- (B) பாரதியார்
(D) சுந்தரம்பிள்ளை

37. 'கட்டவிழ்த்து' பிரித்து எழுதுக

- (A) கட்ட + விழ்த்து
(C) கட்ட + அவிழ்த்து

- (B) கட்டு + அவிழ்த்து
(D) கட்டவி + ழ்த்து

38. குதிரை வளர்க்கும் இடத்தை ————— என்று அழைப்பார்கள்.

- (A) குதிரை தொழுவம்
(C) குதிரை வளை

- (B) குதிரை பட்டி
(D) குதிரைக் கொட்டில்

39. ஆந்தை

(A) அலறும்

(B) கத்தும்

(C) ஊளையிடும்

(D) கூவும்

40. நோயற்ற வாழ்வே

(A) முகத்தில் தெரியும்

(B) நூறுவயது

(C) குறைவற்ற செல்வம்

(D) வழியில் பயமில்லை

41. பொருத்துக.

(a) வாழை

1. தோப்பு

(b) நெல்

2. கொள்ளை

(c) சோளம்

3. தோட்டம்

(d) கொய்யா

4. வயல்

| | (a) | (b) | (c) | (d) |
|-----|-----|-----|-----|-----|
| (A) | 3 | 4 | 2 | 1 |
| (B) | 1 | 4 | 2 | 3 |
| (C) | 4 | 3 | 2 | 1 |
| (D) | 1 | 2 | 3 | 4 |

42. கீழ்க்கண்ட கூற்றுகளில் எது சரியானது?

1. திராட்சை கொத்து கொத்தாய் காய்த்து தொங்கிக் கொண்டிருந்தன

2. அமுதா பூந்தோட்டம் பூக்களை பறித்தாள்

3. மக்கள் மந்தை மந்தையாக சென்றனர்

(A) அனைத்து கூற்றுகளும் தவறானது

(B) கூற்றுகள் 1 மற்றும் 3 மட்டும் சரியானது

(C) கூற்றுகள் 2 மற்றும் 3 மட்டும் சரியானது

(D) அனைத்து கூற்றும் சரியானது

43. நெல் + கதிர் என்பதை சேர்த்து எழுதுக

(A) நெல்கதிர்

(B) நெற்கதிர்

(C) நெல்க்கதிர்

(D) நெற்க்கதிர்

44. முதுமை + உரை என்பதை சேர்த்து எழுத கிடைப்பது

(A) முதுரை

(B) முதுமைஉரை

(C) முதுமையுரை

(D) மேற்கண்ட எதுவுமில்லை

45. இந்தியாவின் தேசிய மரம் எது?
 (A) வாழை மரம் (B) ஆல மரம்
 (C) தென்னை மரம் (D) தேக்கு மரம்
46. உலகப் பொதுமறை
 (A) சிலப்பதிகாரம் (B) திருக்குறள்
 (C) பைபிள் (D) பகவத்கீதை
47. தமிழ்நாட்டை ஒட்டியுள்ள மாநிலங்கள்
 (A) கேரளா, கர்நாடகா, ஆந்திரா
 (B) கேரளா, பாண்டிச்சேரி, ஆந்திரா
 (C) பாண்டிச்சேரி, ஆந்திரா, தெலுங்கானா, கர்நாடகா
 (D) கேரளா, கர்நாடகா, ஆந்திரா, பாண்டிச்சேரி, தெலுங்கானா
48. தெனாலிராமன் எந்த அரசரின் அரசவையில் இருந்தார்?
 (A) கிருஷ்ணதேவராயர் (B) சந்திரகுப்தர்
 (C) புலிகேசி (D) அக்பர்
49. தமிழ்நாட்டில் தற்போது அகழ்வாராய்ச்சி நடக்கும் இடம் எது?
 (A) வேதாரண்யம் (B) மேலூர்
 (C) தரங்கம்பாடி (D) கீழடி
50. தமிழ்நாட்டின் மலைகளின் இளவரசி எது?
 (A) கல்வரையான் மலை (B) ஏற்காடு
 (C) ஊட்டி (D) யானை மலை

6. உங்களுடைய வினாத்தொகுப்பு எண் (Question Booklet Number) மற்றும் அதன் வரிசையை விடைத்தாளின் முதல் பக்கத்தில் அதற்கென அமைந்துள்ள இடத்தில் நீலம் அல்லது கருமை நிற மையுடைய பந்துமுனைப் பேனாவினால் குறித்துக் காட்ட வேண்டும். மேற்கண்டவற்றை விடைத்தாளில் நீங்கள் குறித்துக் காட்டத் தவறினால் அறிவிக்கையில் குறிப்பிட்டுள்ளவாறு நடவடிக்கை மேற்கொள்ளப்படும்.
7. ஒவ்வொரு வினாவும் (A), (B), (C) மற்றும் (D) என நான்கு விடைகளைக் கொண்டுள்ளது. நீங்கள், அவைகளில் ஒரே ஒரு சரியான விடையைத் தேர்வு செய்து விடைத்தாளில் குறித்துக் காட்ட வேண்டும். ஒன்றுக்கு மேற்பட்ட சரியான விடைகள் ஒரு கேள்விக்கு இருப்பதாகக் கருதினால் நீங்கள் மிகச் சரியானது என்று எதைக் கருதுகிறீர்களோ அந்த விடையைத்தான் விடைத்தாளில் குறித்துக் காட்ட வேண்டும். எப்படியாயினும் ஒரு கேள்விக்கு ஒரே ஒரு விடையைத்தான் தேர்ந்தெடுக்க வேண்டும்.
8. விடைத்தாளில் ஒவ்வொரு கேள்வி எண்ணிற்கும் எதிரில் (A), (B), (C) மற்றும் (D) என நான்கு வட்டங்கள் உள்ளன. ஒரு கேள்விக்கு விடையளிக்க நீங்கள் சரியென கருதும் விடையை ஒரே ஒரு வட்டத்தில் மட்டும் நீலம் அல்லது கருமை நிற மையுடைய பந்து முனைப் பேனாவினால் குறித்துக் காட்ட வேண்டும். ஒவ்வொரு கேள்விக்கும் ஒரு விடையைத் தேர்ந்தெடுத்து விடைத்தாளில் குறிக்க வேண்டும். ஒரு கேள்விக்கு ஒன்றுக்கு மேற்பட்ட விடையளித்தால் அதில் ஒன்று சரியாக இருந்தாலும் அந்த விடை தவறானதாகக் கருதப்படும். உதாரணமாக நீங்கள் (C) என்பதை சரியான விடையாகக் கருதினால் அதை பின்வருமாறு குறித்துக் காட்ட வேண்டும்.
- (A) (B) ● (D)
9. நீங்கள் வினாத் தொகுப்பின் எந்தப் பக்கத்தையும் நீக்கவோ அல்லது கிழிக்கவோ கூடாது. தேர்வு நேரத்தில் இந்த வினாத் தொகுப்பினையோ அல்லது விடைத்தாளையோ தேர்வுக் கூடத்தை விட்டு வெளியில் எடுத்துச் செல்லக்கூடாது. தேர்வு முடிந்தபின் நீங்கள் உங்களுடைய விடைத்தாளைக் கண்காணிப்பாளரிடம் கொடுத்து விட வேண்டும். இவ்வினாத் தொகுப்பினைத் தேர்வு முடிந்தவுடன் நீங்கள் உங்களுடன் எடுத்துச் செல்லலாம்.
10. குறிப்புகள் எழுதிப் பார்ப்பதற்கு வினாத் தொகுப்பின் கடைசிப் பக்கத்திற்கு முன்பக்கத்தை உபயோகித்துக் கொள்ளலாம்.



**PROPOSED KEY ANSWERS FOR THE
WRITTEN EXAMINATION CONDUCTED
FOR THE POST OF ASSISTANT PROGRAMMER**

(Notification No.17/2021, dated 07.02.2021)

The proposed key answers, marked in the Question Booklet (A-Series), for the written examination conducted on 10.07.2021 (Saturday) for the post of 'Assistant Programmer' are hosted herewith.

Any objection with regard to any of the proposed key answer should be sent by the candidates to the Registrar (Recruitment), High Court, Madras, by e-mail (recruitment.mhc@gov.in) within two days from today. In such communication, Registration Number, Name and address of the candidate, Question Number and answer for such question, according to the candidate, with supporting material for such claim, should invariable be quoted. Any representation received after two days or without any of the above requisite particulars will receive no attention.

Dated: 26.07.2021.
Place: High Court, Madras.

Sd/- xxxxx
Registrar (Recruitment).

**CLICK TO JOIN 150-HOURS FREE CLASS(9626699743)
Er.THANGAMUTHU IPS ACADEMY**

MHAP 1746

Booklet Series :

A

Registration
No.

Booklet No.

10253

Time : Three Hours

Max Marks: 150

IMPORTANT INSTRUCTIONS TO CANDIDATES

Read the following instructions carefully before you begin to answer the questions.

1. The Candidate will be supplied with Question Booklet 15 minutes before commencement of the examination.
2. This Question Booklet contains 150 objective type questions. Before answering, the candidates are requested to check whether all the questions are in seriatim and ensure that there are no blank pages / Questions in the question booklet. In case any defect is noticed, it shall be reported to the Invigilator within first 10 minutes and get it replaced with a new same series Question Booklet. After 10 minutes of the commencement of the examination, it will not be replaced.
3. Each Question carries one mark (No negative mark will be deducted for the wrong answer except Part D Questions. **For each incorrect answer in Part D, 1/4 (0.25) mark will be deducted**).
4. You must write your Register Number in the space provided on the top left side of the page without fail. Do not write anything else in the Question Booklet.
5. Personalized OMR Answer Sheets of the Candidates will be supplied by the invigilator for answering the Questions. If the OMR Answer Sheet is, in anyway defective, the same shall be brought to the notice of the Invigilator immediately before shading, so as to supply a spare OMR answer sheet.
6. You must write and shade your Question Booklet number in the space provided in the OMR Answer Sheet without fail with Blue or Black Ball point pen only.

Please see the last page of this booklet for rest of the instructions.

SEAL

CLICK TO JOIN 150-HOURS FREE CLASS(9626699743)
Er.THANGAMUTHU IPS ACADEMY

10598

PART A

1. Did the boys turn _____ for football practice?
(A) Up (B) On
(C) Back (D) In
2. His manners _____ him.
(A) Speak (B) speak for
(C) speak out (D) Speak of
3. When we get ready for dinner, I have to take my books _____ the table.
(A) of (B) from
(C) off (D) out
4. You must be back _____ four o'clock.
(A) by (B) in
(C) to (D) for
5. Synonym of mellow-
(A) melodious (B) genial
(C) dramatic (D) fruity
6. Antonym of acquitted
(A) jailed (B) exonerated
(C) accused (D) convicted
7. He is too miserly to part _____ his money.
(A) from (B) with
(C) to (D) in
8. Which word does not belong with the others?
(A) wing (B) fin
(C) beak (D) rudder

9. The union leader was very critical ——— the attitude of the management.
(A) for
(B) at
(C) on
(D) of
10. I congratulated Seeta ——— her success in the examination.
(A) on
(B) by
(C) in
(D) with
11. Yesterday Geetha ——— school early to receive her parents at the railway station.
(A) went
(B) entered
(C) left
(D) delayed
12. People from ——— and near came to see the final match of the tournament yesterday.
(A) distance
(B) long
(C) above
(D) far
13. Read the sentence and find out grammatical/idiomatic error in it.
The Headmaster of the school / along with other teachers are coming /
(A) (B)
to attend the meeting / scheduled to be held this afternoon
(C) (D)
14. One who looks on the bright side of things-
(A) pessimist
(B) optimist
(C) infallible
(D) hypocrite
15. Find the correctly spelt word.
(A) maintainance
(B) maintaince
(C) mentaince
(D) maintenance

PART B

16. காமராஜரை 'கல்விக்கண் திறந்தவர்' என மனதார பாராட்டியவர்
(A) அறிஞர் அண்ணா (B) தந்தை பெரியார்
(C) ராஜாஜி (D) பட்டுக்கோட்டை பிரபாகர்
17. பிறர் நமக்கு செய்யும் தீங்கை பொறுத்துக்கொள்வது _____ ஆகும்.
(A) வம்பு (B) அமைதி
(C) அடக்கம் (D) பொறை
18. செம்மொழி - பிரித்து எழுத கிடைப்பது
(A) செம் + மொழி (B) செம்மை + மொழி
(C) செ + மொழி (D) செந் + மொழி
19. சார்பெழுத்துக்கள் எத்தனை வகைப்படும்?
(A) 10 (B) 30
(C) 12 (D) 18
20. உள்ளூவது எல்லாம் உயர்வுள்ளல் மற்றது தள்ளினும்
(A) தள்ளாமை நீர்த்து (B) தள்ளினும் நீர்த்து
(C) நீங்காவிடும் (D) வந்து உயர்த்து
21. பெருமை + வானம் என்பதை சேர்த்து எழுதக் கிடைப்பது
(A) பெருமைவானம் (B) பெருவானம்
(C) பெரும்வானம் (D) மேற்கண்ட எதுவுமில்லை
22. பொன்னியின் செல்வன் என்ற நாவலை எழுதியவர் யார்?
(A) சாண்டிலியன் (B) வைரமுத்து
(C) பார்த்தசாரதி (D) கல்கி
23. மணிமேகலை காப்பியத்தின் ஆசிரியர்
(A) இளங்கோவடிகள் (B) சீத்தலை சாத்தனார்
(C) ஒட்டக்கூத்தன் (D) கபிலர்

24. தீரா இடும்பை தருவது எது?
 (A) குணம், குற்றம் (B) பெருமை, சிறுமை
 (C) ஆராயாமை, ஐயப்படுதல் (D) நாடாமை, பேணாமை
25. 'சாகும்போதும் தமிழ் படித்துச் சாகவேண்டும் – என்றன் சாம்பலும் தமிழ் மணந்து வேகவேண்டும்' என்று கூறியவர் –
 (A) பெருஞ்சித்தனார் (B) இளங்குமரனார்
 (C) சச்சிதானந்தன் (D) பாரதிதாசன்
26. கம்பர் தாம் இயற்றிய காவியத்திற்கு இட்ட பெயர்
 (A) இராம காதை (B) இராம அவதாரம்
 (C) இராம சரிதம் (D) இராம புராணம்
27. சாகித்திய அகாடமி விருதுபெற்ற கி.ரா. வின் நூல் எது?
 (A) கோபல்லபுரத்து மக்கள் (B) மாயமான்
 (C) கரிசல்காட்டு கடுதாசி (D) அந்தமான் நாயக்கர்
28. 'விசனம்' – சொல் தரும் பொருள் யாது?
 (A) அச்சம் (B) மகிழ்ச்சி
 (C) கவலை (D) ஏக்கம்
29. கீழ்க்கண்டவற்றுள் ஆண்டாளின் படைப்பு எது?
 (A) திருவெம்பாவை (B) திருமாலை
 (C) திருவாய் மொழி (D) நாச்சியார் திருமொழி
30. வாடிய பயிரைக் கண்டபோ தெல்லாம் வாடினேன் பசியினால் இளைத்தே/இந்த பாடல் வரி இடம்பெற்றுள்ள நூல் மற்றும் ஆசிரியர் பெயர் என்ன?
 (A) பாஞ்சாலிசபதம், பாரதியார்
 (B) பத்துப்பாட்டு, பெருஞ்சித்தனார்
 (C) நான்மணிக்கடிகை, விளம்பி நாகனார்
 (D) திருவருட்பா, இராமலிங்க அடிகளார்

PART C

31. If your weight on earth is 60 kg, what will be your weight on the moon?

- (A) 5 Kg (B) 10 Kg
(C) 15 Kg (D) 20 Kg

பூமியில் உன்னுடைய எடை 60 கிலோவாக இருந்தால், நிலவில் உன்னுடைய எடை என்ன?

- (A) 5 கிலோகிராம் (B) 10 கிலோகிராம்
(C) 15 கிலோகிராம் (D) 20 கிலோகிராம்

32. Sericulture is

- (A) Silk cultivation (B) Fish cultivation
(C) Fruits cultivation (D) Milk production

செரிகல்சர் என்பது

- (A) பட்டு வளர்ப்பு (B) மீன் வளர்ப்பு
(C) பழ வளர்ப்பு (D) பால் உற்பத்தி

33. When did the Constitution of India come into effect?

- (A) 26.01.1950 (B) 15.08.1947
(C) 26.01.1947 (D) 15.11.1950

இந்திய அரசியலமைப்பு சட்டம் எப்போது அமலுக்கு வந்தது?

- (A) 26.01.1950 (B) 15.08.1947
(C) 26.01.1947 (D) 15.11.1950

34. Who among the following appoints the Governor of the states in India?

- (A) Prime Minister (B) Parliament
(C) President (D) Rajya Sabha Chairman

கீழ்க்கண்டவர்களில் யார் இந்தியாவில் உள்ள மாநிலங்களில் ஆளுநரை நியமிக்கிறார்?

- (A) பிரதம மந்திரி (B) பாராளுமன்றம்
(C) குடியரசு தலைவர் (D) ராஜ்யசபா தலைவர்

A

CLICK TO JOIN 150-HOURS FREE CLASS(9626699743) Er.THANGAMUTHU IPS ACADEMY

MHAP 1746
[Turn over]

35. Who is the current RBI Governor?

- (A) Shaktikanta Das (B) Deshmukh
(C) Raghuram (D) Urjit Patel

ரிசர்வ் வங்கியின் தற்போதைய கவர்னர் யார்?

- (A) சக்தி காண்டா தாஸ் (B) தேஸ்முக்
(C) ரகுராம் (D) உர்ஜிட் பட்டேல்

36. Who is the first recipient of Nobel Prize for literature in Asia?

- (A) Rabindranath Tagore
(B) Sarojini Naidu
(C) Satyajit Ray
(D) Raman

ஆசியாவில் இலக்கியத்திற்காக முதன்முதலில் நோபல் பரிசு பெற்றவர் யார்?

- (A) ரவிந்திரநாத் தாகூர்
(B) சரோஜினி நாயுடு
(C) சத்தியஜித் ராய்
(D) ராமன்

37. When was the Non Co-operation Movement launched?

- (A) 1919 (B) 1920
(C) 1922 (D) 1942

எப்போது ஒத்துழையாமை இயக்கம் ஆரம்பிக்கப்பட்டது?

- (A) 1919 (B) 1920
(C) 1922 (D) 1942

38. A man is walking at a speed of 10 kmph. After every km, he takes a rest for 5 minutes. How much time will he take to cover a distance of 5 km?

- (A) 60 minutes (B) 50 minutes
(C) 40 minutes (D) 70 minutes

ஒரு மணிக்கு 10 கிலோமீட்டர் வேகத்தில் ஒரு நபர் நடக்கின்றார். ஒவ்வொரு கிலோமீட்டர் கடந்தபின்னர் அவர் 5 நிமிடம் ஓய்வு எடுக்கிறார். 5 கிலோமீட்டர் தூரம் கடக்க அவர் எவ்வளவு நேரம் எடுத்துக்கொள்வார்?

- (A) 60 நிமிடம் (B) 50 நிமிடம்
(C) 40 நிமிடம் (D) 70 நிமிடம்

39. Jitu Rai is associated with which sports?

- (A) athletics (B) football
(C) wrestling (D) shooting

எந்த விளையாட்டுடன் ஜித்தூராய் தொடர்புடையவர்?

- (A) தடகள போட்டி (B) கால்பந்தாட்டம்
(C) மல்யுத்தம் (D) துப்பாக்கி சுடுதல்

40. Fresh sugarcane contains 84% water. Dried sugarcane contains 28% water. How many kgs of dried sugarcane can be obtained from 90 kg of fresh sugarcane?

- (A) 10 (B) 20
(C) 35 (D) 72

புதுகரும்பு 84 சதவீத தண்ணீரை கொண்டுள்ளது. உலர்ந்த கரும்பு 28 சதவீத தண்ணீரை கொண்டுள்ளது. 90 கிலோ எடையுள்ள புதுகரும்பிலிருந்து எவ்வளவு கிலோ உலர்ந்த கரும்பை பெற முடியும்?

- (A) 10 (B) 20
(C) 35 (D) 72

41. Match the following :

- | | |
|-----------------|---------------|
| (a) Hockey | 1. 7 players |
| (b) Volleyball | 2. 5 players |
| (c) Basket ball | 3. 6 players |
| (d) Kabadi | 4. 11 players |

- | | | | | |
|-----|-----|-----|-----|-----|
| | (a) | (b) | (c) | (d) |
| (A) | 1 | 2 | 3 | 4 |
| (B) | 3 | 4 | 2 | 1 |
| (C) | 4 | 3 | 2 | 1 |
| (D) | 2 | 1 | 4 | 3 |

கீழ்க்கண்டவற்றை பொருத்துக :

- | | |
|-----------------|----------------|
| (a) ஹாக்கி | 1. 7 வீரர்கள் |
| (b) கைப்பந்து | 2. 5 வீரர்கள் |
| (c) கூடைப்பந்து | 3. 6 வீரர்கள் |
| (d) கபடி | 4. 11 வீரர்கள் |

- | | | | | |
|-----|-----|-----|-----|-----|
| | (a) | (b) | (c) | (d) |
| (A) | 1 | 2 | 3 | 4 |
| (B) | 3 | 4 | 2 | 1 |
| (C) | 4 | 3 | 2 | 1 |
| (D) | 2 | 1 | 4 | 3 |

42. Who gave the title of Father of Nation to Mahatma Gandhi?

- | | |
|-------------------------|----------------------|
| (A) Subhas Chandra Bose | (B) Jawaharlal Nehru |
| (C) Vallabhai Patel | (D) Mountbatten |

மகாத்மா காந்திக்கு தேசத்தின் தந்தை என்று யார் பட்டம் கொடுத்தார்?

- | | |
|----------------------|---------------------|
| (A) சுபாஷ்சந்திரபோஸ் | (B) ஜவஹர்லால் நேரு |
| (C) வல்லபாய் பட்டேல் | (D) மவுண்ட் பேட்டன் |

43. What is unit of temperature in the S.I system?

- (A) centigrade (B) kelvin
(C) rumen (D) fahrenheit

எஸ்.ஐ. முறையில் உள்ள வெப்பத்தின் அலகு என்ன?

- (A) சென்டிகிரேட் (B) கெல்வின்
(C) ரூமன் (D) பாரன்ஹீட்

44. Rainfall is decreasing due to

- (A) afforestation (B) industrialization
(C) global warming (D) pollution

மழை குறைவதற்கான காரணம்?

- (A) காடு வளர்ப்பு (B) தொழில்மயமாதல்
(C) உலக வெப்பமயமாதல் (D) மாசுபடுதல்

45. A boy could do $\frac{1}{7}$ th part of some work in 6 days. The number of days he would take to do 0.5 part of the same work is

- (A) 42 days (B) 21 days
(C) 11 days (D) 6 days

ஒரு சிறுவன் சில வேலையின் $\frac{1}{7}$ பகுதியை செய்து முடிக்க 6 நாட்கள் ஆகிறது. அதே வேலையை 0.5 பகுதியை அவர் செய்ய எவ்வளவு நாட்கள் ஆகும்?

- (A) 42 நாட்கள் (B) 21 நாட்கள்
(C) 11 நாட்கள் (D) 6 நாட்கள்

46. A man bought a saree for Rs. 546, after getting a discount of Rs. 104 on its marked price. The percentage of discount given to him was

- (A) 16% (B) 15%
(C) 18% (D) 20%

ஒரு சேலையில் அதில் குறிப்பிடப்பட்ட விலையிலிருந்து ரூபாய் 104 தள்ளுபடி போக, ஒரு நபர் ரூபாய் 546-க்கு அந்த சேலையை வாங்கினார். அவருக்கு எவ்வளவு சதவீத தள்ளுபடி கொடுக்கப்பட்டது?

- (A) 16% (B) 15%
(C) 18% (D) 20%

47. Arrange the following in the increasing order of their size :

Karnataka, Kerala, Tamil Nadu, Telangana

- (A) Kerala, Telangana, Tamil Nadu, Karnataka
(B) Kerala, Tamil Nadu, Telangana, Karnataka
(C) Kerala, Telangana, Karnataka, Tamil Nadu
(D) Karnataka, Tamil Nadu, Telangana, Kerala

கீழ்க்கண்டவற்றை அதன் அளவை வைத்து மேல்நோக்கி வரிசைப்படுத்துக.

கர்நாடகா, கேரளா, தமிழ்நாடு, தெலுங்கானா

- (A) கேரளா, தெலுங்கானா, தமிழ்நாடு, கர்நாடகா
(B) கேரளா, தமிழ்நாடு, தெலுங்கானா, கர்நாடகா
(C) கேரளா, தெலுங்கானா, கர்நாடகா, தமிழ்நாடு
(D) கர்நாடகா, தமிழ்நாடு, தெலுங்கானா, கேரளா

48. Which of the following is not a browser?

- (A) android (B) firefox
(C) chrome (D) safari

கீழ்க்கண்டவற்றில் எது பிரவுசர் இல்லை?

- (A) ஆண்ட்ராய்டு (B) பயர்பாக்ஸ்
(C) குரோம் (D) சபாரி

49. What is the maximum (sanctioned) strength of Supreme Court including the Chief Justice of India?

- (A) 26 (B) 31
(C) 34 (D) no limit

உச்ச நீதிமன்ற தலைமை நீதிபதியை உள்ளடக்கி உச்சநீதிமன்ற நீதிபதிகளின் எண்ணிக்கை எவ்வளவு?

- (A) 26 (B) 31
(C) 34 (D) வரம்பில்லை

50. The ————— is considered as the 'network of networks'.

- (A) internet (B) satellite network
(C) local area network (D) metropolitan area network

நெட்வர்கின் நெட்வர்க் என்பது

- (A) இண்டர்நெட் (B) சேட்டலைட் நெட்வர்க்
(C) லோக்கல் ஏரியா நெட்வர்க் (D) மெட்ரோபாலிடன் ஏரியா நெட்வர்க்

PART D

51. Execute a command as another user in Linux?
(A) Who (B) Tty
(C) Chmod (D) Sudo
52. Online content that is not indexed by search engines is called _____
(A) Disconnected web (B) Private documents
(C) Hidden documents (D) Deep web
53. What is a long-term scheduler?
(A) It selects which process has to be brought into the ready queue
(B) It selects which process has to be executed next and allocated CPU
(C) It selects which process to remove from memory by swapping
(D) None of these
54. The process of building new classes from existing one is called
(A) Structure (B) Inheritance
(C) Polymorphism (D) Template
55. Personal Area Network is a network arranged within an individual person, typically within a range of
(A) 10 meters (B) 20 meters
(C) 40 meters (D) 30 meters
56. What do you use the Aux port for?
(A) Console (B) Terminal editing
(C) Modem (D) Backup logging

57. _____ and _____ are the two issues of Requirement Analysis.
- (A) Performance, Design
 - ☒ (B) Stakeholder, Developer
 - (C) Functional, Non-Functional
 - (D) None of the mentioned
58. MIME stand for
- (A) Multipurpose Internet Messaging Extension
 - ☒ (B) Multipurpose Internet Mail Extension
 - (C) Multipurpose Internet Media Extension
 - (D) Multipurpose Internet Mass Extension
59. The statement that is executed automatically by the system as a side effect of the modification of the database is
- (A) backup
 - (B) assertion
 - (C) recovery
 - ☒ (D) trigger
60. When do you stop testing in software development?
- (A) The faults have been fixed
 - (B) All the tests run
 - (C) The time completed
 - ☒ (D) The risk is resolved
61. Select the tag which is used to mark a beginning of paragraph
- (A) <TD>
 - (B)

 - ☒ (C) <P>
 - (D) <TR>

62. The technology that is not used by Ajax is

- (A) JavaScript
- (B) XMLHttpRequest
- (C) Document Object Model
- ☒ (D) Flash

63. Out of the following which one is a Software Testing tool?

- (A) Rational Rose
- (B) Oracle
- ☒ (C) Win Runner
- (D) Linux

64. What is the output message displayed when you execute the applet of the following Java program?

```
import java.awt.*;  
import java.applet.*;  
  
public class myapplet extends Applet  
{  
    public void paint(Graphics g)  
    {  
        g.drawString("A Simple Applet", 20, 20);  
    }  
}
```

- ☒ (A) A Simple Applet
- (B) A Simple Applet 20 20
- (C) Compilation Error
- (D) Runtime Error

65. Half duplex Ethernet operation is
- (A) Half Duplex Ethernet technology provides a transmit circuit connection wired directly to the receiver circuit at the other end
 - (B) Half duplex transmission between stations is achieved by using point to multipoint Ethernet and Fast Ethernet
 - ☒ (C) With Half Duplex transmission logically circuits feed into a single cable creating a situation similar to a one way bridge
 - (D) Half Duplex transmission between stations is achieved using Point to Point Ethernet & Fast Ethernet
66. What does a directed arc or line signify?
- ☒ (A) Data Flow
 - (B) Data Process
 - (C) Data Stores
 - (D) None of the above
67. Servlets are used to program which component in a web application?
- (A) client
 - ☒ (B) server
 - (C) tomcat
 - (D) applet
68. Which of the following code is used to get an attribute in a HTTP Session object in servlets?
- ☒ (A) session.getAttribute(String name)
 - (B) session.alterAttribute(String name)
 - (C) session.updateAttribute(String name)
 - (D) session.setAttribute(String name)

69. Which of the following is true regarding PostgreSQL?
- (A) PostgreSQL is a powerful
 - (B) PostgreSQL is open source
 - (C) PostgreSQL is object-relational database system
 - ☒ (D) All of the above
70. Identify the correct syntax for referring the external style sheet?
- (A) `<style src = example.css>`
 - (B) `<style src = "example.css">`
 - (C) `<stylesheet> example.css </stylesheet>`
 - ☒ (D) `<link rel="stylesheet" type="text/css" href="example.css">`
71. The incorrect Python declaration is
- (A) `xyzp = 5,000,000`
 - ☒ (B) `x y z p = 5000 6000 7000 8000`
 - (C) `x,y,z,p = 5000, 6000, 7000, 8000`
 - (D) `x_y_z_p = 5,000,000`
72. Gutter margin is
- (A) Margin that is added to right margin when printing
 - (B) Margin that is added to the left margin when printing
 - (C) Margin that is added to the outside of the page when printing
 - ☒ (D) Margin that is added to the binding side of page when printing
73. _____ Supports Web Services Testing
- (A) Selenium
 - (B) SilkTest
 - (C) Postman
 - ☒ (D) ALM

74. The following are the features of Content Management System (CMS)
(A) Content Creation and Storage (B) Workflow Management
(C) Publishing (D) All of the above

75. From the following which is not a web hosting company?
(A) Hostgator (B) Blue Host
(C) WPX Hosting (D) Facebook

76. What will be the output of the following Java code?

```
class overload
{
    int x;
    double y;
    void add(int a , int b)
    {
        x = a + b;
    }
    void add(double c , double d)
    {
        y = c + d;
    }
    overload()
    {
        this.x = 0;
        this.y = 0;
    }
}
class Overload_methods
{
    public static void main(String args[ ])
    {
        overload obj = new overload();
        int a = 2;
        double b = 3.2;
        obj.add(a, a);
        obj.add(b, b);
        System.out.println(obj.x + " " + obj.y);
    }
}
```

- (A) 6 6 (B) 6.4 6.4
(C) 6.4 6 (D) 4 6.4

77. Arrange the steps in order to represent the conducting of Wideband Delphi Technique.

- i. Conduct a group discussion
- ii. Conduct another group discussion
- iii. Present experts with a problem
- iv. Collect expert opinion anonymously
- v. Iterate until consensus is reached
- vi. Feedback a summary of result to each expert

(A) i, iii, ii, iv, v, vi

(B) iii, i, ii, iv, v, vi

(C) i, ii, iii, iv, vi, v

☒ (D) iii, i, iv, vi, ii, v

78. The difference between servlets and applets is

- i. Servlets execute on Server; Applets execute on browser
- ii. Servlets have no GUI; Applet has GUI
- iii. Servlets creates static web pages; Applets creates dynamic web pages
- iv. Servlets can handle only a single request; Applet can handle multiple requests

(A) i, ii, iii are correct

☒ (B) i, ii are correct

(C) i, iii are correct

(D) i, ii, iii, iv are correct

79. Which tag should be used to pass information from JSP to included JSP?

☒ (A) Using <%jsp:page> tag

(B) Using <%jsp:param> tag

(C) Using <%jsp:import> tag

(D) Using <%jsp:useBean> tag

80. Table A

| Id | Name | Age |
|----|------|-----|
|----|------|-----|

12 Arun 60

15 Shreya 24

99 Rohit 11

Table B

| Id | Name | Age |
|----|------|-----|
|----|------|-----|

15 Shreya 24

25 Hari 40

98 Rohit 20

99 Rohit 11

Table C

| Id | Phone | Area |
|----|-------|------|
|----|-------|------|

10 2200 02

99 2100 01

Consider the above tables A, B and C. How many tuples does the result of the following SQL query contains?

```
SELECT A.id
```

FROM A

WHERE A.age > ALL (SELECT B.age FROM B
WHERE B.name = "arun")

(A) 4

(B) 3

(C) 0

(D) 1

81. PostgreSQL runs on :

(A) all major operating systems, including Linux, UNIX (AIX, BSD, HP-UX, SGI IRIX, Mac OS X, Solaris, Tru64), and Windows.

(B) on all UNIX versions except Solaris.

(C) Linux and Windows only.

(D) Windows only

82. Hex Code format of CSS colours :

- (A) This is a shorter form of the six-digit notation.
- (B) In this format, each digit is replicated to arrive at an equivalent six-digit value.
- (C) Each hexadecimal code will be preceded by a pound or hash sign '#'.
- ☒ (D) All of the above.

83. Study the following Python program

```
class Std_Name:
```

```
    def __init__(self, Std_firstName, Std_Ph, Std_lastName):
```

```
        self.Std_firstName = Std_firstName
```

```
        self.Std_PhStd_Ph = Std_Ph
```

```
        self.Std_lastNameStd_lastName = Std_lastName
```

```
Std_firstName = "Wick"
```

```
name = Std_Name(Std_firstName, 'F', "Bob")
```

```
Std_firstName = "Ann"
```

```
name.lastName = "Nick"
```

```
print(name.Std_firstName, name.Std_lastName)
```

What will be the output of this statement?

- (A) Ann Bob
- (B) Ann Nick
- (C) Wick Bob
- ☒ (D) Wick Nick

84. The given Query can be replaced with _____

```
SELECT name  
FROM instructor1  
WHERE salary <= 100000 AND salary >= 90000;
```

- (A) SELECT name
FROM instructor1
WHERE salary BETWEEN 100000 AND 90000
- (B) SELECT name
FROM instructor1
WHERE salary BETWEEN 90000 AND 100000;
- ☒ (C) SELECT name
FROM instructor1
WHERE salary BETWEEN 90000 AND 100000;
- (D) SELECT name
FROM instructor1
WHERE salary <= 90000 AND salary >= 100000;

85. The processes that are residing in main memory and are ready and waiting to execute are kept on a list called:

- (A) job queue
- ☒ (B) ready queue
- (C) execution queue
- (D) process queue

86. Which of the following operation is used if we are interested in only certain columns of a table.

- ☒ (A) PROJECTION
- (B) SELECTION
- (C) UNION
- (D) JOIN

87. Which of the following statement is true?

- ☒ (A) DELETE does not free the space containing the table and TRUNCATE free the space containing the table.
- (B) Both DELETE and TRUNCATE free the space containing the table
- (C) Both DELETE and TRUNCATE does not free the space containing the table
- (D) DELETE free the space containing the table and TRUNCATE does not free the space containing the table

88. DNS Stands for

- ☒ (A) Domain Name System
- (B) Dynamic Network Service
- (C) Domain Network Service
- (D) Domain Network System

89. In Java, declaring a class abstract is useful

- (A) To prevent developers from further extending the class
- ☒ (B) When it doesn't make sense to have objects of that class
- (C) When default implementations of some methods are not desirable
- (D) To force developers to extend the class not to use its capabilities

90. Which class or interface defines the wait(), notify(), and notifyAll() methods?

- ☒ (A) Object
- (B) Class
- (C) Runnable
- (D) Thread

91. Which of the following operation cannot be performed on a Python string?
- (A) Deleting (B) Splitting
(C) Adding (D) Reassigning
92. The order in which test levels are performed is
- (A) Unit, integration, acceptance, system
(B) Unit, system, integration, acceptance
(C) Unit, integration, system, acceptance
(D) It depends on the nature of the project
93. The rule that a value of a foreign key must appear as a value of some specific table is called a
- (A) Referential constraint (B) Index
(C) Integrity constraint (D) Functional dependency
94. How can you make an email link in html?
- (A) <mail href +=xxx@y.com>
(B)
(C)
(D) (B) and (C)
95. Which of the following is not a JSON type?
- (A) date (B) Object
(C) Array (D) String

96. Create table student(name varchar, id integer) What type of statement is this?
(A) DDL (B) DML
(C) Query (D) SQL
97. What is the size of the host bits in class B of IP address?
(A) 8 (B) 16
(C) 64 (D) 32
98. In Java Iterator, has MoreElements() method of Enumeration has been changed to :
(A) hasNextElement() (B) isNext()
(C) hasNext() (D) name remains same
99. Which method causes the audio clip to replay continually?
(A) public void replay()
(B) public void loop()
(C) public void continue()
(D) none of the above
100. What will be the output of following Python code snippet?
for i in range(0, -2, -1): print(i)
(A) 0,-1 (B) 0,-1,-1
(C) -1,-2 (D) 0

101. Which of the following is incorrect?
- (A) X=0b101 (B) X=0x4f5
(C) X=19023 (D) X=03964
102. Which one of the following property scopes is not supported by PHP?
- (A) friendly (B) final
(C) public (D) static
103. A denial of service attack is
- (A) does not have to occur over a network
(B) can erase an entire website
(C) is an intentional attempt to overload a web server or web site
(D) all of the above
104. A graphical technique for finding if changes and variation in metrics data are meaningful is known as
- (A) DRE (Defect Removal Efficiency)
(B) Function points analysis
(C) Control Chart
(D) Control Flow Chart Inspection
105. Static analysis can be best described as
- (A) Reviewing of test plans (B) Analysis of batch programs
(C) Use of black box testing (D) Analysis of program code
106. You should choose sleep option when
- (A) The computer is tired after working for the whole day
(B) When you computer gets hanged frequently
(C) You are leaving for a very short time and want to resume you work shortly
(D) You finish your work and go to sleep

107. Which-one of the following statements about normal forms is FALSE?
- (A) BCNF is stricter than 3 NF
 - (B) Lossless, dependency – preserving decomposition into 3 NF is always possible
 - ☒ (C) Loss less, dependency – preserving decomposition into BCNF is always possible
 - (D) Any relation with two attributes is BCNF
108. An instance of relational schema R (A, B, C) has distinct values of A, including NULL values. Which one of the following is true?
- (A) Combination of Union and Cartesian product
 - ☒ (B) A is not a candidate key
 - (C) A is primary key
 - (D) Both (A) and (C)
109. Assume that an HTML form is designed to purchase the furniture. All the items required are being checked. After selecting the items the payment details are entered and the submit button is pressed. From the following options which one would you prefer to send the data to the server. Assume that all the security is handled.
- (A) Only POST
 - (B) Only GET
 - ☒ (C) Either GET or POST
 - (D) Neither GET nor POST
110. A new web browser window can be opened using which method of the window object?
- (A) Createtab()
 - ☒ (B) Window.open()
 - (C) Open()
 - (D) All of the above
111. Which statement(S) is/are incorrect?
- (A) Stored procedure may return a value and function must return a value
 - (B) Function has only IN parameter
 - ☒ (C) Try and Catch can be used with both stored procedure and function
 - (D) Stored procedure has IN and OUT parameter

112. Which three situations might require multiple routing protocols in a network?
- (a) When a new Layer 2-only switch is added to the network
 - (b) When you are migrating from one routing protocol to another
 - (c) When you are using routers from multiple vendors
 - (d) When there are host-based routers from multiple vendors
- (A) (a), (c), (d) (B) (b), (c), (d)
 (C) (a), (b), (d) (D) (a), (b), (c)
113. Which kind of undesirable factors are generated due to an acknowledgement process of transmission and reception of messages in any reliable services?
- (a) Overheads
 - (b) Delays
 - (c) Errors
 - (d) Interference
- (A) (a) & (b) (B) (b) & (c)
 (C) (c) & (d) (D) (b) & (d)
114. Which Map class in Java should be most popular in a multi-threading environment, considering performance constraint?
- (A) Hashtable (B) CopyonWriteMap
 (C) ConcurrentHashMap (D) ConcurrentMap
115. Which of the following is/are the right way to declare a method?
- (i) function functionName() { function body }
 - (ii) scope function functionName() { function body }
 - (iii) method methodName() { method body }
 - (iv) scope method methodName() { method body }
- (A) Only (ii) (B) Only (iv)
 (C) (i) and (ii) (D) (iii) and (iv)
116. Which of the following is not a white box technique?
- (A) State transition testing (B) Path testing
 (C) Statement testing (D) Data flow testing

117. The types of communication media used to connect different computers of a network are
- (A) Physical wires
 - (B) Wireless media like RF (Radio Frequency) devices
 - ☒ (C) Both (A) and (B)
 - (D) None
118. Banker's algorithm is used
- ☒ (A) To prevent deadlock
 - (B) To deadlock recovery
 - (C) To solve the deadlock
 - (D) None of these
119. Which of the following is known as the generic class?
- (A) Final class
 - ☒ (B) Template class
 - (C) Abstract class
 - (D) Efficient code
120. XML digital signatures provides
- ☒ (A) Authentication
 - (B) Authorization
 - (C) Integrity
 - (D) Confidentiality
121. String testing is another name for
- (A) Unit testing
 - ☒ (B) Integration testing
 - (C) Manual testing
 - (D) Atomation testing
122. Javascript classes can be initiated using which operator?
- (A) create
 - ☒ (B) new
 - (C) instantiate
 - (D) Create.new
123. Which of the following css properties can be used to align an element horizontally & vertically?
- (A) align-items: center; display: block;
 - (B) text-align: center; align-items: center; display: flex;
 - (C) align-items: center: text-align: justify;
 - ☒ (D) justify-content: center; align-items: center; display: flex

124. Which of the following protocol the Webservice supports?
(A) HTTP (B) HTTPS
(C) TCP/IP (D) FTP
125. Python is not a _____ language.
(A) Extensible (B) Object-Oriented
(C) Dynamically typed (D) Compiled
126. Which of the following ACID property ensures that multiple transactions can occur concurrently without leading to the inconsistency of database state.
(A) Atomicity (B) Consistency
(C) Isolation (D) Durability
127. Of the following data structures, which has a Last In First Out ordering? In other words, the one that came in last will be the first to be popped
(A) Queue (B) Stack
(C) Vector (D) Array List
128. Which of the following selector in CSS is used to select the elements that do not match the selectors?
(A) :! selector (B) :not selector
(C) :empty selector (D) None of the above
129. A distributed network configuration in which all data/information pass through a central computer is
(A) Bus network (B) Star network
(C) Ring network (D) Point-to-point network
130. File _____ shrinks the size of a file so it requires less storage space.
(A) Compression (B) Defragmenting
(C) Synthesizing (D) Scanning

131. A hash function guarantees the integrity of a message. It guarantees that the message has not been
- (A) Replaced
 - ☒ (C) Changed
 - (B) Overviewed
 - (D) Violated
132. Which of the following refers to internal software equality?
- (A) Scalability
 - ☒ (B) Reusability
 - (C) Reliability
 - (D) Usability
133. Which of the following is an incorrect activity for the configuration management of a software system?
- (A) Change management
 - ☒ (C) Internship management
 - (B) System management
 - (D) Version management
134. The term "TCL" stands for
- (A) Ternary Control Language
 - (B) Transmission Control Language
 - (C) Transaction Central Language
 - ☒ (D) Transaction Control Language
135. Which of the following is not part of the Test document?
- (A) Test Case
 - (B) Requirements Traceability Matrix [RTM]
 - (C) Test strategy
 - ☒ (D) Project Initiation Note [PIN]
136. Which of the following is a configuration item?
- (A) Design & Test specification
 - (B) Source code
 - (C) Log information
 - ☒ (D) All of the above

137. How to select the elements with the class name 'example'?

- (A) example
- (B) #example
- (C) .example
- (D) Class example

138. How can you open a link in a new browser window?

- (A)
- (B)
- (C)
- (D)

139. Which of the following statements is false about event handlers in JavaScript?

- (A) They can be included with input tags
- (B) They can be associated with end of file processing for a database application
- (C) They can be included with the form tag
- (D) They are generally used to call functions when triggered

140. Which character is used in Python to make a single line comment?

- (A) /
- (B) //
- (C) #
- (D) !

141. How many layers are there in the OSI reference model of networking?

- (A) 5
- (B) 6
- (C) 7
- (D) 8

142. Which one of the following is not a maintenance model?
- ☒ (A) Waterfall model (B) Reuse-oriented model
(C) Iterative enhancement model (D) Quick fix model
143. The SQL used by front-end application programs to request data from the DBMS is called
- ☒ (A) DML (B) DDL
(C) VDL (D) SDL
144. We indicate roles in E-R diagrams by labeling the lines that connect _____ to _____
- (A) Diamond, Diamond (B) Rectangle, Diamond
(C) Rectangle, Rectangle ☒ (D) Diamond, Rectangle
145. Which two features of object-oriented programming are the same?
- (A) Abstraction and Polymorphism features are the same
(B) Inheritance and Encapsulation features are the same
(C) Encapsulation and Polymorphism features are the same
☒ (D) Encapsulation and Abstraction features are the same
146. Writing and maintaining unit tests can be made faster by using
- ☒ (A) Parameterized tests (B) Traditional unit tests
(C) Test invariant conditions (D) Closed methods

147. Which of the following is true of nosql databases?
- (A) They do not support very large amounts of sparse data
 - (B) They do not support distributed database architectures
 - ☒ (C) They are not based on the relational model
 - (D) They are geared toward transaction consistency rather than performance
148. Which of the following method is only used to update resource?
- (A) POST
 - (B) PUT
 - ☒ (C) PATCH
 - (D) All the above
149. Which html tag allows the user to Zoom in or out in web page?
- ☒ (A) User-scalable
 - (B) Min-scalable
 - (C) Max-scalable
 - (D) Initial-scalable
150. MS Excel Lookup syntax
- (A) Lookup Value, Table Array, Column to Return, Approximate Match [True/False]
 - (B) Lookup Value, Lookup Array, Approximate Match [True/False]
 - ☒ (C) Lookup Value, Lookup Array, Value to Return Array
 - (D) Lookup Value, Table Array, Column to Return

SPACE FOR ROUGH WORK

SPACE FOR ROUGH WORK

A

37

MHAP 1746

[Turn over

[CLICK TO JOIN 150-HOURS FREE CLASS\(9626699743\)](#)
Er.THANGAMUTHU IPS ACADEMY

SPACE FOR ROUGH WORK

SPACE FOR ROUGH WORK

7. Each question has four responses (A) (B) (C) and (D). You have to select ONLY ONE correct answer in the OMR Answer Sheet. In case you feel that there are more than one correct answers, mark only the answer which you consider the most appropriate. In any case, choose ONLY ONE answer for each question. E.g., If for any question, B is the correct answer, you have to shade as follows:

(A) ● (C) (D)

8. The Question Booklet is printed in four series viz., (A), (B), (C) & (D). The name of the series is printed on the top of the Question Booklet. Mark and shade your correct Question Booklet series (A) / (B) / (C) / (D) carefully in the OMR answer sheet by darkening the appropriate circle without fail. In case of any wrong entry of Booklet series or discrepancy in determining the exact booklet series, then, in all cases your Answer Sheet will be invalidated.
9. You should not remove or tear off any sheet from the Question Booklet. You are not allowed to take the Question Booklet and the Answer Sheet out of the Examination Hall during the time of examination. You are permitted to take the Question Booklet only after the Examination is completed.
10. Do not write anything in the Question Booklet, except in the space provided for Rough work.
11. Failure to comply with any of the above instructions will render you liable for action or penalty as the High Court may decide at its discretion.
12. Using Whitener / Blade / Eraser or any kind of tampering to change the answers on OMR answer sheet will lead to invalidation.
13. PART C is set in both English and Tamil. If there is any inconsistency between English and Tamil version, English version shall prevail.



தமிழ்நாட்டின் நீதித்துறையில் சுகாதார பணியாளர் உள்ளிட்ட பணிமிடங்களுக்கு 01.08.2021 (ஞாயிற்றுக்கிழமை) நடைபெற்ற எழுத்துத் தேர்வின் உத்தேச விடைகள்.

அறிவிக்கை எண்கள், 60, 62, 64, 66, 68, 70, 72, 74, 76, 78, 80, 82, 84, 86, 88, 90, 92, 94, 96, 98, 100, 102, 104, 106, 108, 110, 112, 114, 116, 118, 120 & 122/2021, தேதி 18.04.2021)

தமிழ்நாட்டில் உள்ள கீழமை நீதிமன்றங்களில் சுகாதார பணியாளர் உள்ளிட்ட பணிமிடங்களுக்கு 01.08.2021 (ஞாயிற்றுக்கிழமை) நடைபெற்ற எழுத்துத் தேர்வின் வினாத்தொகுப்பு (A வரிசை) குறிக்கப்பட்ட உத்தேச விடைகள் பதிவேற்றம் செய்யப்பட்டுள்ளது.

உயர்நீதிமன்ற இணையதளத்தில் வெளியிடப்பட்டுள்ள உத்தேச விடைகளில் ஏதேனும் ஆட்சேபனை இருப்பின் அதுகுறித்து மனுவில் வினா எண், வினாத்தொகுப்பின் எண் மற்றும் விடை ஆகியவற்றை குறிப்பிட்டு வெளியிடப்பட்ட தேதியிலிருந்து இரண்டு நாட்களுக்குள் சென்னை உயர்நீதிமன்ற நீதித்துறை ஆட்சேர்ப்பு பிரிவின் மின்னஞ்சல் (recruitment.mhc@gov.in) என்ற முகவரிக்கு அனுப்ப வேண்டும். இவ்வாறு அனுப்பப்படும் மனுவில் தேர்வாளருடைய பதிவு எண், பெயர், முகவரி, வினா எண் மற்றும் அதற்கான தேர்வர்களின் விடை உரிய ஆதாரத்துடன் குறிப்பிடப்பட்டிருக்க வேண்டும். உத்தேச விடைகள் வெளியிடப்பட்ட தேதியிலிருந்து இரண்டு நாட்களுக்குப் பிறகு பெறப்படும் ஆட்சேபனை அல்லது மேலே குறிப்பிட்டுள்ள விவரங்கள் குறிப்பிடப்படாமல் அனுப்பப்படும் ஆட்சேபனை பரிசீலனைக்கு எடுத்துக் கொள்ளப்படமாட்டாது.

ஓம்/-

பதிவாளர் (ஆட்சேர்ப்பு பிரிவு)

தேதி : 09.08.2021

இடம் : உயர்நீதிமன்றம், மெட்ராஸ்.

CLICK TO JOIN 150-HOURS FREE CLASS(9626699743)
Er.THANGAMUTHU IPS ACADEMY



**PROPOSED KEY ANSWERS FOR THE
WRITTEN EXAMINATION CONDUCTED ON
01.08.2021(SUNDAY) FOR THE POSTS OF SANITARY WORKER,
ETC., IN THE JUDICIAL DISTRICTS OF TAMIL NADU**

**(Notification Nos. 60, 62, 64, 66, 68, 70, 72, 74, 76, 78, 80, 82, 84,
86, 88, 90, 92, 94, 96, 98, 100, 102, 104, 106, 108, 110, 112, 114, 116,
118, 120 and 122/2021, dated 18.04.2021)**

The proposed key answers, marked in the Question Booklet (A-Series), for the written examination conducted on 01.08.2021 (Sunday) for the posts of 'Sanitary worker, etc.,' in the Judicial Districts of Tamil Nadu are hosted herewith.

Any objection with regard to any of the proposed key answer should be sent by the candidates to the Registrar (Recruitment), High Court, Madras, by e-mail (recruitment.mhc@gov.in) within two days from today. In such communication, Registration Number, Name and address of the candidate, Question Number and answer for such question, according to the candidate, with supporting material for such claim, should invariably be quoted. Any representation received after two days or without any of the above requisite particulars will receive no attention.

Dated: 09.08.2021.
Place : High Court, Madras.

Sd/- xxx.
Registrar (Recruitment)

**CLICK TO JOIN 150-HOURS FREE CLASS(9626699743)
Er.THANGAMUTHU IPS ACADEMY**

DJOAM21

Booklet Series :

A

வினாத்தொகுப்பு எண்

337237

பதிவு எண்

| | | | | | | | | | |
|--|--|--|--|--|--|--|--|--|--|
| | | | | | | | | | |
|--|--|--|--|--|--|--|--|--|--|

அனுமதிக்கப்பட்டுள்ள நேரம் : 60 நிமிடங்கள்
(1 மணி நேரம்)

மொத்த மதிப்பெண்கள் : 50

வினாக்களுக்கு பதிலளிக்கும் முன் கீழ்க்கண்ட அறிவுரைகளை கவனமாகப் படிக்கவும்

1. இந்த வினாத் தொகுப்பு தேர்வு தொடங்குவதற்கு 10 நிமிடங்களுக்கு முன்னதாக விண்ணப்பதாரர்களுக்கு வழங்கப்படும்.
2. இந்த வினாத் தொகுப்பு 50 வினாக்களைக் கொண்டுள்ளது. விடையளிக்க தொடங்கும் முன் இவ்வினாத் தொகுப்பில் எல்லா வினாக்களும் வரிசையாக இடம் பெற்றுள்ளனவா என்பதையும், இடையில் ஏதும் வெற்றுத்தாள்கள் உள்ளனவா என்பதையும் சரிபார்த்துக் கொள்ளவும். ஏதேனும் குறைபாடு இருப்பின், அதனை தேர்வு தொடங்குவதற்கு முன்பு அறைகண்காணிப்பாளரிடம் தெரிவித்து, சரியாக உள்ள வேறொரு வினாத் தொகுப்பினை பெற்றுக் கொள்ள வேண்டும். தேர்வு தொடங்கிய பின்பு, முறையிட்டால் வினாத் தொகுப்பு மாற்றித் தரப்படமாட்டாது.
3. பகுதி (அ) மற்றும் (ஆ)-ல் (Part A and Part B) உள்ள எல்லா வினாக்களும் சமமான மதிப்பெண்கள் கொண்டவை. ஒவ்வொரு சரியான விடைக்கும் தலா ஒரு மதிப்பெண் வழங்கப்படும். தவறான விடைக்கு மதிப்பெண் குறைக்கப்படமாட்டாது. (No Negative Mark)
4. உங்களுடைய பதிவு எண்ணை இந்தப் பக்கத்தின் வலது மேல் மூலையில் அதற்கென அமைந்துள்ள இடத்தில் எழுத வேண்டும். வேறு எதையும் வினாத் தொகுப்பில் எழுதக் கூடாது.
5. விடைகளை குறித்துக்காட்ட OMR விடைத்தாள் ஒன்று உங்களுக்கு அறைக் கண்காணிப்பாளரால் தரப்படும்.

மீதமுள்ள அறிவிக்கைகளை இறுதி பக்கம் பார்க்கவும்.

SEAL

CLICK TO JOIN 150-HOURS FREE CLASS(9626699743)
Er.THANGAMUTHU IPS ACADEMY

பகுதி அ

1. எந்த மிருகம் தாவரம் மற்றும் மற்ற விலங்குகளை உண்ணும்?
(A) கரடி (B) எருமை
(C) ஓநாய் (D) ஒட்டகச்சிவிங்கி
2. ஒரு நபர் ஒரு நாளைக்கு குறைந்தபட்சம் எத்தனை டம்ளர் தண்ணீர் குடிக்க வேண்டும்?
(A) 11 (B) 7
(C) 8 (D) 12
3. இந்தியா எப்போது சுதந்திரம் அடைந்தது?
(A) 26.1.1950 (B) 26.8.1947
(C) 15.8.1947 (D) 15.8.1950
4. உலகில் எத்தனை கண்டங்கள் இருக்கிறது?
(A) 9 (B) 7
(C) 6 (D) 5
5. இந்தியாவின் தலைநகரம் எது?
(A) மும்பை (B) சென்னை
(C) புது டெல்லி (D) கல்கத்தா
6. வானவில்லில் எத்தனை நிறங்கள் இருக்கிறது?
(A) 5 (B) 6
(C) 7 (D) 8
7. கூடுகளில் வாழாத உயிரினம் எது?
(A) வவ்வால் (B) காகம்
(C) கிளி (D) புறா

8. சிங்கம் கரடி குரங்கு -
மேற்கண்ட விலங்குகளின் பொதுவான குணம் என்ன?
- (A) அந்த விலங்குகள் பழம் மற்றும் கொட்டைகளை உண்ணும்
(B) அந்த விலங்குகளை மற்ற விலங்குகள் வேட்டையாடித் தின்னும்
(C) அந்த விலங்குகள் வீட்டு விலங்குகள்
(D) அந்த விலங்குகள் வீடு கட்டிக் கொள்ளாது. அது தங்குவதற்கு ஏதேனும் ஒரு இடத்தை தேடும்
9. கீழ்க்கண்டவற்றில் எது மதம் சம்பந்தப்பட்ட விழா இல்லை?
- (A) காந்தி ஜெயந்தி (B) தீபாவளி
(C) ஈத் (D) கிறிஸ்துமஸ்
10. கீழ்க்கண்டவற்றில் எதற்கு கால்கள் இல்லை?
- (A) எறும்பு (B) வண்ணத்துப்பூச்சி
(C) பல்லி (D) மண்புழு
11. நாம் சாப்பிடும்போது கீழ்க்கண்டவற்றில் எதை செய்யக்கூடாது?
- (A) வாயை மூடிக்கொண்டு உணவை உண்ண வேண்டும்
(B) உணவை மெதுவாக மெல்லவேண்டும்
(C) பேசுவதை தவிர்க்க வேண்டும்
(D) வாய் முழுவதும் உணவால் நிரப்ப வேண்டும்
12. ஜூலை மாதம் _____ க்கு பின்பும் _____ க்கு முன்பும் வரும்.
- (A) ஜூன், மே (B) ஆகஸ்ட், மே
(C) ஆகஸ்ட், ஜூன் (D) ஜூன், ஆகஸ்டு
13. ரூபாய் 55 விலையில் உள்ள ஒரு கிளியை வாங்க _____ பத்து ரூபாய் நோட்டுக்கள் _____ இரண்டு ரூபாய் நாணயம் _____ ஒரு ரூபாய் நாணயம் தேவைப்படும்.
- (A) 5, 2, 1 (B) 6, 3, 1
(C) 5, 0, 5 (D) 5, 1, 2
14. ஒட்டுரிமைக்குரிய வயது
- (A) 21 (B) 25
(C) 18 (D) 20

15. மிகவும் வேகமாக ஓடக்கூடிய விலங்கு எது?
- (A) சிங்கம் (B) புலி
(C) சீட்டா (D) மான்
16. இந்திய அரசியலமைப்பு சட்டத்தின் தந்தை
- (A) அம்பேத்கர் (B) மஹாத்மா காந்தி
(C) வல்லபாய் பட்டேல் (D) லஜபதிராய்
17. இந்தியாவின் முதல் பிரதமர்
- (A) இந்திரா காந்தி (B) நேரு
(C) லால் பகதூர் சாஸ்திரி (D) மொரார்ஜி தேசாய்
18. ஒரு வாரத்தில் எத்தனை நாட்கள் இருக்கிறது?
- (A) 7 (B) 8
(C) 9 (D) 5
19. உன்னுடைய தாயின் சகோதரி உனக்கு ————— முறை வேண்டும்.
- (A) அத்தை (B) மாமியார்
(C) பாட்டி (D) சித்தி
20. கிரிக்கெட் விளையாட்டில் ஒரு அணிக்கு எத்தனை வீரர்கள் இருப்பார்கள்?
- (A) 13
(B) 12
(C) 11
(D) மேற்கண்ட எதுவும் இல்லை

21. பேருந்துகளில் உள்ள முதலுதவி பெட்டி எந்த நிறத்தில் இருக்கும்?

(A) வெள்ளை

(B) நீலம்

(C) கருப்பு

(D) சிவப்பு

22. கீழ்க்கண்டவற்றில் எது அனைத்துண்ணி?

(A) நாய்

(B) குரங்கு

(C) புலி

(D) காண்டாமிருகம்

23. ஒரு ஜோக்கர் கொண்ட ஒரு சீட்டு கட்டில் எத்தனை சீட்டுகள் இருக்கும்?

(A) 52

(B) 53

(C) 54

(D) 45

24. விஸ்வநாதன் ஆனந்த் எந்த விளையாட்டுடன் தொடர்புடையவர்?

(A) கிரிக்கெட்

(B) கால்பந்து

(C) பேட்மிட்டன்

(D) செஸ்

25. கங்காரு எந்த நாட்டில் அதிகமாக இருக்கிறது?

(A) தென்னாப்பிரிக்கா

(B) இலங்கை

(C) நார்வே

(D) ஆஸ்திரேலியா

26. தாவரங்கள் எதன் மூலம் தனது உணவை தயாரித்துக் கொள்ளும்?

(A) மகரந்தசேர்க்கை

(B) ஒளிச்சேர்க்கை

(C) பழச்சேர்க்கை

(D) மேற்கண்ட எதுவுமில்லை

27. தாஜ்மஹாலை கட்டியவர் யார்?

(A) ஷாஜஹான்

(B) மாலிக்

(C) அக்பர்

(D) பாபர்

28. தமிழகத்தின் தற்போதைய முதலமைச்சர்

(A) பழனிச்சாமி

(B) பன்னீர்செல்வம்

(C) ஸ்டாலின்

(D) கருணாநிதி

29. ஒரு வருடத்தில் எத்தனை மாதங்களில் 31 நாட்கள் இருக்கும்?

(A) 6

(B) 7

(C) 8

(D) 5

30. லீப் வருடத்தில் _____ நாட்கள்.

(A) 365

(B) 366

(C) 364

(D) 367

பகுதி ஆ

31. எந்த நாளில் குழந்தைகள் தினம் கொண்டாடப்படுகிறது?
(A) ஜூலை 25 (B) ஆகஸ்ட் 23
(C) பிப்ரவரி 5 (D) நவம்பர் 14
32. கல்லணையைக் கட்டியவர் யார்?
(A) ராஜேந்திர சோழன் (B) ராஜராஜ சோழன்
(C) கரிகாலன் (D) சுந்தர சோழன்
33. திருக்குறளில் எத்தனை அதிகாரங்கள் இருக்கிறது?
(A) 1330 (B) 133
(C) 3 (D) மேற்கண்ட எதுவுமில்லை
34. சிலப்பதிகாரத்தை எழுதியவர்
(A) கம்பர் (B) சீத்தலைச் சாத்தனார்
(C) இளங்கோவடிகள் (D) வியாசர்
35. உயிரெழுத்துக்கள் எத்தனை?
(A) 18 (B) 216
(C) 247 (D) 12
36. திருமலை திருப்பதி எந்த மாநிலத்தில் இருக்கிறது?
(A) கர்நாடகா (B) புதுச்சேரி
(C) ஆந்திரா (D) தெலுங்கானா
37. இட்லி மாவு அரைப்பதற்கு தேவைப்படும் பொருட்கள்
(A) உளுந்து, அரிசி (B) அரிசி, கோதுமை
(C) உளுந்து, கடலைப்பருப்பு (D) அரிசி, துவரம்பருப்பு
38. நல்ல முட்டையை எவ்வாறு கண்டறிவது?
(A) நல்ல முட்டை நீரில் மிதக்கும்
(B) நல்ல முட்டை நீரில் மூழ்கும்
(C) கெட்ட முட்டை நீரில் சூழலும்
(D) நல்ல முட்டையா அல்லது கெட்ட முட்டையா என்று கண்டறிய முடியாது

39. சங்கம் வைத்து தமிழ் வளர்த்த ஊர் எது?

(A) சிதம்பரம்

(B) சேலம்

(C) சென்னை

(D) மதுரை

40. நல்லெண்ணை எதிலிருந்து தயாரிக்கப்படுகிறது?

(A) வேர்கடலை

(B) சூர்யகாந்தி

(C) எள்

(D) ஆமணக்கு

41. பாம்பன் பாலம் எந்த மாவட்டத்தில் இருக்கிறது?

(A) நாகபட்டினம்

(B) சென்னை

(C) திருச்சி

(D) இராமநாதபுரம்

42. கப்பலோட்டிய தமிழன்

(A) சிதம்பரனார்

(B) வாஞ்சிநாதன்

(C) குமரன்

(D) அரவிந்த்

43. பொருத்துக.

(a) ஆத்திசூடி

1. வியாசர்

(b) திருக்குறள்

2. கல்கி

(c) பார்த்திபன் கனவு

3. வள்ளுவர்

(d) மகாபாரதம்

4. ஒளவையார்

(a) (b) (c) (d)

(A) 2 3 4 1

(B) 3 2 4 1

(C) 4 3 2 1

(D) 4 1 3 2

44. ஓடி விளையாடு பாப்பா என்ற பாடலை எழுதியவர்

(A) பாரதிதாசன்

(B) பாரதியார்

(C) சந்தானபாரதி

(D) பாரதி பாஸ்கர்

45. ராமரின் மனைவி
 (A) பாஞ்சாலி (B) மண்டோதரி
 (C) சூர்ப்பநகை (D) மேற்கண்ட எவருமில்லை
46. பொதுவாக காய்கறிகளை
 (A) வெட்டி கழுவவேண்டும்
 (B) கழுவிவெட்ட வேண்டும்
 (C) கழுவத் தேவையில்லை
 (D) வெட்டுவதற்கு ஒரு நாளுக்கு முன்னர் நீரில் ஊற வைக்க வேண்டும்
47. பாத்திரங்களை கழுவும் போது
 (A) குழாயின் தண்ணீரை வேகமாக திறந்துவிட்டு கழுவ வேண்டும்
 (B) குழாயின் தண்ணீரை மெதுவாக திறந்துவிட்டு கழுவ வேண்டும்
 (C) வானியில் தண்ணீரை எடுத்து வைத்து கழுவ வேண்டும்
 (D) மேற்கண்ட எதுவுமில்லை
48. பொருத்துக.
 (a) தூத்துக்குடி 1. முறுக்கு
 (b) மணப்பாறை 2. நாய்
 (c) ராஜபாளையம் 3. பாய்
 (d) பத்தமடை 4. முத்து
- | | (a) | (b) | (c) | (d) |
|-----|-----|-----|-----|-----|
| (A) | 4 | 3 | 2 | 1 |
| (B) | 4 | 2 | 1 | 3 |
| (C) | 4 | 2 | 3 | 1 |
| (D) | 4 | 1 | 2 | 3 |
49. தகவல் தொடர்பு முன்னேற்றத்தால் _____ சுருங்கி விட்டது.
 (A) காற்று (B) மழை
 (C) உலகம் (D) விலை
50. உச்ச நீதிமன்றம் எங்கே இருக்கிறது?
 (A) மும்பை (B) கல்கத்தா
 (C) பாட்னா (D) டெல்லி

6. உங்களுடைய வினாத்தொகுப்பு எண் (Question Booklet Number) மற்றும் அதன் வரிசையை விடைத்தாளின் முதல் பக்கத்தில் அதற்கென அமைந்துள்ள இடத்தில் நீலம் அல்லது கருமை நிற மையுடைய பந்துமுனைப் பேனாவினால் குறித்துக் காட்ட வேண்டும். மேற்கண்டவற்றை விடைத்தாளில் நீங்கள் குறித்துக் காட்டத் தவறினால் அறிவிக்கையில் குறிப்பிட்டுள்ளவாறு நடவடிக்கை மேற்கொள்ளப்படும்.

7. ஒவ்வொரு வினாவும் (A), (B), (C) மற்றும் (D) என நான்கு விடைகளைக் கொண்டுள்ளது. நீங்கள், அவைகளில் ஒரே ஒரு சரியான விடையைத் தேர்வு செய்து விடைத்தாளில் குறித்துக் காட்ட வேண்டும். ஒன்றுக்கு மேற்பட்ட சரியான விடைகள் ஒரு கேள்விக்கு இருப்பதாகக் கருதினால் நீங்கள் மிகச் சரியானது என்று எதைக் கருதுகிறீர்களோ அந்த விடையைத்தான் விடைத்தாளில் குறித்துக் காட்ட வேண்டும். எப்படியாயினும் ஒரு கேள்விக்கு ஒரே ஒரு விடையைத்தான் தேர்ந்தெடுக்க வேண்டும்.

8. விடைத்தாளில் ஒவ்வொரு கேள்வி எண்ணிற்கும் எதிரில் (A), (B), (C) மற்றும் (D) என நான்கு வட்டங்கள் உள்ளன. ஒரு கேள்விக்கு விடையளிக்க நீங்கள் சரியென கருதும் விடையை ஒரே ஒரு வட்டத்தில் மட்டும் நீலம் அல்லது கருமை நிற மையுடைய பந்து முனைப் பேனாவினால் குறித்துக் காட்ட வேண்டும். ஒவ்வொரு கேள்விக்கும் ஒரு விடையைத் தேர்ந்தெடுத்து விடைத்தாளில் குறிக்க வேண்டும். ஒரு கேள்விக்கு ஒன்றுக்கு மேற்பட்ட விடையளித்தால் அதில் ஒன்று சரியாக இருந்தாலும் அந்த விடை தவறானதாகக் கருதப்படும். உதாரணமாக நீங்கள் (C) என்பதை சரியான விடையாகக் கருதினால் அதை பின்வருமாறு குறித்துக் காட்ட வேண்டும்.

(A) (B) (C) (D)

9. நீங்கள் வினாத் தொகுப்பின் எந்தப் பக்கத்தையும் நீக்கவோ அல்லது கிழிக்கவோ கூடாது. தேர்வு நேரத்தில் இந்த வினாத் தொகுப்பினையோ அல்லது விடைத்தாளையோ தேர்வுக் கூடத்தை விட்டு வெளியில் எடுத்துச் செல்லக்கூடாது. தேர்வு முடிந்தபின் நீங்கள் உங்களுடைய விடைத்தாளைக் கண்காணிப்பாளரிடம் கொடுத்து விட வேண்டும். இவ்வினாத் தொகுப்பினைத் தேர்வு முடிந்தவுடன் நீங்கள் உங்களுடன் எடுத்துச் செல்லலாம்.

10. குறிப்புகள் எழுதிப் பார்ப்பதற்கு வினாத் தொகுப்பின் கடைசிப் பக்கத்திற்கு முன்பக்கத்தை உபயோகித்துக் கொள்ளலாம்.



**PROPOSED KEY ANSWERS FOR THE
COMMON WRITTEN EXAMINATION CONDUCTED ON
28.08.2021 (SATURDAY) FOR THE POSTS OF CHOB DAR, OFFICE
ASSISTANT, ETC., IN THE MADRAS HIGH COURT SERVICE**

(Notification No. 36/2021, dated 14.03.2021)

The proposed key answers, marked in the Question Booklet (A-Series), for the Common Written Examination conducted on 28.08.2021 (Saturday) for the posts of 'Chobdar, Office Assistant, etc.,' in the Madras High Court Service are hosted herewith.

Any objection with regard to any of the proposed key answer should be sent by the candidates to the Registrar (Recruitment), High Court, Madras, by e-mail through mhcjrcoa2021@gmail.com only by 11.59 P.M. of 05.09.2021. In such communication, Registration Number, Name and Address of the Candidate, Question Number and answer for such question according to the candidate with supporting material for such claim, should invariably be quoted. Any objection received after 11.59 P.M. of 05.09.2021 or without any of the above requisite particulars will receive no attention.

Dated: 03.09.2021.
Place : High Court, Madras.

Sd/-
Registrar (Recruitment).

**CLICK TO JOIN 150-HOURS FREE CLASS(9626699743)
Er.THANGAMUTHU IPS ACADEMY**



மெட்ராஸ் உயர்நீதிமன்றத்தில் சோப்தார், அலுவலக உதவியாளர், உள்ளிட்ட

பணியிடங்களுக்கு 28.08.2021 (சனிக்கிழமை) நடைபெற்ற

பொது எழுத்துத் தேர்வின் உத்தேச விடைகள்

(அறிவிக்கை எண்.36/2021, தேதி 14.03.2021)

மெட்ராஸ் உயர்நீதிமன்றத்தில் சோப்தார், அலுவலக உதவியாளர், உள்ளிட்ட பணியிடங்களுக்கு 28.08.2021 (சனிக்கிழமை) நடைபெற்ற பொது எழுத்துத் தேர்வின் வினாத்தொகுப்பு (A-வரிசை) குறிக்கப்பட்ட உத்தேச விடைகள் பதிவேற்றம் செய்யப்பட்டுள்ளது.

மெட்ராஸ் உயர்நீதிமன்ற இணையதளத்தில் வெளியிடப்பட்டுள்ள உத்தேச விடைகளில் ஏதேனும் ஆட்சேபனை இருப்பின் அதுகுறித்து மனுவில் வினா எண், வினாத்தொகுப்பின் எண் மற்றும் விடை ஆகியவற்றை குறிப்பிட்டு சென்னை உயர்நீதிமன்ற நீதித்துறை ஆட்சேர்ப்பு பிரிவின் mhcjrcoa2021@gmail.com-என்ற மின்னஞ்சல் முகவரிக்கு 05.09.2021 அன்று இரவு 11.59 மணிக்குள் அனுப்ப வேண்டும். இவ்வாறு அனுப்பப்படும் மின்னஞ்சலில் தேர்வாளருடைய பதிவு எண், பெயர், முகவரி, வினா எண் மற்றும் அதற்கான தேர்வர்களின் விடை உரிய ஆதாரத்துடன் குறிப்பிடப்பட்டிருக்க வேண்டும். 05.09.2021 அன்று இரவு 11.59 மணிக்கு மேல் பெறப்படும் ஆட்சேபனை அல்லது மேலே குறிப்பிட்டுள்ள விவரங்கள் குறிப்பிடப்படாமல் அனுப்பப்படும் ஆட்சேபனை பரிசீலனைக்கு எடுத்துக் கொள்ளப்படமாட்டாது.

தேதி: 03.09.2021.

இடம்: உயர்நீதிமன்றம், மெட்ராஸ்.

ஓம்/-

பதிவாளர்(ஆட்சேர்ப்பு பிரிவு)

CLICK TO JOIN 150-HOURS FREE CLASS(9626699743)
Er.THANGAMUTHU IPS ACADEMY

HCOA21

Booklet Series :

A

வினாத்தொகுப்பு எண்

405377

பதிவு எண்

| | | | | | | | | | |
|--|--|--|--|--|--|--|--|--|--|
| | | | | | | | | | |
|--|--|--|--|--|--|--|--|--|--|

அனுமதிக்கப்பட்டுள்ள நேரம் : 75 நிமிடங்கள்
(1.15 மணி நேரம்)

மொத்த மதிப்பெண்கள் : 50

‘ வினாக்களுக்கு பதிலளிக்கும் முன் கீழ்க்கண்ட அறிவுரைகளை கவனமாகப் படிக்கவும்

1. இந்த வினாத் தொகுப்பு தேர்வு தொடங்குவதற்கு 10 நிமிடங்களுக்கு முன்னதாக விண்ணப்பதாரர்களுக்கு வழங்கப்படும்.
2. இந்த வினாத் தொகுப்பு 50 வினாக்களைக் கொண்டுள்ளது. விடையளிக்க தொடங்கும் முன் இவ்வினாத் தொகுப்பில் எல்லா வினாக்களும் வரிசையாக இடம் பெற்றுள்ளனவா என்பதையும், இடையில் ஏதும் வெற்றுத்தாள்கள் உள்ளனவா என்பதையும் சரிபார்த்துக் கொள்ளவும். ஏதேனும் குறைபாடு இருப்பின், அதனை தேர்வு தொடங்குவதற்கு முன்பு அறைகண்காணிப்பாளரிடம் தெரிவித்து, சரியாக உள்ள வேறொரு வினாத் தொகுப்பினை பெற்றுக் கொள்ள வேண்டும். தேர்வு தொடங்கிய பின்பு, முறையிட்டால் வினாத் தொகுப்பு மாற்றித் தரப்படமாட்டாது.
3. பகுதி (அ) மற்றும் (ஆ)-ல் (Part A and Part B) உள்ள எல்லா வினாக்களும் சமமான மதிப்பெண்கள் கொண்டவை. ஒவ்வொரு சரியான விடைக்கும் தலா ஒரு மதிப்பெண் வழங்கப்படும். தவறான விடைக்கு மதிப்பெண் குறைக்கப்படமாட்டாது. (No Negative Mark)
4. உங்களுடைய பதிவு எண்ணை இந்தப் பக்கத்தின் வலது மேல் மூலையில் அதற்கென அமைந்துள்ள இடத்தில் எழுத வேண்டும். வேறு எதையும் வினாத் தொகுப்பில் எழுதக் கூடாது.
5. விடைகளை குறித்துக்காட்ட OMR விடைத்தாள் ஒன்று உங்களுக்கு அறைக் கண்காணிப்பாளரால் தரப்படும்.

மீதமுள்ள அறிவிக்கைகளை இறுதி பக்கம் பார்க்கவும்.

SEAL

CLICK TO JOIN 150-HOURS FREE CLASS(9626699743)
Er.THANGAMUTHU IPS ACADEMY

பகுதி அ

1. தமிழகத்தின் ஆளுநர் யார்?

- ☒ (A) பன்வாரிலால் புரோஹித்
(C) ஸ்டாலின்

- (B) தமிழிசை செளந்தரராஜன்
(D) இறையன்பு

2. யாருடைய பிறந்தநாள் ஆசிரியர் தினமாக கொண்டாடப்படுகிறது?

- (A) அப்துல் கலாம்
(C) மகாத்மா காந்தி

- (B) நேரு
☒ (D) ராதாகிருஷ்ணன்

3. இந்த வருடம் இந்தியா எத்தனையாவது சுதந்திர தினத்தை கொண்டாடியது?

- (A) 74
☒ (C) 75

- (B) 76
(D) 77

4. காற்றை ஒலியாக மாற்றும் இசைக்கருவி

- (A) தவில்
(C) வீணை

- (B) மிருதங்கம்
☒ (D) நாதஸ்வரம்

5. ஈட்டி எறிதலில் தங்கப்பதக்கம் பெற்ற இந்தியர் யார்?

- (A) அனில் சோப்ரா
☒ (C) நீரஜ் சோப்ரா

- (B) ஹரி சோப்ரா
(D) மனிஷ் சோப்ரா

6. இந்திய உச்ச நீதிமன்றத்தின் தற்போதைய தலைமை நீதிபதி

- ☒ (A) என்.வி. ரமணா
(C) ரஞ்சன் கோகாய்

- (B) சதாசிவம்
(D) சந்திரசூட்

7. புவியியல் வரைபடத்தில் நீல நிறம் எதை குறிக்கிறது?
- (A) நீர்நிலைகள் (B) மலைகள்
(C) பாலைவனம் (D) சமவெளி
8. பாண்டிய மன்னர்களின் கொடியில் இருப்பது
- (A) புலி (B) சிங்கம்
(C) அம்பு வில் (D) மீன்
9. குக்கரில் சாதம் வைக்க ஒரு டம்ளர் அரிசிக்கு பொதுவாக எத்தனை டம்ளர் தண்ணீர் ஊற்ற வேண்டும்?
- (A) 1 (B) 2 முதல் 3
(C) 6 முதல் 8 (D) 9
10. வீட்டை துடைக்க பயன்படுவது
- (A) லைசால் (B) ஹார்பிக்
(C) ஆலா (D) கிளிசரின்
11. மாவட்டத்தில் மக்கள் குறை தீர்க்கும் நாள் பொதுவாக எந்த கிழமையில் நடைபெறும்?
- (A) வியாழக்கிழமை (B) புதன் கிழமை
(C) செவ்வாய் கிழமை (D) திங்கள் கிழமை
12. நீதிமன்றம் — நீதி என்றால்
பள்ளிக்கூடம் — ஆகும்
- (A) ஆசிரியர் (B) மாணவன்
(C) கல்வி (D) பெற்றோர்

13. ஒரு செவ்வகத்தில் எத்தனை பக்கங்கள் இருக்கும்?

- (A) 2
(C) 6

- ☒ (B) 4
(D) 8

14. இந்தியாவின் மிக உயரிய விருது

- (A) பத்மபூஷன்
(C) பரமவீர சக்ரா

- (B) பத்மவிபூஷன்
☒ (D) பாரத ரத்னா

15. மனித உடலின் மிகப்பெரிய எலும்பு எது?

- ☒ (A) தொடை எலும்பு
(C) காரை எலும்பு

- (B) முதுகு தண்டுவடம்
(D) விலா எலும்பு

16. சமீபத்தில் ஆப்கானிஸ்தான் முழுவதையும் ————— கைப்பற்றினர்.

- (A) லஷ்கர்-இ-தொய்பா
☒ (C) தாலிபான்கள்

- (B) அமெரிக்கா
(D) மாவோயிஸ்ட்

17. சென்னை உயர்நீதிமன்றத்தின் கிளை அமைந்துள்ள இடம் எது?

- (A) திருச்சி
(C) சேலம்

- (B) கோயம்புத்தூர்
☒ (D) மதுரை

18. 385 என்ற எண்ணை கீழ்க்கண்டவற்றில் எதனால் மிச்சமின்றி வகுக்க முடியாது?

- (A) 5
☒ (C) 3

- (B) 7
(D) 11

19. உணவை கெட்டுப்போக செய்யும் உயிரியல் காரணி எது?

(A) உலர்தல்

(B) வெப்பம்

(C) ஈரப்பதம்

☒ (D) பாக்டீரியா

20. கீழ்க்கண்டவற்றில் கார்போஹைட்ரேட் எதில் அதிகமாக இருக்கிறது?

(A) நெய்

(B) பழங்கள்

☒ (C) அரிசி

(D) எண்ணெய்

21. கீழ்க்கண்டவற்றில் வித்தியாசமானவற்றை கண்டுபிடி?

(A) கங்கை

(B) அட்லாண்டிக்

(C) ஆர்க்டிக்

☒ (D) ஆஸ்திரேலியா

22. எந்த உறுப்பு மூச்சு விடுதலில் ஈடுபட்டுள்ளது?

(A) சிறுநீரகம்

☒ (B) நுரையீரல்

(C) இதயம்

(D) மூளை

23. கீழ்க்கண்டவற்றில் எது திடப்பொருள் ஆகும்?

(A) மண்ணெண்ணெய்

(B) காற்று

(C) நீர்

☒ (D) ஆப்பிள்

24. இந்தியாவின் ஏவுகணை மனிதன் யார்?

(A) சர்.சி.வி. ராமன்

☒ (B) டாக்டர். அப்துல் கலாம்

(C) டாக்டர். எம்.எஸ். சுவாமிநாதன்

(D) ராமானுஜம்

25. பனிக்கட்டியால் சூழப்பட்ட கண்டம் எது?

☒ (A) அண்டார்டிகா

(B) ஆசியா

(C) ஐரோப்பா

(D) ஆப்பிரிக்கா

26. கோழிப் பண்ணை தொழிலுக்கு பிரசித்தி பெற்ற இடம்

(A) அரியலூர்

(B) சேலம்

☒ (C) நாமக்கல்

(D) தஞ்சாவூர்

27. விலங்குகளைப் பாதுகாக்க உதவும் அமைப்பு எது?

☒ (A) ப்ளூ கிராஸ்

(B) ரெட் கிராஸ்

(C) ஓயிட் கிராஸ்

(D) பிளாக் கிராஸ்

28. கீழ்க்கண்டவற்றில் எந்த கோட்டை விஜயநகர அரசர்களால் கட்டப்பட்டது?

(A) உதயகிரி

☒ (B) வேலூர்

(C) செஞ்சி

(D) மேற்கண்ட எதுவுமில்லை

29. பள்ளிகளில் மதிய உணவு திட்டத்தை அறிமுகப்படுத்தியவர் யார்?

(A) எம்.ஜி.ஆர்

☒ (B) காமராஜர்

(C) அண்ணாதுரை

(D) பக்தவச்சலம்

30. Covid-19 வைரஸ் எந்த ஊரில் முதன்முறையாக கண்டறியப்பட்டது?

(A) பீஜிங்

☒ (B) வுஹான்

(C) ஷாங்காய்

(D) மேற்கண்ட எதுவுமில்லை

31. படித்தவர்களின் எண்ணிக்கை மிக அதிகமாக உள்ள மாநிலம் எது?

(A) தமிழ்நாடு

(B) குஜராத்

☒ (C) கேரளா

(D) பீகார்

32. சிட்டுக்குருவி வாழ முடியாத பகுதி

☒ (A) துருவப் பகுதி

(B) இமயமலை

(C) இந்தியா

(D) தமிழ்நாடு

33. மனுநீதி சோழனிடம் நீதி கேட்டு வந்த விலங்கு

(A) யானை

☒ (B) பசு

(C) குதிரை

(D) ஆடு

34. மஞ்சள் காமாலை நோய்க்கு சிறந்த மருந்து எது?

(A) துளசி

(B) கற்பூரவள்ளி

☒ (C) கீழாநெல்லி

(D) தூதுவளை

35. கீழ்க்கண்டவற்றில் முத்துலட்சுமி ரெட்டி என்பவர் நினைவாக செயல்படுத்தப்படும் திட்டம் எது?

☒ (A) கலப்பு திருமண உதவித் திட்டம்

(B) அனாதை பெண் குழந்தைகளுக்கான உதவித் திட்டம்

(C) ஏழை விதவைகளின் மகள்களுக்கான திருமண திட்டம்

(D) விதவை மறுமண உதவித் திட்டம்

பகுதி ஆ

36. குறிஞ்சி என்பது
(A) கடலும் கடல் சார்ந்த இடமும் (B) மலையும் மலை சார்ந்த இடமும்
(C) மணலும் மணல் சார்ந்த இடமும் (D) மேற்கண்ட எதுவும் இல்லை
37. சீரிளமை என்பதை பிரித்து எழுத கிடைப்பது
(A) சீர் + இளமை (B) சீரி + இளமை
(C) சீர்மை + இளமை (D) மேற்கண்ட எதுவுமில்லை
38. கீழ்க்கண்டவற்றில் எது சூரியனை குறிக்காது?
(A) ஆதவன் (B) பகலவன்
(C) ஞாயிறு (D) திங்கள்
39. அக்னி சிறகுகள் என்ற நூலை எழுதியவர்
(A) அப்துல் கலாம் (B) கருணாநிதி
(C) அறிஞர் அண்ணா (D) ராஜகோபாலாச்சாரி
40. தமிழ் + எங்கள் என்பதை சேர்த்து எழுத கிடைக்கும் சொல்
(A) தமிழங்கள் (B) தமிழுங்கள்
(C) தமிழ்எங்கள் (D) தமிழெங்கள்
41. தொன்மை என்னும் சொல்லின் பொருள்
(A) புதுமை (B) பழமை
(C) பெருமை (D) சிறுமை
42. சித்தம் என்பதன் பொருள்
(A) உள்ளம் (B) மனம்
(C) குணம் (D) வனம்
43. “கற்க கசடற கற்பவை கற்றபின்
நிற்க அதற்குத் தக” என்ற குறள் எந்த அதிகாரத்தில் இருக்கிறது
(A) வாய்மை (B) கல்வி
(C) கல்லாமை (D) ஊழ்

44. தவறான சொல்லை கண்டறிக
- (A) கண்டான் (B) வென்றான்
(C) நண்டு (D) வண்டி
45. சரியான வாக்கியத்தை தேர்ந்தெடுக்கவும்
- (A) முளையிலே விளையும் தெரியும் பயிர்
(B) பயிர் விளையும் முளையிலே தெரியும்
(C) விளையும் பயிர் முளையிலே தெரியும்
(D) முளையிலே தெரியும் பயிர் விளையும்
46. விருந்தினரின் முகம் எப்போது வாடும்?
- (A) நம் முகம் மாறினால் (B) நம் வீடு மாறினால்
(C) நாம் நன்கு வரவேற்றால் (D) நம் முகவரி மாறினால்
47. வீட்டு பயன்பாட்டிற்காக பொருள் வாங்குபவர்
- (A) நுகர்வோர் (B) தொழிலாளி
(C) முதலீட்டாளர் (D) நெசவாளி
48. காந்தியடிகளிடம் உடை அணிவதில் மாற்றத்தை ஏற்படுத்திய ஊர் எது?
- (A) கோவை (B) தஞ்சாவூர்
(C) மதுரை (D) சிதம்பரம்
49. அன்னை தெரசாவுக்கு ————— கான நோபல் பரிசு கிடைத்தது.
- (A) பொருளாதாரம் (B) இயற்பியல்
(C) மருத்துவம் (D) அமைதி
50. ஐம்பெரும் காப்பியங்களில் ஒன்று
- (A) குறுந்தொகை (B) நற்றினை
(C) பத்துப்பாட்டு (D) வளையாபதி

PROPOSED KEY ANSWERS FOR THE COMMON WRITTEN
EXAMINATION CONDUCTED FOR THE POSTS OF
‘COMPUTER OPERATOR / TYPIST’ AND ‘TYPIST’
(Notification No.126 / 2019)

The proposed key answers, marked in the Question Booklet (A-Series), for the common written examination conducted for the posts of Computer Operator / Typist and Typist on 09.11.2019 F.N. (Saturday) are hosted herewith.

Any objection with regard to any of the proposed key answer should be sent by the candidates to the Registrar (Recruitment), High Court, Madras, by e-mail (recruitment.mhc@gov.in) within two days from today. In such communication, Registration Number, Name and address of the candidate, Question Number and answer for such question, according to the candidate, with supporting material for such claim should invariable be quoted. Any representation received after two days or without any of the above requisite particulars will receive no attention.

Dated: 13.11.2019.
Place: Chennai.

sd/ xxxxxx
Registrar (Recruitment).

CLICK TO JOIN 150-HOURS FREE CLASS(9626699743)
Er.THANGAMUTHU IPS ACADEMY

COMPUTER OPERATOR /

TYPIST

MHCO 3084

Booklet Series :

A

Booklet No.

21529

Register No.

| | | | | | |
|--|--|--|--|--|--|
| | | | | | |
|--|--|--|--|--|--|

Time : Three Hours

Max Marks: 150

IMPORTANT INSTRUCTIONS TO CANDIDATES

Read the following instructions carefully before you begin to answer the questions.

1. The Candidate will be supplied with Question Booklet 15 minutes before commencement of the examination.
2. This Question Booklet contains 150 objective type questions. Before answering, the candidates are requested to check whether all the questions are in serial and ensure that there are no blank pages / Questions in the question booklet. In case any defect is noticed, it shall be reported to the Invigilator within first 10 minutes and get it replaced with a new same series Question Booklet. After 10 minutes of the commencement of the examination, it will not be replaced.
3. Each Question carry one mark (No negative mark will be deducted for the wrong answer).
4. You must write your Register Number in the space provided on the top right side of this page without fail. Do not write anything else in the Question Booklet.
5. Personalized OMR Answer Sheets of the Candidates will be supplied by the invigilator for answering the Questions. If the OMR Answer Sheet, is in anyway defective, the same shall be brought to the notice of the Invigilator immediately before shading, so as to supply a spare OMR answer sheet.
6. You must write and shade your Question Booklet number in the space provided in the OMR Answer Sheet without fail with Blue or Black Ball point pen only.

CLICK TO JOIN 150-HOURS FREE CLASS(9626699743)
Er.THANGAMUTHU IPS ACADEMY

[Turn over

SEAL

SPACE FOR ROUGH WORK

0821S

PART A

1. Fill in the blank with a suitable preposition from the options :

The boys jumped ————— the tank.

- (A) ☒ into (B) in
(C) over (D) ☒ between

2. Pick the right word for the space in the sentence :

Can I borrow ————— books from the library?

- (A) one (B) all
(C) few (D) ☒ some

3. Pick the word that means "question and argue" :

- (A) ☒ dispute (B) reject
(C) deny (D) refuse

4. Read the passage and choose the best answer for the question below :

"Every day the tide comes in twice and goes out twice, or, as we sometimes say, it rises and falls. The cause of this rising and falling is the attraction of the sun and moon on the oceans of the world".

How do we describe the coming in of the tide?

- (A) It enters the land (B) It falls
(C) ☒ It rises (D) It withdraws

5. Out of the four alternatives, choose the one that can be substituted for the given words/phrase.

A disease that affects a large number of people in an area at the same time

- (A) Endemic (B) ☒ Epidemic
(C) Infectious (D) Contagious

6. In the question, a set of four words are given, marked A, B, C and D. In each set, a word has been spelt in four different ways. Choose the word correctly spelt.

(A) grammer (B) gramer
(C) gramar ☒ (D) grammar

7. Answer the following with suitable question tag.

Ravi played hockey, —————?

(A) did he? ☒ (B) didn't he?
(C) does he? (D) doesn't he?

8. Sherlock Holmes is a
character in fiction (P)
than any other character (Q)
more people (R)
perhaps known to (S)

The proper sequence should be :

☒ (A) PSRQ (B) QRPS
(C) QSPR (D) RSQP

9. Read the following passage and choose the best answer for the question below :

"Without a leader, men find it difficult to organize themselves; and without men to support them, even the greatest leaders cannot carry out their plans. It is the combination of leader and people that brings success".

What, according to the passage, brings success?

(A) leader
(B) people who support a leader
☒ (C) combination of people and a leader
(D) the greatest leaders

10. Choose the right word for the space in the sentence :

I have ears, so I ————— hear.

(A) will (B) could
☒ (C) can (D) shall

11. Pick the correct passive voice sentence for the following :

She wrote a letter.

- ☒ (A) A letter was written by her
(B) A letter had been written by her
(C) A letter has been written by her
(D) A letter is written by her

12. Fill in the blank with a suitable preposition :

She was playing ————— the evening.

- (A) at (B) for
☒ (C) in (D) before

13. Supply the missing link for the following sentence :

The book ————— I bought is missing.

- ☒ (A) which (B) where
(C) how (D) when

14. Pick the word that best describes a person of gentle nature :

- (A) merciful (B) respectful
☒ (C) kind (D) virtuous

15. Choose the correction for the word in italics in the sentence :

He *had* his dinner when the guests came in.

- ☒ (A) was having (B) has
(C) is having (D) will have

16. Choose the option that best describes the condition of the person in the sentence :

He climbed the wall and sat there breathing heavily.

- ☒ (A) exhaustion (B) hopelessness
(C) excitement (D) weakness

17. Choose the correct verb form of 'walk' for the space in the sentence :

_____ is a good exercise.

- ☒ (A) Walking (B) To walk
(C) To have walked (D) To be walking

18. Say which one of these explanations is correct :

- ☒ (A) A washing machine is one that washes clothes
(B) A dancing master is one who dances
(C) A walking stick is one that walks
(D) A dining hall is one that dines

19. Read the following sentences and choose the best question form for them :

My purse must be in the train. I must have dropped it there.

- ☒ (A) Could I have dropped it there?
(B) Couldn't I have dropped it there?
(C) Must I have dropped it there?
(D) Mustn't I have dropped it there?

20. Choose one word from the options for the words in italics :

He has been *doing nothing* all morning.

- ☒ (A) idle (B) lazy
(C) wasting (D) lethargic

21. Choose the alternative that is closest in meaning to the word in capitals.

IMAGINARY

- (A) realistic (B) bleak
(C) trance ☒ (D) dreamy

22. Choose the alternative that is closest in meaning to the word in capitals.

FASTEN

- ☒ (A) affix (B) untie
(C) holder (D) thin

23. Pick the right word for the space in the sentence :

A group of boys ————— library regularly.

- (A) are visiting ☒ (B) is visiting
(C) visits (D) visiting

24. ————— Kishore go temple daily?

- (A) Do (B) Will
(C) Can ☒ (D) Does

25. I agree ————— your opinion.

- ☒ (A) with (B) for
(C) to (D) of

PART B

26. தாய்லாந்து மன்னர் முடிசூட்டுகையில் பாடப்பெறும் தமிழ்ப்பாடல்
☒ (A) திருவெம்பாவை (B) திருக்குறள்
 (C) திருக்கோவை (D) திருமாலை
27. 'சொல்லின் செல்வன்' எனப் பாராட்டப்பெறும் கம்பராமாயணக் கதை மாந்தர்
 (A) வீடணன் (B) அங்கதன்
☒ (C) அனுமன் (D) ராமன்
28. சாகித்ய அகாடமி விருது பெற்ற கவிஞர் அப்துல் ரகுமானின் படைப்பு
 (A) நேயர் விருப்பம் (B) பால்வீதி
 (C) முட்டைவாசிகள் ☒ (D) ஆலாபனை
29. கோவலன் கண்ணகியுடன் மதுரை சென்றவர்
 (A) தேவந்தி (B) ஐயை
 (C) மாதரி ☒ (D) கவுந்தி
30. தமிழ்ச் சிறுகதை மன்னன்
 (A) கு.ப.ரா. (B) கல்கி
☒ (C) ஜெயகாந்தன் (D) மௌனி
31. ஆசிய சோதி யாருடைய வரலாற்றை எடுத்துரைக்கின்றது?
 (A) காந்தியடிகள் (B) ஜவஹர்லால் நேரு
☒ (C) கௌதம புத்தர் (D) ஆதிசங்கரர்
32. நீதிநெறி விளக்கத்தின் ஆசிரியர்
 (A) ஒளவையார் ☒ (B) குமரகுருபரர்
 (C) சிவப்பிரகாசர் (D) அதிவீரராமர்
33. தமிழ்த் தென்றல் எனப்பாராட்டப் பெறுபவர்
 (A) வ.சுப. மாணிக்கம் (B) இரா.பி. சேதுப்பிள்ளை
 (C) மு.வரதராசன் ☒ (D) திரு.வி.க

34. உலகளாவிய செம்மொழிகள்

- (A) தமிழ், சமஸ்கிருதம், சீனம், எபிராயம்
(B) தமிழ், லத்தீன், செருமானியம், ஆங்கிலம்
(C) தமிழ், உருது, கிரேக்கம், சீனம்
(D) தமிழ், சமஸ்கிருதம், தெலுங்கு, பிரெஞ்சு

35. நெடுந்தொகை எனப்படும் எட்டுத்தொகை நூல்

- (A) பழமொழி நானூறு (B) நற்றிணை நானூறு
(C) புறநானூறு (D) அகநானூறு

36. 'ஒன்றே குலமும் ஒருவனே தேவனும்' என்று மொழிந்தவர்

- (A) அறிஞர் அண்ணாதுரை (B) திரு.வி.க
(C) திருமூலர் (D) திருவள்ளுவர்

37. பொருத்தமான இணையைத் தேர்வு செய்க

- (A) தேசியம் காத்த செம்மல் - பெருஞ்சித்திரனார்
(B) வங்கச் சிங்கம் - நேதாஜி
(C) மராட்டிய வீரர் - ம.பொ.சி
(D) பாவலேறு - திலகர்

38. நெல் குத்தும் போது பாடப்படும் பாடல்

- (A) குத்துப்பாட்டு (B) கூத்துப்பாட்டு
(C) கும்மிப்பாட்டு (D) வள்ளைப்பாட்டு

39. 'முதற்றே உலகு' எனும் முடியும் குறளில் 'உலகு' என்பதின் வாய்பாடு

- (A) நாள் (B) மலர்
(C) காசு (D) பிறப்பு

40. பாகற்காய் என்பதை பிரித்து எழுதினால்

- (A) பாகல்+காய் (B) பாகு+அல்+காய்
(C) பா+கல்+காய் (D) பாகம்+காய்

PART C

41. Factor needed for blood clotting function .

- (A) Vitamin K (B) Calcium
(C) Iron ☒ (D) All the above

இரத்தம் உறைவதற்கு தேவைப்படுவது

- (A) விட்டமின் கே (B) கால்சியம்
(C) அயர்ன் (D) மேலே கண்ட அனைத்தும்

42. Dengue fever is caused by

- (A) Plasmodium vivax ☒ (D) Aedes aegypti
(C) Plasmodium falciparum (D) Aedes albopictas

டெங்கு காய்ச்சல் எதனால் ஏற்படுகிறது?

- (A) பிளாஸ்மோடியம் விவாக்ஸ் (B) ஏடெஸ் ஏகிப்தி
(C) பிளாஸ்மோடியம் ஃபால்சிபரம் (D) ஏடெஸ் அல்போபிக்டாஸ்

43. Sewage containing organic waste should not be disposed in water bodies because it causes major water pollution. Fishes in such a polluted water die because of:

- (A) Large number of mosquitoes
(B) Increase in the amount of dissolved oxygen
☒ (C) Decrease in the amount of dissolved oxygen in water
(D) Clogging of gills by mud

இராசயணக் கழிவு கலந்த சாக்கடை கழிவுநீரை நீர் நிலைகளில் விடக்கூடாது. ஏனெனில் அது நீரில் பெரிய அளவு மாசு ஏற்படுத்தும். மாசுப்பட்ட அத்தகைய நீரில் உள்ள மீன்கள் இறந்துவிடும். ஏனெனில்

- (A) அதிக அளவு கொசுக்கள் இருக்கும்
(B) கரைந்த ஆக்ஸிஜனின் அளவு அதிகரிக்கும்
(C) தண்ணீரில் கரைந்த ஆக்ஸிஜனின் அளவு குறையும்
(D) சேற்றால் மீன்களின் செவுள்கள் அடைக்கப்படும்

44. How much electrical energy in kilowatt hour is consumed in operating ten 60W bulbs for 10 hours per day in a month of 30 days?

- (A) 1800 (B) 18
(C) 18,000 (D) 180

நாள் ஒன்றுக்கு 10 மணிநேரம் 10 எண்ணிக்கை உள்ள 60 வாட்ஸ் பல்புகளை 30 நாட்களுக்கு எரிய விட்டால் எவ்வளவு கிலோவாட் ஹவர் மின் சக்தி தேவைப்படும்?

- (A) 1800 (B) 18
(C) 18,000 (D) 180

45. Decibel is

- (A) A musical instrument (B) Musical note
(C) A measure of sound level (D) Wavelength of noise

டெசிபல் என்பது

- (A) ஒரு இசைக் கருவி (B) இசைக் குறிப்பு
(C) ஒலியின் அளவுகோல் (D) இரைச்சலின் அலை நீளம்

46. The ozone layer forms naturally by

- (A) the interaction of CFC with oxygen
(B) the interaction of UV radiation with oxygen
(C) the interaction of IR radiation with oxygen
(D) the interaction of oxygen and water vapour

ஒசோன் படலம் இயற்கையாக எப்படி ஏற்படுகிறது?

- (A) ஆக்ஸிஜனுடன் சிஎப்சி சேர்வதால் ஏற்படுகிறது
(B) ஆக்ஸிஜனுடன் யுவி ரேடியேசன் சேர்வதால் ஏற்படுகிறது
(C) ஆக்ஸிஜனுடன் ஐஆர் ரேடியேசன் சேர்வதால் ஏற்படுகிறது
(D) ஆக்ஸிஜனும், நீராவியும் சேர்வதால் ஏற்படுகிறது

47. Dalda is prepared from oils by

- (A) oxidation ☒ (B) reduction
(C) hydrolysis (D) distillation

எண்ணெயிலிருந்து டால்டா ————— மூலம் தயாரிக்கப்படுகிறது.

- (A) ஆக்சிஜனேற்றம் (B) குறைப்பு
(C) நீர்ப்பகுப்பு (D) வடித்தல்

48. When an iron nail gets rusted, iron oxide is formed

- (A) without any change in the weight of the nail
(B) with decrease in the weight of the nail
☒ (C) with increase in the weight of the nail
(D) without any change in colour and weight of the nail.

ஒரு இரும்பு ஆணி துருப்பிடிக்கும் போது, அதில் இரும்பு ஆக்ஸைடு

- (A) ஆணியின் எடையில் எவ்வித மாற்றமும் இல்லாமல் உருவாகும்
(B) ஆணியின் எடைக் குறைவுடன் உருவாகும்
(C) ஆணியின் எடை அதிகரிப்புடன் உருவாகும்
(D) ஆணியின் எடையிலோ, நிறத்திலோ எந்த மாற்றமும் இல்லாமல் உருவாகும்

49. We use hydrometer to check the condition of electroloite in the car battery. It is actually measuring the _____ property of the fluid?

- (A) Charge ☒ (B) Density
(C) Temperature (D) Surface tension

கார் பாட்டரியில் உள்ள எலக்ட்ரோலாயிட்டினை சரிபார்க்க ஹைட்ரோ மீட்டரை (நீர் அடர்த்தி மானியை) நாம் பயன்படுத்துகிறோம். அக்கருவி திரவத்தில் உள்ள _____ ஐ அளவிடுகிறது.

- (A) சார்ஜ் (B) அடர்த்தி
(C) வெப்பம் (D) மேற்பரப்பு தோற்றம்

50. A block of wood is floating on water. If the same is pushed down on the top of the block until it is completely submerged, the buoyant force on it

- ☒ (A) increases
- (B) decreases
- (C) remains the same
- (D) depends on how far beneath the water surface it is pushed

ஒரு மரக்கற்றை நீரின் மேல் மிதந்து கொண்டிருக்கிறது. அக்கற்றையின் மேற்பரப்பை அக்கற்றை முழுவதுமாக நீரில் மூழ்கும்படி கீழே அழுத்தினால், அதன் மிதக்கும் விசை

- (A) அதிகரிக்கும்
- (B) குறையும்
- (C) மாறாமல் இருக்கும்
- (D) அதன் மிதக்கும் விசை, தண்ணீரின் மேற்பரப்புக்கு கீழே எவ்வளவு தூரம் அழுத்தியிருக்கிறோம் என்பதை பொருத்து இருக்கும்

51. Stock exchanges deal in

- (A) Goods
- (B) Services
- ☒ (C) Financial Securities
- (D) Country's Currency

கீழ்க்கண்டவற்றில் எதில் பங்கு சந்தை பரிவர்த்தனை இருக்கும்?

- (A) சரக்குகள்
- (B) சேவைகள்
- (C) நிதி பத்திரங்கள்
- (D) நாட்டின் நாணயம்

52. A cheque will become stale after _____ months of its date.

- ☒ (A) 3
- (B) 4
- (C) 5
- (D) 6

ஒரு காசோலை எத்தனை மாதத்திற்கு பின் காலாவதி ஆகும்?

- (A) 3
- (B) 4
- (C) 5
- (D) 6

53. The data collected by questionnaires are

- ☒ (A) Primary data (B) Secondary data
(C) Published data (D) Grouped data

கேள்வித்தாள் மூலம் சேகரிக்கப்படும் புள்ளி விவரம் (டேட்டா)

- (A) முதன்மை விவரம் (B) இரண்டாம் நிலை விவரம்
(C) வெளியிடப்பட்ட விவரம் (D) தொகுக்கப்பட்ட விவரம்

54. What do you mean by the term 'Lockout' ?

- (A) A key for a lock lost
(B) The factory is closed once and for all
☒ (C) The factory is closed by the employer to force the workers to accept the imposed terms
(D) None of the above

“கதவடைப்பு” என்றால் என்ன?

- (A) தொலைந்து போன ஒரு பூட்டுக்கான சாவி
(B) நிரந்தரமாக ஒரு தொழிற்சாலையை மூடிவிடுவது
(C) விதிக்கப்பட்ட நிபந்தனைகளை ஏற்றுக்கொள்ளும்படி தொழிலாளிகளை கட்டாயப்படுத்துவதற்கு முதலாளியால் தொழிற்சாலை மூடப்படுவது
(D) மேலே கண்ட எதுவும் இல்லை

55. Patents, Copy Rights and Trademarks represent :

- (A) current asset (B) fixed asset
(C) investments ☒ (D) intangible assets

காப்புரிமை, பதிப்புரிமை மற்றும் முத்திரை (ட்ரேட் மார்க்) எதைக் குறிக்கும்?

- (A) நடப்பு சொத்து (B) நிரந்தர சொத்து
(C) மூலதனம் (D) புலனாகாத சொத்து

56. POCSO Act (Protection of Children from Sexual Offences), special law has been passed to address the issue of sexual offences against children.

Which of the following statements are correct?

It is a comprehensive law:

1. To provide for the protection of children From the offences of sexual assault, sexual harassment and pornography
2. To safeguard the interests of the child at every stage of the judicial process.
3. For the proper development of the child in view of his/her protection of the right to privacy and confidentiality

- (A) Statements 1 and 2 are true
(B) Statements 1 and 3 are true
(C) Statements 2 and 3 are true
☒ (D) Statements 1, 2 and 3 are true

குழந்தைகளுக்கெதிரான பாலியல் குற்றங்களுக்கு தீர்வு காணும் வகையில் பாலியல் குற்றங்களிலிருந்து குழந்தைகளை பாதுகாக்கும் சட்டம் (POCSO) இயற்றப்பட்டது. கீழ்க்கண்ட கூற்றுகளில் எது சரியானவை?

1. பாலியல் தாக்குதல், பாலியல் தொந்தரவு மற்றும் போர்னோகிராபி போன்ற குற்றங்களிலிருந்து குழந்தைகளை பாதுகாப்பதற்குமான விரிவான சட்டம் ஆகும்.
2. நீதிமன்ற நடவடிக்கையின் ஒவ்வொரு கட்டத்திலும் குழந்தையின் நலனை இச்சட்டம் பாதுகாக்கும்.
3. குழந்தையின் தனியுரிமை மற்றும் ரகசியத் தன்மைக்கான உரிமையின் அடிப்படையில் குழந்தையின் உரிமையை இச்சட்டம் வளர்ச்சியடையச் செய்கிறது.

- (A) 1 மற்றும் 2 கூற்றுகள் சரியானவை
(B) 1 மற்றும் 3 கூற்றுகள் சரியானவை
(C) 2 மற்றும் 3 கூற்றுகள் சரியானவை
(D) 1 முதல் 3 கூற்றுகள் சரியானவை

57. Assertion (A) : V.O. Chidambaram established a Swadeshi Steam Navigation Company.

Reason (R): He wanted to oppose the monopoly of the British in navigation through the coast

- ☒ (A) and (R) are true and (R) is the correct explanation of (A)
(B) (A) and (R) are true and (R) is not the correct explanation of (A)
(C) (A) is correct and (R) is wrong Codes
(D) (A) is wrong and (R) is correct

கூற்று (A) : வ.உ. சிதம்பரம் சுதேசிய கப்பல் நிறுவனத்தை ஆரம்பித்தார்.

காரணம் (R) : ஆங்கிலேயரின் கடல்வழி பயணத்திற்கான ஏகபோக பிரத்யேக உரிமையை சிதம்பரனார் எதிர்த்தார்.

கீழ்க்கண்டவற்றில் எது சரியானவை?

- (A) (A) மற்றும் (R) சரியானவை. (R) என்பது (A)க்கான சரியான விளக்கம் ஆகும்.
(B) (A) மற்றும் (R) சரியானவை. ஆனால் (R) என்பது (A)க்கான சரியான விளக்கம் இல்லை.
(C) (A) சரியானவை, (R) தவறானது.
(D) (A) தவறானது, (R) சரியானவை.

58. Adolescence is also known as

- ☒ (A) Teenage (B) Middle age
(C) Both (A) and (B) (D) None of these

இளம்பிராயம் (Adolescence) என்பது

- (A) டீன் ஏஜ் (B) நடுத்தர வயது
(C) (A) மற்றும் (B) (D) மேலே கண்ட எதுவும் இல்லை

59. Consider the following statements regarding the geological phenomenon Tsunami?

1. Tsunami waves have longer wave lengths and hence difficult to discover from off shore.
2. Tsunami waves are majorly generated due to earthquakes on oceanic crust.

Choose the correct answer:

- (A) Only 1 (B) Only 2
☒ (C) Both (1) and (2) (D) None of the above

சுனாமி பற்றிய கீழ்க்கண்ட கூற்றுக்களை கவனிக்கவும்.

1. சுனாமி அலைகள் நீளமான அலைகளைக் கொண்டது. ஆகவே அதை கடலுக்கு வெளியேயிருந்து கண்டுபிடிப்பது கடினம்.
2. கடலுக்கு அடியில் ஏற்படும் நில நடுக்கத்தால் பெரும்பாலும் சுனாமி அலைகள் எழுகிறது.

மேற்க்கண்டவற்றில் எது சரியானவை:

- (A) 1 மட்டும் சரி (B) 2 மட்டும் சரி
(C) 1 மற்றும் 2 ம் சரி (D) மேலே கண்ட எதுவும் இல்லை

60. Which among the following has been enlisted as a fundamental duty in the constitution?

- (A) To cherish and follow the noble ideals which inspired the freedom struggle in India
(B) To defend the country and render national service when called upon to do so
(C) To protect and improve the natural environment
☒ (D) All the above

இந்திய அரசியலமைப்பு சட்டத்தில் கீழ்க்கண்டவற்றில் எது அடிப்படைக் கடமைகளில் இருக்கிறது?

- (A) இந்திய விடுதலைப் போராட்டத்தை ஊக்குவித்த சீரிய கொள்கைகளை போற்றிப் பாதுகாத்து பேணிக் கொள்வது
(B) அழைக்கும்போது நாட்டைப் பாதுகாப்பது மற்றும் நாட்டுக்கு சேவை செய்வது
(C) இயற்கை சுற்றுப்புற சூழலை பாதுகாப்பது மற்றும் வளர்ச்சியடையச் செய்வது
(D) மேலே கண்ட அனைத்தும்

[CLICK TO JOIN 150-HOURS FREE CLASS\(9626699743\)](https://www.thangamuthuipsacademy.com)

A

Er.THANGAMUTHU IPS ACADEMY

MHCO 3084
[Turn over

61. Wifi is a short name for

(A) Wired fidelity

(C) Wireless frequency

☒ (B) Wireless fidelity

(D) None of the above

‘வைபை’ என்பது எதன் சுருக்கம்

(A) வயர்டு பிடுலிட்டி

(C) வயர்லெஸ் ப்ரீகொயன்சி

(B) வயர்லெஸ் பிடுலிட்டி

(D) மேலே கண்ட எதுவும் இல்லை

62. One Mega Byte is equal to?

☒ (A) 1024 Kilo Bytes

(C) 1024 Bytes

(B) 1024 Giga Bites

(D) 1054 Bits

ஒரு மெகா பைட் என்பது

(A) 1024 கிலோ பைட்ஸ்

(C) 1024 பைட்ஸ்

(B) 1024 ஜிகா பைட்ஸ்

(D) 1054 பிட்ஸ்

63. E-mail message can be protected by

(A) Mirroring

☒ (C) Encryption

(B) Caching

(D) Resending

இ-மெயிலை எதனால் பாதுகாக்க முடியும்?

(A) மிர்ரிங்

(C) என்கிரிப்சன்

(B) கேச்சிங்

(D) ரீசென்டிங்

64. Who invented the Doctor's thermometer?

(A) Fahrenheit

☒ (C) Galileo

(B) Edison

(D) Darwin

மருத்துவரின் தெர்மா மீட்டரை கண்டுபிடித்தவர் யார்?

(A) பாரன்ஹீட்

(C) கலிலியோ

(B) எடிசன்

(D) டார்வின்

65. AGMARK Act came into force in India in

- ☒ (A) 1937 (B) 1957
(C) 1947 (D) 1967

அக்மார்க் சட்டம் இந்தியாவில் எப்போது அமலுக்கு வந்தது?

- (A) 1937 (B) 1957
(C) 1947 (D) 1967

66. Nuclear reactors that are used to produce electricity are based on

- (A) Nuclear Fusion ☒ (B) Nuclear Fission
(C) Cold Fusion (D) Super conductivity

கீழ்க்கண்டவற்றில் எதன் அடிப்படையில் அணு உலையில் மின்சாரம் தயாரிக்கப்படுகிறது?

- (A) அணு இணைப்பு (B) அணுப் பிளப்பு
(C) குளிர் இணைப்பு (D) எளிதிற் கடத்தி

67. The tri-colour flag was first hoisted on

- (A) 31st January, 1928 ☒ (B) 31st December, 1929
(C) 26th January, 1950 (D) 15th August, 1947

மூவர்க்கொரு முதன் முதலில் எப்போது ஏற்றப்பட்டது?

- (A) 1928 ஜனவரி 31 (B) 1929 டிசம்பர் 31
(C) 1950 ஜனவரி 26 (D) 1947 ஆகஸ்டு 15

68. First Visually Impaired I.A.S., officer in India is

- (A) Narendar Patil ☒ (B) Pranjal Patil
(C) Sujitha Patil (D) Amirtha Patil

இந்தியாவில் கண் பார்வை அற்ற முதல் ஐ.ஏ.எஸ் அதிகாரி

- (A) நரேந்தர் பட்டில் (B) பிரஞ்சால் பட்டில்
(C) சுஜிதா பட்டில் (D) அமிர்தா பட்டில்

69. A question paper consists of 100 questions. Two marks are awarded for every correct option. If one mark is deducted for every wrong option and half mark is deducted for every question left, then a person scores 135. Instead, if half mark is deducted for every wrong option and one mark is deducted for every question left, then the person scores 133. Find the number of questions left unattempted by the person.



(A) 14

(B) 16

(C) 10

(D) 12

ஒரு வினாத்தாளில் 100 கேள்விகள் இருக்கிறது. ஒவ்வொரு சரியான விடைக்கும் 2 மதிப்பெண்கள் வழங்கப்படுகிறது. ஒவ்வொரு தவறான விடைக்கு 1 மதிப்பெண்ணும், விடையளிக்காத ஒவ்வொரு வினாவுக்கும் $1/2$ மதிப்பெண்ணும் குறைக்கப்பட்டால், ஒரு நபர் 135 மதிப்பெண்கள் பெறுகிறார். அதற்கு பதில், ஒவ்வொரு தவறான விடைக்கு $1/2$ மதிப்பெண்ணும், விடையளிக்காத ஒவ்வொரு வினாவுக்கும் 1 மதிப்பெண்ணும் குறைக்கப்பட்டால் அந்த நபர் 133 மதிப்பெண்கள் பெறுகிறார். அந்த நபரால் விடையளிக்காத வினாக்கள் எவ்வளவு என்று கண்டுபிடிக்கவும்.

(A) 14

(B) 16

(C) 10

(D) 12

70. Pythagoras Theorem is applicable to

(A) Equilateral triangle

(B) Isosceles triangle



(C) Right angled triangle

(D) All the above

பிதாகரஸ் தேற்றம் கீழ்க்கண்டவற்றில் எதற்கு பொருந்தும்?

(A) சமபக்க முக்கோணம்

(B) அசம பக்க முக்கோணம்

(C) வலது கோண முக்கோணம்

(D) மேலே கண்ட அனைத்தும்

71. You are appearing for your graduate examination and you find the question paper not only difficult but lengthy as well you would

- (A) Protest and leave the examination hall
- (B) Ask the other examinees to agitate in the examination hall
- ☒ (C) Answer as many question as possible
- (D) Write a protest letter and answer the paper

நீங்கள் பட்டப் படிப்புக்கான தேர்வு எழுதச் செல்கிறீர்கள். வினாத்தாள் கடினமானதோடு மட்டும் அல்லாமல் கேள்விகள் நீளமானதாகவும் உள்ளது. நீங்கள்

- (A) ஆட்சேபனை செய்து தேர்வு அறையை விட்டு வெளியே செல்வீர்கள்
- (B) தேர்வு எழுதும் மற்ற நபர்களையும் தேர்வு அறையில் ஆட்சேபனை செய்யும்படி கோருவீர்கள்
- (C) முடிந்தவரை அதிக வினாக்களுக்கு விடையளிப்பீர்கள்
- (D) ஒரு ஆட்சேபனை கடிதத்தை எழுதிவிட்டு வினாக்களுக்கு விடையளிப்பீர்கள்

72. Select odd one

- (A) Star
- (B) Sun
- (C) Moon
- ☒ (D) Universe

விநோதமான ஒன்றை தேர்வு செய்க

- (A) நட்சத்திரம்
- (B) சூரியன்
- (C) சந்திரன்
- (D) பிரபஞ்சம்

73. Pointing to a photograph, Suresh said, "She is the daughter of my grandfather's only son." How is Suresh related to the girl in the photograph?

- (A) Father
- ☒ (B) Brother
- (C) Cousin
- (D) Uncle

ஒரு புகைப்படத்தைக் காட்டி, அவள் என் தாத்தாவின் ஒரே மகனின் மகள் என்று சுரேஷ் கூறினார். புகைப்படத்தில் உள்ள அந்த பெண்ணுக்கு சுரேஷ் என்பவர் என்ன உறவு முறை?

- (A) தந்தை
- (B) சகோதரர்
- (C) ஒன்றுவிட்ட சகோதரர்
- (D) மாமா

74. Statement: A large number of people in ward X of the city are diagnosed to be suffering from a fatal malaria type.

Courses of Action:

- I. The city municipal authority should take immediate steps to carry out extensive fumigation in ward X.
- II. The people in the area should be advised to take steps to avoid mosquito bites.

- (A) Only I follows
- (B) Only II follows
- (C) Neither I nor II follows
- ☒ (D) Both I and II follow

கூற்று : ஒரு நகரத்தில் 10 வது வார்டில் உள்ள அதிக மக்கள் மலேரியா காய்ச்சலால் பாதிக்கப்பட்டுள்ளதாக கண்டறியப்படுகிறது.

தொடர் நடவடிக்கை :

- I. நகராட்சி 10 வது வார்டை புகைபோட்டு சுத்தம் செய்ய உடனடியாக நடவடிக்கை எடுக்க வேண்டும்.
- II. அப்பகுதியில் உள்ள மக்கள் தங்களை கொசு கடிக்காமல் இருக்க நடவடிக்கை எடுக்கும்படி மக்களுக்கு அறிவுரை வழங்க வேண்டும்.

- (A) I மட்டும் பின்பற்ற வேண்டும்
- (B) II மட்டும் பின்பற்ற வேண்டும்
- (C) I அல்லது II பின்பற்ற வேண்டியதில்லை
- (D) I மற்றும் II பின்பற்ற வேண்டும்

75. If white is called blue, blue is called red, red is called yellow, yellow is called green, green is called black, black is called violet and violet is called orange, what would be the colour of human blood?

- (A) Red
- (B) Green
- ☒ (C) Yellow
- (D) Violet

வெள்ளை நிறத்தை நீலம் என்றும், நீல நிறத்தை சிவப்பு என்றும், சிவப்பு நிறத்தை மஞ்சள் என்றும், மஞ்சள் நிறத்தை பச்சை என்றும், பச்சை நிறத்தை கறுப்பு என்றும், கறுப்பு நிறத்தை ஊதா என்றும், ஊதா நிறத்தை ஆரஞ்சு என்றும், அழைத்தால் மனித இரத்தம் எந்த நிறமாக இருக்கும்?

- (A) சிவப்பு
- (B) பச்சை
- (C) மஞ்சள்
- (D) ஊதா

PART D

76. Which one of the following is an Impact printer?
☒ (A) Dot matrix Printer (B) Thermal Printer
(C) Laser printer (D) Inkjet printer
77. Which of the following OS is a commercially licensed Operating system?
☒ (A) Windows (B) UBUNTU
(C) FEDORA (D) REDHAT
78. Expand POST
(A) Post on Self Test (B) Power on Software Test
☒ (C) Power on Self Test (D) Power on Self Text
79. Which one of the following is not a text editor in Linux?
(A) VI (B) VIM
(C) Gedit ☒ (D) OpenCalc
80. What is the shortcut key to go to the start of the document in open office writer?
☒ (A) Ctrl + Home (B) Ctrl + End
(C) Home (D) End
81. What is the shortcut key for finding and replacing text in a document in open office writer?
☒ (A) Ctrl + F (B) Ctrl + R
(C) Ctrl + F4 (D) Ctrl + F9

82. What is the short cut key for Undo in open office writer?
- (A) Ctrl + E (B) Ctrl + U
☒ (C) Ctrl + Z (D) Ctrl + n
83. Which is the shortcut key to view the slideshow?
- (A) F6 (B) F9
☒ (C) F5 (D) F10
84. The ability to combine name and addresses with a standard document is called
- (A) document formatting (B) database management
☒ (C) mail merge (D) form letters
85. In MS-Word, the process of removing unwanted part of an image is called
- (A) Hiding (B) Bordering
☒ (C) Cropping (D) Cutting
86. Which one of the following short-cut key is used for center alignment of paragraph in MS-Word?
- (A) ctrl + C (B) ctrl + S
(C) ctrl + A ☒ (D) ctrl + E
87. In MS-Word, the auto-correct was originally designed to replace _____ words as you type.
- (A) short ☒ (B) misspelled
(C) repetitive (D) macro

88. From which menu you can insert Header and Footer?
☒ (A) Insert Menu (B) View Menu
(C) Format menu (D) Tools Menu
89. Shortcut for document views toolbar is situated in _____ bar.
(A) Task bar ☒ (B) Status bar
(C) Tool bar (D) Title bar
90. Bullets and Numbering is in _____ tab.
☒ (A) Home tab (B) Insert tab
(C) Pagelayout tab (D) View tab
91. To open an existing document, click on the _____ and then select Open.
☒ (A) MS Office button (B) Quick Access Toolbar
(C) Document Views (D) Ribbon
92. Pressing F8 key for three times selects
(A) A word ☒ (B) A sentence
(C) A paragraph (D) Entire document
93. The key F12 opens a
☒ (A) Save As dialog box (B) Open dialog box
(C) Save dialog box (D) Close dialog box

94. Background color or effects applied on a document is not visible in
(A) Web layout view (B) Print Layout view
(C) Reading View ☒ (D) Print Preview
95. What is the default left margin in Word 2003 document?
(A) 1" ☒ (B) 1.25"
(C) 1.5" (D) 2"
96. Which of the following statement is false?
(A) You can set different header footer for even and odd pages
(B) You can set different page number formats for different sections
(C) You can set different header footer for first page of a section
☒ (D) You can set different header and footer for last page of a section
97. Where can you change the vertical alignment?
(A) Formatting toolbar (B) Paragraph dialog box
☒ (C) Page Setup dialog box (D) Standard toolbar
98. Which of the following is not one of the three 'Mail Merge Helper' steps?
(A) Merge the two files (B) Create the main document
☒ (C) Set the mailing list parameters (D) Create the data source
99. Comments can be added to cells using
(A) Edit -> Comments ☒ (B) Insert -> Comment
(C) File -> Comments (D) View -> Comments

100. Which of the following is not a type of page margin?
- (A) Left (B) Right
☒ (C) Center (D) Top
101. Which of the following is the latest version of MS Word?
- (A) Word 2013 (B) Word 2018
☒ (C) Word 2016 (D) Word 2017
102. You can set Page Border in Excel from
- (A) From Border tab in Format Cells dialog box
(B) From Border tool in Formatting toolbar
(C) From Line Style tool in Drawing toolbar
☒ (D) You can not set page border in Excel
103. Which of the following Excel screen components can NOT be turned on or off?
- (A) Formula Bar (B) Status Bar
(C) Tool Bar ☒ (D) None of above
104. Which button do you click to add up a series of numbers?
- ☒ (A) The autosum button (B) The Formula button
(C) The quicktotal button (D) The total button
105. Which area in an excel window allows entering values and formulas
- (A) Title bar (B) Menu bar
☒ (C) Formula bar (D) Standard toolbar

106. Excel files have a default extension of

- ☒ (A) Xls (B) Xlw
(C) Wk1 (D) 123

107. When the formula bar is activated, you can see

- (A) The Edit Formula button (B) The Cancel button
(C) The Enter button ☒ (D) All of above

108. Which of the following is not true about Find and Replace in Excel

- (A) You can search for bold and replace with italics
(B) You can decide whether to look for the whole word or not
(C) You can search in formula too
☒ (D) You can search by rows or columns or sheets

109. Which file format can be added to a PowerPoint show?

- (A) .jpg (B) .giv
(C) .wav ☒ (D) All of the above

110. Which of the following is not one of PowerPoint's views?

- (A) Slide show view (B) Slide view
☒ (C) Presentation view (D) Outline view

111. Which PowerPoint view works best for adding slide transitions?
- (A) Slide show view ☒ (B) Slide sorter view
- (C) Slide view (D) Notes view
112. Which of the following views is the best view to use when setting transition effects for all slides in a presentation?
- ☒ (A) Slide sorter view (B) Notes page view
- (C) Slide view (D) Outline view
113. The quickest way to create a PowerPoint presentation is to use the
- (A) Word for windows templates (B) Auto creation wizard
- ☒ (C) Auto content wizard (D) Presentation wizard
114. To start Microsoft PowerPoint application
- (A) Click on Start >> Programs >> All Programs >> Microsoft PowerPoint
- (B) Hit Ctrl + R then type ppoint.exe and Enter
- ☒ (C) Click Start >> Run then type powerpnt then press Enter
- (D) All of above
115. Which menu provides you options like Animation Scheme, Custom Animation, Slide Transition?
- (A) Insert Menu (B) Format Menu
- (C) Tools Menu ☒ (D) Slide Show Menu

116. To start slide show of a presentation

- (A) Hit F5 key
- (B) From Slide Show menu choose View Show option
- (C) From Slide Show menu choose Rehearse timing
- ☒ (D) Both (A) and (B)

117. In a PowerPoint presentation

- (A) Sound clips can be inserted but not movie clips
- (B) Movie clips can be inserted but not sound clips
- (C) Both cannot be inserted
- ☒ (D) Both can be inserted

118. From which menu you can access Picture, Text Box, Chart etc?

- (A) File
- (B) Edit
- ☒ (C) Insert
- (D) View

119. The slide that is used to introduce a topic and set the tone for the presentation is called the

- (A) table slide
- (B) graph slide
- (C) bullet slide
- ☒ (D) title slide

120. Which of the following should be used when you want to add a slide to an existing presentation?

- (A) File, add a new slide
- ☒ (B) Insert, new slide
- (C) File, open
- (D) File, new

121. The best way to insert a new slide in a presentation is to use the
- (A) Normal view (B) Special view
(C) Slide show view ☒ (D) Slide sorter view
122. In Microsoft PowerPoint two kind of sound effects files that can be added to the presentation are
- ☒ (A) .wav files and .mid files (B) .wav files and .gif files
(C) .wav files and .jpg files (D) .jpg files and .gif files
123. To add a header or footer to your handout, you can use
- (A) The title master (B) The slide master
☒ (C) The handout master (D) All of above
124. Page maker is a _____ software.
- ☒ (A) Desktop Publishing (B) Word Processor
(C) Spread sheet (D) Presentation
125. _____ is at the top of the window and it displays the name of the application.
- (A) Menu bar ☒ (B) Title bar
(C) Tool bar (D) Tool box
126. _____ is displayed below the title bar.
- ☒ (A) Menu bar (B) Title bar
(C) Tool bar (D) Tool box

127. Layout is in _____ bar.

- ☒ (A) Menu bar (B) Title bar
(C) Tool bar (D) Tool box

128. Save option is present in _____ bar.

- (A) Menu bar (B) Title bar
☒ (C) Tool bar (D) Tool box

129. The tool used to select any kind of object on the page is called _____.

- (A) Rotate tool (B) Text tool
☒ (C) Pointer tool (D) Crop tool

130. _____ contains all the tools we need to compose a page.

- (A) Menu bar (B) Title bar
(C) Tool bar ☒ (D) Tool box

131. Clicking on the _____ tool changes the pointer to an insertion point for typing and highlighting text.

- (A) Rotate tool ☒ (B) Text tool
(C) Pointer tool (D) Crop tool

132. _____ tool rotates a text box or image to a desired angle.

- (A) Rotate file (B) Text tool
☒ (C) Rotate tool (D) Crop tool

133. _____ tool is used to reduce or cut image area.

(A) Rotate tool

(B) Text tool

(C) Rotate text

☒ (D) Crop tool

134. _____ tool is used to draw square cornered boxes.

(A) Rotate tool

(B) Text tool

☒ (C) Box tool

(D) Crop tool

135. The tool used to move the entire page on the screen is called _____.

☒ (A) Hand tool

(B) Text tool

(C) Box tool

(D) Crop tool

136. _____ tool is used to change the magnification of the page view.

(A) Hand tool

(B) Text tool

☒ (C) Zoom tool

(D) Crop tool

137. Colors Palette is present in _____ menu.

(A) Menu bar

(B) Title bar

(C) Tool bar

☒ (D) Window menu

138. The default orientation in Pagemaker 7.0 is

☒ (A) Tall

(B) Wide

(C) Broad

(D) Narrow

139. The style is draw a verticle line through the middle of each word is called _____.

(A) Reverse

☒ (B) Strike through

(C) Italic

(D) Normal

140. _____ is the line between two lines of type.

☒ (A) Leading

(B) Tracking

(C) Formatting

(D) Editing

141. Adjusting the space between two consecutive characters is called _____.

(A) Leading

☒ (B) Tracking

(C) Formatting

(D) Editing

142. Paragraph formating options are present in _____ menu.

(A) Menu bar

(B) Title bar

(C) Tool bar

☒ (D) Type menu

143. _____ move the text inward from right and left margins.

☒ (A) Indent

(B) Cut

(C) Spacing

(D) Formatting

144. Which is not an alignment option in Page maker?

(A) Align Left

(B) Justified

(C) Center

☒ (D) Bottom

145. Cut option is present in _____ menu
(A) Menu bar (B) ☒ Edit
(C) Tool bar (D) Type
146. Remove pages option is used in _____ menu.
(A) ☒ Layout (B) Edit
(C) Tool bar (D) Type
147. _____ is used to specify both color and type of fill and line in one operation.
(A) ☒ Fill and stroke (B) Fill
(C) Insert page (D) Force Justify
148. _____ means changing font size.
(A) Leading (B) Tracking
(C) ☒ Scaling (D) Editing
149. _____ button inserted in slides will perform predefined action when you click the button
(A) ☒ Action (B) Find
(C) Justify (D) View
150. The IVRS stands for the
(A) Internet Via Radio Signal
(B) ☒ Interactive Voice Response System
(C) Integrated Voice Recorder System
(D) Internet based Voice Recognition System

SPACE FOR ROUGH WORK

SPACE FOR ROUGH WORK

SPACE FOR ROUGH WORK

SPACE FOR ROUGH WORK

7. Each question has four responses (A) (B) (C) and (D). You have to select ONLY ONE correct answer in the OMR Answer Sheet. In case you feel that there are more than one correct answers, mark only the answer which you consider the most appropriate. In any case, choose ONLY ONE answer for each question. E.g., If for any question, B is the correct answer, you have to shade as follows:

(A) ● (C) (D)

8. The Question Booklet is printed in four series viz., [A] [B] [C] & [D]. The name of the series is printed on the top of the Question Booklet. Mark and shade your correct Question Booklet series [A] / [B] / [C] / [D] carefully in the OMR answer sheet by darkening the appropriate circle without fail. In case of any wrong entry of Booklet series or discrepancy in determining the exact booklet series, then, in all cases your Answer Sheet will be invalidated.
9. You should not remove or tear off any sheet from the Question Booklet. You are not allowed to take the Question Booklet and the Answer Sheet out of the Examination Hall during the time of examination. You are permitted to take the Question Booklet only after the Examination is completed.
10. Do not write anything in the Question Booklet, except in the space provided for Rough work.
11. Failure to comply with any of the above instructions will render you liable for action or penalty as the High Court may decide at their discretion.
12. Using Whitener / Blade / Eraser or any kind of tampering to change the answers on OMR answer sheet will lead to invalidation.
13. PART C is set in both English and Tamil. If there is any inconsistency between English and Tamil version, English version shall prevail.

TYPIST

MHTY 5985

Booklet Series :

A

Booklet No.

15021

Register No.

| | | | | | |
|--|--|--|--|--|--|
| | | | | | |
|--|--|--|--|--|--|

Time : Two Hours

Max Marks: 75

IMPORTANT INSTRUCTIONS TO CANDIDATES

Read the following instructions carefully before you begin to answer the questions.

1. The Candidate will be supplied with Question Booklet 15 minutes before commencement of the examination.
2. This Question Booklet contains 75 objective type questions. Before answering, the candidates are requested to check whether all the questions are in serial order and ensure that there are no blank pages / Questions in the question booklet. In case any defect is noticed, it shall be reported to the Invigilator within first 10 minutes and get it replaced with a new same series Question Booklet. After 10 minutes of the commencement of the examination, it will not be replaced.
3. Each Question carry one mark (No negative mark will be deducted for the wrong answer).
4. You must write your Register Number in the space provided on the top right side of this page without fail. Do not write anything else in the Question Booklet.
5. Personalized OMR Answer Sheets of the Candidates will be supplied by the invigilator for answering the Questions. If the OMR Answer Sheet, is in anyway defective, the same shall be brought to the notice of the Invigilator immediately before shading, so as to supply a spare OMR answer sheet.
6. You must write and shade your Question Booklet number in the space provided in the OMR Answer Sheet without fail with Blue or Black Ball point pen only.

CLICK TO JOIN 150-HOURS FREE CLASS(9626699743)

Er.THANGAMUTHU IPS ACADEMY

[Turn over

SPACE FOR ROUGH WORK

12051

PART A

1. Fill in the blank with a suitable preposition from the options :

The boys jumped ————— the tank.

☒ (A) into

(B) in

(C) over

(D) between

2. Pick the right word for the space in the sentence :

Can I borrow ————— books from the library?

(A) one

(B) all

(C) few

☒ (D) some

3. Pick the word that means "question and argue" :

☒ (A) dispute

(B) reject

(C) deny

(D) refuse

4. Read the passage and choose the best answer for the question below :

"Every day the tide comes in twice and goes out twice, or, as we sometimes say, it rises and falls. The cause of this rising and falling is the attraction of the sun and moon on the oceans of the world".

How do we describe the coming in of the tide?

(A) It enters the land

(B) It falls

☒ (C) It rises

(D) It withdraws

5. Out of the four alternatives, choose the one that can be substituted for the given words/phrase.

A disease that affects a large number of people in an area at the same time

(A) Endemic

☒ (B) Epidemic

(C) Infectious

(D) Contagious

CLICK TO JOIN 150-HOURS FREE CLASS(9626699743)

6. In the question, a set of four words are given, marked A, B, C and D. In each set, a word has been spelt in four different ways. Choose the word correctly spelt.

(A) grammer

(B) gramer

(C) gramar

☒ (D) grammar

7. Answer the following with suitable question tag.

Ravi played hockey, _____?

(A) did he?

☒ (B) didn't he?

(C) does he?

(D) doesn't he?

8. Sherlock Holmes is a

character in fiction (P)

than any other character (Q)

more people (R)

perhaps known to (S)

The proper sequence should be :

☒ (A) PSRQ

(B) QRPS

(C) QSPR

(D) RSQP

9. Read the following passage and choose the best answer for the question below :

"Without a leader, men find it difficult to organize themselves; and without men to support them, even the greatest leaders cannot carry out their plans. It is the combination of leader and people that brings success".

What, according to the passage, brings success?

(A) leader

(B) people who support a leader

☒ (C) combination of people and a leader

(D) the greatest leaders

10. Choose the right word for the space in the sentence :

I have ears, so I _____ hear.

(A) will

(B) could

☒ (C) can

(D) shall

11. Pick the correct passive voice sentence for the following :

She wrote a letter.

- ☒ (A) A letter was written by her
(B) A letter had been written by her
(C) A letter has been written by her
(D) A letter is written by her

12. Fill in the blank with a suitable preposition :

She was playing ————— the evening.

- (A) at (B) for
☒ (C) in (D) before

13. Supply the missing link for the following sentence :

The book ————— I bought is missing.

- ☒ (A) which (B) where
(C) how (D) when

14. Pick the word that best describes a person of gentle nature :

- (A) merciful (B) respectful
☒ (C) kind (D) virtuous

15. Choose the correction for the word in italics in the sentence :

He *had* his dinner when the guests came in.

- ☒ (A) was having (B) has
(C) is having (D) will have

CLICK TO JOIN 150-HOURS FREE CLASS(9626699743)

A Er.THANGAMUTHU IPS ACADEMY

**MHTY 5985
[Turn over**

16. Choose the option that best describes the condition of the person in the sentence :

He climbed the wall and sat there breathing heavily.

- ☒ (A) exhaustion (B) hopelessness
(C) excitement (D) weakness

17. Choose the correct verb form of 'walk' for the space in the sentence :

_____ is a good exercise.

- ☒ (A) Walking (B) To walk
(C) To have walked (D) To be walking

18. Say which one of these explanations is correct :

- ☒ (A) A washing machine is one that washes clothes
(B) A dancing master is one who dances
(C) A walking stick is one that walks
(D) A dining hall is one that dines

19. Read the following sentences and choose the best question form for them :

My purse must be in the train. I must have dropped it there.

- ☒ (A) Could I have dropped it there?
(B) Couldn't I have dropped it there?
(C) Must I have dropped it there?
(D) Mustn't I have dropped it there?

20. Choose one word from the options for the words in italics :

He has been *doing nothing* all morning.

- ☒ (A) idle (B) lazy
(C) wasting (D) lethargic

21. Choose the alternative that is closest in meaning to the word in capitals.

IMAGINARY

- (A) realistic (B) bleak
(C) trance ☒ (D) dreamy

22. Choose the alternative that is closest in meaning to the word in capitals.

FASTEN

- ☒ (A) affix (B) untie
(C) holder (D) thin

23. Pick the right word for the space in the sentence :

A group of boys _____ library regularly.

- (A) are visiting ☒ (B) is visiting
(C) visits (D) visiting

24. _____ Kishore go temple daily?

- (A) Do (B) Will
(C) Can ☒ (D) Does

25. I agree _____ your opinion.

- ☒ (A) with (B) for
(C) to (D) of

CLICK TO JOIN 150-HOURS FREE CLASS(9626699743)

A

Er.THANGAMUTHU IPS ACADEMY

MHTY 5985
[Turn over]

PART B

26. தாய்லாந்து மன்னர் முடிகூட்டுகையில் பாடப்பெறும் தமிழ்ப்பாடல்
☒ (A) திருவெம்பாவை (B) திருக்குறள்
 (C) திருக்கோவை (D) திருமாலை
27. 'சொல்லின் செல்வன்' எனப் பாராட்டப்பெறும் கம்பராமாயணக் கதை மாந்தர்
 (A) வீடணன் (B) அங்கதன்
☒ (C) அனுமன் (D) ராமன்
28. சாகித்ய அகாடமி விருது பெற்ற கவிஞர் அப்துல் ரகுமானின் படைப்பு
 (A) நேயர் விருப்பம் (B) பால்வீதி
 (C) முட்டைவாசிகள் ☒ (D) ஆலாபனை
29. கோவலன் கண்ணகியுடன் மதுரை சென்றவர்
 (A) தேவந்தி (B) ஐயை
 (C) மாதரி ☒ (D) கவுந்தி
30. தமிழ்ச் சிறுகதை மன்னன்
 (A) கு.ப.ரா. (B) கல்கி
☒ (C) ஜெயகாந்தன் (D) மௌனி
31. ஆசிய சோதி யாருடைய வரலாற்றை எடுத்துரைக்கின்றது?
 (A) காந்தியடிகள் (B) ஜவஹர்லால் நேரு
☒ (C) கௌதம புத்தர் (D) ஆதிசங்கரர்
32. நீதிநெறி விளக்கத்தின் ஆசிரியர்
 (A) ஒளவையார் ☒ (B) குமரகுருபரர்
 (C) சிவப்பிரகாசர் (D) அதிவீரராமர்
33. தமிழ்த் தென்றல் எனப்பாராட்டப் பெறுபவர்
 (A) வ.சுப. மாணிக்கம் (B) இரா.பி. சேதுப்பிள்ளை
 (C) மு.வரதராசன் ☒ (D) திரு.வி.க

34. உலகளாவிய செம்மொழிகள்
☒ (A) தமிழ், சமஸ்கிருதம், சீனம், எப்பிராயம்
 (B) தமிழ், லத்தீன், செருமானியம், ஆங்கிலம்
 (C) தமிழ், உருது, கிரேக்கம், சீனம்
 (D) தமிழ், சமஸ்கிருதம், தெலுங்கு, பிரெஞ்சு
35. நெடுந்தொகை எனப்படும் எட்டுத்தொகை நூல்
 (A) பழமொழி நானூறு (B) நற்றிணை நானூறு
 (C) புறநானூறு ☒ (D) அகநானூறு
36. 'ஒன்றே குலமும் ஒருவனே தேவனும்' என்று மொழிந்தவர்
 (A) அறிஞர் அண்ணாதுரை (B) திரு.வி.க
☒ (C) திருமூலர் (D) திருவள்ளுவர்
37. பொருத்தமான இணையைத் தேர்வு செய்க
 (A) தேசியம் காத்த செம்மல் - பெருஞ்சித்திரனார்
☒ (B) வங்கச் சிங்கம் - நேதாஜி
 (C) மராட்டிய வீரர் - ம.பொ.சி
 (D) பாவலேறு - திலகர்
38. நெல் குத்தும் போது பாடப்படும் பாடல்
 (A) குத்துப்பாட்டு (B) கூத்துப்பாட்டு
 (C) கும்மிப்பாட்டு ☒ (D) வள்ளைப்பாட்டு
39. 'முதற்றே உலகு' எனும் முடியும் குறளில் 'உலகு' என்பதின் வாய்பாடு
 (A) நாள் (B) மலர்
 (C) காசு ☒ (D) பிறப்பு
40. பாகற்காய் என்பதை பிரித்து எழுதினால்
 (A) பாகல்+காய் ☒ (B) பாகு+அல்+காய்
 (C) பா+கல்+காய் (D) பாகம்+காய்

CLICK TO JOIN 150-HOURS FREE CLASS(9626699743)

A

Er.THANGAMUTHU IPS ACADEMY

MHTY 5985
[Turn over]

PART C

41. Factor needed for blood clotting function:

- (A) Vitamin K ✓ (B) Calcium
(C) Iron (D) All the above ✓

இரத்தம் உறைவதற்கு தேவைப்படுவது

- (A) விட்டமின் கே (B) கால்சியம்
(C) அயர்ன் (D) மேலே கண்ட அனைத்தும்

42. Dengue fever is caused by

- (A) Plasmodium vivax (B) Aedes aegypti ✓
(C) Plasmodium falciparum (D) Aedes albopictas

டெங்கு காய்ச்சல் எதனால் ஏற்படுகிறது?

- (A) பிளாஸ்மோடியம் விவாக்ஸ் (B) ஏடெஸ் ஏகிப்தி
(C) பிளாஸ்மோடியம் ஃபால்சிபரம் (D) ஏடெஸ் அல்போபிக்டாஸ்

43. Sewage containing organic waste should not be disposed in water bodies because it causes major water pollution. Fishes in such a polluted water die because of:

- (A) Large number of mosquitoes
(B) Increase in the amount of dissolved oxygen
(C) Decrease in the amount of dissolved oxygen in water ✓
(D) Clogging of gills by mud

இராசயணக் கழிவு கலந்த சாக்கடை கழிவுநீரை நீர் நிலைகளில் விடக்கூடாது. ஏனெனில் அது நீரில் பெரிய அளவு மாசு ஏற்படுத்தும். மாசுப்பட்ட அத்தகைய நீரில் உள்ள மீன்கள் இறந்துவிடும். ஏனெனில்

- (A) அதிக அளவு கொசுக்கள் இருக்கும்
(B) கரைந்த ஆக்ஸிஜனின் அளவு அதிகரிக்கும்
(C) தண்ணீரில் கரைந்த ஆக்ஸிஜனின் அளவு குறையும்
(D) சேற்றால் மீன்களின் செவுள்கள் அடைக்கப்படும்

CLICK TO JOIN 150-HOURS FREE CLASS(9626699743)

MHTY 5985 Er.THANGAMUTHU IPS ACADEMY

44. How much electrical energy in kilowatt hour is consumed in operating ten 60W bulbs for 10 hours per day in a month of 30 days?

- (A) 1800 (B) 18
(C) 18,000 (D) 180

நாள் ஒன்றுக்கு 10 மணிநேரம் 10 எண்ணிக்கை உள்ள 60 வாட்ஸ் பல்புகளை 30 நாட்களுக்கு எரிய விட்டால் எவ்வளவு கிலோவாட் ஹவர் மின் சக்தி தேவைப்படும்?

- (A) 1800 (B) 18
(C) 18,000 (D) 180

45. Decibel is

- (A) A musical instrument (B) Musical note
(C) A measure of sound level (D) Wavelength of noise

டெசிபல் என்பது

- (A) ஒரு இசைக் கருவி (B) இசைக் குறிப்பு
(C) ஒலியின் அளவுகோல் (D) இரைச்சலின் அலை நீளம்

46. The ozone layer forms naturally by

- (A) the interaction of CFC with oxygen
(B) the interaction of UV radiation with oxygen
(C) the interaction of IR radiation with oxygen
(D) the interaction of oxygen and water vapour

ஒசோன் படலம் இயற்கையாக எப்படி ஏற்படுகிறது?

- (A) ஆக்ஸிஜனுடன் சிஎப்சி சேர்வதால் ஏற்படுகிறது
(B) ஆக்ஸிஜனுடன் யுவி ரேடியேசன் சேர்வதால் ஏற்படுகிறது
(C) ஆக்ஸிஜனுடன் ஐஆர் ரேடியேசன் சேர்வதால் ஏற்படுகிறது
(D) ஆக்ஸிஜனும், நீராவியும் சேர்வதால் ஏற்படுகிறது

[CLICK TO JOIN 150-HOURS FREE CLASS\(9626699743\)](https://www.thangamuthuipsacademy.com)

A

Er.THANGAMUTHU IPS ACADEMY

MHTY 5985
[Turn over

47. Dalda is prepared from oils by

- (A) oxidation (B) ☒ reduction
(C) hydrolysis (D) distillation

எண்ணெயிலிருந்து டால்டா ————— மூலம் தயாரிக்கப்படுகிறது.

- (A) ஆக்சிஜனேற்றம் (B) குறைப்பு
(C) நீர்ப்பகுப்பு (D) வடித்தல்

48. When an iron nail gets rusted, iron oxide is formed

- (A) without any change in the weight of the nail
(B) with decrease in the weight of the nail
(C) ☒ with increase in the weight of the nail
(D) without any change in colour and weight of the nail.

ஒரு இரும்பு ஆணி துருப்பிடிக்கும் போது, அதில் இரும்பு ஆக்ஸைடு

- (A) ஆணியின் எடையில் எவ்வித மாற்றமும் இல்லாமல் உருவாகும்
(B) ஆணியின் எடைக் குறைவுடன் உருவாகும்
(C) ஆணியின் எடை அதிகரிப்புடன் உருவாகும்
(D) ஆணியின் எடையிலோ, நிறத்திலோ எந்த மாற்றமும் இல்லாமல் உருவாகும்

49. We use hydrometer to check the condition of electroloite in the car battery. It is actually measuring the _____ property of the fluid?

- (A) Charge (B) ☒ Density
(C) Temperature (D) Surface tension

கார் பாட்டரியில் உள்ள எலக்ட்ரோலாயிட்டினை சரிபார்க்க ஹைட்ரோ மீட்டரை (நீர் அடர்த்தி மானியை) நாம் பயன்படுத்துகிறோம். அக்கருவி திரவத்தில் உள்ள _____ ஐ அளவிடுகிறது.

- (A) சார்ஜ் (B) அடர்த்தி
(C) வெப்பம் (D) மேற்பரப்பு தோற்றம்

50. A block of wood is floating on water. If the same is pushed down on the top of the block until it is completely submerged, the buoyant force on it

- ☒ (A) increases
(B) decreases
(C) remains the same
(D) depends on how far beneath the water surface it is pushed

ஒரு மரக்கற்றை நீரின் மேல் மிதந்து கொண்டிருக்கிறது. அக்கற்றையின் மேற்பரப்பை அக்கற்றை முழுவதுமாக நீரில் மூழ்கும்படி கீழே அழுத்தினால், அதன் மிதக்கும் விசை

- (A) அதிகரிக்கும்
(B) குறையும்
(C) மாறாமல் இருக்கும்
(D) அதன் மிதக்கும் விசை, தண்ணீரின் மேற்பரப்புக்கு கீழே எவ்வளவு தூரம் அழுத்தியிருக்கிறோம் என்பதை பொருத்து இருக்கும்

51. Stock exchanges deal in

- (A) Goods (B) Services
☒ (C) Financial Securities (D) Country's Currency

கீழ்க்கண்டவற்றில் எதில் பங்கு சந்தை பரிவர்த்தனை இருக்கும்?

- (A) சரக்குகள் (B) சேவைகள்
(C) நிதி பத்திரங்கள் (D) நாட்டின் நாணயம்

52. A cheque will become stale after _____ months of its date.

- ☒ (A) 3 (B) 4
(C) 5 (D) 6

ஒரு காசோலை எத்தனை மாதத்திற்கு பின் காலாவதி ஆகும்?

- (A) 3 (B) 4
(C) 5 (D) 6

[CLICK TO JOIN 150-HOURS FREE CLASS\(9626699743\)](https://www.youtube.com/watch?v=9626699743)

A

Er.THANGAMUTHU IPS ACADEMY

MHTY 5985
[Turn over

53. The data collected by questionnaires are . . .

- ☒ (A) Primary data (B) Secondary data
(C) Published data (D) Grouped data

கேள்வித்தாள் மூலம் சேகரிக்கப்படும் புள்ளி விவரம் (டேட்டா)

- (A) முதன்மை விவரம் (B) இரண்டாம் நிலை விவரம்
(C) வெளியிடப்பட்ட விவரம் (D) தொகுக்கப்பட்ட விவரம்

54. What do you mean by the term 'Lockout' ?

- (A) A key for a lock lost
(B) The factory is closed once and for all
☒ (C) The factory is closed by the employer to force the workers to accept the imposed terms
(D) None of the above

“கதவடைப்பு” என்றால் என்ன?

- (A) தொலைந்து போன ஒரு பூட்டுக்கான சாவி
(B) நிரந்தரமாக ஒரு தொழிற்சாலையை மூடிவிடுவது
(C) விதிக்கப்பட்ட நிபந்தனைகளை ஏற்றுக்கொள்ளும்படி தொழிலாளிகளை கட்டாயப்படுத்துவதற்கு முதலாளியால் தொழிற்சாலை மூடப்படுவது
(D) மேலே கண்ட எதுவும் இல்லை

55. Patents, Copy Rights and Trademarks represent :

- (A) current asset (B) fixed asset
(C) investments ☒ (D) intangible assets

காப்புரிமை, பதிப்புரிமை மற்றும் முத்திரை (ட்ரேட் மார்க்) எதைக் குறிக்கும்?

- (A) நடப்பு சொத்து (B) நிரந்தர சொத்து
(C) மூலதனம் (D) புலனாகாத சொத்து

56. POCSO Act (Protection of Children from Sexual Offences), special law has been passed to address the issue of sexual offences against children.

Which of the following statements are correct?

It is a comprehensive law:

1. To provide for the protection of children From the offences of sexual assault, sexual harassment and pornography
2. To safeguard the interests of the child at every stage of the judicial process.
3. For the proper development of the child in view of his/her protection of the right to privacy and confidentiality

(A) Statements 1 and 2 are true

(B) Statements 1 and 3 are true

(C) Statements 2 and 3 are true

☒ (D) Statements 1, 2 and 3 are true

குழந்தைகளுக்கெதிரான பாலியல் குற்றங்களுக்கு தீர்வு காணும் வகையில் பாலியல் குற்றங்களிலிருந்து குழந்தைகளை பாதுகாக்கும் சட்டம் (POCSO) இயற்றப்பட்டது. கீழ்க்கண்ட கூற்றுகளில் எது சரியானவை?

1. பாலியல் தாக்குதல், பாலியல் தொந்தரவு மற்றும் போர்னோகிராபி போன்ற குற்றங்களிலிருந்து குழந்தைகளை பாதுகாப்பதற்குமான விரிவான சட்டம் ஆகும்.
2. நீதிமன்ற நடவடிக்கையின் ஒவ்வொரு கட்டத்திலும் குழந்தையின் நலனை இச்சட்டம் பாதுகாக்கும்.
3. குழந்தையின் தனியுரிமை மற்றும் ரகசியத் தன்மைக்கான உரிமையின் அடிப்படையில் குழந்தையின் உரிமையை இச்சட்டம் வளர்ச்சியடையச் செய்கிறது.

(A) 1 மற்றும் 2 கூற்றுகள் சரியானவை

(B) 1 மற்றும் 3 கூற்றுகள் சரியானவை

(C) 2 மற்றும் 3 கூற்றுகள் சரியானவை

(D) 1 முதல் 3 கூற்றுகள் சரியானவை

[CLICK TO JOIN 150-HOURS FREE CLASS\(9626699743\)](https://www.thangamuthuipsacademy.com)

A

Er.THANGAMUTHU IPS ACADEMY

MHTY 5985
[Turn over]

57. Assertion (A) : V.O. Chidambaram established a Swadeshi Steam Navigation Company.

Reason (R): He wanted to oppose the monopoly of the British in navigation through the coast

- ☒ (A) (A) and (R) are true and (R) is the correct explanation of (A)
(B) (A) and (R) are true and (R) is not the correct explanation of (A)
(C) (A) is correct and (R) is wrong Codes
(D) (A) is wrong and (R) is correct

கூற்று (A) : வ.உ. சிதம்பரம் சுதேசிய கப்பல் நிறுவனத்தை ஆரம்பித்தார்.

காரணம் (R) : ஆங்கிலேயரின் கடல்வழி பயணத்திற்கான ஏகபோக பிரத்யேக உரிமையை சிதம்பரனார் எதிர்த்தார்.

கீழ்க்கண்டவற்றில் எது சரியானவை?

- (A) (A) மற்றும் (R) சரியானவை. (R) என்பது (A)க்கான சரியான விளக்கம் ஆகும்.
(B) (A) மற்றும் (R) சரியானவை. ஆனால் (R) என்பது (A)க்கான சரியான விளக்கம் இல்லை.
(C) (A) சரியானவை, (R) தவறானது.
(D) (A) தவறானது, (R) சரியானவை.

58. Adolescence is also known as

- ☒ (A) Teenage (B) Middle age
(C) Both (A) and (B) (D) None of these

இளம்பிராயம் (Adolescence) என்பது

- (A) டீன் ஏஜ் (B) நடுத்தர வயது
(C) (A) மற்றும் (B) (D) மேலே கண்ட எதுவும் இல்லை

[CLICK TO JOIN 150-HOURS FREE CLASS\(9626699743\)](https://www.thangamuthuipsacademy.com)

MHTY 5985 Er.THANGAMUTHU IPS ACADEMY

A

59. Consider the following statements regarding the geological phenomenon Tsunami?

1. Tsunami waves have longer wave lengths and hence difficult to discover from off shore.
2. Tsunami waves are majorly generated due to earthquakes on oceanic crust.

Choose the correct answer:

- (A) Only 1 (B) Only 2
(C) Both (1) and (2) (D) None of the above

சுனாமி பற்றிய கீழ்க்கண்ட கூற்றுக்களை கவனிக்கவும்.

1. சுனாமி அலைகள் நீளமான அலைகளைக் கொண்டது. ஆகவே அதை கடலுக்கு வெளியேயிருந்து கண்டுபிடிப்பது கடினம்.
2. கடலுக்கு அடியில் ஏற்படும் நில நடுக்கத்தால் பெரும்பாலும் சுனாமி அலைகள் எழுகிறது.

மேற்க்கண்டவற்றில் எது சரியானவை:

- (A) 1 மட்டும் சரி (B) 2 மட்டும் சரி
(C) 1 மற்றும் 2 ம் சரி (D) மேலே கண்ட எதுவும் இல்லை

60. Which among the following has been enlisted as a fundamental duty in the constitution?

- (A) To cherish and follow the noble ideals which inspired the freedom struggle in India
(B) To defend the country and render national service when called upon to do so
(C) To protect and improve the natural environment
(D) All the above

இந்திய அரசியலமைப்பு சட்டத்தில் கீழ்க்கண்டவற்றில் எது அடிப்படைக் கடமைகளில் இருக்கிறது?

- (A) இந்திய விடுதலைப் போராட்டத்தை ஊக்குவித்த சீரிய கொள்கைகளை போற்றிப் பாதுகாத்து பேணிக் கொள்வது
(B) அழைக்கும்போது நாட்டைப் பாதுகாப்பது மற்றும் நாட்டுக்கு சேவை செய்வது
(C) இயற்கை சுற்றுப்புற சூழலை பாதுகாப்பது மற்றும் வளர்ச்சியடையச் செய்வது
(D) மேலே கண்ட அனைத்தும்

CLICK TO JOIN 150-HOURS FREE CLASS(9626699743)

Er.THANGAMUTHU IPS ACADEMY

MHTY 5985

[Turn over

61. Wifi is a short name for

(A) Wired fidelity

(C) Wireless frequency

☒ (B) Wireless fidelity

(D) None of the above

‘வைபை’ என்பது எதன் சுருக்கம்

(A) வயர்டு பிடுலிட்டி

(C) வயர்லெஸ் ப்ரீகொயன்சி

(B) வயர்லெஸ் பிடுலிட்டி

(D) மேலே கண்ட எதுவும் இல்லை

62. One Mega Byte is equal to?

☒ (A) 1024 Kilo Bytes

(C) 1024 Bytes

(B) 1024 Giga Bytes

(D) 1054 Bits

ஒரு மெகா பைட் என்பது

(A) 1024 கிலோ பைட்ஸ்

(C) 1024 பைட்ஸ்

(B) 1024 ஜிகா பைட்ஸ்

(D) 1054 பிட்ஸ்

63. E-mail message can be protected by

(A) Mirroring

☒ (B) Encryption

(B) Caching

(D) Resending

இ-மெயிலை எதனால் பாதுகாக்க முடியும்?

(A) மிர்ரரிங்

(C) என்கிரிப்சன்

(B) கேச்சிங்

(D) ரீசென்டிங்

64. Who invented the Doctor's thermometer?

(A) Fahrenheit

☒ (B) Galileo

(B) Edison

(D) Darwin

மருத்துவரின் தெர்மா மீட்டரை கண்டுபிடித்தவர் யார்?

(A) பாரன்ஹீட்

(C) கலிலியோ

(B) எடிசன்

(D) டார்வின்

65. AGMARK Act came into force in India in

- ☒ (A) 1937 (B) 1957
(C) 1947 (D) 1967

அக்மார்க் சட்டம் இந்தியாவில் எப்போது அமலுக்கு வந்தது?

- (A) 1937 (B) 1957
(C) 1947 (D) 1967

66. Nuclear reactors that are used to produce electricity are based on

- (A) Nuclear Fusion ☒ (B) Nuclear Fission
(C) Cold Fusion (D) Super conductivity

கீழ்க்கண்டவற்றில் எதன் அடிப்படையில் அணு உலையில் மின்சாரம் தயாரிக்கப்படுகிறது?

- (A) அணு இணைப்பு (B) அணுப் பிளப்பு
(C) குளிர் இணைப்பு (D) எளிதிற் கடத்தி

67. The tri-colour flag was first hoisted on

- (A) 31st January, 1928 ☒ (B) 31st December, 1929
(C) 26th January, 1950 (D) 15th August, 1947

மூவர்க்கொடி முதன் முதலில் எப்போது ஏற்றப்பட்டது?

- (A) 1928 ஜனவரி 31 (B) 1929 டிசம்பர் 31
(C) 1950 ஜனவரி 26 (D) 1947 ஆகஸ்டு 15

68. First Visually Impaired I.A.S., officer in India is

- (A) Narendar Patil ☒ (B) Pranjal Patil
(C) Sujitha Patil (D) Amirtha Patil

இந்தியாவில் கண் பார்வை அற்ற முதல் ஐ.ஏ.எஸ் அதிகாரி

- (A) நரேந்தர் பட்டில் (B) பிரஞ்சால் பட்டில்
(C) சுஜிதா பட்டில் (D) அமிர்தா பட்டில்

CLICK TO JOIN 150-HOURS FREE CLASS(9626699743)

A

Er.THANGAMUTHU IPS ACADEMY

MHTY 5985

[Turn over

69. A question paper consists of 100 questions. Two marks are awarded for every correct option. If one mark is deducted for every wrong option and half mark is deducted for every question left, then a person scores 135. Instead, if half mark is deducted for every wrong option and one mark is deducted for every question left, then the person scores 133. Find the number of questions left unattempted by the person.

☒ (A) 14

(B) 16

(C) 10

(D) 12

ஒரு வினாத்தாளில் 100 கேள்விகள் இருக்கிறது. ஒவ்வொரு சரியான விடைக்கும் 2 மதிப்பெண்கள் வழங்கப்படுகிறது. ஒவ்வொரு தவறான விடைக்கு 1 மதிப்பெண்ணும், விடையளிக்காத ஒவ்வொரு வினாவுக்கும் $1/2$ மதிப்பெண்ணும் குறைக்கப்பட்டால், ஒரு நபர் 135 மதிப்பெண்கள் பெறுகிறார். அதற்கு பதில், ஒவ்வொரு தவறான விடைக்கு $1/2$ மதிப்பெண்ணும், விடையளிக்காத ஒவ்வொரு வினாவுக்கும் 1 மதிப்பெண்ணும் குறைக்கப்பட்டால் அந்த நபர் 133 மதிப்பெண்கள் பெறுகிறார். அந்த நபரால் விடையளிக்காத வினாக்கள் எவ்வளவு என்று கண்டுபிடிக்கவும்.

(A) 14

(B) 16

(C) 10

(D) 12

70. Pythagoras Theorem is applicable to

(A) Equilateral triangle

(B) Isosceles triangle

☒ (C) Right angled triangle

(D) All the above

பிதாகரஸ் தேற்றம் கீழ்க்கண்டவற்றில் எதற்கு பொருந்தும்?

(A) சமபக்க முக்கோணம்

(B) அசம பக்க முக்கோணம்

(C) வலது கோண முக்கோணம்

(D) மேலே கண்ட அனைத்தும்

71. You are appearing for your graduate examination and you find the question paper not only difficult but lengthy as well you would

- (A) Protest and leave the examination hall
- (B) Ask the other examinees to agitate in the examination hall
- ☒ (C) Answer as many question as possible
- (D) Write a protest letter and answer the paper

நீங்கள் பட்டப் படிப்புக்கான தேர்வு எழுதச் செல்கிறீர்கள். வினாத்தாள் கடினமானதோடு மட்டும் அல்லாமல் கேள்விகள் நீளமானதாகவும் உள்ளது. நீங்கள்

- (A) ஆட்சேபனை செய்து தேர்வு அறையை விட்டு வெளியே செல்வீர்கள்
- (B) தேர்வு எழுதும் மற்ற நபர்களையும் தேர்வு அறையில் ஆட்சேபனை செய்யும்படி கோருவீர்கள்
- (C) முடிந்தவரை அதிக வினாக்களுக்கு விடையளிப்பீர்கள்
- (D) ஒரு ஆட்சேபனை கடிதத்தை எழுதிவிட்டு வினாக்களுக்கு விடையளிப்பீர்கள்

72. Select odd one

- (A) Star
- (B) Sun
- (C) Moon
- ☒ (D) Universe

விநோதமான ஒன்றை தேர்வு செய்க

- (A) நட்சத்திரம்
- (B) சூரியன்
- (C) சந்திரன்
- (D) பிரபஞ்சம்

73. Pointing to a photograph, Suresh said, "She is the daughter of my grandfather's only son." How is Suresh related to the girl in the photograph?

- (A) Father
- ☒ (B) Brother
- (C) Cousin
- (D) Uncle

ஒரு புகைப்படத்தைக் காட்டி, அவள் என் தாத்தாவின் ஒரே மகனின் மகள் என்று சுரேஷ் கூறினார். புகைப்படத்தில் உள்ள அந்த பெண்ணுக்கு சுரேஷ் என்பவர் என்ன உறவு முறை?

- (A) தந்தை
- (B) சகோதரர்
- (C) ஒன்றுவிட்ட சகோதரர்
- (D) மாமா

CLICK TO JOIN 150-HOURS FREE CLASS(9626699743)

A

Er.THANGAMUTHU IPS ACADEMY

21

MHTY 5985
[Turn over

74. Statement: A large number of people in ward X of the city are diagnosed to be suffering from a fatal malaria type.

Courses of Action:

- I. The city municipal authority should take immediate steps to carry out extensive fumigation in ward X.
- II. The people in the area should be advised to take steps to avoid mosquito bites.

- (A) Only I follows
- (B) Only II follows
- (C) Neither I nor II follows
- ☒ (D) Both I and II follow

கூற்று : ஒரு நகரத்தில் 10 வது வார்டில் உள்ள அதிக மக்கள் மலேரியா காய்ச்சலால் பாதிக்கப்பட்டுள்ளதாக கண்டறியப்படுகிறது.

தொடர் நடவடிக்கை :

- I. நகராட்சி 10 வது வார்டை புகைபோட்டு சுத்தம் செய்ய உடனடியாக நடவடிக்கை எடுக்க வேண்டும்.
- II. அப்பகுதியில் உள்ள மக்கள் தங்களை கொசு கடிக்காமல் இருக்க நடவடிக்கை எடுக்கும்படி மக்களுக்கு அறிவுரை வழங்க வேண்டும்.

- (A) I மட்டும் பின்பற்ற வேண்டும்
- (B) II மட்டும் பின்பற்ற வேண்டும்
- (C) I அல்லது II பின்பற்ற வேண்டியதில்லை
- (D) I மற்றும் II பின்பற்ற வேண்டும்

75. If white is called blue, blue is called red, red is called yellow, yellow is called green, green is called black, black is called violet and violet is called orange, what would be the colour of human blood?

- (A) Red
- ☒ (B) Green
- (C) Yellow
- (D) Violet

வெள்ளை நிறத்தை நீலம் என்றும், நீல நிறத்தை சிவப்பு என்றும், சிவப்பு நிறத்தை மஞ்சள் என்றும், மஞ்சள் நிறத்தை பச்சை என்றும், பச்சை நிறத்தை கறுப்பு என்றும், கறுப்பு நிறத்தை ஊதா என்றும், ஊதா நிறத்தை ஆரஞ்சு என்றும், அழைத்தால் மனித இரத்தம் எந்த நிறமாக இருக்கும்?

- (A) சிவப்பு
- (B) பச்சை
- (C) மஞ்சள்
- (D) ஊதா

SPACE FOR ROUGH WORK

CLICK TO JOIN 150-HOURS FREE CLASS(9626699743)

A

Er.THANGAMUTHU

23

IPS ACADEMY

MHTY 5985

[Turn over

7. Each question has four responses (A) (B) (C) and (D). You have to select ONLY ONE correct answer in the OMR Answer Sheet. In case you feel that there are more than one correct answers, mark only the answer which you consider the most appropriate. In any case, choose ONLY ONE answer for each question. E.g., If for any question, B is the correct answer, you have to shade as follows:

(A) ● (C) (D)

8. The Question Booklet is printed in four series viz., [A] [B] [C] & [D]. The name of the series is printed on the top of the Question Booklet. Mark and shade your correct Question Booklet series [A] / [B] / [C] / [D] carefully in the OMR answer sheet by darkening the appropriate circle without fail. In case of any wrong entry of Booklet series or discrepancy in determining the exact booklet series, then, in all cases your Answer Sheet will be invalidated.
9. You should not remove or tear off any sheet from the Question Booklet. You are not allowed to take the Question Booklet and the Answer Sheet out of the Examination Hall during the time of examination. You are permitted to take the Question Booklet only after the Examination is completed.
10. Do not write anything in the Question Booklet, except in the space provided for Rough work.
11. Failure to comply with any of the above instructions will render you liable for action or penalty as the High Court may decide at their discretion.
12. Using Whitener / Blade / Eraser or any kind of tampering to change the answers on OMR answer sheet will lead to invalidation.
13. PART C is set in both English and Tamil. If there is any inconsistency between English and Tamil version, English version shall prevail.

PROPOSED KEY ANSWERS FOR THE COMMON WRITTEN
EXAMINATION CONDUCTED FOR THE POST OF
‘ASSISTANT, READER/EXAMINER AND XEROX OPERATOR’
(Notification No.127/ 2019)

The proposed key answers, marked in the Question Booklet (A-Series), for the common written examination conducted for the posts of Assistant, Reader/Examiner and Xerox Operator on 22.09.2019 F.N. (Sunday) are hosted herewith.

Any objection with regard to any of the proposed key answer should be sent by the candidates to the Registrar (Recruitment), High Court, Madras, by e-mail (recruitment.mhc@gov.in) within two days from today. In such communication, Registration Number, Name and address of the candidate, Question Number and answer for such question, according to the candidate, with supporting material for such claim should invariable be quoted. Any representation received after two days or without any of the above requisite particulars will receive no attention.

Dated: 24.09.2019.
Place: Chennai.

Sd/xxx
Registrar (Recruitment).

CLICK TO JOIN 150-HOURS FREE CLASS(9626699743)
Er.THANGAMUTHU IPS ACADEMY

AREX255

Booklet Series : **A**

Booklet No. **424889**

Register No.

| | | | | | |
|--|--|--|--|--|--|
| | | | | | |
|--|--|--|--|--|--|

Time : Two Hours

Max Marks: 100

IMPORTANT INSTRUCTIONS TO CANDIDATES

Read the following instructions carefully before you begin to answer the questions.

1. The Candidate will be supplied with Question Booklet 15 minutes before commencement of the examination.
2. This Question Booklet contains 100 objective type questions. Before answering, the candidates are requested to check whether all the questions are in serial and ensure that there are no blank pages / Questions in the question booklet. In case any defect is noticed, it shall be reported to the Invigilator within first 10 minutes and get it replaced with a new same series Question Booklet. After 10 minutes of the commencement of the examination, it will not be replaced.
3. Each Question carry one mark (No negative mark).
4. You must write your Register Number in the space provided on the top right side of this page without fail. Do not write anything else in the Question Booklet.
5. Personalized OMR Answer Sheets of the Candidates will be supplied by the invigilator for answering the Questions. If the OMR Answer Sheet, is in anyway defective, the same shall be brought to the notice of the Invigilator immediately before shading, so as to supply a spare OMR answer sheet.
6. You must write and shade your Question Booklet number in the space provided in the OMR Answer Sheet without fail with Blue or Black Ball point pen only.

CLICK TO JOIN 150-HOURS FREE CLASS(9626699743)
Er.THANGAMUTHU IPS ACADEMY

[Turn over

SEAL

SPACE FOR ROUGH WORK

2884SA

CLICK TO JOIN 150-HOURS FREE CLASS(9626699743)
Er.THANGAMUTHU IPS ACADEMY

AREX285

2

A

PART A

1. Choose the verb for the space to express the given meaning:
You _____ type ten pages in two hours. (ability)
(A) ☒ can (B) may
(C) must (D) would

2. Choose the best option for changing the following into indirect speech:
"Do you know why he is sad?"
She asked me whether
(A) I know why he is sad (B) You know why he was sad
(C) ☒ I knew why he was sad (D) Did I know why he was sad

3. Read the following and pick the best question form from the options :
The guests may arrive now.
(A) May the guests arrive now?
(B) Will the guests arrive now?
(C) ☒ Are the guests likely to arrive now?
(D) Will the guests not arrive now?

4. Choose the correct grammatical label for the word 'inhuman':
(A) ☒ adjective (B) noun
(C) verb (D) prefix

5. Pick the appropriate phrase for the space in the sentence:
There are a few benches _____ the hall.
(A) ☒ in front of (B) by the side of
(C) along with (D) apart from

6. Pick a more suitable word from the options for the word in italics:
He *damaged* his foot.
- (A) ☒ injured (B) harmed
(C) lamed (D) crippled
7. From the given options, choose the one that is nearest in meaning to the given word.
Hinder
- (A) Help (B) ☒ Impede
(C) Bother (D) Control
8. From the given options, choose the one that is farthest in meaning to the given word.
Discrete
- (A) Shrewd (B) Stupid
(C) Unkempt (D) ☒ Composure
9. A related word is given. Now from the given options, choose the word(s) the best completes the relationship similar to that in the given pair
e.g: Fox: Cunning. _____ : _____
- (A) Bus: School (B) Tool: Dentist
(C) ☒ Taj Mahal: Beautiful (D) Class: Students
10. Out of the four alternatives, choose the one that can be substituted for the given words/phrase.
A speech delivered without any preparation
- (A) Straightforward (B) ☒ Extempore
(C) Verbose (D) Maiden

11. Some parts of the sentence have been jumbled up. Rearrange these parts which are labeled P, Q, R and S to form a sentence. Choose the proper sequence.

I believe that

Tendulkar's century will always remember cricket lovers on Tuesday.

P

Q

R

S

The proper sequence should be:

(A) SRQP

(B) ☒ RQPS

(C) PSRQ

(D) PRQS

12. Fill in the blank from the given options.

I called the company to _____ why it denied me credit.

(A) trace

(B) persecute

(C) ☒ ascertain

(D) search

13. Fill in the blank from the given options

He _____ eating the food.

(A) realised

(B) ☒ relished

(C) rebelled

(D) rejoiced

14. Fill in the blank with suitable preposition.

We discussed _____ the economic crisis.

(A) about

(B) at

(C) on

(D) ☒ No preposition

15. Fill in the blank with suitable adjective.

He is _____ than I am.

(A) elder

(B) ☒ older

(C) eldest

(D) oldest

16. Choose the best word for the space in the sentence:

He felt _____ that his legs would not support him.

(A) sure

(B) ☒ certain

(C) doubtless

(D) certainly

17. Pick the comparative degree of 'kind' :

(A) kindly

(B) kindlier

(C) more kind

(D) ☒ kinder

18. Choose the correction for the word in italics:

As the train *left* we managed to get into it.

(A) had left

(B) has left

(C) ☒ was leaving

(D) would leave

19. Choose the word that would replace the words in italics:

The police will catch those who *ran away*.

(A) disappeared

(B) ☒ absconded

(C) left

(D) departed

20. Say which option is correct for the word 'people':

(A) It has no plural form

(B) It is singular

(C) It is both singular and plural

(D) ☒ It is a plural only word

21. Identify the word or name before which 'the' is not used:

(A) USA

(B) Sun

(C) Ramayana

(D) ☒ Everest

22. Choose the word or phrase that will replace the words in italics:

History praises *those who love their country*.

(A) ☒ patriots

(B) freedom-fighters

(C) soldiers

(D) social workers

23. Pick the best meaning of the word 'wither':

(A) ☒ to become dry

(B) to shrink

(C) to grow small

(D) to die

24. Pick the right word from the options for the space in the sentence:

I was angry ————— the results.

(A) with

(B) ☒ at

(C) for

(D) about

25. Pick the sentence that puts the word "formally" in the right place

(A) ☒ He went up to the table and formally spoke to the Manager

(B) He formally went up to the table and spoke to the Manager

(C) He went formally up to the table and spoke to the Manager

(D) He went up to the table and spoke to the Manager formally

26. Answer the questions on adverb.

The sentence, 'He works hardly' means

- (A) He works very hard (B) He works hard
(C) He works always (D) ☒ He does not work

27. Pick the correct passive voice sentence for the following:

Please bring a pair of pencils.

- (A) You are instructed to bring a pair of pencils
(B) You are ordered to bring a pair of pencils
(C) ☒ You are requested to bring a pair of pencils
(D) You are expected to bring a pair of pencils

28. 'Nourish' means

- (A) to make rich (B) ☒ to give food
(C) to make strong (D) to make healthier

29. Which word describes something different from others?

- (A) ☒ position (B) dock
(C) bed (D) flower

30. Choose the best question form for the following sentence:

He might include the second name in the list.

- (A) Might he include the second name in the list?
(B) ☒ Is he likely to include the second name in the list?
(C) Might he not include the second name in the list?
(D) Will he include the second name in the list?

31. Out of the four alternatives, choose the one that can be substituted for the given words/phrase.

A place that provides refuge

(A) ☒ Asylum

(B) Sanatorium

(C) Shelter

(D) Orphanage

32. A set of four words are given, marked A, B, C and D, spelt in four different ways. Choose the correct spelling.

(A) ☒ favourite

(B) favourit

(C) favoarite

(D) favorite

33. A sentence has been divided into three parts. Select the one that contains an error. If the sentence contains no error, mark (D) as the answer.

(A) either my sisters

(B) or my brother

(C) ☒ are coming today

(D) no error

34. Answer the following with suitable question tag.

Ravi played hockey, _____?

(A) did he?

(B) ☒ didn't he?

(C) does he?

(D) doesn't he?

35. Answer the following with suitable question tag

They are laughing, _____?

(A) ☒ aren't they?

(B) are they?

(C) do they?

(D) don't they?

PART B

36. கரிசல் இலக்கியத்தில் புகழ்பெற்றவர்

(A) புதுமைபித்தன்

(C) ஜெயகாந்தன்

(B)

ராஜநாராயணன் ✓

(D)

வாசந்தி

37. பாண்டியன்பரிசு எனும் குறும் காவியத்தை படைத்தவர்

(A) பாரதியார்

(C) கண்ணதாசன்

(B)

பாரதிதாசன் ✓

(D)

வாணிதாசன்

38. கிறித்தவகம்பர் என பாராட்டப்படுபவர்

(A)

கிருட்டிணப்பிள்ளை ✓

(C)

ஜி.யு. போப்

(B)

வீரமாமுனிவர்

(D)

வலம்புரிஜான்

39. தமிழ்தாய் வாழ்த்து இடம்பெற்ற நூல் எது?

(A) பாஞ்சாலிசபதம்

(C) இராவணகாவியம்

(B)

தமிழச்சியின்கத்தி

(D)

மனோன்மணியம் ✓

40. உலகத்திலேயே தமிழ்மொழிக்காக உலக மாநாடு நடத்திய முதல் நாடு

(A)

மலேசியா ✓

(C)

இந்தியா

(B)

தாய்லாந்து

(D)

சீனா

41. நாட்டுப்பண் ஜனகனமன பாடலுக்கு நாட்டியம் ஆடிய முதல் பெண்

(A) வைஜெயந்திமாலா

(B) பத்மினி

☒ (C) பாலசரஸ்வதி ✓

(D) சோபனா

42. காட்டின் வளத்தைக் குறிக்கும் விலங்கு

(A) கரடி

(B) சிங்கம்

☒ (C) புலி ✓

(D) யானை

43. ஆணை மலைப்பகுதியில் வாழ்பவர்கள்

☒ (A) காடர்கள் ✓

(B) தோடர்கள்

(C) படுகர்கள்

(D) இருளர்கள்

44. நாடும் மொழியும் நமது இரு கண்கள் எனக் கூறியவர்

(A) கவிமணி தேசிக விநாயகம் பிள்ளை

☒ (B) மகாகவிபாரதியார் ✓

(C) வ.உ. சிதம்பரனார்

(D) இரா.பி. சேதுப்பிள்ளை

45. ஐம்பெருங்காப்பியங்களில் இடம்பெறுபவை

(A) நீலகேசி

☒ (B) சீவகசிந்தாமணி ✓

(C) மகாபாரதம்

(D) இயேசுகாவியம்

CLICK TO JOIN 150-HOURS FREE CLASS(9626699743)

Er.THANGAMUTHU IPS ACADEMY

AREX255

[Turn over

46. சிலப்பதிகாரத்தில் இடம்பெற்ற இலங்கை மன்னன்

(A)

கயவாகு ✓

(B) வீரகேசரி

(C)

விக்கிரமபாலன்

(D)

புலிகேசி

47. தமிழ் தென்றல் எனப் பாராட்டப் பெறுபவர்

(A)

வ.சுப. மாணிக்கம்

(B)

ரா.பி. சேதுப்பிள்ளை

(C)

மு. வரதராசன்

(D)

திரு.வி.க. ✓

48. நிகண்டு என்பது

(A)

மருத்துவநூல்

(B)

சோதிடநூல்

(C)

சிற்பசாத்திரம்

(D)

சொற்களஞ்சியம் ✓

49. இன்னாநாற்பதின் ஆசிரியர்

(A)

கபிலர் ✓

(B)

விளம்பிநாகனார்

(C)

நப்பூதனார்

(D)

தன்சேந்தனார்

50. கிழக்கிலிருந்து வீசும் காற்றின் பெயர்

(A)

வாடை

(B)

கோடை

(C)

கொண்டல் ✓

(D)

தென்றல்

PART C

51. Which of the following software is not a web server _____.

- (A) Apache
- (B) Internet Information service (IIS)
- (C) Mongoose
- ☒ (D) Python ✓

கீழ்க்கண்டவற்றில் எந்த மென்பொருள் வலை சேவையகம் (web server) இல்லை

- (A) அபாச்சி
- (B) இணைய தகவல் சேவை
- (C) மங்கூஸ்
- (D) பைத்தன்

52. Which among the following is not a social media _____.

- (A) Facebook
- (B) Twitter
- (C) LinkedIn
- ☒ (D) EDX ✓

கீழ்க்கண்டவற்றில் எது சமூக ஊடகம் இல்லை

- (A) முகநூல் (பேஸ்புக்)
- (B) ட்விட்டர்
- (C) லிங்க்டீன்
- (D) இடிஎக்ஸ்

53. Who appoints the Chief Justice and Other Judges of the Supreme Court of India?

- (A) Prime Minister of India
- (B) Parliamentary Joint Committee
- (C) Ministry of Law and Justice
- (D) President of India ✓

இந்திய உச்ச நீதிமன்றத்தின் தலைமை நீதிபதி மற்றும் உச்ச நீதிமன்ற நீதிபதிகளை யார் நியமிக்க வேண்டும்?

- (A) இந்தியப் பிரதம மந்திரி
- (B) பாராளுமன்றத்தின் கூட்டுக் குழு
- (C) சட்டம் மற்றும் நீதித்துறை அமைச்சகம்
- (D) இந்தியக் குடியரசுத் தலைவர்

54. Green Revolution in India is also known as _____.

- (A) Seed, Fertilizer and irrigation revolution
- (B) Agricultural Revolution ✓
- (C) Food Security Revolution
- (D) Multi Crop Revolution

இந்தியாவின் பசுமைப் புரட்சி என்று அழைக்கப்படுவது _____.

- (A) விதை, உரம், மற்றும் பாசனப் புரட்சி
- (B) விவசாயப் புரட்சி
- (C) உணவு பாதுகாப்புப் புரட்சி
- (D) பல்பயிர் புரட்சி

55. A town's population increased by 1,500 people, and then this new population decreased by 12%. The town now had 60 less people than it did before the 1,500 increase. What is the original population of the town?

(A) 13,000

☒ (B) 11,500

(C) 11,440

(D) 10,000

ஒரு நகரத்தின் மக்கள் தொகை 1,500 ஆக அதிகரித்தது பின்னர் அந்த புதிய மக்கள் தொகை 12% ஆக குறைந்தது. 1500 மக்கள் தொகை கூடுவதற்கு முன்னர் இருந்ததை விட தற்போது 60 பேர் நகரத்தில் குறைவாக இருக்கிறார்கள். அந்த நகரத்தின் இருந்த மக்கள் தொகை எவ்வளவு?

(A) 13,000

(B) 11,500

(C) 11,440

(D) 10,000

56. In a community 28 percent speak Tamil, 7 percent speak Telugu, and 5 percent speak both Tamil and Telugu. What percent of this community neither speak Tamil nor Telugu?

(A) 30 percent

☒ (B) 70 percent

(C) 60 percent

(D) 95 percent

ஒரு சமுதாயத்தில் 28% தமிழ் பேசும் மக்களும் 7% தெலுங்கு பேசும் மக்களும் மற்றும் 5% தமிழ் மற்றும் தெலுங்கு பேசும் மக்களும் இருக்கிறார்கள். தமிழோ அல்லது தெலுங்கோ பேசாத மக்களின் சதவிகிதம் எவ்வளவு?

(A) 30 சதவிகிதம்

(B) 70 சதவிகிதம்

(C) 60 சதவிகிதம்

(D) 95 சதவிகிதம்

57. Train A traveling at 60 km/hr leaves Mumbai for Delhi at 6 P.M.
Train B traveling at 90 km/hr also leaves Mumbai for Delhi at 9 P.M.
Train C leaves Delhi for Mumbai at 9 P.M.

If all three trains meet at the same time between Mumbai and Delhi, what is the speed of Train C if the distance between Delhi and Mumbai is 1260 kms?

- (A) 60 km/hr (B) 90 km/hr
(C) 120 km/hr ✓ (D) 135 km/hr

மணிக்கு 60 கி.மீ வேகத்தில் செல்லும் A என்ற ஒரு புகைவண்டி மும்பையிலிருந்து டெல்லிக்கும் மாலை 6 மணிக்குக் கிளம்புகிறது

மணிக்கு 90 கி.மீ வேகத்தில் செல்லும் B என்ற ஒரு புகைவண்டி மும்பையிலிருந்து டெல்லிக்கும் இரவு 9.00 மணிக்கு கிளம்புகிறது

C என்ற புகைவண்டி டெல்லியிலிருந்து மும்பைக்கு இரவு 9.00 மணிக்கு கிளம்புகிறது.

டெல்லிக்கும் மும்பைக்கும் உள்ள தூரம் 1260 கி.மீ. இந்த மூன்று வண்டிகளும் மும்பை மற்றும் டெல்லிக்கு இடையே ஒரே இடத்தில் சந்தித்தால் C என்ற வண்டியின் வேகம் எவ்வளவு?

- (A) 60 கிமீ/மணி (B) 90 கிமீ/மணி
(C) 120 கிமீ/மணி (D) 135 கிமீ/மணி

58. The gas usually filled in electric bulb _____.

- (A) Hydrogen (B) Nitrogen ✓
(C) Oxygen (D) Carbon dioxide

மின் பல்பில் நிரப்பப்படும் வாயு எது?

- (A) ஹைட்ரஜன் (B) நைட்ரஜன்
(C) ஆக்சிஜன் (D) கார்பன் டைஆக்ஸைட்

59. Curd is sour due to the presence of _____.

- (A) acetic acid
- (B) tartaric acid
- ☒ (C) lactic acid ✓
- (D) oxalic acid

தயிர் எதன் காரணமாக புளிப்பாக இருக்கிறது?

- (A) அசிட்டிக் அமிலம்
- (B) டார்டாரிக் அமிலம்
- (C) லேக்டிக் அமிலம்
- (D) ஆக்ஸாலிக் அமிலம்

60. Which unit is not related to temperature?

- (A) Fahrenheit
- (B) Kelvin
- ☒ (C) Joule ✓
- (D) Celsius

வெப்பத்துடன் சம்பந்தப்படாத அலகு எது?

- (A) பேரன்ஹீட்
- (B) கெல்வின்
- (C) ஜூல்
- (D) செல்சியஸ்

61. Which gas is used in fire extinguisher?

- ☒ (A) Carbon dioxide ✓
- (B) Magnesium
- (C) Helium
- (D) Nitrogen

தீயணைப்பானில் பயன்படுத்தப்படும் வாயு எது?

- (A) கார்பன் டைஆக்ஸைட்
- (B) மெக்னீசியம்
- (C) ஹீலியம்
- (D) நைட்ரஜன்

CLICK TO JOIN 150-HOURS FREE CLASS(9626699743)

Er.THANGAMUTHU IPS ACADEMY

AREX255

[Turn over

62. Bhopal gas tragedy, which is considered to be one of the world's worst industrial disasters caused due to leakage of which of the below mentioned gas?

- (A) Methyl isocyanate ✓ (B) Potassium ferricyanide
(C) Carbon monoxide (D) Hydrogen cyanide

உலகின் மிகப்பெரிய தொழிற்சாலை பேரழிவு என்று கருதப்படும் போபால் விஷவாயு சம்பவத்தில் கீழ்க்கண்டவற்றில் கசிவான வாயு எது?

- (A) மெத்தில் ஐசோசையனேட் (B) பொட்டாசியம் பெர்ரிசையனைடு
(C) கார்பன் மோனாக்சைடு (D) ஹைட்ரஜன் சையனைடு

63. The reason being emergency holidays are declared by the Government under Negotiable Instruments Act

- (A) Negotiable Instruments maturing on the date of emergency holiday should be paid on the next day ✓
(B) Interest due need not be paid for the holidays declared by Government
(C) Banks need not function in view of leave declared under Negotiable Instruments Act
(D) Stock Exchange will not function in view of leave declared under Negotiable Instruments Act

அவசர கால விடுமுறைகளை அரசு மாற்றுமுறை ஆவணச்சட்டம் கீழ் விடுவதாக அறிவிப்பதன் காரணம்?

- (A) அவசர கால விடுமுறை அன்று முதிர்வடையும் மாற்றுமுறை ஆவணங்களுக்கு விடுமுறைக்கு மறுநாள் பணம் செலுத்தப்பட வேண்டும்
(B) அவசர கால விடுமுறை தேதியன்று வட்டி செலுத்தத் தேவையில்லை
(C) வங்கியர் மாற்றுமுறை ஆவணச் சட்டப்படி விடுமுறை அறிவித்த தேதியன்று வேலை செய்யத் தேவையில்லை
(D) பங்குச் சந்தை மாற்று முறை ஆவண சட்டத்தின் கீழ் விடுமுறை அறிவிப்பு தேதியன்று வேலை செய்யாது

64. Which major country does not have a written constitution?

(A) Russia

(B) Iran

(C) Germany

☒ (D) United Kingdom ✓

இதில் எந்தப் பெரிய நாட்டில் எழுதப்பட்ட அரசியல் அமைப்புச் சட்டம் இல்லை?

(A) ரஷ்யா

(B) ஈரான்

(C) ஜெர்மனி

(D) யுனைடெட் கிங்டம்

65. The term 'We' in preamble of the Constitution of India means

(A) Indian Government

(B) Supreme Court

(C) Indian Parliament

☒ (D) The People of India ✓

இந்திய அரசியலமைப்பின் முன்னுரையில் "நாம்" என்று குறிப்பிட்டிருப்பதன் பொருள்?

(A) இந்திய அரசாங்கம்

(B) உச்சநீதிமன்றம்

(C) இந்திய பாராளுமன்றம்

(D) இந்திய மக்கள்

66. Who gave the slogan "Jai hind" to the nation?

- (A) Rajendra Prasad
- (B) Rabindranath Tagore
- (C) Bhagat Singh
- ☒ (D) Netaji Subhash Chandra Bose

நாட்டிற்கு ஜெய்ஹிந்து என்ற முழக்கத்தைத் தந்தவர்

- (A) ராஜேந்திரப் பிரசாத்
- (B) ரபீந்திரநாத் தாகூர்
- (C) பகத்சிங்
- (D) நேதாஜி சுபாஷ் சந்திரபோஸ்

67. Who is a 'Notary Public'?

- (A) Advocate
- (B) A person well noted by the public
- ☒ (C) An official having authority to certify deeds
- (D) Attorney

நோட்டரிப் பப்ளிக் என்பவர் யார்?

- (A) வழக்குறைஞர்
- (B) பொது மக்களால் அங்கீகாரம் செய்த ஒரு நபர்
- (C) ஆவணங்களை சான்றளிக்க உரிமை பெற்ற அதிகாரி
- (D) அட்டார்னி

68. The word _____ refers to an age related status that has legal ramifications

(A) child

(B) senior citizen

(C) infant

☒ (D) juvenile ✓

சட்டம் சார்ந்த வயது தொடர்புடைய வார்த்தை எது?

(A) குழந்தை

(B) முத்த குடிமகன்

(C) சிசு

(D) இளஞ்சிறார்

69. The transition from child to adult involves a change in _____

(A) Status

(B) Rights

(C) Responsibilities

☒ (D) All the above ✓

குழந்தைப் பருவத்திலிருந்து வாலிப பருவத்திற்கு மாறும்போது ஏற்படும் மாற்றம்

(A) தகுதி

(B) உரிமைகள்

(C) கடமைகள்

(D) மேலே கண்ட அனைத்தும்

70. If Amit's father is Billoo's father's only son and Billoo has neither a brother nor a daughter. What is the relationship between Amit and Billoo?

(A) Uncle – Nephew

(B) Father – Daughter

☒ (C) Father – Son ✓

(D) Grandfather – Grandson

அமித்தின் தந்தையானவர் பில்லு என்பவரின் தந்தையின் மகன் ஆவார். பில்லுவுக்கு சகோதரரோ அல்லது மகளோ இல்லை. அமித்துக்கும் பில்லுவுக்கும் இடையே உள்ள உறவுமுறை என்ன?

(A) மாமா – மருமகள்

(B) தந்தை – மகள்

(C) தந்தை – மகன்

(D) தாத்தா – பேரன்

71. Two cars start from the opposite places of a main road, 150 km apart. First car runs for 25 km and takes a right turn and then runs 15 km. It then turns left and then runs for another 25 km and then takes the direction back to reach the main road. In the mean time, due to minor break down the other car has run only 35 km along the main road. What would be the distance between two cars at this point?

(A) 65 km ✓ (B) 75 km
(C) 80 km (D) 85 km

ஒரு பிரதான சாலையில் இரண்டு கார்கள் எதிர் எதிர் திசையிலிருந்து 150 கி.மீ தொலைவிலிருந்து கிளம்புகிறது முதல் கார் 25 கி.மீ. சென்ற பின்னர் வலது பக்கம் திரும்பி 15 கி.மீ. தூரம் செல்கிறது. பின்னர் அந்த கார் இடது பக்கம் திரும்பி 25 கி.மீ. தூரம் செல்கிறது. பின்னர் அந்த கார் பிரதான சாலையை நோக்கி செல்கிறது. இதற்கிடையில் சிறு பழுதின் காரணமாக மற்றொரு கார் பிரதான சாலையில் 35 கி.மீ. தூரம் வரை சென்றது. தற்போது இரண்டு கார்களுக்கிடையே உள்ள தூரம் எவ்வளவு?

(A) 65 கி.மீ (B) 75 கி.மீ
(C) 80 கி.மீ (D) 85 கி.மீ

72. Ravi wants to go to the university. He starts from his home which is in the East and comes to a crossing. The road to the left ends in a theatre, straight ahead is the hospital. In which direction is the University?

(A) North ✓ (B) South
(C) East (D) West

ரவி பல்கலைக் கழகத்திற்கு செல்ல விரும்புகிறார். கிழக்கில் உள்ள அவரது வீட்டிலிருந்து அவர் கிளம்பி ஒரு குறுக்கு சாலைக்கு வருகிறார். இடதுபுறம் உள்ள ஒரு தியேட்டரில் சாலை முடிவடைகிறது. நேரே மருத்துவமனை இருக்கிறது. எந்த திசையில் பல்கலைக்கழகம் இருக்கிறது?

(A) வடக்கு (B) தெற்கு
(C) கிழக்கு (D) மேற்கு

73. This question contains six statements followed by four sets of combinations of three. Choose the set in which the statements are logically related.

- (1) All books are having pages.
- (2) All kings are having pages.
- (3) All Kings are books.
- (4) Some heavy things are books.
- (5) Some books are heavy.
- (6) Some heavy things are having pages.

(A) 1,2,3

(B) 4,5,6

(C) 2,4,5

(D) 1,4,6 ✓

இந்த கேள்வி ஆறு கூற்றுக்களுடன் இருக்கிறது. அதில் 3 கூற்றுக்கள் ஒன்றுடன் ஒன்று தொடர்புடையவையாக இருக்கிறது. அவ்விதம் 4 தொகுதிகள் கொடுக்கப்பட்டுள்ளது. எந்த தொகுதி தொடர்புடையது என்று கண்டறியவும்.

- (1) அனைத்து புத்தகங்களிலும் பக்கங்கள் இருக்கிறது.
- (2) அனைத்து அரசர்களிலும் பக்கங்கள் இருக்கிறது.
- (3) அனைத்து அரசர்களும் புத்தகங்கள்.
- (4) சில கனமான பொருட்கள் புத்தகங்கள்.
- (5) சில புத்தகங்கள் கனமானவை.
- (6) சில கனமான பொருட்களில் பக்கங்கள் உள்ளது.

(A) 1,2,3

(B) 4,5,6

(C) 2,4,5

(D) 1,4,6

CLICK TO JOIN 150-HOURS FREE CLASS(9626699743)

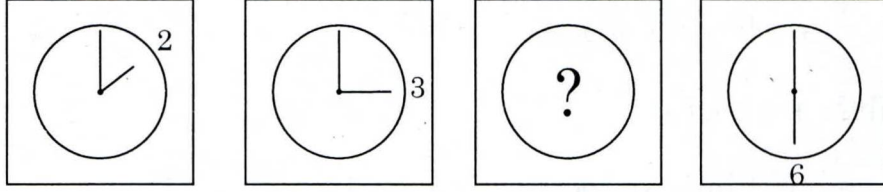
Er.THANGAMUTHU IPS ACADEMY

AREX255

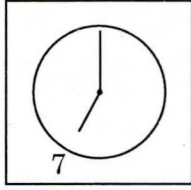
[Turn over

74. Which of the suggested answer is the missing step in the series?

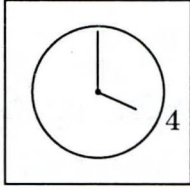
கீழே கண்ட வரிசையில் உள்ள பதில்களில் எந்த பதில் விடுபட்ட இடத்தில் வரும்?



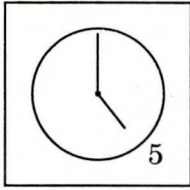
(A)



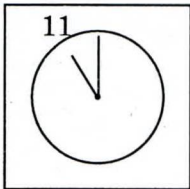
(B)



(C)



(D)



75. A digital signature is _____

- (A) a bit string giving identity of a correspondent
- (B) a unique identification of a sender
- ☒ (C) an authentication of an electronic record with unique key only the sender knows ✓
- (D) an encrypted signature of a sender

டிஜிட்டல் கையொப்பம் என்பது _____.

- (A) கடிதத்தை அனுப்புபவரின் அடையாளத்தை காட்டும் ஒரு சிறு குறியீடு
- (B) அனுப்புபவரின் ஒரு தனிப்பட்ட அடையாளம்
- (C) அனுப்புபவருக்கு மட்டுமே தெரிந்த மின் ஆவணத்தின் தனித்த அங்கீகாரம்
- (D) அனுப்புபவரின் சங்கேத கையெழுத்து

76. E-Book is the electronic version of the books which can be accessed using _____.

- ☒ (A) ICT tools and internet ✓
- (B) ICT tools
- (C) ICT tools and intranet
- (D) None of these above

இ-புத்தகம் ஒரு புத்தகத்தின் மின்னணு பதிப்பு. எதைப் பயன்படுத்தி இ-புத்தகத்தை அடையலாம்

- (A) ஐசிடி டூல்ஸ் மற்றும் இன்டெர்நெட்
- (B) ஐசிடி டூல்ஸ்
- (C) ஐசிடி டூல்ஸ் மற்றும் இன்ட்ராநெட்
- (D) மேலே கண்ட எதுவும் இல்லை

77. The Centre for Railway Information Systems - CRIS

- (A) Helps in Booking Railway ticketing
- ☒ (B) Develops and manage the IT Applications of Indian Railways ✓
- (C) Helps in tracking train movement
- (D) Helps in railway Signal Management

இரயில்வே தகவல் அமைப்புக்கான மையம் (CRIS)

- (A) ரயில் டிக்கெட்டை பதிவு செய்ய உதவுகிறது
- (B) இந்திய ரயில்வேயின் தகவல் தொழில் நுட்பத்தை உருவாக்க மற்றும் நிர்வகிக்க உதவுகிறது
- (C) ரயில் வண்டி செல்லும் இடத்தை கண்டுபிடிக்க உதவுகிறது
- (D) ரயில்வே சிக்னலை நிர்வகிக்க உதவுகிறது

78. Right to Pollution free Environment comes under

- ☒ (A) Article 21 Right to Life ✓
- (B) Article 14 Right to Equality
- (C) Article 30 Right to establish and administer institutions
- (D) Article 19 Right of movement

மாக இல்லா சுற்றுப்புறச் சூழலுக்கான உரிமை எதன் கீழ் வருகிறது?

- (A) ஷரத்து 21 படி வாழ்வுக்கான உரிமை
- (B) ஷரத்து 14 படி சம உரிமை
- (C) ஷரத்து 30 படி நிறுவனங்களை ஸ்தாபிக்கும் மற்றும் நிர்வகிக்கும் உரிமை
- (D) ஷரத்து 19 படி ஒரு இடத்துக்கு செல்லும் உரிமை

79. Which is the largest snacks company in India?

- (A) Parle
- ☒ (B) Haldiram ✓
- (C) Bikaner Wala
- (D) PepsiCo

இந்தியாவில் மிகப்பெரிய சிறு தீனி (snacks) கம்பெனி எது?

- (A) பார்லே
- (B) ஹல்திராம்
- (C) பிகானர் வாலா
- (D) பெப்சிகோ

80. Which state government has launched Walk to Work on Wednesday campaign recently?

- (A) Maharashtra
- ☒ (B) Meghalaya ✓
- (C) Andhra Pradesh
- (D) Karnataka

எந்த மாநிலம் சமீபத்தில் புதன் கிழமைகளில் வாக் டு ஒர்க் (Walk to Work) என்ற திட்டத்தை துவக்கி வைத்தது?

- (A) மஹாராஸ்ட்ரா
- (B) மேகாலயா
- (C) ஆந்திரப் பிரதேசம்
- (D) கர்நாடகா

81. Two rectangular paper strips of length 10 inch and width 2 inch are put flat on a table such that they overlap perpendicularly so as to form a + symbol. How much area of the table is covered?

(A) 10 inch

(B) 26 inch

(C) 40 inch

☒ (D) 36 inch ✓

10 இன்ச் நீளம் 2 இன்ச் அகலம் உள்ள 2 செவ்வக வடிவ தாள்கள் ஒரு மேசை மீது மட்டமாக வைக்கப்பட்டது. அது கூட்டல் குறியீடு போல் (+) போல் ஒன்றின் மீது ஒன்றாக செங்குத்தாக இருந்தது. தற்போது மேசையின் எவ்வளவு பரப்பளவு அந்தத் தாள்களால் சூழப்பட்டுள்ளது?

(A) 10 இன்ச்

(B) 26 இன்ச்

(C) 40 இன்ச்

(D) 36 இன்ச்

82. Find the largest number which divides 1230 and 1926 leaving remainder 12 in each case.

(A) 29

(B) 6

☒ (C) 174 ✓

(D) 12

1230 மற்றும் 1926 யை வகுத்தால் 12 மிச்சம் கிடைக்கும் மிகப் பெரிய எண்ணைக் கண்டுபிடி.

(A) 29

(B) 6

(C) 174

(D) 12

83. The ingredient used for making bio degradable plastic

(A) Vegetable oil

(B) Petroleum

☒ (C) Corn starch ✓

(D) Rubber

மட்கக் கூடிய பிளாஸ்டிக்கை உருவாக்குவதற்கு பயன்படுத்தும் பொருள்

(A) காய்கறி எண்ணெய்

(B) பெட்ரோல்

(C) சோள மாவு

(D) ரப்பர்

84. "Fools gold" is the common name for this mineral :

(A) halite

(B) cinnabar

☒ (C) pyrite ✓

(D) magnetite

எந்தத் தாது "பூல்ஸ் கோல்ட்" என்று அழைக்கப்படுகிறது?

(A) ஹலைட்

(B) சின்னபார்

(C) பைரைட்

(D) மேக்னடைட்

CLICK TO JOIN 150-HOURS FREE CLASS(9626699743)

A

Er.THANGAMUTHU IPS ACADEMY

AREX255

[Turn over

85. The scientist who shouted "Eureka" ! Means ' I 've got it'

(A) Aristotle

☒ (B) Archimedes ✓

(C) Newton

(D) Galileo

கண்டுபிடித்து விட்டேன் என்று பொருளுடைய "யுரேகா" என்று ஆரவாரமிட்ட விஞ்ஞானியின் பெயர்?

(A) அரிஸ்டாடில்

(B) ஆர்க்கிமிடிஸ்

(C) நியூட்டன்

(D) கலிலியோ

86. Chickenpox is caused by

(A) Rubeola

☒ (B) Varicella-zoster ✓

(C) German measles

(D) Varicella virus

சின்னம்மை எதனால் ஏற்படுகிறது?

(A) ரூபேலா

(B) வாரிசெல்லா-ஜோஸ்டெர்

(C) ஜெர்மன் அம்மை

(D) வாரிசெல்லா வைரஸ்

87. Ball pen functions on the principle of

(A) Viscosity

(B) Boyles Law

(C) Gravitational force

☒ (D) Surface tension ✓

பந்துமுனைப் பேனா எந்த தத்துவத்தின் அடிப்படையில் செயல்படுகிறது?

(A) விஸ்காசிட்டி (பாகுநிலை)

(B) பாயெல்ஸ் விதி

(C) புவியீர்ப்பு விசை

(D) புறபரப்பின் இழுவிசை

88. A restaurant owner sells a water bottle for Rs. 34, which had a maximum retail price (MRP) of Rs 12

- (A) the trader or service provider can charge more price than item's MRP printed on the packed item, if delivered packed
- ☒ (B) the trader or service provider commits malpractice for charging higher amount than MRP, if delivered in packed form and the same is against the law ✓
- (C) the owner of hotel can sell water bottle only up to twice the MRP rate
- (D) none of the above is correct

ஒரு ஹோட்டல் உரிமையாளர் ரூ. 12 க்கு அதிகபட்ச விலை விற்கவேண்டிய ஒரு பாட்டில் தண்ணீரை ரூ. 34 க்கு விற்பனை செய்கிறார்

- (A) ஒரு வியாபாரி அல்லது சேவை வழங்குநர் ஒரு பொருளின் அதிகபட்ச விலையை விட அதிக விலைக்கு பொருளை பேக் செய்து தரும் பட்சத்தில் விற்கலாம்
- (B) அந்த வியாபாரி அல்லது சேவை வழங்குநர் பேக் செய்து பொருளை அதில் குறிப்பிட்டுள்ள அதிக பட்ச விலையைவிட கூடுதல் தொகைக்கு விற்பனை செய்ததின்க்கு முரணான முறைகேடு செய்ததாக கருதப்படுவார்
- (C) இரண்டு மடங்கு அதிக விலைவரை மட்டுமே அந்த ஹோட்டல் உரிமையாளர் விற்பனை செய்யமுடியும்
- (D) இதில் எதுவுமே இல்லை

89. Mandal Commission uplifted

- (A) SC (B) ST
- ☒ (C) OBC ✓ (D) OC

மண்டல் கமிஷன் வலுவூட்டியது?

- (A) எஸ்ஸி (B) எஸ்டி
- (C) ஒபிசி (D) ஓசி

90. Who will act as the banker to the Government of India?

- (A) SBI (B) NABARD
(C) World Bank (D) RBI ✓

இந்திய அரசாங்கத்தின் வங்கியாளர் யார்?

- (A) பாரத ஸ்டேட் வங்கி (B) நபார்ட்
(C) உலக வங்கி (D) ரிசர்வ் பாங்க் ஆப் இந்தியா

91. Which of the following statement is not true about Subramania Bharati?

- (a) Bharati was the sub-editor of Swadesamitran
(b) He translated Tilak's Tenets of the New Party into Tamil
(c) Bharati's Guru was Swami Vivekananda
(d) He was editor of a woman's magazine by name Chakravartini
(A) (d) (B) (c)
(C) (a) (D) None of the above ✓

கீழ்வருவனவற்றில் எது சுப்பிரமணிய பாரதி குறித்து தரப்பட்டுள்ள விவரங்களில் தவறான விபரம்?

- (a) பாரதி சுதேசி மித்ரனின் துணை ஆசிரியராக இருந்தார்
(b) தமிழில் திலகின் புதிய கட்சிக் கொள்கையை மொழிப் பெயர்த்தார்
(c) பாரதியின் குரு சுவாமி விவேகானந்தர்
(d) சக்கரவர்த்தினி என்ற பெண்கள் பத்திரிக்கையின் ஆசிரியர்
(A) (d) (B) (c)
(C) (a) (D) இவை ஏதுமில்லை

92. The clouds float in the atmosphere because of their low:

- (A) Velocity
- (B) Temperature
- ☒ (C) Density ✓
- (D) Pressure

கீழ்வருவனற்றில் எது குறைவாக இருப்பதால் மேகம் வளிமண்டலத்தில் மிதக்கிறது?

- (A) வேகம்
- (B) வெப்பநிலை
- (C) அடர்த்தி
- (D) அழுத்தம்

93. What is the dark figure of crime?

- ☒ (A) crime that goes unreported to police and is never counted ✓
- (B) crime that is reported to the police but is not counted in statistics
- (C) crime that are particularly violent
- (D) its police slang for burglars who wear dark clothing

குற்றத்தின் Dark Figure என்றால் என்ன?

- (A) காவல்துறைக்கு தெரிவிக்கப்படாத மற்றும் கணக்கில் வராத குற்றம்
- (B) காவல் துறைக்கு தெரிவிக்கப்பட்ட ஆனால் கணக்கில் கொண்டுவரப்படாத குற்றம்
- (C) குறிப்பாக கடுமையான குற்றம்
- (D) கறுப்பு துணி அணிந்த கொள்ளையர்களை காவல் துறையால் குறிப்பிடும் வார்த்தை

94. One morning after sunrise, Suresh was standing facing a pole. The shadow of the pole fell exactly to his right. To which direction was he facing?

(A) North

(B) West

☒ (C) South

(D) Data is inadequate

சூரிய உதயத்திற்கு பின் ஒரு நாள் காலையில் சுரேஷ் என்பவர் ஒரு கம்பத்தை நோக்கி நின்று கொண்டிருந்தால் அந்த கம்பத்தின் நிழல் சரியாக சுரேஷின் வலதுபுறத்தில் விழுந்தது. சுரேஷ் எந்த திசையில் நின்று கொண்டிருந்தார் ?

(A) வடக்கு

(B) மேற்கு

(C) தெற்கு

(D) போதுமான விபரம் இல்லை

95. A man walks 5 km toward south and then turns to the right. After walking 3 km he turns to the left and walks 4 km. And then he goes back 10 km straight. Now in which direction is he from the starting place ?

(A) South-East

☒ (B) North-West

(C) South

(D) West

ஒரு நபர் தெற்கு நோக்கி 5 கி.மீ. தூரம் நடக்கிறார். பின்னர் அவர் வலதுபுறம் திரும்புகிறார். 3 கி.மீ. தூரம் நடந்த பின்னர் அவர் இடது புறம் திரும்பி 4 கி.மீ தூரம் நடக்கிறார். பின்னர் அவர் பின்னோக்கி 10 கி.மீ. தூரம் நேராக நடக்கிறார். அவர் நடக்க ஆரம்பித்த இடத்தில் இருந்து எந்த திசையில் அவர் இருக்கிறார்

(A) தென் கிழக்கு

(B) வட மேற்கு

(C) தெற்கு

(D) மேற்கு

96. A horse is facing north. It turns 90 degrees in the clockwise direction, then 180 degrees in the anti-clockwise and then another 90 degrees in the same direction. Which direction is the horse facing now?

- (A) East (B) South ✓
(C) Southwest (D) Southeast

ஒரு குதிரை வடக்கு நோக்கி இருக்கிறது. அது 90 டிகிரி கடிகார திசையில் திரும்புகிறது. பின்னர் 180 டிகிரி கடிகார எதிர் திசையில் திரும்புகிறது. அதே திசையில் மீண்டும் 90 டிகிரி திரும்புகிறது. தற்போது எந்த திசையை நோக்கி குதிரை இருக்கிறது?

- (A) கிழக்கு (B) தெற்கு
(C) தென்மேற்கு (D) தென்கிழக்கு

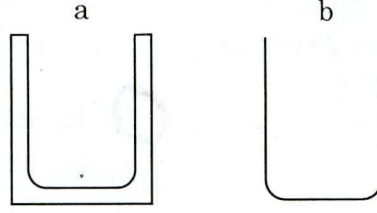
97. If 'Apple' is called 'Orange', 'Orange' is called 'Peach', 'Peach' is called 'Potato', 'Potato' is called 'Banana', 'Banana' is called 'Papaya' and 'Papaya' is called 'Guava', which of the following grows underground?

- (A) Potato
(B) Guava
(C) Apple
(D) Banana ✓

ஆப்பிள் ஆரஞ்சு என்றும், ஆரஞ்சு பேரிக்காய் என்றும், பேரிக்காய் உருளைக்கிழங்கு என்றும், உருளைக்கிழங்கு வாழைப்பழம் என்றும், வாழைப்பழம் பப்பாளிப்பழம் என்றும், பப்பாளிப்பழம் கொய்யாப்பழம் என்றும் அழைக்கப்பட்டால், பின்வருவனவற்றுள் எது தரைக்கு கீழே வளர்கிறது?

- (A) உருளைக்கிழங்கு
(B) கொய்யாப்பழம்
(C) ஆப்பிள்
(D) வாழைப்பழம்

98. Which glass beaker is more likely to crack when filled with hot water?



(A) a

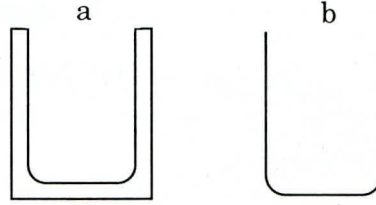
✓

(B) b

(C) both a and b

(D) None of the above

குடான நீரை எந்த கண்ணாடிப்பாத்திரத்தில் நிரப்பினால் அது விரிசல் அடைய அதிக வாய்ப்புள்ளது?



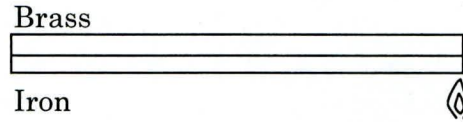
(A) a

(B) b

(C) a மற்றும் b இரண்டும்

(D) மேலே கண்ட எதுவும் இல்லை

99. Which way would the bimetallic strip bend if heat were applied to it or would it stay straight?



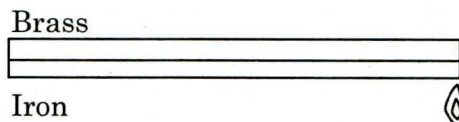
(A) Bend upwards

(B) Bend downwards ✓

(C) Stay straight

(D) None of the above

படத்தில் குறிப்பிடப்பட்டுள்ள இரு உலோகத் துண்டை சூடேற்றும் பொழுது எந்த பக்கம் அது வளையும் அல்லது அது நேராக இருக்குமா?



(A) மேல் நோக்கி வளையும்

(B) கீழ் நோக்கி வளையும்

(C) நேராக இருக்கும்

(D) மேலே கண்ட எதுவும் இல்லை

100. This question contains six statements followed by four sets of combinations of three. Choose the set in which the statements are logically related.

- (1) Some women are those who are successful in life.
- (2) Some men are those who have patience.
- (3) No man is a woman.
- (4) All those who have patience are successful in life.
- (5) Some who are successful in life are men.
- (6) Some men are not those are successful in life.

(A) 1, 3, 6

(B) 4,2,6 ✓

(C) 1,5,3

(D) 2,4,5

இந்த கேள்வி ஆறு கூற்றுக்களுடன் இருக்கிறது. அதில் 3 கூற்றுகள் ஒன்றுடன் ஒன்று தொடர்புடையதாக இருக்கிறது. அவ்விதம் 4 தொகுதிகள் கொடுக்கப்படுகிறது. எந்த தொகுதி தொடர்புடையது என்று கண்டறியவும்.

- (1) பெண்களில் கொஞ்சம் பேர் வாழ்க்கையில் வெற்றியடைந்தவர்கள்.
- (2) ஆண்களில் கொஞ்சம் பேர் பொறுமை உடையவர்களாக இருக்கிறார்கள்.
- (3) எந்த ஆணும் பெண் இல்லை.
- (4) பொறுமை உடையவர்கள் வாழ்வில் வெற்றி அடைகிறார்கள்.
- (5) வாழ்க்கையில் வெற்றி பெற்றவர்களில் கொஞ்சம் பேர் ஆண்கள்.
- (6) ஆண்களில் கொஞ்சம் பேர் வாழ்வில் வெற்றி பெறவில்லை.

(A) 1, 3, 6

(B) 4,2,6

(C) 1,5,3

(D) 2,4,5

SPACE FOR ROUGH WORK

SPACE FOR ROUGH WORK

7. Each question has four responses (A) (B) (C) and (D). You have to select ONLY ONE correct answer in the OMR Answer Sheet. In case you feel that there are more than one correct answers, mark only the answer which you consider the most appropriate. In any case, choose ONLY ONE answer for each question. E.g., If for any question, B is the correct answer, you have to shade as follows:

(A) ● (C) (D)

8. The Question Booklet is printed in four series viz., [A] [B] [C] & [D]. The name of the series is printed on the top of the Question Booklet. Mark and shade your correct Question Booklet series [A] / [B] / [C] / [D] carefully in the OMR answer sheet by darkening the appropriate circle without fail. In case of any wrong entry of Booklet series or discrepancy in determining the exact booklet series, then, in all cases your Answer Sheet will be invalidated.
9. You should not remove or tear off any sheet from the Question Booklet. You are not allowed to take the Question Booklet and the Answer Sheet out of the Examination Hall during the time of examination. You are permitted to take the Question Booklet only after the Examination is completed.
10. Do not write anything in the Question Booklet, except in the space provided for Rough work.
11. Failure to comply with any of the above instructions will render you liable for action or penalty as the High Court may decide at their discretion.
12. Using Whitener / Blade / Eraser or any kind of tampering to change the answers on OMR answer sheet will lead to invalidation.

Written Examination for Recruitment to the post of Sweeper and Sanitary worker

| | | | | | | |
|-------------------------|--|--|--|--|--|--|
| Registration No. | | | | | | |
|-------------------------|--|--|--|--|--|--|

Date of Test : 08-10-2017 (SUNDAY)
Time : 1 Hour (10am to 11am)

Before you start to answer the questions you must checkup this booklet and ensure that it contains all the pages 1 to 9 and see that no page is missing or repeated. If any defect is found in this booklet, you must get it replaced immediately from the Invigilator.

Instructions to Candidates:

1. This booklet contains 50 questions in two parts: Part – A General Knowledge 35 questions, Part – B General Tamil 15 Questions. Each question carries 1 mark, no negative marks for wrong answers.
2. Questions in Part – A General Knowledge questions will be bi-lingual i.e., in Tamil & English. In case of discrepancy English version will prevail.
3. Write your Registration Number in the boxes provided, neatly and legibly.
4. Method of marking answers in the "Objective Type" of examination: For each question several suggested answers are given. You have to choose one answer to each item by marking the answer [✓]. If you select more than one answer, your answer will be considered wrong.
5. If you make a mistake, clearly cross out the old answer and fill in the new answer.
6. Ensure that you have marked only one answer for each question.
7. Do not mark the sheet anywhere except as instructed; this may result in rejection of the sheet from the reader.
8. **Signature on attendance list:** You are required to sign in the attendance sheet in the appropriate column against your name. Any change or correction in these particulars should be authenticated by the candidate by putting his signatures.
9. Candidate is not permitted to leave the Examination Hall/Room till expiry of the examination.
10. Do not make use of the Whitener / Correction fluid / any sharp object to make correction.

கேள்விகளுக்கு விடையளிப்பதற்கு முன்பு

உங்களுக்கு வழங்கப்பட்டுள்ள 1 முதல் 9 பக்கங்கள் அடங்கிய புத்தகத்தில் எல்லா பக்கங்களும் உள்ளனவா, மற்றும் எல்லா பக்கங்களிலும் சரிவர அச்சிடப்பட்டு அவை வரிசையில் உள்ளனவா என்பதை உறுதி செய்து கொள்ளவேண்டும். ஏதேனும் பிழை இருந்தால் அந்த புத்தகத்தை அறை கண்காணிப்பாளரிடம் திரும்ப கொடுத்து வேறு பெற்றுக்கொள்ள வேண்டும்.

விண்ணப்பதாரர் கவனத்திற்கு:

1. இந்த புத்தக வடிவ வினாத்தாளில் மொத்தம் 50 கேள்விகள் உள்ளன. பகுதி – அ பொது அறிவு 35 கேள்விகளும், பகுதி – ஆ பொதுத் தமிழ் 15 கேள்விகளும் உள்ளன. ஒவ்வொரு கேள்விக்கும் ஒரு மதிப்பெண். தவறான விடைக்கு மதிப்பெண் குறைக்கப்படமாட்டாது.
2. பகுதி – அ கேள்விகள் தமிழ் மற்றும் ஆங்கிலத்தில் அமைந்திருக்கும். முரண்பாடு இருப்பின் ஆங்கிலத்தில் அமைந்துள்ள கேள்வியே ஏற்றுக்கொள்ளப்படும்.
3. உங்களது பதிவு எண்ணை மேலே குறிப்பிடப்பட்டுள்ள பெட்டியில் தெளிவாக எழுதப்படவேண்டும்.
4. ஒவ்வொரு கேள்விக்கும் சரியான விடையை எழுதாமல் அதற்குண்டான சரியான பதிலை [✓] குறியீட்டு முறையில் தேர்வு செய்யவேண்டும். ஒவ்வொரு கேள்விக்கும் பல பதில்கள் கொடுக்கப்பட்டுள்ளன. ஏதேனும் ஒருபதிலைத் தவிர தாங்கள் ஒன்றுக்கு மேற்பட்டவற்றை தேர்வு செய்தால் அது தவறானதாக எடுத்துக்கொள்ளப்படும்.
5. தாங்கள் ஏதேனும் தவறான விடையை தேர்வு செய்தால் அதனை தெளிவாக அடித்து விட்டு சரியான பதிலை தேர்வு செய்யவும்.
6. ஒரு கேள்விக்கு ஒரு பதிலை மட்டுமே தேர்வு செய்யவேண்டும்.
7. பக்கத்தில் கொடுக்கப்பட்ட இடத்தினைத் தவிர வேறு எங்கும் குறியீடு செய்யாதீர்கள் இதனால் தங்களுடைய விடைத்தாள் நிராகரிக்கப்படும்.
8. தங்களுடைய வருகைப் பதிவேட்டில் தங்களுடைய பெயருக்கு எதிராக உள்ள கட்டத்தில் கையொப்பமிடவேண்டும். இதில் ஏதேனும் மாற்றம்/திருத்தம் இருப்பின் அதனை உறுதிப்படுத்த தேர்வு எழுதுபவர் கையொப்பமிடவேண்டும்.
9. தேர்வு எழுதுபவர் தேர்வு அறையிலிருந்து, தேர்வு நேரம் முடிந்த பின்னர் வெளியே செல்ல அனுமதிக்கப்படுவர்.
10. வினாத்தாளில் திருத்தம் செய்ய ஓயிட்னர், பிழைதிருத்த திரவம் அல்லது கூர்மையான பொருளோ பயன்படுத்தக்கூடாது.

CLICK TO JOIN 150-HOURS FREE CLASS(9626699743)
Er.THANGAMUTHU IPS ACADEMY

PART – A**பகுதி - அ**

1. எந்த தொலைபேசி எண்ணில் காவல்துறையை அழைப்பாய்?
 (a) 105 (b) 100 (c) 101 (d) 108
 Which phone number you call police?
 (a) 105 (b) 100 (c) 101 (d) 108
2. எந்த ஆண்டு நாம் விடுதலை பெற்றோம்?
 (a) 1947 (b) 1945 (c) 1950 (d) 1942
 When did we get freedom?
 (a) 1947 (b) 1945 (c) 1950 (d) 1942
3. கப்பலோட்டியத் தமிழன் யார்?
 (a) வாஞ்சிநாதன் (b) பாரதி
 (c) திருப்பூர் குமரன் (d) வ.உ.சிதம்பரம்பிள்ளை
 Who is “Kappalotiya Tamilan”?
 (a) Vanchinathan (b) Bharathi
 (c) Thirupur Kumaran (d) V.O. Chidambarampillai
4. சமவெளிகளை எப்படி அழைப்பீர்கள்?
 (a) குறிஞ்சி (b) மருதம் (c) முல்லை (d) பாலை
 What do you call the plains?
 (a) Kurinji (b) Marudham (c) Mullai (d) Palai
5. அட்லஸ் என்பது
 (a) ஓவியங்கள் (b) வண்ணப்பூச்சுகள் (c) வரைபடங்கள் (d) புகைப்படங்கள்
 Atlas means a book of
 (a) Drawings (b) paintings (c) Maps (d) Stills
6. கொடியில் புலியுடையோர் யார்?
 (a) பாண்டியர் (b) சேரர் (c) சோழர் (d) பல்லவர்
 Who has Tiger in the flag?

(a) Pandya (b) Chera (c) Chola (d) Pallava

CLICK TO JOIN 150-HOURS FREE CLASS(9626699743)
Er.THANGAMUTHU IPS ACADEMY

7. காவிரி யாருடைய ஆறு?
 (a) பல்லவர் (b) சேரர் (c) சோழர் (d) பாண்டியர்
 Whose river was Kaveri?
 (a) Pallavar (b) Chera (c) Chola (d) Pandya
8. தமிழின் தொண்மையான நூல் எது?
 (a) திருக்குறள் (b) தொல்காப்பியம் (c) புறநானூறு (d) அகத்தியம்
 Which is the ancient book in Tamil?
 (a) Thirukkural (b) Tholkappiam (c) Purananuru (d) Agathiyam
9. கல்லணையை கட்டியது யார்?
 (a) ராஜ ராஜ சோழன் (b) கரிகால்சோழன் (c) செழியன் (d) சேரன்
 Who built Kallanai?
 (a) Raja Raja cholan (b) Karikala Cholan (c) Chezhian (d) Cheran
10. உலக உழைப்பாளர் நாளை நாம் என்று கொண்டாடுகிறோம்
 (a) மே - 1 (b) மே - 10 (c) மே - 15 (d) மே - 30
 We celebrate world workers day on
 (a) May – 1 (b) May – 10 (c) May – 15 (d) May – 30
11. நமது அரசியலமைப்புச்சட்டம் நடைமுறைக்கு வந்த நாள்
 (a) 26 மார்ச் - 1950 (b) 26 ஜனவரி 1950
 (c) 15 ஆகஸ்ட் 1947 (d) 25 ஏப்ரல் 1948
 Our Constitution came into existence on
 (A) 26th March (b) 26th January
 (c) 15th August (d) 25th April 1948
12. இஸ்லாமியர்களின் புனித நூல்
 (a) சீறாப்புராணம் (b) அல்-குர்ஆன் (c) நபி மொழிகள் (d) பீடகம்
 The Holy Book of Muslims is
 (a) Seera Puranam (b) Al-Quran (c) Hadees (d) Peedagam

13. நமது தேசியப் பறவை?

- (a) கிளி (b) சேவல் (c) மயில் (d) மைனா

Our National Bird is

- (a) Parrot (b) Cock (c) Peacock (d) Mynah

14. நமது தேசிய மரம்

- (a) தென்னை மரம் (b) ஆலமரம் (c) மாமரம் (d) வேப்பமரம்

Our National Tree is

- (a) Coconut Tree (b) Banyan Tree (c) Mango Tree (d) Neem Tree

15. நமது தேசியச் சின்னம் எது?

- (a) சாரநாத் தூண் (b) குதுப்மினார் (c) ஸ்வஸ்திக் (d) புத்தர்சிலை

Which is our National Emblem?

- (a) Saranath Pillar of Asoka (b) Qutubminar (c) Swastic (d) Buddha Statue

16. இந்திய நீதி பரிபாலனத்தின் தலைமையகம்

- (a) பார்லிமெண்ட் (b) உச்சநீதிமன்றம் (c) உயர்நீதிமன்றம் (d) பிரதமர்

The Chief Judicial authority of India is

- (a) Parliament (b) Supreme Court (c) High Court (d) The Prime Minister

17. இந்தியாவின தற்போதைய துணை குடியரசுத் தலைவர் யார்?

- (a) மாண்புமிகு தமீம் அன்சாரி
(b) மாண்புமிகு வெங்காய்யா நாயுடு
(c) மாண்புமிகு காளீஸ்வரன்
(d) மாண்புமிகு என்.டி. திவாரி

Who is the Vice President of India now

- (a) Hon'ble Thameem Ansari (b) Hon'ble Vengaiyah Naidu
(c) Hon'ble Kalleswaran (d) Hon'ble N.T. Thivari

18. விவசாயிகள் கிராமங்களிலிருந்து எங்கு இடம் பெயர்கிறார்கள்?

- (a) பாலை (b) கடல்புரம் (c) நகரங்கள் (d) மலைகள்

Agricultural workers migrate from villages to

- (a) Desert (b) Coastal area (c) Cities (d) Hills

19. நமது விடுதலை நாளை நாம் என்று கொண்டாடுகிறோம்
 (a) ஜூன் - 10 (b) ஜூலை - 15 (c) ஆகஸ்ட் - 15 (d) மே - 15
 We celebrate our Independence day on
 (a) June - 10 (b) July - 15 (c) August - 15 (d) May - 15
20. இந்திய உச்சநீதிமன்றம் எங்குள்ளது?
 (a) மும்பை (b) கொல்கத்தா (c) புதுதில்லி (d) பாட்னா
 The Indian Supreme court is located at
 (a) Mumbai (b) Kolkatha (c) New Delhi (d) Patna
21. சூரியன் உதிக்கும் திசை
 (a) மேற்கு (b) கிழக்கு (c) வடக்கு (d) தெற்கு
 The Sun rises in the
 (a) West (b) East (c) North (d) South
22.வேளையல் கழிவறையைப் பயன்படுத்துவது நல்ல பழக்கம்
 (a) மதியம் (b) மாலை (c) காலை (d) இரவு
 It is a good habit to use the toilet in the
 (a) Afternoon (b) Evening (c) Morning (d) Night
23. நீரின் ஆதாரம்
 (a) குளம் (b) ஏரி (c) ஆறு (d) மழை
 The main source of water is
 (a) Pond (b) Lake (c) River (d) Rain
24. எது எலும்புமுறிவைக் கண்டறிய உதவுகிறது?
 (a) மைக்ரோ அலை (b) X-கதிர் (c) அகச்சிவப்புக்கதிர் (d) புற ஊதாக்கதிர்
 Which is used to identify fracture in bones?
 (a) Microwave (b) X-rays (c) Infrared rays (d) Ultrasound waves
25. எது வேகமான போக்குவரத்து?
 (a) தொடர்வண்டி (b) கப்பல் (c) பேருந்து (d) விமானம்
 Which is the fastest means of transport
 (a) Train (b) Ship (c) Bus (d) Aeroplane

26. மருத்துவக்குணமுடைய தாவரம் எது?

- (a) தேக்கு (b) சந்தனமரம் (c) வாழை (d) துளசி

Which is a medicinal plant?

- (a) Teak (b) Sandal (c) Banana (d) Tulsi

27. மனிதருக்கு எத்தனை சிறுநீரகங்கள் உள்ளன?

- (a) 4 (b) 3 (c) 2 (d) 1

How many kidneys are there in human being?

- (a) 4 (b) 3 (c) 2 (d) 1

28. மேலே எறியப்பட்ட பொருள்கள் கீழ்நோக்கி விழக் காரணம் என்ன?

- (a) காந்த விசை (b) புவிவீர்ப்பு விசை
(c) உராய்வு விசை (d) மின்னியக்கு விசை

Objects thrown upwards always come down due to

- (a) Magnetic force (b) Gravitational force
(c) Frictional force (d) Electromotive force

29. இந்தியாவின் தந்தை என்றழைக்கப்படுபவர் யார்?

- (a) காந்தி (b) நேரு (c) அம்பேத்கர் (d) திலகர்

Who is the father of our nation?

- (a) Gandhi (b) Nehru (c) Ambedkar (d) Thilagar

30. நமது தேசிய நதி

- (a) காவேரி (b) யமுனா (c) கங்கை (d) ஹீக்ளி

Our National River is

- (a) Kaveri (b) Yamuna (c) Ganga (d) Hughly

31. மக்காத குப்பைக்கு எடுத்துக்காட்டு தருக.

- (a) பிளாஸ்டிக் (b) விறகு (c) காகிதம் (d) புல்

Which is non-bio degradable waste?

- (a) Plastic (b) Wood (c) Paper (d) Grass

32. மண் புழுக்கள் உதவியுடன் உரம் தயாரிக்கும் முறையின் பெயர்
 (a)உரம் (b) வெர்மி உரம் (c) உரமிடுதல் (d) அழுகுதல்
 The method of preparing compost with the help of earth worm
 (a)Composting (b) Vermi Composting (c) Manuring (d) Decomposing
33. நீர் வழிகளில் மிக அதிக எண்ணிக்கையில் காணப்படும் குப்பை வகை என்ன?
 (a) பிளாஸ்டிக் பைகள் (b) பிளாஸ்டிக் பாட்டில்கள்
 (c) அலுமினிய கேன்கள் (d) இவை அனைத்தும்
 What is the most common kind of litter, by number found in water ways?
 (a) Plastic bags (b) plastic bottles (c) Aluminum cans (d) all of these
34. உலர்ந்த உரமாக பயன்படுகிறது
 (a) கழிவுநீர் (b) கசடு (c) இவை இரண்டும் (d) எதுவும் இல்லை
 Dried ----- is used as manure
 (a) Sewage (b) sludge (c) both of them (d) none
35. கழிவுநீர் சுத்திகரிப்பில் கிருமிகளை அழிக்க பயன்படுத்தப்படும் செயல்முறை என்ன?
 (a) காற்றோட்டம் (b) குளோரின் (c) வண்டற்படிவு (d) பிளாக்குலேஷன்
 Which process during waste water treatment helps in killing germs?
 (a) Aeration (b) Chlorination (c) Sedimentation (d) Flocculation

PART – B

பகுதி – ஆ

1. உரிய சொல்லைத் தேர்ந்தெடு:
 நாய் நிமிராது.

- (a) வாள் (b) வாழ்
 (c) வால் (d) வார்

2. ‘தமிழ்த்தாத்தா’ – என்று அழைக்கப்படுபவர்.....

- (a) உ.வெ.சாமிநாதர் (b) கலியாணசுந்தரணார்
 (c) மறைமலையடிகள் (d) வாகுராசனார்

3. வெயில் சுட்டெரிக்கும் காலத்தைக் காலம் என்கிறோம்.

- | | |
|-------------------|-----------------|
| (a) குளிர்க்காலம் | (b) பனிக்காலம் |
| (c) மழைக்காலம் | (d) கோடைக்காலம் |

4. ஓளவைக்கு நெல்லிக்கனியைக் கொடுத்த மன்னன்.....

- | | |
|--------------|--------------------|
| (a) பாரி | (b) பேகன் |
| (c) அதியமான் | (d) மனுநீதிச்சோழன் |

5. 'சைக்கிள்' – என்ற ஆங்கிலச் சொல்லின் தமிழ்ச்சொல்.....

- | | |
|---------------|-----------------|
| (a) மிதிவண்டி | (b) மகிழ்வுந்து |
| (c) ஈருளை | (d) பேருந்து |

6. விடுகதைக்கு விடை கண்டுபிடி:

ஒளியில் தொடர்வான்; இருளில் மறைவான் - அவன் யார்?

- | | |
|-----------------|-------------|
| (a) விண்மீன்கள் | (b) கண்ணாடி |
| (c) நிழல் | (d) உப்பு |

7. கீழ்க்கண்டவற்றில் பசுவிடமிருந்து கிடைக்கும் பொருள்

- | | |
|----------------|-------------|
| (a) பிண்ணாக்கு | (b) தயிர் |
| (c) கொள்ளு | (d) எண்ணெய் |

8. கம்பர் இயற்றிய நூல்

- | | |
|------------------|----------------|
| (a) கம்பராமாயணம் | (b) மகாபாரதம் |
| (c) கலித்தொகை | (d) திருவாசகம் |

9. வீடுகதைக்கு உரிய விடையைக் கண்டுபிடி:
 சூடுபட்டுச் சிவந்தவன்: வீடுகட்ட உதவுவான்.
 (a) மணல் (b) செங்கல்
 (c) சிமெண்ட் (d) மரப்பலகை
10. ‘மகன்’ – என்ற சொல்லின் எதிர்ச்சொல்
 (a) மனைவி (b) தங்கை
 (c) அக்கா (d) மகள்
11. ‘இனிப்பு’ என்ற சொல்லின் எதிர்ச்சொல்.....
 (a) புளிப்பு (b) துவர்ப்பு
 (c) கறுப்பு (d) கசப்பு
12. ‘அரசன்’ என்பதன் பொருள்
 (a) காவலாளி (b) ஒற்றன்
 (c) புலவன் (d) மன்னன்
13. ‘ஒற்றுமை’ என்பதன் எதிர்ச்சொல்.....
 (a) மேல் (b) நன்மை
 (c) வேற்றுமை (d) பகைமை
14. ‘ரேடியோ’ – என்ற ஆங்கிலச் சொல்லின் தமிழ்ச்சொல்.....
 (a) தொலைக்காட்சி (b) தொலைபேசி
 (c) வானொலி (d) கணினி
15. மிளகாய் சுவை கொண்டது
 (a) இனிப்பு (b) கசப்பு
 (c) புளிப்பு (d) கார்ப்பு

PART – A

1. **B**
2. **A**
3. **D**
4. **B**
5. **C**
6. **C**
7. **C**
8. **B**
9. **B**
10. **A**
11. **B**
12. **B**
13. **C**
14. **B**
15. **A**
16. **B**
17. **B**

18. **C**
19. **C**
20. **C**
21. **B**
22. **C**
23. **D**
24. **B**
25. **D**
26. **D**
27. **C**
28. **B**
29. **A**
30. **C**
31. **A**
32. **B**
33. **D**
34. **B**
35. **B**

PART – B

1. **C**
2. **A**
3. **D**
4. **C**
5. **A**
6. **C**
7. **B**
8. **A**
9. **B**
10. **D**
11. **D**
12. **D**
13. **C**
14. **C**
15. **D**