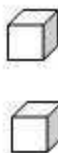
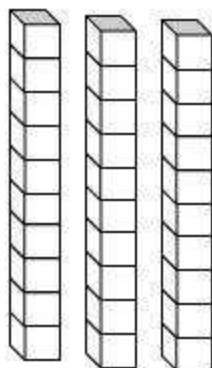
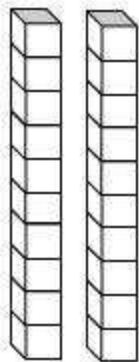
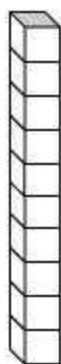

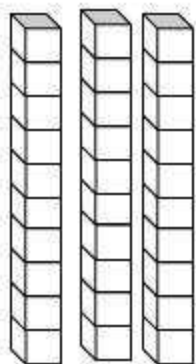

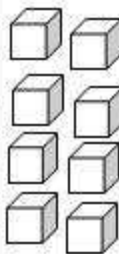
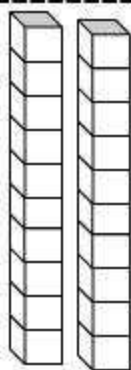
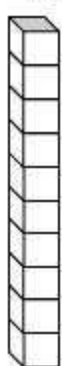


# Decenas y Unidades



Cuenta las decenas y unidades para recortar y pegar los números en el recuadro indicado.

Nombre: \_\_\_\_\_



Material de  Mundo ABC



15

11

33

32

20

28



# Decenas y Unidades



Nombre: \_\_\_\_\_

Cuentas las decenas y las unidades. Escribe los números.

Decenas	Unidades	Decenas	Unidades
		3	3

= 33

Decenas	Unidades	Decenas	Unidades

=

Decenas	Unidades	Decenas	Unidades

=

Decenas	Unidades	Decenas	Unidades

=

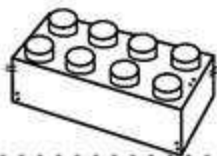
# Decenas y unidades



Nombre: \_\_\_\_\_

Completa lo siguiente.

- 12 = \_\_\_\_\_ decena y \_\_\_\_\_ unidades.
  - 52 = \_\_\_\_\_ decenas y \_\_\_\_\_ unidades.
  - 40 = \_\_\_\_\_ decenas y \_\_\_\_\_ unidades.
  - 48 = \_\_\_\_\_ decenas y \_\_\_\_\_ unidades.
  - 59 = \_\_\_\_\_ decenas y \_\_\_\_\_ unidades.
  - 11 = \_\_\_\_\_ decena y \_\_\_\_\_ unidad.
  - 90 = \_\_\_\_\_ decenas y \_\_\_\_\_ unidades.
  - 79 = \_\_\_\_\_ decenas y \_\_\_\_\_ unidades.
  - 61 = \_\_\_\_\_ decenas y \_\_\_\_\_ unidad.
- 37 = \_\_\_\_\_ decenas y \_\_\_\_\_ unidades.



# Decenas y Unidades



Nombre: \_\_\_\_\_

Completa la siguiente tabla.

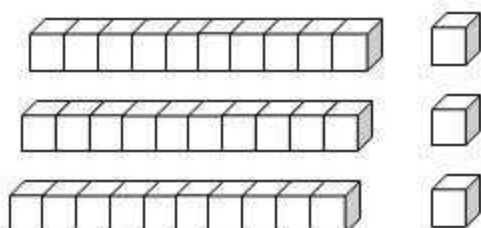
TRAZA	ESCRIBE	DESCOMPOSICIÓN
	_____ decenas _____ unidades	$80 + 3 = 83$
	_____ decenas _____ unidades	_____ + _____ =
	_____ decenas _____ unidades	_____ + _____ =
	_____ decenas _____ unidades	_____ + _____ =
	_____ decenas _____ unidades	_____ + _____ =

# Decenas y unidades



Nombre: \_\_\_\_\_

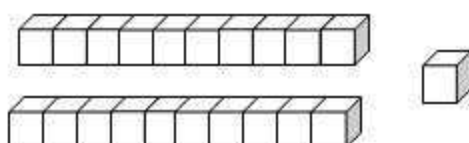
Cuenta las decenas y unidades. Colorea el círculo correcto.



35

32

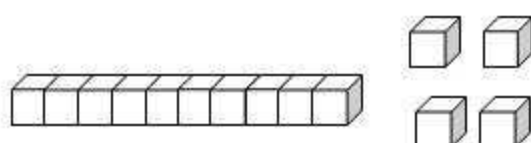
33



24

21

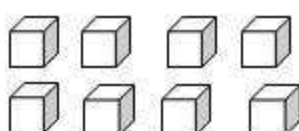
20



14

17

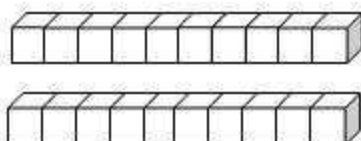
15



10

8

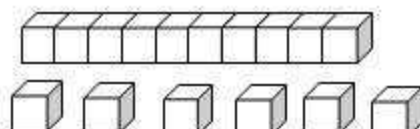
7



10

20

30



18

17

16

