

# دراسات اجتماعية

## الصف الرابع

### الفصل الدراسي الثاني

# 2022



## (1) أنماط ( أشكال ) سكان بلدنا

بلغ ( وصل ) عدد سكان مصر في نوفمبر 2021 ( 102 مليون نسمة )  
الساعة السكانية: هي ساعة تعرض عدد سكان مصر ...



## توزيع سكان مصر:

## يختلف توزيع السكان بين محافظات مصر...

- توجد محافظات يقل فيها عدد السكان عن مليون مثل جنوب سيناء؛ بسبب صعوبة السطح وندرة ( قلة ) المياه.
- توجد محافظات يزيد عدد سكانها عن 8 مليون نسمة مثل القاهرة والجيزة.
- القاهرة هي أكبر محافظات مصر سكاناً؛ وذلك لأنها عاصمة مصر.
- تُجْري مصر التعداد السكاني كل 10 سنوات لتحديد الخدمات التي يحتاج إليها السكان
- آخر تعداد سكاني كان عام 2017 وكان عدد سكان مصر 94.8 مليون نسمة.
- الجهاز المركزي للتعبئة العامة والإحصاء هو المسئول عن إجراء التعداد السكاني





## أنماط السكان في مصر:

### (1) سكان الحضر (المدن):


- هم الذين يعيشون في المدن ويعملون بالصناعة والتجارة والسياحة والخدمات (التعليم - الصحة ... )، وتوجد 4 محافظات حضرية هي: ( القاهرة - الإسكندرية - السويس - بورسعيد )

- تبلغ نسبة سكان الحضر ( 42.4% ) من عدد سكان مصر. (تعداد 2017)
  - تقل نسبة الأمية؛ بسبب انتشار المؤسسات التعليمية وارتفاع مستوى الدخل.
  - تسبب الهجرة من الريف إلى المدن الضغط على الخدمات وظهور العشوائيات
- ### (2) سكان الريف:



- هم الذين يسكنون القرى ويعملون بالزراعة وتربية الحيوانات بنسبة (57.6%) من سكان مصر.
- ترتفع نسبة الأمية في الريف، يزداد متوسط عدد الأسرة في الريف عن الحضر بسبب كثرة الإنجاب والزواج المبكر وتقوم الدولة بتوعية الشباب إلى أهمية تنظيم الأسرة وتقليل الإنجاب .
- يعاني سكان الريف من انخفاض الدخل ومستوى المعيشة؛ بسبب قلة الخدمات ونقص فرص العمل، مما دفع الدولة إلى إطلاق مبادرة ( حياة كريمة ).

### (3) سكان الصحراء:



- يعيش في الصحاري المصرية نسبة ضئيلة (قليلة) من السكان يعملون بالرعي ويطلق عليهم (يُسمون) البدو ، وتقوم الدولة ببناء مساكن لهم وتوفير فرص عمل لهم في مجالي الزراعة والتعدين.
- يُساعد تنوع السكان على تنمية ( تطوير ) المجتمع وتبادل المنتجات.

### تعمق في الفهم:

- مصر من أقدم الدول التي أجرت (التعداد السكاني) منذ عام 3340 ق. م في عهد الملك (أمنحتب الثالث).
- يتم التعداد كل 10 سنوات من حيث ( النوع والعمر والتعليم و ..... ) .
- المشروع القومي (حياة كريمة) يهدف إلى تطوير قرى الريف المصري.
- تنظيم الأسرة يعني تقليل عدد أطفال الأسرة، مما يساعد الأسرة على تربية الطفل.

## ضع علامة ( ✓ ) أو علامة ( X ) أمام الجمل الآتية :

- ① محافظة الإسكندرية هي أقل محافظات مصر سكاناً. (.....)
- ② يهاجر السكان من الريف إلى المدن مما يزيد من العشوائيات. (.....)
- ③ وزارة التربية والتعليم هي المسئولة عن إجراء التعداد السكاني. (.....)
- ④ تنوع السكان في مصر يساعد على تطور المجتمع. (.....)
- ⑤ ترتفع نسبة الأمية في مناطق الحضر مقارنة بالريف. (.....)

## أكمل الجمل الآتية بالكلمة المناسبة:

- ① أكبر محافظات مصر من حيث السكان هي محافظة .....
- ② يقل عدد السكان في محافظة جنوب سيناء بسبب ندرة .....
- ③ مدينة ..... هي عاصمة جمهورية مصر العربية.
- ④ يعيش البدو في الصحراء المصرية ويعملون في حرفة .....
- ⑤ يزداد متوسط عدد الأسرة في الريف بسبب كثرة .....

## بم تفسر:

- ① تُجرى مصر التعداد السكاني كل 10 سنوات.

- ② يزداد متوسط عدد الأسرة في الريف عن الحضر.

- ③ يقل عدد السكان في محافظة جنوب سيناء.

## اكتب ما تدل عليه كل عبارة:

- ① سكان يعيشون في المدن ويعملون بالصناعة والتجارة. (.....)
- ② سكان يعيشون في القرى ويعملون بالزراعة وتربية الحيوان. (.....)
- ③ سكان يعيشون في الصحاري ويعملون بحرفة الرعي. (.....)
- ④ الساعة التي تعرض تقديرات سكان مصر. (.....)

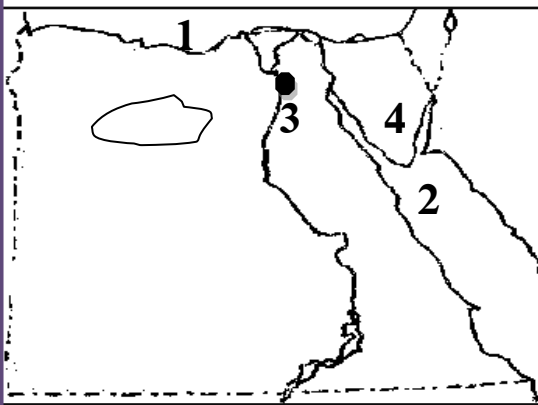
ختر الإجابة الصحيحة مما بين القوسين:

- ① أهم حرفة للبدو في الصحراء هي حرفة .....  
( التجارة - الزراعة - الرعي - الصناعة )
- ② ..... هي عاصمة جمهورية مصر العربية.  
( الإسكندرية - القاهرة - جنوب سيناء - الجيزة )
- ③ أقل محافظات مصر في عدد السكان هي محافظة .....  
( الإسكندرية - القاهرة - جنوب سيناء - الجيزة )
- ④ أكبر محافظات مصر في عدد السكان هي محافظة .....  
( الإسكندرية - القاهرة - جنوب سيناء - الجيزة )
- ⑤ يعيش سكان الريف في .....  
( الصحراء - المدن - البحار - القرى )
- ⑥ المشروع القومي ..... يهدف إلى تطوير قرى الريف المصري.

- حياة كريمة - الإسكان الاجتماعي

- 100 مليون صحة - خليك زي آدم

اكتب ما يدل عليه كل رقم:



① البحر .....  
.....

② البحر .....  
.....

③ أكبر محافظات مصر سكاناً .....  
.....

④ أقل محافظات مصر سكاناً .....  
.....

ما النتائج المترتبة على:

① ندرة وقلة المياه في جنوب سيناء.  
.....

② هجرة السكان من الريف إلى المدن.  
.....



## (2) التراث الثقافي لسكان بلدنا

**التراث:** كل ما تركه لنا الأجداد من أماكن تاريخية وأثرية وفنون شعبية وصناعات حرفية، وعادات وتقاليد.

يتنوع (يختلف) التراث الثقافي لمصر من خلال اختلاف لهجاتهم وفنونهم الشعبية.  
- مهرجان الإسماعيلية الدولي للفنون الشعبية، يعبر عن التراث الثقافي المصري،  
التراث جزء من الهوية (الشخصية) الوطنية المصرية يجب المحافظة عليه  
والاعتزاز به، وتتميز بعض المناطق في مصر بتراث ثقافي خاص.

### نماذج من التراث المصري

#### (1) واحة سيوة:

يحتفل السكان في منتصف أكتوبر من كل عام بعيد حصاد التمور والزيتون، وهما المورد الأساسي لاقتصاد الواحة؛ ولأنه يجذب السياح فسُمي بـ ( عيد السياحة ).



**من مظاهر الاحتفال:** - يرتدي السكان الملابس المحلية.

- يرددون الأغاني التراثية.

- يقيمون موائد الطعام لسكان الواحة

- لهم لهجة قريبة من اللغة (الأمازيغية) الموجودة بالمغرب

#### (2) النوبة:

يحتفل سكان النوبة يوم 7 يوليو من كل عام باليوم العالمي للنوبة



**من مظاهر الاحتفال:** - يرتدون الملابس المحلية.

- يرددون الأغاني التراثية.

يحرص أهل النوبة على التحدث باللغة النوبية وتناقلها عبر الأجيال.

أنشأت منظمة اليونسكو متحف النوبة في أسوان عام 1997 لعرض تاريخ الحضارة النوبية

### (3) مدن القناة (بورسعيد – الإسماعيلية – السويس):

يشتهر سكان مدن القناة بالأغاني المرتبطة بآلة ( السمسمة )، ويؤدون رقصة شعبية تُسمى (البمبوطية)



### (4) صعيد مصر:

(أ) السيرة الهلالية:

يشتهر الصعيد بإنشاد ( غناء ) السيرة الهلالية، والتي تُقدم على لسان (الراوي) وهو يعزف على آلة (الربابة)، وقد تم إنشاء محف السيرة الهلالية في قنا عام 2015 ؛ للحفاظ على هذا التراث.



(ب) فن التحطيب:

هو فن قديم.. على جدران معبد الكرنك في محافظة الأقصر توجد صورة لآله (حورس) وهو يُعلم الملك (أمنحتب) الثالث فن التحطيب.

تم إدراج فن التحطيب كفن تراثي على قائمة اليونسكو عام 2016 ولا تزال هذه اللعبة موجودة حتى الآن.

- يُساهم التراث المصري في تنشيط السياحة وتوفير فرص عمل للشباب.

### تعمق في الفهم:

تراث بدو سيناء:

يمتلك بدو سيناء تراثاً ثقافياً يرتبط بتقاليدهم، حيث يرتدي السكان الزي التقليدي لهم في حفلات السامر التي تتضمن الغناء والرقص، كما تنظم سباقات الهجن (الإبل) التي تُسمه في تنشيط السياحة.

### تنوع اللهجات المصرية:

يختلف نطق الأشخاص لبعض الكلمات ما بين بيئة وأخرى في مصر، وبين الوجهين القبلي والبحري، ففي سيناء يتحدث البدو اللغة العربية الفصحى، وفي النوبة اللغة النوبية القريبة من لغة المصريين القدماء، وقد استخدمها الجيش المصري كشفرة أثناء حرب أكتوبر عام 1973 .

ضع علامة ( ✓ ) أو علامة ( X ) أمام الجمل الآتية :

- ① يختلف التراث المصري من منطقة إلى أخرى . (.....)
- ② تشتهر مدن القناة بفن التحطيب. (.....)
- ③ القاهرة من أشهر وأكبر مدن القناة. (.....)
- ④ يساهم التراث المصري في تنشيط السياحة في مصر. (.....)
- ⑤ يُسمى عيد جمع التمور والزيتون في سيوة بعيد السياحة. (.....)

أكمل الجمل الآتية بالكلمة المناسبة:

- ① ..... من محافظات القناة.
- ② يوجد معبد الكرنك في محافظة .....
- ③ يُساهم التراث المصري في توفير فرص ..... للشباب.
- ④ يتم إنشاد السيرة الهلالية مع العزف على آلة .....
- ⑤ ..... هو كل ما تركه لنا الأجداد من أماكن تاريخية وأثرية وفنون.

بم تفسر:

- ① في سيوة يُسمى عيد حصاد الزيتون والتمور بعيد السياحة.

.....

- ② للتراث المصري أهمية كبيرة

.....

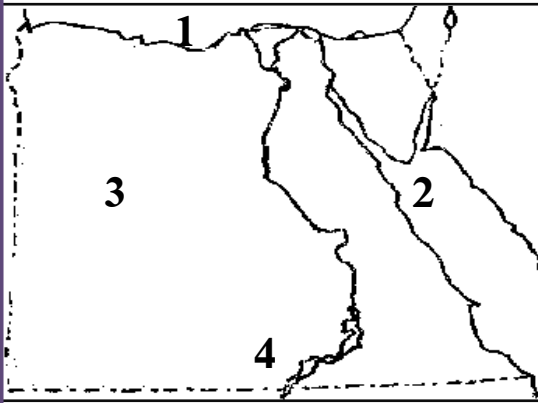
اكتب ما تدل عليه كل عبارة:

- ① كل ما تركه لنا الأجداد من أماكن تاريخية وأثرية وفنون شعبية (.....)



## ختر الإجابة الصحيحة مما بين القوسين:

- ① من مدن القناة .....  
 ( أسوان - القاهرة - بورسعيد - سيناء )
- ② يسمى عيد حصاد الزيتون والتمور في سيوة بعيد .....  
 ( الحب - الزراعة - الأضحى - السياحة )
- ③ السيرة الهلالية يتم عزفها على آلة .....  
 ( الربابة - الجيتار - العود - البيانو )
- ④ يحرص أهل النوبة على التحدث باللغة .....  
 ( الفرنسية - الإنجليزية - النوبية - الأسبانية )
- ⑤ يوجد متحف السيرة الهلالية في محافظة .....  
 ( السويس - قنا - القاهرة - طنطا )



اكتب ما يدل عليه كل رقم:

- ① البحر .....
- ② البحر .....
- ③ الصحراء .....
- ④ بحيرة .....

صل من (أ) ما يناسبه من (ب)

- |                       |                      |     |
|-----------------------|----------------------|-----|
| ① من مدن القناة       | - فن التخطيط         | ( ) |
| ② يوجد متحف النوبة في | - السويس             | ( ) |
| ③ التراث              | - أسوان              | ( ) |
| ④ يشتهر صعيد مصر بـ   | - كل ما تركه الأجداد | ( ) |


### (3) نماذج للمشكلات الاجتماعية في بلدنا

تسعى مصر إلى توفير حياة كريمة لكل مصري وذلك ببناء المدارس والمستشفيات ولكن توجد مشكلات مثل: الأمية والفقر والبطالة تؤثر سلبا على اقتصاد مصر.

#### مشكلة الأمية:

الأمية الهجائية: عدم قدرة الفرد على القراءة والكتابة.

هي مشكلة عالمية؛ لذلك اعتبرت منظمة اليونسكو يوم 8 سبتمبر من كل عام هو ( اليوم الدولي لمحو الأمية ).



بلغت ( وصلت ) نسبة الأمية في مصر عام 2017 نسبة ( 25.8 % ) من عدد السكان الذين وصلوا إلى سن 10 سنوات، وتزداد نسبة الأمية في الريف وتقل في الحضر وتزداد نسبة الأمية بين الإناث أكثر من الذكور

– أعلى محافظات مصر في نسبة الأمية:

( المنيا – بني سويف ).

– أقل محافظات مصر في نسبة الأمية:

( البحر الأحمر – بورسعيد – الوادي الجديد )

- تزداد نسبة الأمية؛ بسبب الزيادة السكانية وعدم التحاق ( دخول ) الأطفال بالمدارس، والتسرب ( الهروب ) من التعليم بسبب ضعف المستوى الاقتصادي للأسرة.

– يزداد معدل البطالة بين الإناث أكثر من الذكور، وترتبط مشكلة البطالة بالأمية.

## خطورة مشكلة الأمية:

- 1- تؤدي الأمية إلى انتشار الجهل والخرفات بين الناس .
- 2- تقلل من فرص العمل .
- 3- تؤدي إلى ضعف الاقتصاد القومي.
- 4- تؤثر سلبا في التنمية المستدامة .



## جهود مصر للقضاء على الأمية الهجائية:

- 1- إنشاء الهيئة القومية لتعليم الكبار ومحو الأمية 1992
- 2- إنشاء العديد (الكثير) من المدارس لاستيعاب الأطفال.
- 3- رفع الوعي (الفهم) المجتمعي بأهمية التعليم من خلال وسائل الإعلام.
- 4- تنفيذ العديد من المبادرات للقضاء على الأمية.

## الأمية المعلوماتية:

- تعني عدم قدرة الشخص على التعامل مع الأجهزة التكنولوجية الحديثة.

## التعليم عند المصريين القدماء:

- اهتم المصريون القدماء بالتعلم ، وكانت تسعى كل أسرة إلى تعليم أبنائها، واختار المصريون القدماء الكتابة الهيروغليفية، وهي عبارة عن صور وأشكال ورسوم، واستخدموا ورق البردي في الكتابة، واهتموا بإنشاء المدارس، وكانت جامعة (أون) أول جامعة في التاريخ. يأتي إليها الطلاب من كل دول العالم.

b ب D58	w و G43	3 ع D36	i ا M17	a 2 ء G1
r ر D21	n ن N35	m م G17	z ز I9	f ف Q3
s س S29	s س O34	kh خ Aa1	H ح V28	h ه O4
t ت X1	g ج W11	k ك V31	q ق N29	sh ش N37A
y ي N23	th ث Z2A	D ض I10	d د D46	L ل V13

## ضع علامة ( ✓ ) أو علامة ( X ) أمام الجمل الآتية :

- ① ترتفع نسبة البطالة بين الإناث عن الذكور. (.....)
- ② جامعة ( أون ) هي أقدم جامعة في التاريخ. (.....)
- ③ تزيد الأمية من فرص العمل بين الشباب . (.....)
- ④ تواجه الدولة الأمية بإنشاء العديد من المدارس. (.....)
- ⑤ محافظة القاهرة أعلى محافظات في نسبة الأمية. (.....)
- ⑥ ترتبط الأمية بمشكلة البطالة والفقر . (.....)

## أكمل الجمل الآتية بالكلمة المناسبة:

- ① ترتفع نسبة الأمية بين الإناث عن .....
- ② اخترع المصريون القدماء الكتابة .....
- ③ أعلى محافظات مصر في الأمية هي .....
- ④ ترتبط البطالة بمشكلة .....
- ⑤ الأمية ..... هي عدم معرفة القراءة والكتابة.
- ⑥ جامعة ..... هي أول جامعة في التاريخ.

## بم تفسر:

- ① تبني الدولة المدارس.

.....

- ② إنشاء الدولة هيئة تعليم الكبار.

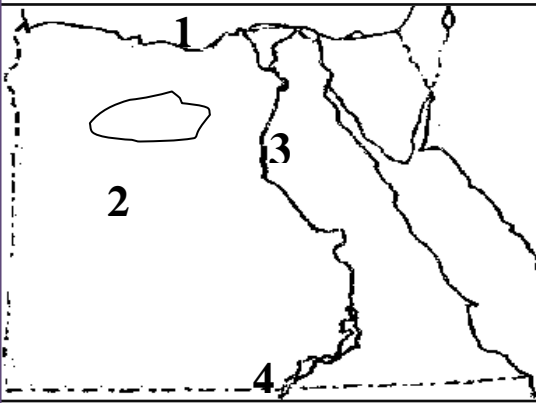
.....

## اكتب ما تدل عليه كل عبارة:

- ① عدم قدرة الفرد على القراءة والكتابة. (.....)
- ② عدم القدرة على التعامل مع الأجهزة التكنولوجية. (.....)
- ③ أعلى محافظات مصر في نسبة الأمية. (.....)

## ختر الإجابة الصحيحة مما بين القوسين:

- ① الحرفة الرئيسة لسكان الريف هي .....  
 ( التجارة - الزراعة - الصيد - الرعي )
- ② يؤدي تسرب التلاميذ من التعليم إلى ظهور مشكلة .....  
 ( التلوث - الضوضاء - الأمية - العشوائيات )
- ③ اخترع المصري القديم الكتابة ..... ليسجل بها أعماله.  
 ( الهيروغليفية - الإنجليزية - العربية - الفرنسية )
- ④ كان ورق الكتابة في مصر القديمة يُصنع من نبات .....  
 ( البردي - البرسيم - الكتان - القطن )
- ⑤ تعتبر محافظة ..... هي أعلى محافظات مصر في نسبة الأمية.  
 ( المنيا - القاهرة - أسوان - المنوفية )
- ⑥ تقل نسبة الأمية في محافظة .....  
 ( المنيا - بني سويف - بورسعيد )



اكتب ما يدل عليه كل رقم:

- ① البحر .....
- ② الصحراء .....
- ③ أعلى محافظات مصر في الأمية .....
- ④ بحيرة .....

ما النتائج المترتبة على:

- ① زيادة عدد المدارس .

.....



## (4) نظام الحكم في بلدنا

تتكون الحكومة المصرية من رئيس الوزراء والوزراء، وهي مسئولة مع رئيس الجمهورية عن إدارة شئون البلاد.



### (1) رئيس الجمهورية:

يتولى رئيس الجمهورية الحكم عن طريق التصويت له في انتخابات عامة، وهو مسئول عن أمن الوطن ورعاية مصالح الشعب، ويمثل مصر محليا ودوليا.



### (2) الحكومة ( السلطة التنفيذية )

تعاون (تساعد) رئيس الدولة وتتكون من رئيس الوزراء والوزراء.

1- تشترك مع رئيس الجمهورية في وضع السياسة العامة للدولة.

2- تنفيذ الخطة العامة للدولة (الخطوات اللازمة للوصول إلى هدف مستقبلي).

3- إعداد الموازنة العامة للدولة ( الأموال اللازمة لتنفيذ الخطة العامة للدولة).



4- إصدار القرارات وفقاً للقوانين.

### (3) مجلس النواب: ( السلطة التشريعية )

هو من يسن ( يضع ) القوانين ويتكون من 596 عضواً يمثلون فئات (أنواع) المجتمع المصري، يتم انتخاب 95% من النواب بينما يختار الرئيس 5% منهم.

### (4) القضاء:



السلطة القضائية سلطة مستقلة تتولاها المحاكم المتنوعة، وتصدر الأحكام في ضوء القانون؛ ليسود العدل.

• صوت كل شخص الانتخابي مهم؛ لأنه يساعد في بناء مستقبل مصر.

• تعمل الدولة على تمثيل (وجود) المرأة والشباب في المجالس النيابية.

## نظام الحكم في مصر القديمة:

مصر من أقدم الدول التي وضعت نظاما للحكم، حيث أسس ( ينى ) المصريون القدماء دولة قوية لها نظام حكم ثابت حقق القوة والرخاء ( الخير )، وساعد على بناء الحضارة المصرية القديمة، وكان يتكون من:

### 1- الفرعون (حاكم البلاد):

على رأس نظام الحكم ومهمته ( عمله ) إدارة شئون البلاد وإصدار القوانين.

### 2- الوزير:

يعاون (يساعد) الحاكم في إدارة شئون البلاد.

### 3- رؤساء الإدارات المركزية ( الوزارات ):

تعاون الوزير في عمله.



- يوجد تشابه كبير بين نظام الحكم في مصر قديما وحديثا.
- وضع القوانين من عمل مجلس النواب، قديما كان من عمل الحاكم (الفرعون)

اليمين (القسم) الدستوري لعضو مجلس النواب يؤديه العضو أمام مجلس النواب، جاء في المادة (104) من الدستور المصري، ويبدأ بـ ( أقسم بالله العظيم أن أحافظ على مخلصا على النظام الجمهوري، وأن أحترم الدستور والقانون..... )

### يمر تشريع (وضع) القانون بعدة مراحل :

- يكتب رئيس الجمهورية أو مجلس الوزراء أو عضو مجلس النواب القانون.
- يعرض رئيس مجلس النواب القانون على الأعضاء.
- تقوم لجنة متخصصة بدراسة القانون، ويوافق النواب في اللجنة عليه.
- يجتمع مجلس النواب وويتم أخذ الأصوات للموافقة على القانون.
- إذا وافق ثلثا الأعضاء يُرسل إلى الرئيس ليوافق عليه ويُنشر في الجريدة الرسمية

## ضع علامة ( ✓ ) أو علامة ( X ) أمام الجمل الآتية :

- ① كان الوزير يساعد الملك في إدارة شئون البلاد قديما. (.....)
- ② كل أعضاء مجلس النواب يتم انتخابهم. (.....)
- ③ مجلس النواب هو من يقول بإصدار القوانين. (.....)
- ④ كلما زادت الأمية انتشرت الخرافات. (.....)
- ⑤ رئيس الجمهورية هو المسئول عن حماية أمن الوطن. (.....)
- ⑥ يتشابه نظام الحكم في مصر قديما وحديثا. (.....)

## أكمل الجمل الآتية بالكلمة المناسبة:

- ① مجلس النواب هو المسئول عن إصدار .....
- ② كان ..... قديما هو من يساعد الملك في إدارة شئون البلاد.
- ③ تعتبر السلطة ..... سلطة مستقلة وتصدر الأحكام.
- ④ يتم انتخاب ..... % من أعضاء مجلس النواب المصري.
- ⑤ كان وضع القوانين قديما من أعمال .....
- ⑥ يختار الرئيس ..... % من أعضاء مجلس النواب المصري.

## بم تفسر:

- ① كان الملك في مصر القديمة يقوم بتعيين الوزير.

## صوب ما تحته خط:

- ① يقوم الوزير بإدارة شئون الدولة. (.....)
- ② السلطة التنفيذية هي السلطة المستقلة. (.....)

## ختر الإجابة الصحيحة مما بين القوسين:

- ① السلطة القضائية هي التي تتولى إدارة .....  
 ( المدارس – المستشفيات – المصانع – المحاكم )
- ② منصب رئيس الجمهورية يُقابل منصب ..... قديماً.  
 ( الوزير – الملك – المحافظ – رئيس الوزراء )
- ③ كان ..... يُساعد الملك في مصر القديمة .  
 ( الوزير – الرئيس – المحافظ – الكاهن )
- ④ تقوم ..... بإصدار القرارات الوزارية وفقاً للقوانين.  
 ( المصانع – الحكومة – المدارس – الشوارع )
- ⑤ تُصدر المحاكم الأحكام اعتماداً على القوانين ليسود وينتشر .....  
 ( الظلم – العدل – الظلام – التلوث )
- ⑥ يمثل الدولة ..... محلياً و دولياً .  
 - الوزير - المحافظ  
 - رئيس الحكومة - رئيس الجمهورية

## صوب الخطأ:

- ① يقوم رئيس الوزراء بإدارة شئون البلاد . ( ..... )
- ② أسس المصريون القدماء دولة ضعيفة قديماً. ( ..... )

## ما النتائج المترتبة على:

- ① أسس ( ينى ) المصريون القدماء دولة قوية لها نظام حكم ثابت.

.....

## (5) من يحكم محافظتي

- عدد محافظات مصر 27 محافظة.

### المحافظ:

هو الشخص المسئول عن إدارة شئون المحافظة، ويمثل السلطة التنفيذية (الحكومة) في المحافظة، ويُعينه رئيس الجمهورية.

### من أعمال المحافظ:



(1) يقوم بحفظ الأمن والنظام وحقوق الإنسان.

(2) حماية الممتلكات العامة في المحافظة.

(3) متابعة الخدمات العامة ( التعليم – الصحة – الأمن .... ) في محافظته.

(4) تنفيذ المشروعات في المحافظة وتوفير فرص عمل لأبناء المحافظة.

### المجلس المحلي:

هو جهاز تابع للمحافظة يعاون (يساعد) المحافظ ويتكون من عدد من الأشخاص الذين يمثلون سكان المحافظة، ويتم انتخاب المجلس كل أربع سنوات ليساعد المحافظ في إدارة شئون المحافظة وتنفيذ المشروعات وخطط التنمية، تطوير العشوائيات وصيانة المدارس والمرافق العامة.

### دور المواطن في تطوير المحافظة:

- أن يحافظ على الممتلكات العامة في المحافظة مثل:

( الحدائق – المدارس – وسائل المواصلات )

- يشارك في الأعمال التطوعية لخدمة المحافظة ( حملات تنظيف الحي ).



## حُكام الأقاليم ( المحافظات ) في مصر القديمة:

كانت مصر قديماً تنقسم إلى 42 إقليمًا، وكان الفرعو (الملك) يعين لكل إقليم حاكماً يدير شئون الإقليم، ويحفظ الأمن فيه، وينفذ المشروعات به، وحاكم الإقليم يشبه المحافظ حالياً .



نصت المادة ( 180 ) من دستور مصر عام ( 2014 ) على أن يُخصص ربع عدد المقاعد في المجلس المحلي للشباب أقل من 35 سنة، وربع عدد المقاعد للمرأة، وألا يقل نسبة العمال والفلاحين عن 50% من مقاعد المجلس.

## المحافظ الحالي لمحافظة:

- محافظة هي محافظة: .....
- اسم المحافظ هو: .....

## تهدف الدولة من خلال المشروعات القومية:

- إلى تحسين مستوى معيشة المواطنين.
- توفير فرص عمل لهم.
- القضاء على الفقر والجوع .
- حماية موارد البيئة.



## ضع علامة ( ✓ ) أو علامة ( X ) أمام الجمل الآتية :

- ① يتشابه حكام الأقاليم مع المحافظين حالياً. (.....)
- ② من أعمال المحافظ حفظ الأمن في محافظته. (.....)
- ③ يتم انتخاب المجلس المحلي كل 8 سنوات . (.....)
- ④ دور المواطن هو أن يحافظ على الممتلكات العامة. (.....)
- ⑤ تتكون مصر من 53 محافظة لكل محافظة محافظ. (.....)
- ⑥ يتم تمثيل المرأة والشباب في المجلس المحلي. (.....)

## أكمل الجمل الآتية بالكلمة المناسبة:

- ① الإشراف على الأمن في محافظة من أعمال .....
- ② عدد محافظات مصر ..... محافظة .
- ③ متابعة المشروعات في المحافظة من أعمال .....
- ④ اسم محافظتي هو محافظة .....
- ⑤ اسم المحافظ في محافظتي هو .....
- ⑥ في المجلس المحلي يتم تمثيل العمال والفلاحين بنسبة ..... %

## بم تفسر:

- ① أهمية وجود المجلس المحلي في كل محافظة .

## اكتب ما تدل عليه كل عبارة:

- ① مجلس يعاون المحافظ في عمله . (.....)
- ② من يتولى إدارة المحافظة وحفظ الأمن بها. (.....)

## ختر الإجابة الصحيحة مما بين القوسين:

- ① الحفاظ على الأمن في المحافظة من مسئوليات .....  
 ( القاضي - المحافظ - النائب - السائق )
- ② عدد محافظات مصر ..... محافظة .  
 ( 25 - 26 - 27 - 28 )
- ③ نسبة الشباب في المجالس المحلية .....  
 ( الربع - الثلث - النصف - الخمس )
- ④ يعاون ..... المحافظ في إدارة شئون المحافظة.  
 - مجلس النواب - الرئيس  
 - المجلس المحلي - الملك
- ⑥ يُقابل منصب المحافظ حالياً منصب ..... قديماً .  
 - الملك - حاكم الإقليم  
 - الفرعون - رئيس الدولة

## صوب كل خطأ في الجمل:

- ① تزداد نسبة البطالة بين الذكور. ( ..... )
- ② يقابل منصب الوزير حالياً منصب الملك قديماً. ( ..... )
- ③ يتولى الوزير رئاسة الحكومة المصرية. ( ..... )

## المحافظ الحالي لمحافظة

- محافظتي هي محافظة: .....
- اسم المحافظ هو: .....

## (6) تراثنا الوطني

### اليوم العالمي للتراث:

تحتفل منظمة اليونسكو ( منظمة الأمم المتحدة للتربية والعلوم والثقافة ) في 18 أبريل من كل عام بـ ( يوم التراث العالمي ) وذلك بتوعية دول وشعوب العالم بضرورة حماية التراث الطبيعي والثقافي .

### من أمثلة التراث الثقافي:

- 1- الصناعات والحرف التراثية وعادات وتقاليد الشعوب في المأكل والملبس.
- 2- الفنون الشعبية .
- 3- الأماكن السياحية والأثرية العظيمة مثل المعابد والمساجد والكنائس والأديرة.

### التراث الطبيعي:

هي المواقع الطبيعية (من صنع الله) الجميلة ذات القيمة العالمية والتي لم يتدخل الإنسان في صنعائها مثل:

(1) محمية الغابة المتحجرة. (2) محمية رأس محمد. (3) محمية وادي الريان.

### قلعة صلاح الدين:



توجد في جزيرة فرعون في مدينة طابا جنوب سيناء وقد بنيت؛ لحماية الطرق البرية والبحرية بين مصر وجيرانها، وتأمين خليج العقبة والبحر الأحمر من الأعداء.

### محمية الغابة المتحجرة:



توجد شرق حي المعادي بالقاهرة، ويوجد بها مجموعة من الأشجار المتحجرة على شكل قطع صخرية على شكل غابة .

## قائمة التراث العالمي:

تشجع منظمة اليونسكو دول العالم على تحديد مواقع التراث الطبيعي والثقافي فيها، وتختار اليونسكو الأماكن المميزة لتكون ضمن قائمة التراث العالمي. تُساعد تلك القائمة المواطنين على زيارة هذه المواقع والحفاظ عليها وتحفيز (تشجيع) الدول على الحفاظ عليها وتطويرها.

زيارة السياح لهذه المناطق يساعد على زيادة الدخل القومي للدولة، وتقوم منظمة اليونسكو بمساعدة هذه الدول في حماية هذه الأماكن من الخطر مثل ترميم مدينة صنعاء القديمة في اليمن.

### محمية رأس محمد:



توجد محمد رأس محمد عند التقاء خليج السويس مع

خليج العقبة وتتميز بالشعاب المرجانية والأسماك الملونة والسلاحف البحرية المهددة بالإنقراض (الانتهاء).

### من أماكن التراث الطبيعي في مصر:

( الوادي الملون في سيناء – محميو الصحراء البيضاء في الوادي الجديد )

### من أماكن التراث الثقافي في مصر:


( مسجد أحمد بن طولون في القاهرة – معبد أبي سمبل في أسوان )

### محمية وادي الريان:

من أهم المعالم ( الأماكن ) السياحية في محافظة الفيوم يتميز بالبحيرات والشلالات ووجود الثعالب والغزلان، وهي تراث طبيعي يجذب السياح ويزيد الدخل القومي.

### • سور مجرى العيون:

من التراث الثقافي المهم في القاهرة، بناه صلاح الدين الأيوبي؛ ليحمل المياه من النيل إلى القلعة، وتطوره الدولة





## ضع علامة ( ✓ ) أو علامة ( X ) أمام الجمل الآتية :

- ① توجد في محمية وادي الريان كثير من الحيوانات النادرة. (.....)
- ② خصصت منظمة اليونسكو يوما للاحتفال بالتراث العالمي. (.....)
- ③ مسجد (أحمد بن طولون) منطقة تراث طبيعي. (.....)
- ④ مواقع التراث الطبيعي من صنع الإنسان. (.....)
- ⑤ قلعة صلاح الدين في طابا لها موقع متميز . (.....)
- ⑥ محمية رأس محمد توجد على شاطئ البحر المتوسط(.....)

## أكمل الجمل الآتية بالكلمة المناسبة:

- ① توجد محمية الغابة المتحجرة في محافظة .....
- ② قلعة صلاح الدين توجد في مدينة ..... بجنوب سيناء.
- ③ تحتفل منظمة اليونسكو باليوم العالمي للتراث يوم 18 من شهر .....
- ④ سور ..... يقوم بتوصيل مياه نهر النيل إلى القلعة.
- ⑤ من الحيوانات البرية النادرة في وادي الريان حيوان .....
- ⑥ زيارة ..... لمناطق التراث العالمي يساعد على زيادة الدخل القومي للدولة.

## بم تفسر:

- ① أهمية قلعة صلاح الدين في طابا .

- ② بناء صلاح الدين الأيوبي لـ سور مجرى العيون قديما .

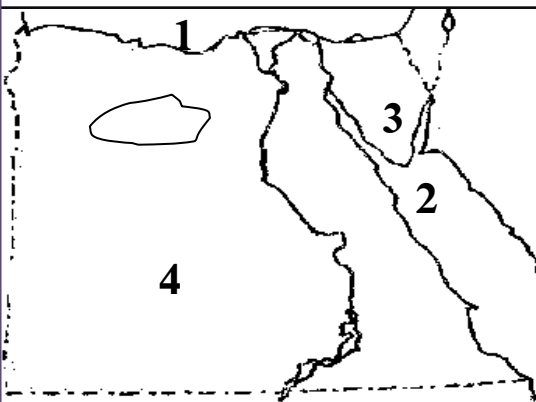
## اكتب ما تدل عليه كل عبارة:

- ① هي المواقع الطبيعية الجميلة ذات القيمة العالمية. (.....)

## ختر الإجابة الصحيحة مما بين القوسين:

- ① توجد محمية الغابة المتحجرة في محافظة .....  
 ( المنيا - سيناء - أسوان - القاهرة )
- ② توجد محمية وادي الريان في محافظة .....  
 ( الفيوم - سيناء - أسوان - القاهرة )
- ③ من الحيوانات التي تعيش في وادي الريان .....  
 ( الأسد - النمر - الفيل - الغزال )
- ④ من مناطق التراث الطبيعي في الفيوم .....  
 - محمية وادي الريان - محمية رأس محمد  
 - سور مجرى العيون - ترعة بحر يوسف
- ⑤ تصل مياه نهر النيل إلى القلعة عن طريق .....  
 - السد العالي - حصن بابليون  
 - سور مجرى العيون - ترعة بحر يوسف

## اكتب ما يدل عليه كل رقم:



- ① البحر
- ② البحر
- ③ محمية توجد في جنوب سيناء
- ④ الصحراء

## ما النتائج المترتبة على:

- ① كثرة مناطق التراث الطبيعي في مصر.

## (7) الأماكن التراثية في بلدنا

يوجد في مصر العديد (الكثير) من المواقع التراثية المسجلة في خريطة التراث

العالمي لليونسكو منها:

### (1) آثار النوبة:

مثل معبد (أبو سمبل) ومعبد إيزيس بجزيرة فيلة،  
وقد ساهمت ( شاركت ) منظمة اليونسكو في إنقاذها  
من الغرق بعد بناء السد العالي ونقلهما إلى مكانهما.

### (2) القاهرة التاريخية:

تعتبر مدينة القاهرة التاريخية من أكبر المدن التراثية  
في العالم تتميز بتعدد المباني والآثار التاريخية والتي  
تعبّر عن تاريخ القاهرة بصفتها عاصمة عريقة.

### (3) وادي الحيتان:

تقع في محافظة الفيوم، وبها هياكل وعظام لحيتان  
وأسماء كانت تعيش في المكان منذ 40 مليون سنة  
حيث كان الماء يغطي المكان، وبه كائنات حية مثل:

الصقور والثعالب والغزلان.


### (4) منطقة أبو مينا:

توجد في الإسكندرية بجوار مدينة برج العرب، ويرجع  
تاريخها إلى فترة الحكم الروماني لمصر، وهذه المنطق

مهددة بخطر التآكل بسبب التربة والمياه.

### (5) دير سانت كاترين:

يوجد في جبل سيناء في جنوب سيناء وهو من أقدم  
الأديرة في مصر وبه تلقى موسى الوصايا من الله.



• توجد في مصر أماكن أخرى مدرجة على خريطة التراث العالمي مثل:



1- مدينة طيبة ( الأقصر ) .

2- منطقة الأهرامات من الجيزة حتى دهشور.

معايير (أسس) اختيار الأماكن على قائمة التراث العالمي:

من هذه المعايير:

(1) أن يضم المكان أماكن فائقة (عظيمة) الجمال.

(2) أن يكون دليل على حضارة عظيمة .

(3) أن يعكس مراحل مهمة من التطور عبر العصور.



طريق الكباش:

هو طريق يصل بين معبد الكرنك ومعبد الأقصر

طوله 2700 متر وعرضه 70 متر، أنشأه

المصريون القدماء للاحتفال وهو مزين بتمائيل

على شكل كباش، وتم تطوير هذا الطريق وإعادة افتتاحه.

تؤثر التغيرات المناخية في مواقع (أماكن) التراث العالمي مثل:

- ارتفاع درجات الحرارة .

- ذوبان الجليد .

- الجفاف وحرائق الغابات.



- يمكن للدول تحديد بعض المواقع (الأماكن) وعرضها على اليونسكو لتنضم

لقائمة التراث العالمي.

## ضع علامة ( ✓ ) أو علامة ( X ) أمام الجمل الآتية :

- ① الأهرامات الثلاثة من مناطق التراث الطبيعي. (.....)
- ② محافظة القاهرة هي عاصمة مصر وهي مدينة عريقة. (.....)
- ③ يقع دير سانت كاترين في محافظة جنوب سيناء . (.....)
- ④ يرجع إنشاء منطقة ( أبو مينا ) إلى العصر الإسلامي. (.....)
- ⑤ يوجد بمنطقة وادي الحيتان هياكل عظمية للديناصورات (.....)
- ⑥ تسهم اليونسكو في الحفاظ على التراث العالمي . (.....)

## أكمل الجمل الآتية بالكلمة المناسبة:

- ① تعرض معبد (أبوسمبل) للغرق بعد بناء .....
- ② يقع دير سانت كاترين في محافظة .....
- ③ يوجد معبد إيزيس في جزيرة ..... بمحافظة أسوان.
- ④ توجد محمية وادي الحيتان في محافظة .....
- ⑤ مدينة ..... هي عاصمة مصر وهي مدينة عريقة.
- ⑥ دير ..... يوجد على قائمة التراث العالمي لليونسكو.

## صوب ما تحته خط:

- ① توجد محمية وادي الريان في محافظة الإسكندرية . (.....)
- ② توجد هياكل عظام لـديناصورات في محمية وادي الحيتان. (.....)
- ③ يقع دير العائلة المقدسة في محافظة جنوب سيناء. (.....)
- ④ قامت اليونسكو بإنقاذ معبد الكرنك بعد بناء السد العالي. (.....)
- ⑤ يصل طريق الحرية بين معبد الكرنك ومعبد الأقصر . (.....)



## ختر الإجابة الصحيحة مما بين القوسين:

① أنقذت اليونسكو معبد ..... من الغرق بعد بناء السد العالي.

- أبوسمبل - حتشبسوت

- الكرنك - الدير البحري

② يوجد دير سانت كاترين في محافظة .....

- جنوب سيناء - الوادي الجديد

- شمال سيناء - مرسى مطروح

③ من المناطق التراثية المهدد بسبب خطر تآكل التربة .....

- دير سانت كاترين - منطقة أبو مينا

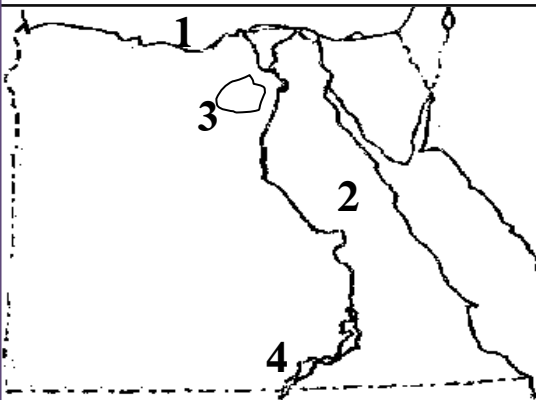
- معبد أبو سمبل - محمية وادي الريان

④ يوجد معبد أبو سمبل في جزيرة .....

( الذهب - فيلة - الزمالك - شدوان )

⑤ يوجد معبد أبو سمبل في جزيرة .....

( الذهب - فيلة - الزمالك - شدوان )



اكتب ما يدل عليه كل رقم:

① البحر .....

② الصحراء .....

③ مدينة يوجد بها وادي الحيتان .....

④ بحيرة .....

ما النتائج المترتبة على:

① بناء السد العالي.

.....

.....

## (8) الأماكن السياحية والأثرية في بلدنا

### من الأماكن السياحية في مصر:

- (1) قلعة صلاح الدين (القاهرة).
- (2) مجمع الأديان في ( القاهرة ) .
- (3) برج القاهرة ( القاهرة ) .
- (4) الأهرامات وأبو الهول ( الجيزة ) .
- (5) هرم سقارة المدرج ( الجيزة ) .
- (6) قلعة قايتباي ( الإسكندرية ) .
- (7) المسرح الروماني (الإسكندرية) (8) السيرابيوم وعمود السواري (الإسكندرية)
- (9) قلعة صلاح الدين طابا (سيناء) (10) دير سانت كاترين ( جنوب سيناء ) .
- (11) معبد الكرنك ( الأقصر ) .
- (12) معبد الدير البحري ( الأقصر ) .
- (14) معبد فيلة ( أسوان ) .
- (15) معبد ( أبو سمبل ) ( أسوان ) .
- (16) دير المحرق ( أسيوط ) .
- (17) قلعة شالي ( سيوة ) .
- (18) تل بسطة ( الشرقية ) .

– مصر بلد سياحي له تاريخ عريق منذ 7000 سنة، عاشت على أرضها كثير من الحضارات مثل:

- الحضارة الفرعونية.
- الحضارة الرومانية .
- الحضارة القبطية.
- الحضارة الإسلامية.

### (1) مدينة شرم الشيخ:

تقع (توجد) جنوب سيناء تتميز بجوها المعتدل ومناظرها الخلابة (الجميلة) مثل: الجبال الشاهقة (المرتفعة) ومياه البحر الأحمر الصافية والشعاب المرجانية ، واختارتها منظمة اليونسكو أفضل مدينة سلام في العالم.




## (2) الأهرامات وأبوالهول:

بنى المصريون القدماء أهرامات (خوفو – خفرع – منكاورع) على هضبة مرتفعة في الجيزة، غرب وادي النيل؛ لتكون بعيدة عن فيضان النيل. كان الملك يُدفن في الهرم ومعه الملبس والمشرب والطعام؛ لأن المصريين كانوا يعتقدون في البعث والخلود بعد الموت.



بنى الملك خفرع تمثال أبوالهول على شكل رأس إنسان وجسم أسد؛ ليكون رمزا للقوة وحماية الأهرامات (مقابر الملوك) من السرقة.



## (3) مجمع الأديان:

يقع في حي مصر القديمة في القاهرة ويضم عدد من الآثار الرومانية واليهودية والقبطية والإسلامية، مثل:

1- حصن بابليون: الذي بُني في عهد الاحتلال الروماني لمصر.

2- الكنيسة المعلقة: وهي من أقدم الكنائس في مصر ومرتفعة عن الأرض وسُميت بالمعلقة لأنها بُنيت على أنقاض الأبراج الجنوبية لحصن بابليون.

3- المعبد اليهودي: يوجد في نهاية منطقة الكنائس في الفسطاط.

4- جامع عمرو بن العاص: بناه عمرو بن العاص في عصر عمر بن الخطاب.

## (4) برج القاهرة:

يقع في جزيرة الزمالك في نهر النيل وهو من المعالم (الأماكن) السياحية الحديثة، صممه المهندس الراحل (نعوم شبيب) على شكل زهرة اللوتس المصرية وهي رمز للحضارة المصرية القديمة.



- يعرض متحف الحضارة القومي قطع أثرية تساعد الزائر على فهم الحضارة

المصرية عبر العصور المختلفة في قلب الفسطاط بمدينة القاهرة، افتتح 2021 م.

## ضع علامة ( ✓ ) أو علامة ( X ) أمام الجمل الآتية :

- ① شُيِّدت الكنيسة المعلقة على أنقاض أحد أبراج حصن بابلون. (.....)
- ② صمم المهندس نعيم شبيب برج القاهرة على شكل زهرة اللوتس. (.....)
- ③ تمثال ( أبو الهول له رأس أسد وجسم إنسان ليدل على القوة. (.....)
- ④ تم نحت تمثال ( أبو الهول ) في عهد الملك خفرع . (.....)
- ⑤ توجد منطقة مجمع الأديان في محافظة القاهرة . (.....)
- ⑥ يوجد المتحف القومي للحضارة في محافظة الجيزة . (.....)

## أكمل الجمل الآتية بالكلمة المناسبة:

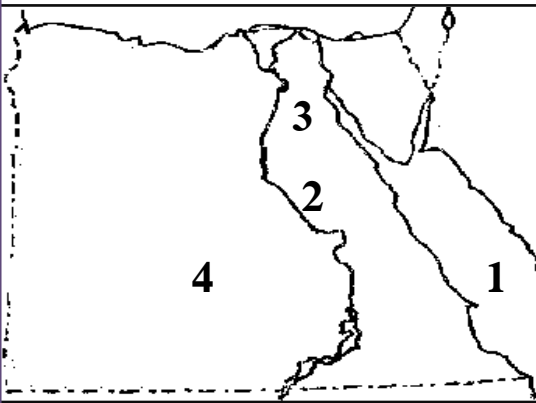
- ① اختارت اليونسكو مدينة..... لتكون أفضل مدينة سلام في العالم.
- ② شيد ( بنى ) الملك..... تمثال ( أبو الهول ).
- ③ بنى المصريون القدماء الأهرامات الثلاثة في محافظة.....
- ④ توجد محمية رأس محمد في محافظة.....
- ⑤ تم تصميم برج القاهرة ليكون على شكل زهرة.....
- ⑥ تم إنقاذ آثار معبد ( أبو سمبل ) بمساعدة منظمة.....

## بم تفسر

- ① تم تصميم برج القاهرة على شكل زهرة اللوتس.  
.....
- ② بناء الأهرامات فوق هضبة مرتفعة .  
.....
- ③ بنى الملك خفرع تمثال أبو الهول على شكل رأس إنسان وجسم أسد.  
.....

## ختر الإجابة الصحيحة مما بين القوسين:

- ① توجد منطقة مجمع الأديان في محافظة .....  
 - الإسكندرية - الأقصر  
 - بورسعيد - القاهرة  
 ② بنى ..... جامع عمرو بن العاص في القاهرة.  
 - عثمان بن عفان - عمرو بن العاص  
 - أبوبكر الصديق - خالد بن الوليد  
 ③ المدينة التي اختارتها اليونسكو كأفضل مدينة سلام هي .....  
 - كفر الشيخ - مرسى مطروح  
 - شرم الشيخ - الغردقة  
 ④ يرجع تمثال ( أبو الهول ) إلى عهد الملك .....  
 ( خوفو - خفرع - منكاورع - زوسر )  
 ⑤ تم بناء برج القاهرة على شكل زهرة .....  
 ( الياسمين - الفل - اللوتس - الكاميليا )



اكتب ما يدل عليه كل رقم:

- ① البحر .....
- ② نهر .....
- ③ مدينة بها مجمع الأديان .....
- ④ الصحراء .....

برهن على ( هات دليلا ):

- ① كان المصريون القدماء يعتقدون في البعث والخلود بعد الموت.

.....

.....




## (9) السياحة واقتصاد بلدنا

### أنواع السياحة في مصر:

يأتي السياح إلى مصر لأغراض (لأهداف) متعددة (كثيرة) منها الترفيهية العلاج  
وزيارة الأماكن التاريخية..

#### (1) السياحة الثقافية:

زيارة الأماكن التاريخية والثقافية مثل الأهرامات وشارع المعز  
وخان الخليلي في القاهرة، والمتاحف ودار الأوبرا ومكتبة  
الإسكندرية ، والمتاحف .



#### (2) السياحة الترفيهية:

زيارة الأماكن الطبيعية الخلابة (الجميلة) مثل نهر النيل  
ومدينة دهب وشرم الشيخ والغردقة، ومدينة مرسى مطروح  
والعلمين ورحلات السفاري في الصحراء.




#### (3) السياحة العلاجية:

زيارة الرمال الساخنة للعلاج في الوادي الجديد ،  
و عيون موسى جنوب سيناء، والعيون الكبرى  
في سيوة للعلاج .




#### (4) سياحة المؤتمرات والمهرجانات:

زيارة السياح لحضور المؤتمرات والمعارض والمهرجانات،  
وقد استضافت مصر الكثير من المؤتمرات مثل: مؤتمر  
النقل الذكي ، ومعارض مثل: معرض القاهرة الدولي  
للكتاب، ومهرجان الإسماعيلية للفنون الشعبية.



## أهمية السياحة:

بلغ (وصل) عدد السياح الوافدين إلى مصر 13 مليون عام 2019 م ، وتساهم السياحة في دعم الاقتصاد المصري عن طريق:



- (1) توفر فرص عمل للشباب.
- (2) هي المصدر الأول للعملة الأجنبية في مصر.
- (3) تسهم بـ 12% من إجمالي الدخل القومي لمصر .

## جهود الدولة لتطوير السياحة:

تهتم الدولة بإنشاء وتطوير المنشآت ( المباني) السياحية مثل القرى السياحية والفنادق، وترميم المناطق الأثرية وتوفير وسائل النقل.

السياحة المستدامة: تهتم مصر بالسياحة المستدامة للحفاظ على البيئة وترشيد (تقليل) استهلاك الطاقة، والتخلص من النفايات بشكل آمن، والحفاظ على الشعب المرجانية.

## المدونة العالمية لأخلاقيات السياحة:

تتضمن عشرة مبادئ أساسية لتحقيق السياحة المستدامة؛ للحفاظ على البيئة، واحترام ذوي الاحتياجات والمساواة بين الرجل والمرأة.



## ضع علامة ( ✓ ) أو علامة ( X ) أمام الجمل الآتية :

- ① مكتبة الإسكندرية من أماكن السياحة الثقافية . (.....)
- ② تعمل الدولة على توفير وسائل المواصلات المريحة للسياح. (.....)
- ③ السياحة تقلل من فرص العمل للشباب . (.....)
- ④ تقع مدينة شرم الشيخ على شاطئ البحر المتوسط . (.....)
- ⑤ زيارة الشواطئ من أنواع السياحة الترفيهية . (.....)
- ⑥ ازدهار السياحة يزيد من الدخل القومي لمصر . (.....)

## أكمل الجمل الآتية بالكلمة المناسبة:

- ① تقع مدينة شرم الشيخ على شاطئ البحر .....
- ② السياحة المستدامة هدفها الحفاظ على .....
- ③ رحلات السفاري في الصحراء من السياحة .....
- ④ تعتبر مكتبة الإسكندرية من أماكن السياحة .....
- ⑤ توفر السياحة فرص ..... للشباب .
- ⑥ تدعم السياحة ..... الحفاظ على البيئة ومواردها.

## صوب ما تحته خط:

- ① زيارة المتاحف من أنواع السياحة العلاجية. (.....)
- ② زيارة معرض القاهرة الدولي للكتاب سياحة ترفيهية. (.....)

## أجب:

- ① ما العلاقة بين السياحة والدخل القومي؟

.....

## ختر الإجابة الصحيحة مما بين القوسين:

① تعتبر ..... المصدر الأول للعملات الأجنبية في مصر .

- السياحة - الزراعة

- التجارة - الصناعة

② من أماكن السياحة العلاجية في مصر .....

- مكتبة الإسكندرية - عيون موسى في سيناء

- معرض القاهرة للكتاب - مهرجان الإسماعيلية

③ تسهم السياحة بنحو ..... من إجمالي الدخل القومي في مصر .

- 12% - 20%

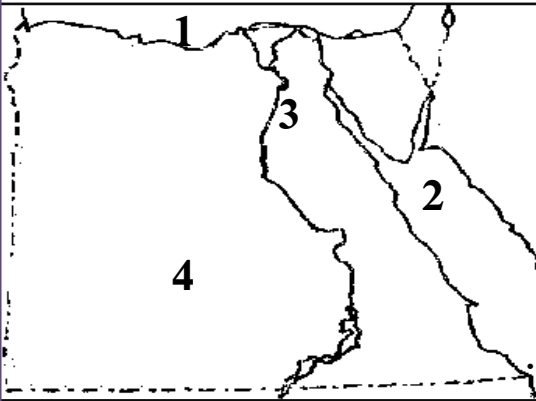
- 50% - 30%

## كتب ما تدل عليه العبارة:

① سياحة تهتم بالحفاظ على البيئة ومواردها. ( ..... )

② رحلات يقوم فيها السياح في الصحراء . ( ..... )

## اكتب ما يدل عليه كل رقم:



① البحر .....

② البحر .....

③ مدينة بها شارع المعز التاريخي .....

④ الصحراء .....

## بم تفسر :

① للسياحة أهمية كبيرة .

## (10) مسئوليتنا نحو تراث بلدنا

الأماكن السياحية والمواقع الأثرية جزء مهم من تراث بلدنا، يأتي السياح إليها للاستمتاع بها.

### واجبنا نحو الأماكن الأثرية:

- 1- المحافظة على نظافة الأماكن الأثرية.
  - 2- عدم لمس القطع الأثرية.
  - 3- بعض الآثار لا يفضل استخدام فلاش التصوير لأثره الضار بالآثار.
  - 4- عدم الكتابة على الآثار أو خدشها.
  - 5- نحسن معاملة السياح وتقديم المساعدة لهم.
- ### جهود الدولة للحفاظ على المناطق الأثرية:

- 1- صيانة المناطق الأثرية وترميمها.
- 2- إصدار قوانين تجرم الإتجار بالآثار.
- 3- تطوير المناطق الأثرية، مثل القاهرة التاريخية.


### تطوير القاهرة التاريخية:

يهدف المشروع إلى حماية المناطق الأثرية في القاهرة التاريخية، وتم تنفيذ أعمال الترميم في مناطق الغورية والدرب الأحمر وترميم مسجد أحمد بن طولون ومشروع تطوير شارع المعز.

### تطوير منطقة الأهرامات:

تهدف الدولة إلى تحويل منطقة الأهرامات إلى متحف مفتوح، وإقامة الفنادق به وتوفير الخدمات السياحية، وإنشاء ممشى سياحي به.

- كان مشهد موكب المومياوات الملكية الذي بدأ من ميدان التحرير إلى المتحف القومي للحضارة حدثاً عظيماً.





## هيئات مؤثرة في المجتمع المصري

### الجهاز المركزي للتعبئة العامة والإحصاء:

- تهتم الدولة منذ قديم الزمان بجمع البيانات (المعلومات).
- تم إنشاؤه عام 1964 م
- هو هيئة مستقلة تابعة لرئاسة الجمهورية .
- يوجد له فروع في جميع محافظات مصر.



### أعمال الجهاز المركزي للتعبئة العامة والإحصاء:

- 1- جمع المعلومات وتحليلها.
- 2- نشر الإحصاءات والتقارير الخاصة بالدولة.
- 3- إجراء التعداد السكاني كل 10 سنوات، كان آخرها عام 2017 م

### منظمة اليونسكو:

- هي منظمة الأمم المتحدة للتربية والعلوم والثقافة .
- تأسست عام 1945 م .
- اضمت مصر إلى اليونسكو عام 1964 م وبها 7 مواقع منظمة لقائمة اليونسكو للتراث العالمي..

- تهدف إلى نشر السلام ونبذ (ترك) الكراهية والعنف.

### أعمال منظمة اليونسكو:

- تهدف إلى توعية الدولة بأهمية التعليم الجيد.
- القضاء على الفقر والمساواة بين الرجل والمرأة .
- الحفاظ على التراث الطبيعي والثقافي.

### ضع علامة ( ✓ ) أو علامة ( X ) أمام الجمل الآتية :

- ① يجب علينا أن نحافظ على نظافة الأماكن السياحية. (.....)
- ② عندما أقوم بزيارة الآثار أقوم بكتابة اسمي على التماثيل. (.....)
- ③ تقوم الدولة بتطوير الأماكن السياحية لجذب السياح. (.....)
- ④ تسمح الدولة بتجارة وبيع الآثار دون أي عقوبات . (.....)
- ⑤ ترميم قصر محمد علي من مشروعات تطوير القاهرة. (.....)
- ⑥ تطوير طريق الكباش دليل على اهتمام الدولة بالآثار. (.....)

### أكمل الجمل الآتية بالكلمة المناسبة:

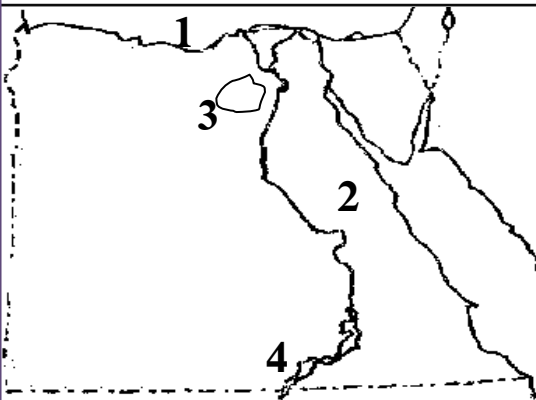
- ① قامت الدولة بإصدار ..... لمنع تجارة الآثار.
- ② يوجد مسجد أحمد بن طولون في محافظة .....
- ③ يجب علينا أن نحسن معاملة ..... لتشجيع السياحة.
- ④ تمثال ( أبو الهول ) له رأس ..... .
- ⑤ لا تسمح بعض المتاحف باستخدام ..... الكاميرا عند التصوير.
- ⑥ توجد الأهرامات الثلاثة في محافظة .....

### صوب ما تحته خط:

- ① تهدف الدولة إلى تحويل منطقة شبرا إلى متحف مفتوح. (.....)
- ② يوجد دير سانت كاترين في القاهرة . (.....)
- ③ منطقة الأهرامات من مناطق التراث الطبيعي. (.....)
- ④ يوجد معبد ( أبو سمبل ) في محافظة القاهرة . (.....)
- ⑤ الإسكندرية هي عاصمة جمهورية مصر العربية . (.....)

## ختر الإجابة الصحيحة مما بين القوسين:

- ① من الأماكن التي قامت الدولة بتطويرها في القاهرة .....  
 - طريق الكباش - شارع المعز  
 - معبد الكرنك - وادي الريان
- ② مدينة ..... تطلق عليها منظمة اليونسكو مدينة السلام .  
 - مرسى مطروح - بورسعيد  
 - شرم الشيخ - الإسكندرية
- ③ عندما أزور مكتبة الإسكندرية تُسمى سياحة .....  
 - علاجية - ثقافية  
 - ترفيهية - مهرجانات
- ④ بنى الملك ..... تمثال ( أبو الهول ) .  
 - خوفو - منكاورع  
 - خفرع - مينا



اكتب ما يدل عليه كل رقم:

- ① البحر .....
- ② الصحراء .....
- ③ مدينة يوجد بها وادي الحيتان .....
- ④ بحيرة .....

ما النتائج المترتبة على:

- ① تطوير الأماكن السياحية في مصر .

.....

.....

## (11) تطور وسائل النقل وتأثيرها في المجتمع

- تم إنشاء متحف السكك الحديدية عام 1932 م .
- تغيرت وسائل النقل عبر الزمن، فقد استخدم المصري القديم الدواب (الحيوانات) مثل: الحصان والحمار والجمال في نقل الأشياء، كما استخدم القوارب والسفن،
- صنع أول قارب (مركب) سنة 4000 قبل الميلاد، وكانت هذه السفن تستخدم في نقل الركاب والتجارة والاحتفال.

- من أشهر رحلات التجارة رحلات الملك سنفر إلى بلاد فينيقيا؛ لجلب (إحضر) خشب الأرز، ورحلات الملكة حتشبسوت إلى بلاد بونت لجلب البخور والأخشاب.
- وقد تطورت وسائل النقل المائي في العصر الحديث لتشمل البواخر وناقلات النفط والغواصات.



- العربة الحربية التي يجرها حصان دخلت مصر مع غزو الهكسوس لمصر واستخدمت في أغراض (أهداف) متعددة (كثيرة) مثل: السفر والصيد.

- دخلت السيارات مصر عام 1890 م في عهد الخديوي (الملك) توفيق، وكانت تعمل بالبخار وتطورت السيارات عبر الزمن.

- مصر أول دولة في إفريقيا والشرق الأوسط تستخدم السكك الحديدية وثاني دولة في العالم بعد المملكة المتحدة، وكان أول خط سكة حديد بين القاهرة والإسكندرية عام 1856 م ثم انتشرت خطوط السكة الحديد في جميع محافظات مصر لنقل الركاب والبضائع.

إهداء الأستاذ/ أحمد بدير عبد العاطي

- أول من حاول الطيران هو (عباس بن فرناس) باستخدام جناحين يشبهان أجنحة الطيور، ونجح الأخوان (رايت) في اختراع أول طائرة عام 1903 م ، وتأسست شركة مصر للطيران عام 1932 م وهي أول شركة طيران في الشرق الأوسط وشركة عالمية، والتي كانت من شركات بنك مصر.

- توفر وسائل النقل الوقت والجهد، وتنقل الأفراد والسلع (البضائع) من مكان إلى آخر، وبفضل العلم هرت وسائل نقل حديثة سهلت عملية السفر والتنقل.

### تطور صناعة السفن في مصر القديمة:

عندما استقر (عاش) المصريون القدماء بجانب نهر النيل تعلموا حرفة الزراعة، واستخدموا القوارب (المراكب) كوسيلة نقل نهري لنقل الأفراد والبضائع، وكانت



القوارب عبارة عن مجموعة من جذوع الأشجار يتم ربطها بالأعشاب المتينة (القوية) مثل نبات البردي، وكانوا يستخدمون أيديهم وأقدامهم لتحرك القارب، ثم صنعوا بها مقاعد واستخدموا قطع من الخشب للتجديف.

- ثم تطورت استخدمت في البحار للتجارة بين مصر والدول الأخرى، ومن أشهر المراكب في مصر مركب (خوفو) والذي تم اكتشافه عام 1954 م جنوب هرم خوفو وهو أقدم مصنوع من الخشب في التاريخ، وهو موجود بالمتحف المصري.

- الدراجة وسيلة نقل غير مكلفة وصديقة للبيئة، واستخدامها يمكن أن يخفف

الازدحام في القاهرة، وقامت الدولة بعمل مبادرة

(دراجة لكل مواطن) لاستخدام الدراجة بدلا من

السيارة للممارسة الرياضة وتقليل التلوث.



كُنْ مُجِدَّ  
<https://enmujed.com>



## ضع علامة ( ✓ ) أو علامة ( X ) أمام الجمل الآتية :

- ① تم إنشاء متحف السكك الحديدية عام 1932 م . (.....)
- ② مصر ثاني دولة في إفريقيا تستخدم السكك الحديدية . (.....)
- ③ أول من حاول الطيران هو ( عباس بن فرناس ) . (.....)
- ④ قام البنك الأهلي بتأسيس شركة مصر للطيران . (.....)
- ⑤ طائرة الأخوين رايت هي أول طائرة في التاريخ . (.....)
- ⑥ استخدم المصري القديم السيارة في نقل البضائع . (.....)

## أكمل الجمل الآتية بالكلمة المناسبة:

- ① اخترع الأخوان ( رايت ) ..... عام 1903 م .
- ② يعتبر مركب الملك ..... من أشهر المراكب في مصر القديمة.
- ③ استخدم الملك سنفر السفن للسفر إلى فينيقيا لجلب .....
- ④ استخدم المصريون القدماء المراكب في نقل .....
- ⑤ أول من حاول الطيران باستخدام أجنحة هو .....
- ⑥ دخلت العجلات الحربية مصر مع غزو ..... لمصر .

## صوب ما تحته خط:

- ① خوفو هو أول من حاول الطيران بجناحين . (.....)
- ② دخلت أول سيارة مصر في عهد الملك خوفو . (.....)
- ③ أول سيارة في مصر كانت تعمل بطاقة الكهرباء . (.....)
- ④ دخلت الطائرات مصر بعد احتلال الهكسوس لمصر . (.....)
- ⑤ دخلت أول سيارة مصر في عهد الخديو إسماعيل . (.....)

## ختر الإجابة الصحيحة مما بين القوسين:

① من فوائد وسائل المواصلات أنها توفر .....

- الوقت - المال

- الجهد - جميع ما سبق

② نجح الأخوان ( رايت ) في اختراع أول .....

- طائرة - سفينة

- سيارة - دراجة

③ أول من حاول الطيران هو .....

- الملك خوفو - عباس بن فرناس

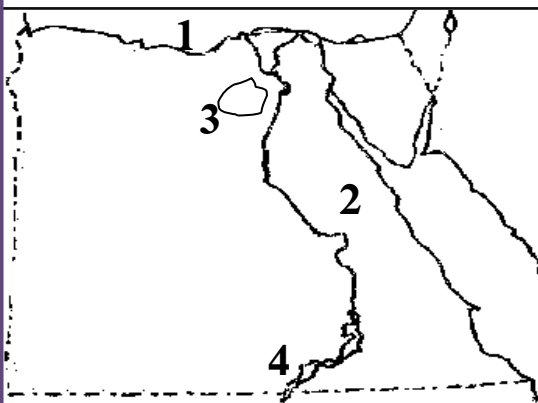
- عمرو بن العاص - الأخوان رايت

④ أشهر مركب في التاريخ هو مركب الملك .....

( خوفو - خفرع - منكاورع - زوسر )

⑤ أرسلت الملكة حتشبسوت رحلات بالسفن إلى بلاد .....

( بونت - فينيقيا - المغرب - النوبة )



اكتب ما يدل عليه كل رقم:

① البحر .....

② الصحراء .....

③ مدينة يوجد بها وادي الحيتان .....

④ بحيرة .....

بم تفسر :

① أهمية السكك الحديدية .

.....

.....

## (12) أنواع وسائل النقل في حياتي

تؤثر وسائل النقل في الأنشطة الاقتصادية ( العمل ) في الدولة.

**النقل المستدام:** يعني استخدام وسائل نقل صديقة للبيئة تستخدم مصادر نظيفة للطاقة مثل: الغاز الطبيعي والكهرباء والطاقة الشمسية.

### (1) النقل البري:

- يشمل السكك الحديدية التي تربط بين محافظات مصر ومنها قطارات لنقل البضائع وقطارات لنقل الأفراد، ويربط مترو الأنفاق بين ثلاثة مدن هي (القاهرة والجيزة وشبرا الخيمة بمحافظة القليوبية)، ومصر أول دولة عربية وإفريقية تستخدم مترو الأنفاق.



- و يشمل النقل البري وسائل النقل التي تسير على الطرق المرصوفة، مثل: السيارات والأتوبيسات لنقل الركاب والشاحنات لنقل البضائع، وتهتم الدولة بتطوير الطرق المرصوفة وإنشاء طرق ذات مواصفات عالمية وإنشاء الكباري والمحاور؛ لتخفيف الازدحام والضغط المروري وتقليل الحوادث وخفض زمن الرحلة.

### (2) النقل المائي:

يُعد أرخص وسائل النقل لكنه بطيء، ويستخدم في نقل البضائع كبيرة الحجم وثقيلة الوزن، ومنها السفن والمراكب والأتوبيسات النهرية، وينقسم إلى:

#### (أ) النقل النهري:

يستخدم في نقل المواد الخام اللازمة للصناعة ونقل الركاب والنزهات النيلية.

#### (ب) النقل البحري:

يتم عن طريق قناة السويس وتقوم الدولة بتطوير الموانئ لتقليل زمن انتظار السفن




خارج الميناء، وزيادة كمية البضائع؛ لتنشيط التجارة.

- من موانئ البحر المتوسط: الإسكندرية ودمياط.

- من موانئ البحر الأحمر: الغردقة وسفاجا .

### (3) النقل الجوي:

يُستخدم في نقل الركاب، ونقل البضائع سريعة التلف، ويتميز بالسرعة والانتشار وتخطي المرتفعات والبحار، ولكن تكلفته مرتفعة ويوجد بمصر العديد من المطارات مثل: ( مطار القاهرة – برج العرب بالإسكندرية – أسوان )



### جهود الدولة للتحويل نحو استخدام وسائل النقل مستدامة:

تبذل الدولة جهودا كبيرة للتوسع في استخدام وسائل النقل المستدامة لتقليل التلوث، وتوفير استخدام الوقود، من خلال تحويل السيارات لتعمل بالغاز الطبيعي، وزيادة الأتوبيسات الكهربائية، وتشجيع المواطنين على استخدام وسائل النقل الجماعي.



- تسعى الدولة إلى سرعة إنشاء القطار الكهربائي السريع لربط مدينة العين الساخنة بمدينة العلمين الجديدة مروراً بالعاصمة الإدارية والمونوريل المعلق لربط المدن المصرية بالإضافة إلى مترو الأنفاق.

أنشأت الدولة العديد من الطرق مثل: طريق مصر – السويس الصحراوي، والكثير من الكباري مثل كوبري الشهيد أحمد المنسي على قناة السويس، وكوبري مطار العاصمة الإدارية، وتطوير الموانئ مثل: مشروع تطوير ميناء سفاجا . إنشاء المحاور ( الطرق ) مثل محور روض الفرج بالقاهرة يقلل من الازدحام .

ضع علامة ( ✓ ) أو علامة ( X ) أمام الجمل الآتية :

- ① النقل المائي هو أسرع أنواع النقل في مصر . (.....)
- ② الإسكندرية من أهم الموانئ الموجودة على البحر الأحمر. (.....)
- ③ إنشاء الطرق ذات المواصفات العالمية يقلل من الحوادث. (.....)
- ④ تشجع الدولة على استخدام وسائل النقل الجماعي. (.....)
- ⑤ يتميز النقل الجوي بالسرعة ولكن تكلفته مرتفعه . (.....)

أكمل الجمل الآتية بالكلمة المناسبة:

- ① أرخص أنواع النقل هو النقل .....
- ② أسرع أنواع النقل هو النقل .....
- ③ إنشاء طرق ذات مواصفات عالمية يقلل من .....
- ④ وسائل النقل المستدام تعتمد على..... كمصدر للطاقة.
- ⑤ من أهم الموانئ الموجودة على البحر الأحمر .

بم تفسر

- ① يتم استخدام النقل المائي بكثرة رغم أنه بطئ .

- ② تقوم مصر بإنشاء طرق ذات مواصفات عالمية .

- ③ تقوم الدولة بتطوير الموانئ .

كتب ما تدل عليه العبارة:

- ① استخدام وسائل نقل صديقة للبيئة تستخدم مصادر نظيفة. (.....)
- ② وسيلة نقل تتميز بالسرعة وتخطي المرتفعات والبحار. (.....)



## ختر الإجابة الصحيحة مما بين القوسين:

- ① من أسرع وسائل النقل في العالم .....  
 - الطائرة - القطار  
 - السفينة - السيارة
- ② يربط متور الأنفاق بين شبرا الخيمة والجيزة و .....  
 - الغردقة - الإسكندرية  
 - القاهرة - الفيوم
- ③ يتم نقل البضائع ثقيلة الوزن وكبيرة الحجم عن طريق .....  
 - النقل الجوي - الطائرات  
 - النقل المائي - الدرجات
- ④ يعتمد النقل المستدام على استخدام مصادر طاقة نظيفة مثل: .....  
 - الفحم الحجري - البترول  
 - الغاز الطبيعي - البنزين
- ⑤ من وسائل النقل النهري .....  
 - القطارات - الطائرات  
 - مترو الأنفاق - المراكب

## ما النتائج المترتبة على:

- ① إنشاء طرق ذات مواصفات عالمية والكباري والمحاور.

- ① تطوير الموانئ المصرية .

## (13) قواعد وأخلاقيات استخدام وسائل النقل

- اليوم العالمي للمرور هو 4 مايو من كل عام.

- من قواعد المرور أن يلتزم السائق بالسرعة المحددة وأن يلتزم بالمسار (الطريق) المحدد للسير، وعدم استخدام الهاتف المحمول أن تناول الطعام أثناء القيادة.

### علامات المرور:

هي علامات إرشادية توضح معالم الطريق للسائق مثل: وجود إسعاف أو محطة وقود أو مطعم وتنقسم إلى :



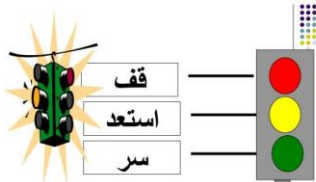
#### 1- علامات أرضية:

وهي خطوط مرسومة على الأرض توضح مسار تحرك السيارة على الطريق مثل الخط الأصفر الذي يفصل بين الاتجاهين المتضادين للسيارات.



#### 2- علامات إلزامية:

وهي تشير إلى الاتجاه الإلزامي (الإجباري) الذي يجب أن تسير فيه السيارة أو الطريق الإجباري لسير المشاة والدراجات.



#### 3- علامات ضوئية:

هي علامات ضوئية بالألوان ( الأحمر والأصفر والأخضر) لتنظيم حركة مرور السيارات والمشاة .

#### 4- علامات تحذيرية:

علامات تحذر من المخاطر مثل: منطقة عمل أو وجود منحدر.



#### 5- علامات المنع:

علامات تشير إلى السلوكيات التي يجب تجنبها (الابتعاد عنها) أثناء القيادة مثل: ممنوع الانتظار أو ممنوع استخدام آلة التنبيه.



قواعد مرور المشاة:

كُن مُجِدَّ  
<https://enmujed.com>

تعني الالتزام بإشارات المرور عند عبور الطريق بالعبور من الأماكن المخصصة لعبور المشاة، واستخدام كباري المشاة وأنفاق العبور، والسير على الرصيف.

جهود الدولة لتنظيم حركة المرور:


أصدرت الدولة قانون للمرور ووضع كاميرات على الطرق ، ووضع ملصقات إلكترونية، لتحديد مدى التزام السيارة بقواعد المرور.

آداب استخدام وسائل النقل:

- 1- عدم استخدام المقاعد المخصصة لكبار السن والمرضى أو النساء الحوامل.
  - 2- عدم جلوس الأطفال في المقاعد الأمامية للسيارة، أو إخراج أيديهم من السيارة.
  - 3- عدم الكتابة على وسائل النقل.
  - 4- عدم إلقاء الحجارة على القطارات.
  - 5- إفساح (توسيع) الطريق لسيارة الإسعاف.
- الالتزام بقواعد المرور يحافظ على الأرواح ويقتل الحوادث.
- بعض علامات المرور ومدلولها




(ممنوع الوقوف)



- مستشفى




- مدرسة



- محطة وقود



- السرعة لا تزيد عن 70 كم



- مخصص لذوي الاحتياجات الخاصة - مطعم



ضع علامة ( ✓ ) أو علامة ( X ) أمام الجمل الآتية :

- ① يجب علينا إفساح الطريق لسيارة الإسعاف عند مرورها . (.....)
- ② يمكن للسائق أن يتناول الطعام أثناء القيادة . (.....)
- ③ اللون الأحمر يدل على ضرورة الوقوف وعدم عبور الطريق . (.....)
- ④ يمكن للسائق أن يستخدم الهاتف المحمول أثناء القيادة . (.....)
- ⑤ الالتزام بقواعد المرور يحافظ على الأرواح ويقلل الحوادث . (.....)

أكمل الجمل الآتية بالكلمة المناسبة:

- ① عندما تسير في الشارع وترى الضوء الأحمر يجب أن ..... .
- ② يجب علينا عدم التحدث في ..... أثناء القيادة.
- ③ يجب عدم جلوس الأطفال في المقاعد ..... .
- ④ يجب إفساح الطريق لسيارة ..... أثناء مرورها.
- ⑤ يجب علينا عدم الجلوس على المقاعد المخصصة لـ ..... .

بم تفسر

- ① يجب على الجميع أن يلتزم بقواعد المرور .

- ② يجب استخدام الكباري وأنفاق عبور المشاة عند عبور الطريق .

- ③ إلزام السائق بوضع ملصقات إلكترونية على السيارة .

ما النتائج المترتبة على:

- ① عدم الالتزام بقواعد المرور .

ختر الإجابة الصحيحة مما بين القوسين:

① الصورة المقابلة تدل على .....

- مستشفى - محطة وقود

- مدرسة - مطعم



② الصورة المقابلة تدل على .....

- مدرسة - مكان عبور المشاة

- مطعم - محطة وقود





③ الصورة المقابلة تدل على .....

- مدرسة - مكان عبور المشاة

- مطعم - محطة وقود

④ عند مشاهدة سيارة الإسعاف يجب ..... الطريق لها.

( إفساح - إغلاق - تعطيل - غلق )

اكتب ما تدل عليه كل صورة



## (14) تطور وسائل الاتصال وتأثيرها في المجتمع

حرص الإنسان منذ قديم الزمان على التواصل مع الآخرين، فقد استخدم المصريون القدماء في عصور ما قبل التاريخ (قبل ظهور الكتابة) الدخان والأصوات العالية وقرع (ضرب) الطبول لإرسال الإشارات إلى الآخرين أو تحذيرهم من خطر ما أو الإعلان عن مكانه.



ثم تطورت وسائل الاتصال مع ظهور الكتابة عن طريق كتابة الرسائل على ورق البردي، ثم استخدم الحمام الزاجل في إرسال الرسائل لسرعتها، ثم عرف الإنسان البريد وأصدرت مصر أول طابع بريد عام 1866 م .



لعبت الاختراعات المهمة في مجال الاتصالات في القرنين الـ 19 و الـ 20 دورا مهما في تطور العالم مثل: اختراع التلغراف والهاتف وظهر أول خط هاتفي في مصر عام 1881 م بين القاهرة والإسكندرية.

وتغير شكل الهاتف حتى وصل إلى الشكل الحالي، وجعل الإنترنت العالم قرية صغيرة، وأصبح التواصل أسرع وأسهل بين البشر في دول العالم.



التلغراف

### فوائد (مميزات) شبكة الإنترنت:

- 1- سرعة الحصول على المعلومات.
- 2- التواصل مع الزملاء والمعلمين.
- 3- البحث عن فرص عمل مناسبة.
- 4- العمل عن بُعد مثل التسوق الإلكتروني.
- 5- وفرت أنواع الترفيه والتسلية والألعاب الإلكترونية.

- تبذل الدولة جهودا كبيرة من أجل التحول الرقمي، وذلك بتوفير الخدمات الإلكترونية، مثل: استخراج الأوراق الرسمية (شهادة الميلاد - الرقم القومي - جواز السفر) ومكافحة الجرائم الإلكترونية عن طريق وزارة الداخلية.

### سلبيات (أضرار) الإنترنت:

- 1- إهدار كثير من الوقت أمام شبكات التواصل الاجتماعي.
- 2- إهمال ممارسة الهوايات المفيدة .
- 3- التباعد بين أفراد الأسرة .
- 4- وجود معلومات غير صحيحة على شبكة الإنترنت.
- 5- نشر معلوماتنا وصورنا الشخصية .



### تأثير التطور العلمي على المجتمع:

أصبح العصر الحالي أكثر تطورا بفضل العلم وتقدم وسائل المواصلات، ففي مجال التعليم عن بُعد ظهرت المنصات التعليمية مثل: منصة بنك المعرفة، ومنصة وزارة الصحة لتسجيل الأسماء لتلقي اللقاح للوقاية من فيروس (كورونا). وساهد التقدم العلمي في تسهيل حياة الأشخاص ذوي الهمم بابتكار تطبيقات كثيرة على الهاتف المحمول أو الكمبيوتر لمساعدة الصم والمكفوفين.

- يجب الحصول على المعلومات من شبكة الإنترنت من المصادر الموثوقة فقط، وتجنب مشاركة أي معلومة قبل التأكد منها، ومن أمثلة المصادر الموثوق فيها:
- الكتب والمجلات المتخصصة التي تصدرها الجامعات.
  - المكتبات الرقمية الجامعية.



بنك المعرفة المصري  
Egyptian Knowledge Bank

كُنْ مُجِدًّا  
<https://enmujed.com>


## شخصيات مصرية مؤثرة

### الملك خوفو:



- هو أحد ملوك الأسرة الرابعة، تولى عرش (حكم) مصر بعد الملك سنفرؤ.
- هو صاحب الهرم الكبير الموجود في محافظة الجيزة، استغرق بناؤه 20 عاما.
- الهرم الأكبر شاهد على عظمة المصريين .
- عُثِر (وجد) في منطقة الهرامات 5 مراكب للملك خوفو.
- نشطت التجارة في عهد الملك خوفو .
- أرسل بعثات تجارية إلى سيناء للحصول على الفيروز والنحاس.

### الملكة حتشبسوت:



- من أشهر ملكات مصر في عصر الدولة الحديثة.
- لُقِبَت بالزوجة الملكية العظيمة وسيدة كل الأراضي
- حكمت مصر أكثر من 20 عاما .
- تميز عهدها بالاستقرار والازدهار (التقدم) الاقتصادي
- أعادت فتح المناجم المغلقة في سيناء .
- أرسلت بعثات تجارية إلى بلاد بونت (الصومال) تحمل الهدايا وورق البردي لملكها، وعادت محملة بالحيوانات المفترسة والأخشاب والبخور والعلاج والجلود والأحجار الكريمة.
- أنشأت معبد الدير البحري في الأقصر.

## ضع علامة ( ✓ ) أو علامة ( X ) أمام الجمل الآتية :

- ① استخدم القدماء الهاتف للتواصل في عصور ما قبل التاريخ. (.....)
- ② شبكة الإنترنت لها أهمية كبيرة في الحصول على المعلومات . (.....)
- ③ اعتمد الإنسان قديما على الحمام الزاجل في إرسال الرسائل . (.....)
- ④ تم اختراع التلغراف قبل الهاتف . (.....)
- ⑤ كان أول خط هاتفي في مصر يصل بين القاهرة والسويس . (.....)
- ⑥ يجب التأكد من المعلومات قبل نشرها ومشاركتها. (.....)

## أكمل الجمل الآتية بالكلمة المناسبة:

- ① الجلوس أمام شبكات التواصل الاجتماعي يُهدر (يُضيع) .....
- ② استخدم المصري القديم ورق ..... للكتابة عليه .
- ③ يمكن التسجيل على منصة وزارة ..... لتلقي تطعيم فيروس كورونا.
- ④ يمكن أن أذاكر دروسي عبر منصة .....
- ⑤ من سلبيات الإنترنت أنه سبب ..... بين أفراد الأسرة .

## صوب ما تحته خط:

- ① اخترع الإنسان الإنترنت قبل اختراع الهاتف . (.....)
- ② من أضرار الإنترنت حدوث التقارب بين أفراد الأسرة. (.....)
- ③ خوفو هو أحد ملوك الأسرة الثالثة . (.....)

ختر الإجابة الصحيحة مما بين القوسين:

① في العصور القديمة استخدم الإنسان ..... لإرسال الرسائل.

- الحمام الزاجل - الإنترنت

- البريد السريع - الهاتف

② كان أول خط هاتفي في مصر يصل بين القاهرة و .....

- الإسكندرية - الجيزة

- السويس - بورسعيد

③ يمكن أن يذاكر التلميذ دروسه عبر منصة .....

- وزارة الصحة - وزارة الداخلية

- بنك المعرفة - وزارة الزراعة

④ من مميزات شبكة الإنترنت كل ما يأتي ما عدا .....

- سرعة الحصول على المعلومات.

- التواصل مع الزملاء والمعلمين.

- البحث عن فرص عمل مناسبة.

- التباعد بين أفراد الأسرة .

ما النتائج المترتبة على:

① اختراع شبكة الإنترنت .

بم تفسر؟

① شبكة الإنترنت لها فوائد كثيرة للإنسان .